

제 4 교시

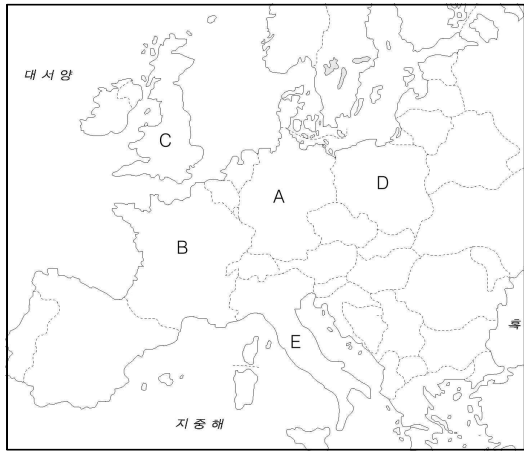
사회탐구 영역(세계 지리)

성명  수험 번호

1. 다음은 어떤 두 국가에 대한 정보이다. (가), (나)에 해당하는 국가를 지도에서 고른 것은? [4점]

(가) 이 국가는 현재 유럽 연합의 한 축을 형성한 국가이며, 인구 8천만 이상의 경제 대국이다. 매우 견고하고 높은 품질의 공업 제품을 자랑하나, 최근 해당 국가의 자동차 회사의 제품 수치 조작 논란으로 대규모 리콜 사태가 벌어지기도 했다. 또한 시리아 출신 난민 수용에 대한 논란의 중심에 선 국가이기도 하다.

(나) 과거에는 ‘해가 지지 않는 나라’ 라는 별명이 붙을 정도로 식민지 정복 활동에 가장 활발했던 나라이다. 템즈강을 끼고 있는 이 국가의 수도는 세계 금융의 중심지 역할을 하고 있으며, 유럽 연합의 화폐인 유로가 아닌 자국의 독자적인 화폐인 파운드를 사용한다.



- (가) (나) (가) (나) (가) (나)
- ① A B ② A C ③ D E
- ④ D B ⑤ D C

2. 다음은 어떤 자원에 대한 설명이다. 이 자원에 대한 설명으로 옳지 않은 것은? [6점]

지하에서 천연적으로 생산되는 액체 탄화수소 또는 이를 정제한 것이다. 제1차 세계대전을 계기로 그 경제적·군사적인 중요성이 높아지고 국제정세를 좌우하는 요인이 되었다. 이 자원은 편재성이 심하여 자주 무기화되며, 이 자원을 생산하는 국가들이 모여 OPEC이라는 국제기구도 형성되어 있다. 현재 이 자원의 거래 가격이 매우 낮아짐으로 인해 한국의 산업에 어떤 영향을 끼칠지 주목되고 있다.

- ① 사우디아라비아, 미국, 이란 등에서 많이 생산된다.
- ② 산업용과 수송용으로 가장 널리 이용되고 있다.
- ③ 천연가스보다 상대적으로 오염물질 배출이 많다.
- ④ 석탄에 비해 국가 간 거래량이 적다.
- ⑤ 세계 제 1의 에너지 자원이다.

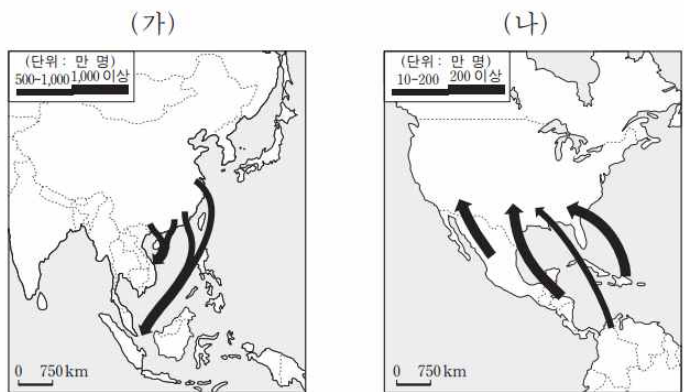
3. 다음은 어떤 종교에 대한 설명이다. (가), (나) 종교에 대한 설명으로 옳지 않은 것은? [4점]

(가) 7세기 초 아라비아의 예언자 무함마드가 완성시킨 종교. (나) 종교, 불교와 함께 세계 3대 종교의 하나이다. 전지전능한 알라의 가르침이 대천사 가브리엘을 통하여 무함마드에게 계시되었으며, 유대계의 여러 종교를 완성시킨 유일신 종교임을 자처한다.

(나) 예수 그리스도의 인격과 교훈을 중심으로 하는 종교. 천지 만물을 창조한 유일신을 하나님으로 하고, 그 독생자 예수 그리스도를 구세주로 믿는다. 팔레스타인에서 일어나 로마 제국의 국교가 되었고, 8세기에 동방 고대 헬레니즘의 전통 위에 그리스 정교회가 갈려 나간 후, 로마 가톨릭교회는 다시 16세기 종교 개혁에 의하여 구교, 곧 가톨릭교와 신교로 분리되어 현재 세 교회로 나뉘어 있다.

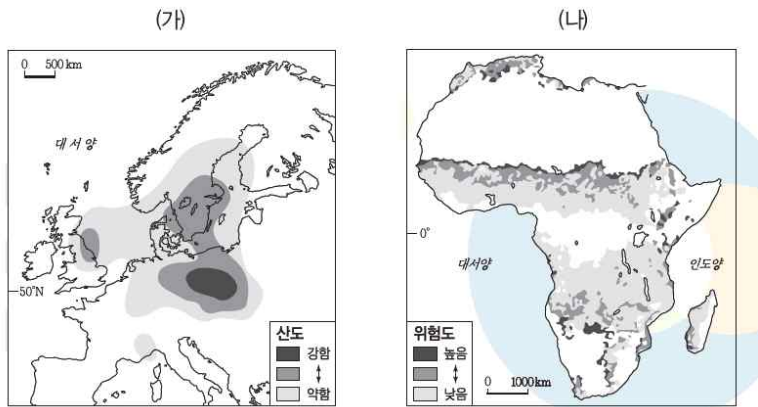
- ① (가) 종교는 서남 아시아에서, (나) 종교는 아메리카에서 높은 신도 비중을 보인다.
- ② (가) 종교는 돼지고기와 술을 금기시한다.
- ③ (나) 종교는 세계 신자 수가 가장 많다.
- ④ 현재 중동 지역의 난민 문제는 (가) 종교와 관련이 있다.
- ⑤ (나) 종교의 여성 신도들은 외출 시 종교적인 이유로 인해 특정한 복장을 착용한다.

4. (가), (나) 인구 이동에 대한 설명으로 가장 적절한 것은? [6점]



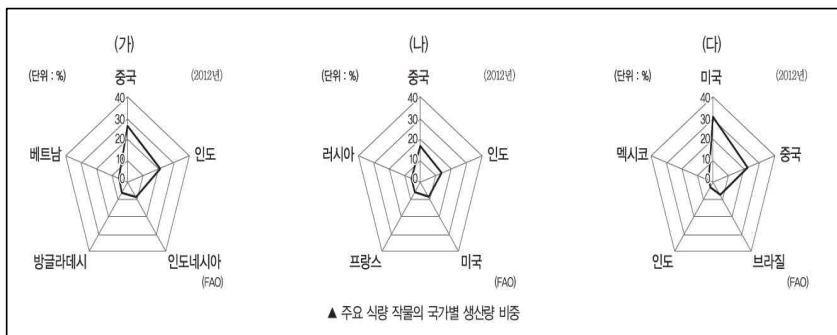
- ① (가)는 자연 재해로 인한 환경 난민의 이동이다.
- ② (가)에 의한 이주자들은 이동 국가에서 주로 노동자 및 하위 계급을 형성한다.
- ③ (가), (나) 이동에 의한 이주자들은 모두 정착지의 전통 문화에 동화되었다.
- ④ (나)는 유럽계 백인에 의한 강제적 이동이다.
- ⑤ (나)의 결과 인구 유입 지역에서는 저임금의 노동력이 확보되었다.

5. (가), (나) 환경 문제에 대한 설명으로 옳지 않은 것은? [4점]



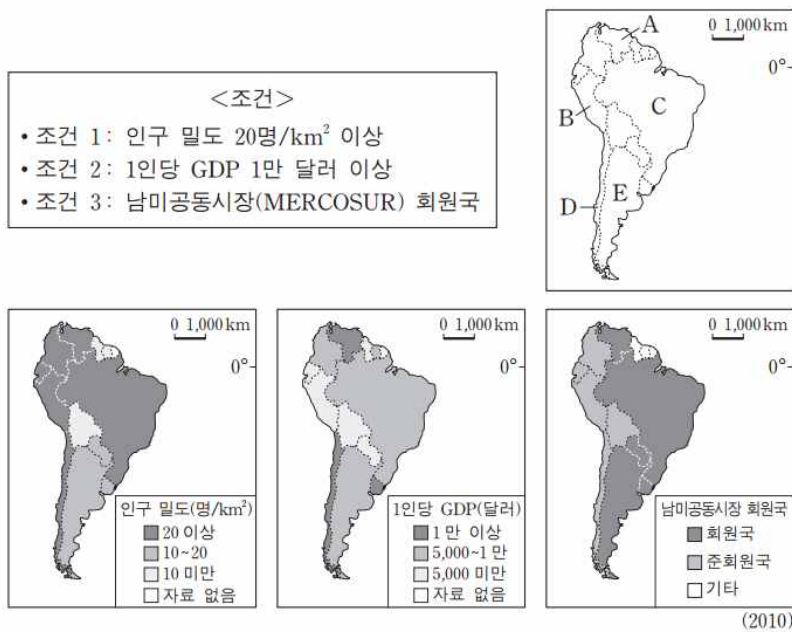
- ① (가)는 호수를 산성화시키고 건축물의 부식을 유발한다.
- ② (가)는 주로 (나)보다 소득 수준이 높은 국가에서 발생한다.
- ③ (가)로 인하여 해수면이 상승하기도 한다.
- ④ (나)는 긴 가뭄과 무분별한 개간으로 인하여 발생한다.
- ⑤ (가)의 방지를 위해 헬싱키 의정서를 체결하였다.

6. 자료는 세계 3대 식량 작물 (쌀, 밀, 옥수수)의 국가별 생산량 비중을 나타낸 그래프이다. (가)~(다) 작물에 대한 설명으로 옳지 않은 것은? [6점]



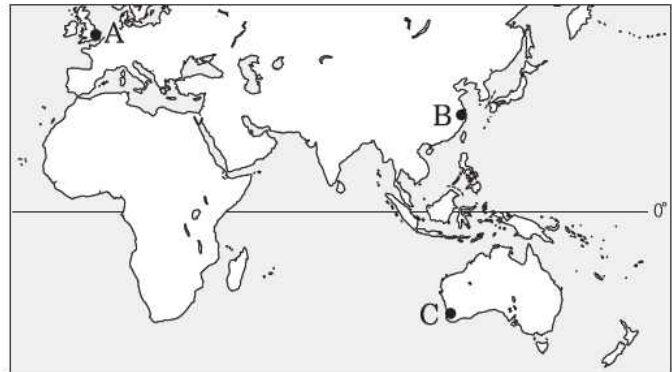
- ① (가)는 대륙 동안의 계절풍 지역에서 주로 생산된다.
- ② (가)는 (나)보다 건조하고 추운 기후에서도 생산될 수 있다.
- ③ (다)는 사료 및 바이오 에탄올의 원료로 이용되기도 한다.
- ④ (나)는 생산지와 소비지가 불일치하여 세 작물 중 국가 간 거래량이 가장 많다.
- ⑤ 한국의 경우 (나)는 생산량보다 수입량이 많다.

7. 다음 <조건>을 만족하는 국가에 다국적 기업의 해외 지점을 설립 하고자 한다. 최종 후보 국가를 지도의 A~E에서 고른 것은? [4점]



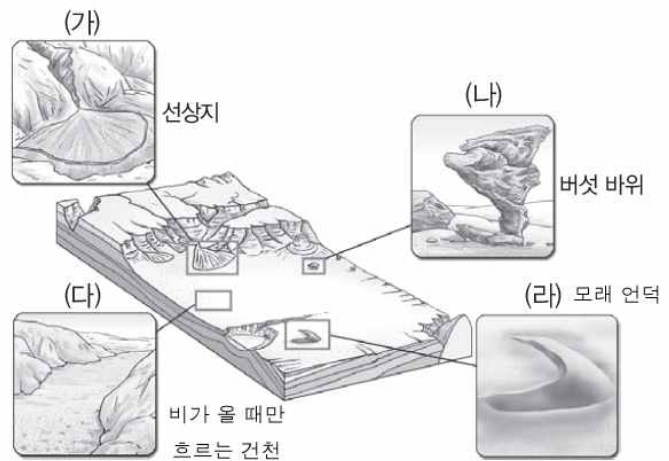
- ① A      ② B      ③ C      ④ D      ⑤ E

8. 지도에 표시된 A~C 지역의 기후에 대한 설명으로 옳은 것은? [6점]



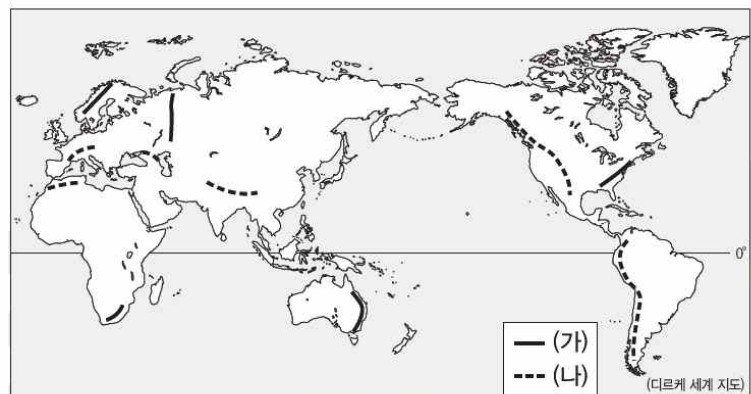
- ① A는 B보다 7월에 낮의 길이가 길 것이다.
- ② A는 B보다 기온의 연교차가 클 것이다.
- ③ 세 지역 중 C가 여름 강수 집중률이 가장 높을 것이다.
- ④ 7월 평균 기온은 A가 가장 낮을 것이다.
- ⑤ B는 지중해성 기후가 뚜렷한 대표적인 지역이다.

9. (가)~(라) 지형을 관찰할 수 있는 지역에서 나타나는 기후에 대한 설명으로 적절하지 않은 것은? [4점]



- ① 연 강수량이 적어 식생 발달에 불리하다.
- ② 북아프리카 지역 국토의 상당 부분을 차지한다.
- ③ 적도선을 따라 위도 0도 근처에 넓게 분포한다.
- ④ 일교차가 매우 커 밤에는 기온이 영하로 내려가기도 한다.
- ⑤ 지하수를 이용한 관개농업을 하기도 한다.

10. 지도에 표시된 (가), (나) 산맥에 대한 설명으로 옳지 않은 것은? [6점]



- ① (나)는 (가)보다 평균 해발 고도가 높을 것이다.
- ② (나)에는 주로 석유와 천연가스가 매장되어 있을 것이다.
- ③ (가)는 (나)보다 형성 시기가 이를 것이다.
- ④ (가)는 (나)보다 지진 및 화산 폭발의 빈도가 높을 것이다.
- ⑤ (가)에는 주로 석탄과 철광석이 매장되어 있을 것이다.