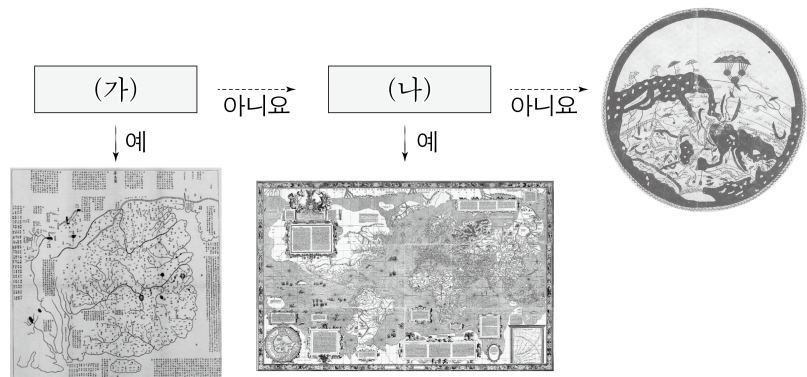


제 4 교시

사회탐구 영역(세계지리)

성명 수험 번호 - 제 () 선택

1. 다음 자료는 (가), (나)에 따라 세 지도를 구분한 것이다. (가), (나)에 들어갈 질문으로 옳은 것만을 <보기>에서 고른 것은?



<보 기>
 ㄱ. 중화사상이 반영되어 있습니까?
 ㄴ. 우리나라에서 제작되었습니까?
 ㄷ. 아메리카 대륙이 표현되어 있습니까?
 ㄹ. 이슬람교 세계관이 반영되어 있습니까?

- | | | | | | |
|---|-----|-----|---|-----|-----|
| | (가) | (나) | | (가) | (나) |
| ① | ㄱ | ㄴ | ② | ㄱ | ㄷ |
| ③ | ㄴ | ㄷ | ④ | ㄴ | ㄹ |
| ⑤ | ㄷ | ㄹ | | | |

2. 다음 글의 (가)~(라) 지형에 대한 설명으로 옳은 것만을 <보기>에서 고른 것은? (단, (가)~(라)는 각각 돌리네, 석회화 단구, 카렌, 탑 카르스트 중 하나임.) [3점]

일반적으로 카르스트 지형은 초기에 폐쇄된 와지나 분지의 형태를 띠는 (가) , 우발라, 폴리에 등이 지표에 발달한다. 이후 카르스트 잔류 지형인 탑과 같이 높고 급경사를 이루는 (나) 이 나타난다. 봉우리의 높이가 수~수 십m 정도로 작으면서 뾰족하고 날카로운 형태로 나타는 경우에는 (나) 보다는 (다) 으로 불린다. (나) 이 발달한 대표적인 지역으로 베트남 북부의 하롱베이, (다) 이 발달한 대표적인 지역으로 마다가스카르의 그랑 칭기가 있다. 카르스트 지형 중 (나) , (다) , (라) 은/는 관광 자원으로도 활용되는데 (라) 은/는 탄산 칼슘 집적물로서 탄산 칼슘이 함유된 물이 경사지를 따라 흐르면서 형성되는 계단 모양의 지형이다.

<보 기>
 ㄱ. (가)에서는 붉은색의 라테라이트가 나타난다.
 ㄴ. (나)의 봉우리는 주로 암석의 차별적 용식으로 형성된다.
 ㄷ. (다)는 한랭 건조한 기후 지역에서 잘 발달한다.
 ㄹ. (라)를 관광 자원으로 활용하는 대표적인 곳은 튀르키예의 파묵칼레이다.

- ① ㄱ, ㄴ ② ㄱ, ㄷ ③ ㄴ, ㄷ ④ ㄴ, ㄹ ⑤ ㄷ, ㄹ

3. 다음 자료의 (가), (나)에 들어갈 내용으로 가장 적절한 것은?

<세계화 시대의 지역화 전략>

○ (가)의 사례
 독일의 도시 베를린을 상징하고 나타내는 표식인 'Be berlin'은 분단이라는 과거의 어두운 역사 이미지를 지우기 위해 2008년부터 캠페인 형식으로 사용되고 있다. 이는 "베를린이기에, 베를린 사람이기에 자랑스러워 하라."라는 의미를 갖고 있다. 이를 통해 베를린의 이미지가 향상되고 관광객들의 큰 관심을 이끌었다.

○ (나)의 사례
 다르질링은 우바, 기문과 함께 세계 3대 홍차로 일컬어진다. 열은 수색을 보이고 가벼운 머스캣 향을 풍기며 고급스러운 홍차로 여겨져 '홍차의 샴페인'으로 불린다. 다르질링은 인도 북동부의 다르질링 지방에서 생산 및 가공되는 상품만이 고유의 상품으로 인증받고 있다.

- | | | |
|---|-------------|-------------|
| | (가) | (나) |
| ① | 지리적 표시제 | 다국적 기업의 현지화 |
| ② | 지리적 표시제 | 지역 브랜드화 |
| ③ | 지역 브랜드화 | 지리적 표시제 |
| ④ | 지역 브랜드화 | 다국적 기업의 현지화 |
| ⑤ | 다국적 기업의 현지화 | 지리적 표시제 |

4. 다음 자료는 인도네시아에 위치한 (가)~(다) 종교 사원의 경관을 나타낸 것이다. 이에 대한 설명으로 옳은 것은? (단, (가)~(다)는 각각 불교, 이슬람교, 힌두교 중 하나임.) [3점]

○ 명 칭 : 프람바난 사원
 ○ 특 징 : 유네스코 세계유산으로 지정된 이 사원은 인도네시아 최대 규모의 (가) 사원이다. 이 사원에는 다양한 신들을 모시는 사원과 조각상들이 있다.

○ 명 칭 : 보로부르 사원
 ○ 특 징 : 인도네시아 자바 섬에 위치한 (나) 사원이다. 사원 곳곳에는 부처의 생애에 관한 일화가 그려져 있으며, 원형 받침돌에는 72기의 불상이 안치된 탑이 있다.

○ 명 칭 : 이스티크랄 사원
 ○ 특 징 : 인도네시아에서 대부분의 국민이 믿는 (다) 사원으로 동남아시아에서 규모가 가장 크며, 돔형 지붕과 사원 곳곳에는 아라베스크 무늬의 장식을 볼 수 있다.

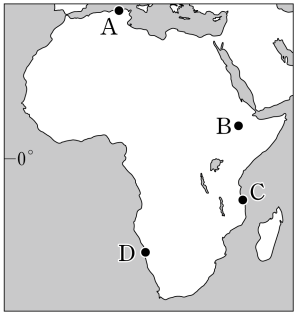
- ① (가)는 메카로의 성지 순례를 종교적 의무로 여긴다.
 ② (나)의 기원지는 인도네시아에 위치한다.
 ③ (다)는 수많은 신을 믿는 다신교이다.
 ④ (가)는 민족 종교, (나)는 보편 종교에 해당한다.
 ⑤ (나)는 (다)보다 전 세계 신자 수가 많다.

2 (세계지리)

사회탐구 영역

5. 표의 (가)~(다)에 해당하는 지역을 지도의 A~D에서 고른 것은?

지역	연 강수량 (mm)	1월 강수량 (mm)	최한월 평균 기온 (°C)
(가)	1,874	18	14.4
(나)	970	190	24.3
(다)	33	6	14.8



- | | (가) | (나) | (다) |
|---|-----|-----|-----|
| ① | A | B | C |
| ② | A | C | D |
| ③ | B | A | D |
| ④ | B | C | D |
| ⑤ | D | A | C |

6. 다음 글은 대기 대순환에 관한 것이다. 이에 대한 설명으로 옳은 것만을 <보기>에서 고른 것은? [3점]

㉠ 열대 수렴대를 따라 가열된 공기가 상승 기류를 형성하고 권계면에 이르면 더 이상 상승할 수 없어 고위도로 이동하다가 남·북위 30° 정도에 이르면 더 이상 이동이 어려울 정도로 공기가 쌓여 침강하며 하강 기류가 발달해 ㉡ 아열대 고압대가 형성되며, 연중 하강 기류가 발달해 구름이 발달하기 어렵기에 연중 맑은 날씨가 이어지고 ㉢ 사하라사막과 아리비아사막 등 세계적인 사막 등이 이곳에 분포한다. 극지방에서 발달하는 하강 기류로 인해 극 고압대와 남·북위 60° 사이에는 극동풍이 불며, 이는 편서풍과 만나 ㉣ 한대 전선을 형성하는데, ㉤ 고위도 저압대를 따라 분포한다.

<보기>

- ㉦. ㉠은 북동 무역풍과 남동 무역풍이 수렴하는 지점이다.
 ㉧. ㉡에서 ㉤으로 부는 바람은 편서풍이다.
 ㉨. ㉢과 칠레의 아타카마 사막은 형성 원인이 동일하다.
 ㉩. ㉣의 형성 지역에서는 연중 대류성 강수가 많다.

- ① ㉦, ㉧ ② ㉦, ㉨ ③ ㉧, ㉨ ④ ㉧, ㉩ ⑤ ㉨, ㉩

7. 다음 자료는 지도에 표시된 세 국가의 자원 특성에 대한 설명이다. (가)~(다) 국가에 대한 설명으로 옳은 것만을 <보기>에서 있는 대로 고른 것은?

- (가) 은/는 사하라 이남 아프리카에서 2023년 기준 석유 수출량이 가장 많다.
- (나) 은/는 사하라 이남 아프리카에서 2023년 기준 구리 생산량이 가장 많다.
- (다) 은/는 사하라 이남 아프리카에서 2023년 기준 다이아몬드 생산량이 가장 많다.

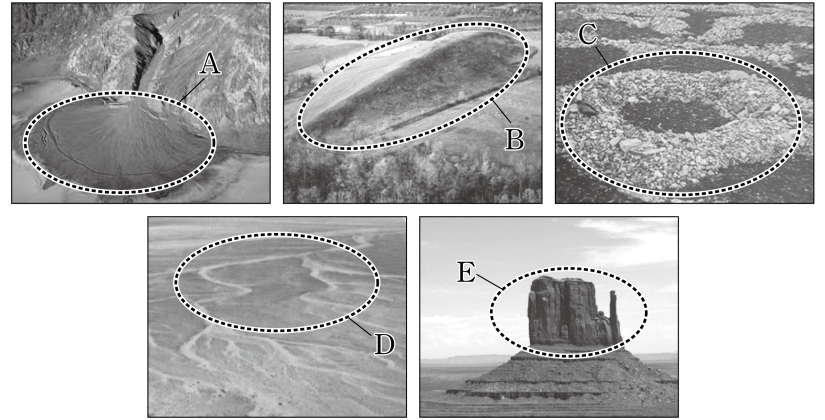


<보기>

- ㉦. (가)의 수도는 기니만 연안에 위치해 있다.
 ㉧. (나)는 나이지강이 국토를 관통한다.
 ㉨. (다)는 (나)보다 1인당 국내 총생산이 많다.

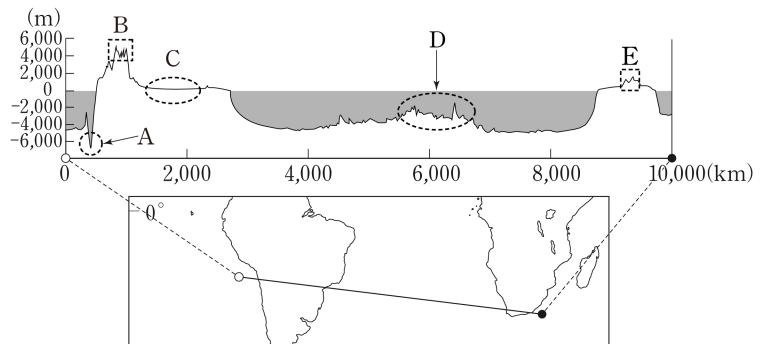
- ① ㉧ ② ㉨ ③ ㉦, ㉧ ④ ㉦, ㉨ ⑤ ㉦, ㉧, ㉨

8. A~E 지형에 대한 설명으로 옳은 것은? (단, A~E는 각각 구조토, 드럼린, 메사, 선상지, 와디 중 하나임.)



- ① A가 연속적으로 이어져 만들어진 지형을 바르한이라고 한다.
 ② B는 빙하 밑을 흐르는 용빙수의 퇴적 작용으로 형성된다.
 ③ C는 물리적 풍화보다 화학적 풍화가 활발하다.
 ④ D는 빙하의 이동에 의해 퇴적된 지형이다.
 ⑤ E는 경암층과 연암층이 차별 침식을 받아 형성된다.

9. 다음 자료는 지도에 표시된 구간의 단면도이다. A~E 대지형에 대한 설명으로 옳지 않은 것은? [3점]



- ① A는 해양 지각이 대륙 지각 아래로 들어가면서 형성된 골짜기이다.
 ② B는 '불의 고리'에 속한다.
 ③ D에서는 마그마가 상승하여 새로운 지각이 만들어진다.
 ④ C는 E보다 석탄 생산량이 많다.
 ⑤ E는 B보다 형성 시기가 이른다.

10. 다음 글의 (가)~(다) 국가에 대한 설명으로 옳은 것은?

- (가) 은/는 과거 높은 페루라는 뜻인 '알토 페루'로 불렸던 국가다. 세계에서 가장 높은 곳에 위치한 수도인 라파스는 에스파냐어로 '평화'라는 뜻을 가지고 있으며 케이블카 '미 텔레페리코'는 이 도시의 주요 교통 수단이다.
- (나) 의 국가명은 라틴어로 '은'을 의미하는 아르헨티온에서 유래하였다. 유럽계 주민들이 밀집해 있는 보카 항구는 탱고의 발상지로 유명하며, 남미의 스위스로 불리는 바릴로체의 만년설과 푸른 호수는 대표적인 관광지다.
- (다) 의 국가명은 '멕시코 신의 땅'에서 유래하였다. 수도는 과거 아스테카 문명의 중심 도시로 테오티우아칸 등의 고대 유적이 유명하며 소칼로 광장을 중심으로 격자형 도로망이 나타난다.

- ① (가)는 국토가 바다와 접한 연안국이다.
 ② (나)는 주로 포르투갈어를 사용한다.
 ③ (다)의 수도는 대서양 연안에 위치해 있다.
 ④ (가)와 (나)는 국경을 접하고 있다.
 ⑤ (나)는 (다)보다 상품 수출에서 공업 제품이 차지하는 비율이 높다.

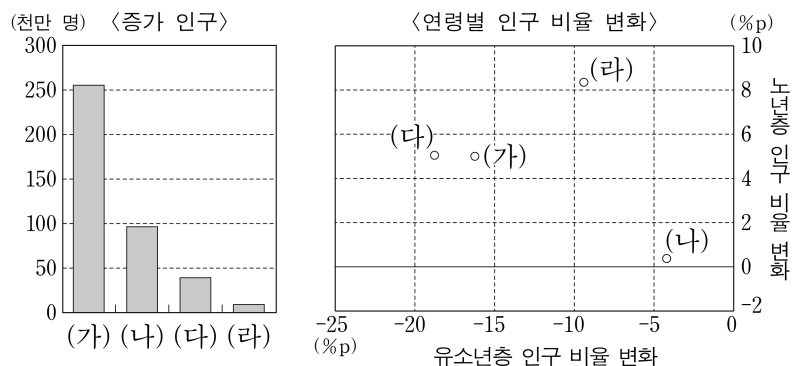
11. 다음은 세계지리 수업 장면의 일부이다. 교사의 질문에 대한 학생의 대답으로 옳은 것은? [3점]

교사 : 표는 2006년 이후 개최된 동계 및 하계 올림픽 현황을 나타낸 것입니다. 표에 나타난 올림픽 개최 도시들에 대해 발표해 볼까요?

구분	회차	개최 연도	개최 도시	개최국	구분	회차	개최 연도	개최 도시	개최국
동계	20	2006	토리노		하계	31	2016	리우데자네이루	
하계	29	2008	베이징		동계	23	2018	평창	
동계	21	2010	밴쿠버		하계	32	2021	도쿄	
하계	30	2012	런던		동계	24	2022	베이징	
동계	22	2014	소치		하계	33	2024	파리	

- ① 갑: 동계 올림픽 개최 도시는 북반구보다 남반구가 많아요.
- ② 을: 동계 올림픽 개최 도시에는 최상위 계층 세계 도시가 있어요.
- ③ 병: 하계 올림픽 개최 도시는 아메리카가 유럽보다 많아요.
- ④ 정: 하계 올림픽 개최 도시는 모두 해당 국가의 수도예요.
- ⑤ 무: 동계 올림픽과 하계 올림픽을 모두 개최한 도시는 바다와 접해 있지 않아요.

13. 그래프의 (가)~(라) 지역(대륙)에 대한 설명으로 옳은 것은? (단, (가)~(라)는 각각 라틴 아메리카, 아시아, 아프리카, 유럽 중 하나임.)



*증가 인구=2020년 인구 - 1970년 인구
**유소년층(노년층) 인구 비율 변화(%p)=2020년 인구 비율 - 1970년 인구 비율

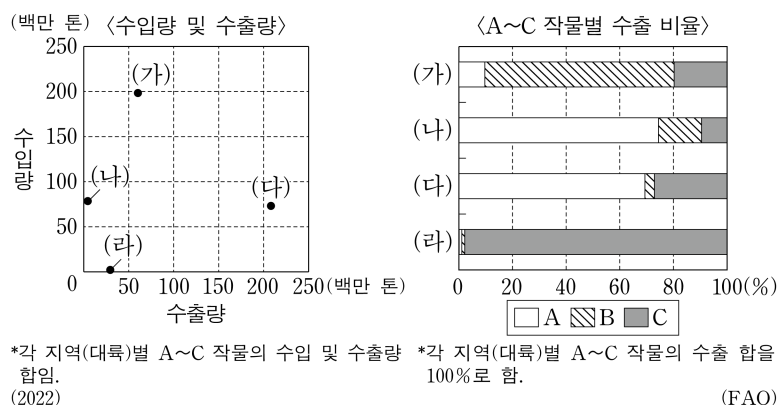
- ① 아프리카는 아시아보다 1970~2020년 증가 인구가 많다.
- ② (나)는 (라)보다 합계 출산율이 낮다.
- ③ (다)는 (가)보다 국가의 수가 많다.
- ④ 2020년 기준 (라)는 (다)보다 인구가 많다.
- ⑤ (나)로부터의 유입 인구는 (다)가 (라)보다 많다.

14. 다음 자료는 건조 아시아의 자연환경을 탐구한 보고서의 일부이다. (가), (나) 국가를 지도의 A~C에서 고른 것은?

탐구 주제		하천의 흐름
지형	사례 국가	튀르키예에서 발원한 티그리스강과 유프라테스강의 합류 지점이 있는 (가) 국가
	탐구 주제	건조 기후가 주민 생활에 미친 영향
기후	사례 국가	아열대 고압대의 영향으로 형성된 네푸드 사막과 룬알랄리 사막이 위치한 (나) 국가

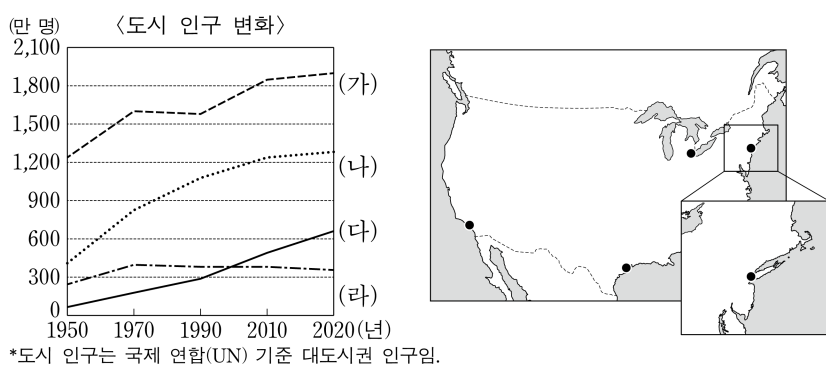
- | | | | |
|-----|-----|-----|-----|
| (가) | (나) | (가) | (나) |
| ① A | B | ② A | C |
| ③ B | A | ④ B | C |
| ⑤ C | A | | |

12. 그래프에 대한 설명으로 옳은 것은? (단, (가)~(라)는 각각 아시아, 아메리카, 아프리카, 오세아니아 중 하나이며, A~C는 각각 밀, 쌀, 옥수수 중 하나임.) [3점]



- ① A의 최대 생산 대륙은 (다)이다.
- ② B의 기원지는 (나)이다.
- ③ A와 C의 최대 생산국은 동일하다.
- ④ C는 B보다 단위 면적당 생산량이 많다.
- ⑤ (나)는 (라)보다 1인당 육류 소비량이 많다.

15. 그래프는 지도에 표시된 (가)~(라) 도시의 인구 변화를 나타낸 것이다. 이에 대한 설명으로 옳은 것은? [3점]



- ① (나)에는 국제 연합(UN) 본부가 위치해 있다.
- ② (다)는 오대호 연안에 위치해 있다.
- ③ (라)는 선벨트 지역에 위치한 도시이다.
- ④ (가)는 (다)보다 히스패닉 인구 비율이 높다.
- ⑤ (라)는 (나)보다 자동차 산업이 발달하였다.

