

제 2 교시

수학 영역

5지선다형

1.  $\sqrt[3]{16} \times 2^{-\frac{1}{3}}$ 의 값은? [2점]

- ①  $\frac{1}{4}$     ②  $\frac{1}{2}$     ③ 1    ④ 2    ⑤ 4

$\frac{4-1}{3-3}$   
2

2. 함수  $f(x) = 2x^2 + 5x - 2$ 에 대하여  $\lim_{x \rightarrow 1} \frac{f(x) - f(1)}{x - 1}$ 의 값은?

[2점]

- ① 6    ② 7    ③ 8    ④ 9    ⑤ 10

4+5

3.  $\frac{\pi}{2} < \theta < \pi$ 인  $\theta$ 에 대하여  $\tan \theta = -2$ 일 때,

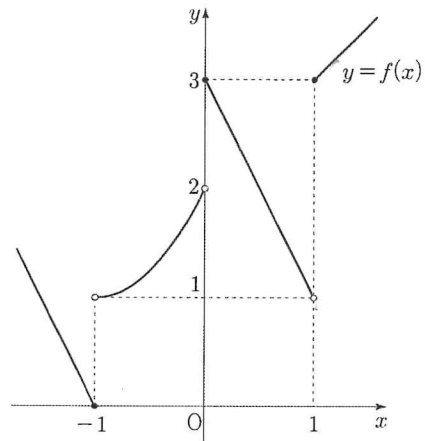
$\sin(\pi + \theta)$ 의 값은? [3점]

- ①  $-\frac{2\sqrt{5}}{5}$     ②  $-\frac{\sqrt{10}}{5}$     ③  $-\frac{\sqrt{5}}{5}$   
④  $\frac{\sqrt{5}}{5}$     ⑤  $\frac{2\sqrt{5}}{5}$

$-\sin \theta$



4. 함수  $y = f(x)$ 의 그래프가 그림과 같다.



$\lim_{x \rightarrow 0^-} f(x) + \lim_{x \rightarrow 1^+} f(x)$ 의 값은? [3점]

2 + 3

- ① 1    ② 2    ③ 3    ④ 4    ⑤ 5

5. 삼차함수  $f(x)$ 가 모든 실수  $x$ 에 대하여

$$f(x) - f(1) = x^3 + 4x^2 - 5x$$

를 만족시킬 때,  $\int_1^2 f'(x)dx$ 의 값은? [3점]

- ① 10    ② 12    ③ 14    ④ 16    ⑤ 18

$$8 + 16 - 10$$

6. 모든 항이 양수인 등비수열  $\{a_n\}$ 에 대하여

$$\frac{a_3 + a_4}{a_1 + a_2} = 4, \quad a_2 a_4 = 1$$

일 때,  $a_6 + a_7$ 의 값은? [3점]

- ① 16    ② 18    ③ 20    ④ 22    ⑤ 24

$$r = 2.$$

$$a_3 = 1$$

$$8 + 16$$

7. 함수  $f(x) = x^3 - 3x + 2a$ 의 극솟값이  $a+3$ 일 때, 함수  $f(x)$ 의 극댓값은? (단,  $a$ 는 상수이다.) [3점]

- ① 11    ② 12    ③ 13    ④ 14    ⑤ 15

$$2a - 2 = a + 3$$

$$a = 5$$

$$2 + 10 = 12.$$

8. 삼차함수  $f(x)$ 가 모든 실수  $x$ 에 대하여

$$xf'(x) = 6x^3 - x + f(0) + 1$$

을 만족시킬 때,  $f(-1)$ 의 값은? [3점]

- ① -2    ② -1    ③ 0    ④ 1    ⑤ 2

$$f'(x) = -1$$

$$f'(x) = 6x^2 - 1$$

$$f(x) = 2x^3 - x - 1 \Big|_{x=-1}$$

9. 좌표평면 위에 서로 다른 세 점

$A(0, -\log_2 9)$ ,  $B(2a, \log_2 7)$ ,  $C(-\log_2 9, a)$ 를 꼭짓점으로 하는 삼각형 ABC가 있다. 삼각형 ABC의 무게중심의 좌표가  $(b, \log_8 7)$ 일 때,  $2^{a+3b}$ 의 값은? [4점]

- ① 63    ② 72    ③ 81    ④ 90    ⑤ 99

$$\frac{2a - \log_2 9}{3} = b$$

$$a - \log_2 \frac{9}{7} = \log_2 7$$

$$\left. \begin{aligned} a &= \log_2 9 \\ b &= \frac{\log_2 9}{3} \end{aligned} \right\} a+3b = \log_2 81$$

10. 양수  $a$ 에 대하여 수직선 위를 움직이는 점 P의 시간  $t (t \geq 0)$ 에서의 속도  $v(t)$ 가

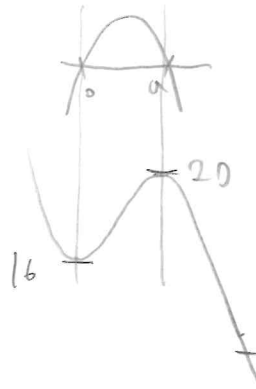
$$v(t) = 3t(a-t)$$

이다. 시간  $t=0$ 에서 점 P의 위치는 16이고,

시간  $t=2a$ 에서 점 P의 위치는 0이다.

시간  $t=0$ 에서  $t=5$ 까지 점 P가 움직인 거리는? [4점]

- ① 54    ② 58    ③ 62    ④ 66    ⑤ 70



$$3at - 3t^2$$

$$\frac{3}{2}at^2 - t^3 + 16 \Big|_{2a}$$

$$-2a^3 + 16 = 0$$

$$a = 2$$

$$3t^2 - t^3 + 16$$

$$4 + 54 = 58$$

11. 공차가  $d (0 < d < 1)$  인 등차수열  $\{a_n\}$  이 다음 조건을 만족시킨다.

(가)  $a_5$  는 자연수이다.  
 (나) 수열  $\{a_n\}$  의 첫째항부터 제  $n$  항까지의 합을  $S_n$  이라 할 때,  $S_8 = \frac{68}{3}$  이다.

$a_{16}$  의 값은? [4점]

- ①  $\frac{19}{3}$     ②  $\frac{77}{12}$     ③  $\frac{13}{2}$     ④  $\frac{79}{12}$     ⑤  $\frac{20}{3}$

$8 a_{4.5} = \frac{68}{3}$

$a_{4.5} = \frac{17}{6} \quad \frac{17}{6} < \frac{17}{6} + \frac{d}{2} < \frac{20}{6}$

$a_5 = 3$

$d = \frac{1}{3}$

$3 + 11d = \frac{20}{3}$

12. 두 상수  $a, b$  에 대하여 실수 전체의 집합에서 미분가능한 함수  $f(x)$  가 다음 조건을 만족시킨다.

(가)  $0 \leq x < 4$  일 때,  $f(x) = x^3 + ax^2 + bx$  이다.  
 (나) 모든 실수  $x$  에 대하여  $f(x+4) = f(x) + 16$  이다.

$\int_4^7 f(x)dx$  의 값은? [4점]

- ①  $\frac{255}{4}$     ②  $\frac{261}{4}$     ③  $\frac{267}{4}$     ④  $\frac{273}{4}$     ⑤  $\frac{279}{4}$

$64 + 16a + 4b = 16$

$a = -6$   
 $b = 12$

$\int_0^3 f(x) + 16 = ?$

$48 + \left[ \frac{1}{4}x^4 - 2x^3 + 6x^2 \right]_0^3$

$\frac{81}{4} - 54 + 54$

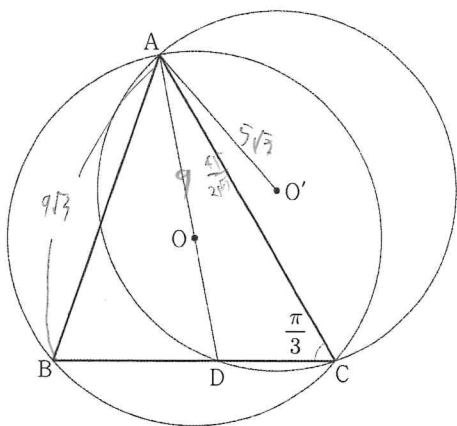
$\frac{192 + 81}{4}$

13. 그림과 같이

$$\overline{BC} = \frac{36\sqrt{7}}{7}, \sin(\angle BAC) = \frac{2\sqrt{7}}{7}, \angle ACB = \frac{\pi}{3}$$

인 삼각형 ABC가 있다. 삼각형 ABC의 외접원의 중심을 O, 직선 AO가 변 BC와 만나는 점을 D라 하자. 삼각형 ADC의 외접원의 중심을 O'이라 할 때,  $\overline{AO'} = 5\sqrt{3}$ 이다.

$\overline{OO'}$ 의 값은? (단,  $0 < \angle BAC < \frac{\pi}{2}$ ) [4점]



- ① 21    ②  $\frac{91}{4}$     ③  $\frac{49}{2}$     ④  $\frac{105}{4}$     ⑤ 28

$$\frac{36}{\sqrt{7}} = 18 - 2R_0$$

$$\frac{2}{\sqrt{7}}$$

$$\frac{AB}{\frac{\sqrt{3}}{2}} = 18$$

$$\frac{36^2}{9} + \frac{x^2}{81} - 81 = 3$$

$$\frac{1}{2} = 2 \cdot \frac{36}{\sqrt{7}} \cdot x$$

$$\frac{36}{\sqrt{7}} x = x^2 + \frac{36^2}{9} - 81 = 3$$

$$9x^2 - 36\sqrt{7}x + (36^2 - 81 \cdot 2) = 9 \cdot 45$$

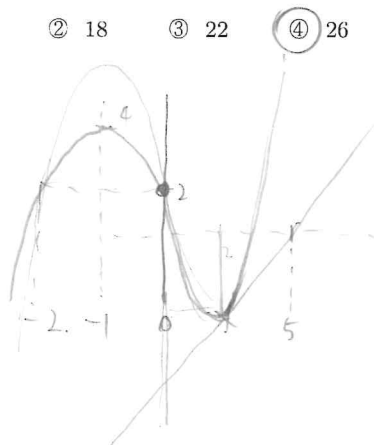
$$\frac{\sqrt{7}}{\sqrt{7}} \quad \frac{-45}{9} \rightarrow \frac{45}{\sqrt{7}}$$

14. 양수 a에 대하여 함수 f(x)는

$$f(x) = \begin{cases} -2(x+1)^2 + 4 & (x \leq 0) \\ a(x-5) & (x > 0) \end{cases}$$

이다. 함수 f(x)와 최고차항의 계수가 1인 삼차함수 g(x)에 대하여 f(k)=g(k)를 만족시키는 서로 다른 모든 실수 k의 값이 -2, 0, 2일 때, g(2a)의 값은? [4점]

- ① 14    ② 18    ③ 22    ④ 26    ⑤ 30



$$g(1) - 2 = (x+2)(x-k)$$

$$g(2) = -3a, \quad g'(2) = a$$

$$a = 2(2-k) + b + 4(2-k)$$

$$-3a - 2 = 4 \cdot 2 - (2-k)$$

$$-3a - 2 = 4 \cdot 2 - (2-k)$$

$$a = \frac{6}{8}(-3a - 2) + b$$

$$8a = -18a - 12 + 64$$

$$a = 2, \quad k = 3$$

$$g(4) - 2 = 4 \cdot 6 = 1$$

15. 첫째항이 자연수인 수열  $\{a_n\}$ 이 모든 자연수  $n$ 에 대하여

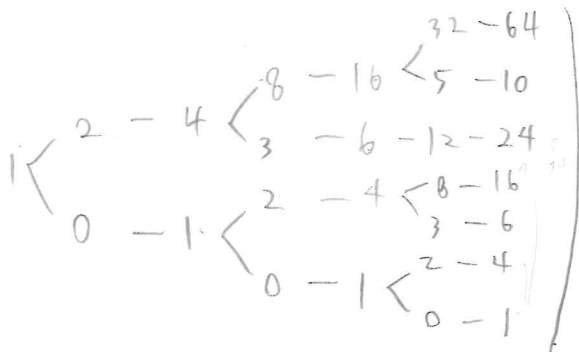
$$a_{n+1} = \begin{cases} \frac{1}{2}a_n & (\frac{1}{2}a_n \text{이 자연수인 경우}) \\ (a_n-1)^2 & (\frac{1}{2}a_n \text{이 자연수가 아닌 경우}) \end{cases}$$

를 만족시킬 때,  $a_7 = 1$ 이 되도록 하는 모든  $a_1$ 의 값의 합은?

[4점]

- ① 120    ② 125    ③ 130    ④ 135    ⑤ 140

$a_1 = 1$



125

단답형

16. 방정식  $\log_5(x+9) = \log_5 4 + \log_5(x-6)$ 을 만족시키는 실수  $x$ 의 값을 구하시오. [3점]

$x+9 = 4x-24$

11

17. 함수  $f(x) = (x-3)(x^2+x-2)$ 에 대하여  $f'(5)$ 의 값을 구하시오. [3점]

$28 + 2 \cdot (11)$

50

18. 수열  $\{a_n\}$  에 대하여

$$\sum_{k=1}^{15} (3a_k + 2) = 45, \quad 2 \sum_{k=1}^{15} a_k = 42 + \sum_{k=1}^{14} a_k$$

일 때,  $a_{15}$  의 값을 구하시오. [3점]

$$3S + 30 = 45 \quad S = 5$$

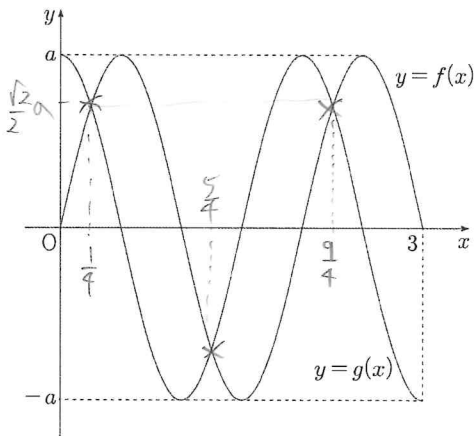
$$5 + a_{15} = 42$$

37

19. 양수  $a$  에 대하여  $0 \leq x \leq 3$  에서 정의된 두 함수

$$f(x) = a \sin \pi x, \quad g(x) = a \cos \pi x$$

가 있다. 두 곡선  $y = f(x)$  와  $y = g(x)$  가 만나는 서로 다른 세 점을 꼭짓점으로 하는 삼각형의 넓이가 2일 때,  $a^2$  의 값을 구하시오. [3점]



$$\frac{1}{2} \times \sqrt{2}a \times 2 = 2$$

$$a = \sqrt{2}$$

2

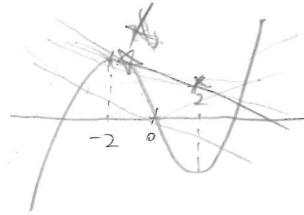
20. 두 함수  $f(x) = x^3 - 12x$ ,  $g(x) = a(x-2) + 2$  ( $a \neq 0$ ) 에 대하여 함수  $h(x)$  는

$$h(x) = \begin{cases} f(x) & (f(x) \geq g(x)) \\ g(x) & (f(x) < g(x)) \end{cases} \quad \text{Max}\{f, g\}$$

이다. 함수  $h(x)$  가 다음 조건을 만족시키도록 하는 모든 실수  $a$  의 값의 범위는  $m < a < M$  이다.

함수  $y = h(x)$  의 그래프와 직선  $y = k$  가 서로 다른 네 점에서 만나도록 하는 실수  $k$  가 존재한다.

$10 \times (M - m)$  의 값을 구하시오. [4점]



$$a < 0 = M$$

$$2 = (3t^2 - 12)(t^2 - t) + t^3 - 12t$$

$$2 = 6t^2 - 24 - 2t^3$$

$$2t^3 - 6t^2 + 26 = 0$$

$$t^3 - 3t^2 + 13 = 0$$

$$(-2, 16)$$

$$-4a + 2 = 16$$

$$a = -\frac{7}{2} = m$$

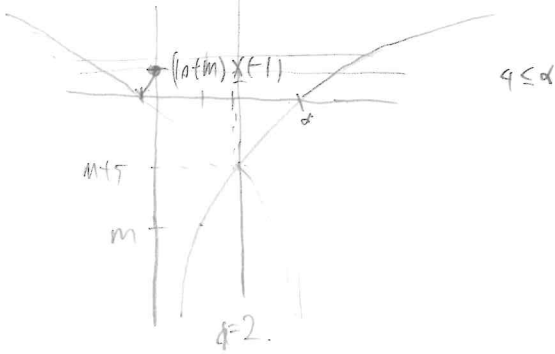
35

21.  $m \leq -10$ 인 상수  $m$ 에 대하여 함수  $f(x)$ 는

$$f(x) = \begin{cases} |5\log_2(4-x) + m| & (x \leq 0) \\ 5\log_2 x + m & (x > 0) \end{cases}$$

이다. 실수  $t (t > 0)$ 에 대하여  $x$ 에 대한 방정식  $f(x) = t$ 의 모든 실근의 합을  $g(t)$ 라 하자. 함수  $g(t)$ 가 다음 조건을 만족시킬 때,  $f(m)$ 의 값을 구하시오. [4점]

$t \geq a$ 인 모든 실수  $t$ 에 대하여  $g(t) = g(a)$ 가 되도록 하는 양수  $a$ 의 최솟값은 2이다.



$-10 - m = 2 \quad m = -12$

$f(-12) = |5 \log_2 16 - 12| = 8$

$\therefore 8$

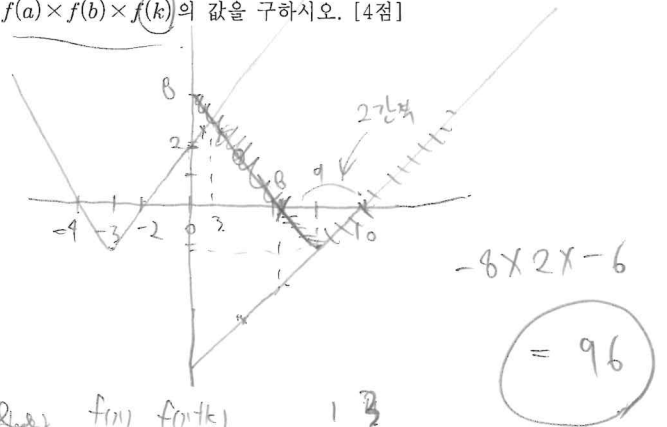
22. 두 자연수  $a, b (a < b < 8)$ 에 대하여 함수  $f(x)$ 는

$$f(x) = \begin{cases} |x+3| - 1 & (x < a) \\ x - 10 & (a \leq x < b) \\ |x-9| - 1 & (x \geq b) \end{cases}$$

이다. 함수  $f(x)$ 와 양수  $k$ 는 다음 조건을 만족시킨다.

- (가) 함수  $f(x)f(x+k)$ 는 실수 전체의 집합에서 연속이다.
- (나)  $f(k) < 0$

$a=10, b=6$   
 $f(a) \times f(b) \times f(k)$ 의 값을 구하시오. [4점]

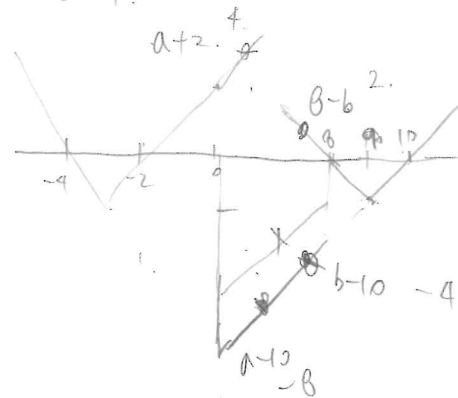


(가)  $f(x) f(x+k)$   
 $a+$   
 $a-$

$1 \ 3$   
 $2 \ 4$   $k=6$

$= 96$

무조건 붙여쓰기.



$a+k=b$   
 $b+k=10$   
 $b=10-a$   
 $-2+k=a$   
 $2a-a-10$   
 $2a-b-2$   
 $(a+2) \quad a+b=6$

$k=4 \quad a=2 \quad b=6$

$(a+2)(b-10)$   
 $= (2+2)(6-10)$

- \* 확인 사항
- 답안지의 해당란에 필요한 내용을 정확히 기입(표기)했는지 확인하시오.
- 이어서, 「선택과목(확률과 통계)」 문제가 제시되오니, 자신이 선택한 과목인지 확인하시오.



제 2 교시

수학 영역(미적분)

5지선 다형

23.  $\lim_{x \rightarrow 0} \frac{5^{2x} - 1}{e^{3x} - 1}$  의 값은? [2점]

- ①  $\frac{\ln 5}{3}$     ②  $\frac{1}{\ln 5}$     ③  $\frac{2}{3} \ln 5$     ④  $\frac{2}{\ln 5}$     ⑤  $\ln 5$

24. 매개변수  $t (t > 0)$  으로 나타내어진 함수

$$x = 3t - \frac{1}{t}, \quad y = te^{t-1}$$

에서  $t = 1$  일 때,  $\frac{dy}{dx}$  의 값은? [3점]

- ①  $\frac{1}{2}$     ②  $\frac{2}{3}$     ③  $\frac{5}{6}$     ④ 1    ⑤  $\frac{7}{6}$

$$3 + \frac{1}{t^2} \quad (t+1)e^{t-1}$$

$$\frac{2}{4}$$

25. 모든 항이 양수인 수열  $\{a_n\}$  에 대하여

$$\lim_{n \rightarrow \infty} \{a_n \times (\sqrt{n^2+4}-n)\} = 6$$

일 때,  $\lim_{n \rightarrow \infty} \frac{2a_n+6n^2}{na_n+5}$  의 값은? [3점]

- ①  $\frac{3}{2}$     ② 2    ③  $\frac{5}{2}$     ④ 3    ⑤  $\frac{7}{2}$

$a_n = 3n$

$\frac{6}{3}$

26. 그림과 같이  $\overline{AB} = \overline{BC} = 1$  이고  $\angle ABC = \frac{\pi}{2}$  인

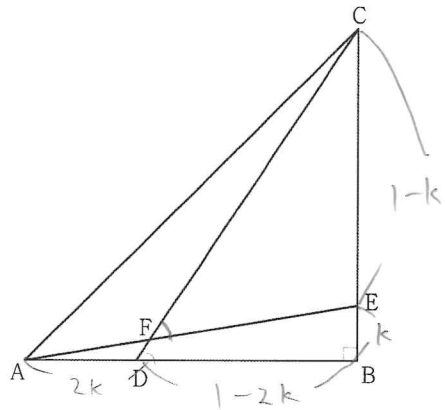
삼각형 ABC가 있다. 선분 AB 위의 점 D와 선분 BC 위의 점 E가

$$\overline{AD} = 2\overline{BE} \quad (0 < \overline{AD} < 1)$$

을 만족시킬 때, 두 선분 AE, CD가 만나는 점을 F라 하자.

$\tan(\angle CFE) = \frac{16}{15}$  일 때,  $\tan(\angle CDB)$  의 값은?

(단,  $\frac{\pi}{4} < \angle CDB < \frac{\pi}{2}$ ) [3점]



- ①  $\frac{9}{7}$     ②  $\frac{4}{3}$     ③  $\frac{7}{5}$     ④  $\frac{3}{2}$     ⑤  $\frac{5}{3}$

$m_1 = \frac{1}{1-2k}$      $m_2 = k$      $m_1 = ?$

$$\frac{16}{15} = \frac{\frac{1}{1-2k} - k}{1 + \frac{k}{1-2k}} = \frac{1-k(1-2k)}{1-k}$$

$2k^2 - k + 1$

$16 - 16k = 30k^2 - 15k + 15$

~~$46k^2 - 48k = 1$~~

$30k^2 - 4k - 1$      $k = \frac{1}{6}$

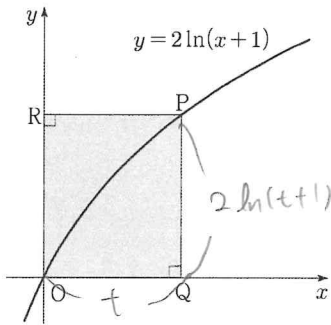
$\frac{5}{6} \quad -1$

$\therefore \frac{3}{2}$

27. 양수  $t$ 에 대하여 곡선  $y=2\ln(x+1)$  위의 점  $P(t, 2\ln(t+1))$ 에서  $x$ 축,  $y$ 축에 내린 수선의 발을 각각  $Q, R$ 이라 할 때, 직사각형  $OQPR$ 의 넓이를  $f(t)$ 라 하자.

$\int_1^3 f(t)dt$ 의 값은? (단,  $O$ 는 원점이다.) [3점]

- ①  $-2+12\ln 2$     ②  $-1+12\ln 2$     ③  $-2+16\ln 2$   
 ④  $-1+16\ln 2$     ⑤  $-2+20\ln 2$



$$2 \int_1^3 t \ln(t+1) dt$$

$$2 \int_2^4 (t-1) \ln t dt$$

$$2 \int_2^4 t \ln t dt - 2 \left[ t \ln t - t \right]_2^4$$

$$\frac{1}{2} \frac{1}{2} t^2 \quad \text{''} \quad 6\ln 2 - 2$$

$$\left[ \frac{1}{2} t^2 \ln t \right]_2^4 - \int_2^4 \frac{t}{2} dt$$

$$2(14\ln 2 - 3) - 2(6\ln 2 - 2)$$

$$\underline{16\ln 2 - 2}$$

28. 최고차항의 계수가 1이고 역함수가 존재하는 삼차함수 ( $\text{반전음기, } f'(2)=0$ )  $f(x)$ 에 대하여 함수  $f(x)$ 의 역함수를  $g(x)$ 라 하자. 실수  $k(k > 0)$ 에 대하여 함수  $h(x)$ 는

$$h(x) = \begin{cases} \frac{g(x)-k}{x-k} & (x \neq k) \\ \frac{1}{3} & (x = k) \end{cases} \quad \lim_{x \rightarrow k} g(x) = k, \quad g'(k) = \frac{1}{3}$$


이다. 함수  $h(x)$ 가 다음 조건을 만족시키도록 하는 모든 함수  $f(x)$ 에 대하여  $f'(0)$ 의 값이 최대일 때,  $k$ 의 값을  $\alpha$ 라 하자.

- (가)  $h(0)=1 \rightsquigarrow g(0)=0$   
 (나) 함수  $h(x)$ 는 실수 전체의 집합에서 연속이다.

$k=\alpha$ 일 때,  $\alpha \times h(9) \times g'(9)$ 의 값은? [4점]

- ①  $\frac{1}{84}$     ②  $\frac{1}{42}$     ③  $\frac{1}{28}$     ④  $\frac{1}{21}$     ⑤  $\frac{5}{84}$

2x)



$\alpha = 2$   
 $b = 3$   
 $a = -3$

$$f(x) = x^3 + ax^2 + bx$$

$$f'(x) = 3x^2 + 2ax + b$$

$$a^2 - 3b \leq 0$$

$$2 - 2k^2$$

$$\left(\frac{2}{k} - 2k\right)^2 - 3(k^2 - 1) \leq 0$$

$$\frac{4}{k^2} - 8 + 4k^2 = 3k^2 - 3$$

$$k^2 + \frac{4}{k^2} - 5 \leq 0$$

$$k^4 - 5k^2 + 4$$

$$1 \leq k^2 \leq 4$$

$$1 \leq k \leq 2$$

$$k^2 + ak + b = 1$$

$$b = k^2 - 1$$

$$3k^2 + 2ak + b = 3$$

$$2k^2 + ak = 2$$

$$f(x) = x^3 - 3x^2 + 3x$$

$$f(3) = 9$$

$$\frac{1}{7}$$

$$3x^2 - 6x + 3$$

단답형

29. 첫째항이 1이고 공비가 0이 아닌 등비수열  $\{a_n\}$ 에 대하여

급수  $\sum_{n=1}^{\infty} a_n$ 이 수렴하고

$$r^{n-1} \quad (-1 < r < 1)$$

$$\sum_{n=1}^{\infty} (20a_{2n} + 21|a_{3n-1}|) = 0$$

이다. 첫째항이 0이 아닌 등비수열  $\{b_n\}$ 에 대하여

급수  $\sum_{n=1}^{\infty} \frac{3|a_n| + b_n}{a_n}$ 이 수렴할 때,  $b_1 \times \sum_{n=1}^{\infty} b_n$ 의 값을 구하시오. [4점]

$$\frac{20a_2}{1-r^2} + \frac{21|a_2|}{1-|r|^3} = 0$$

$r < 0$

$$\frac{20}{1-r^2} + \frac{-21}{1+r^3} = 0$$

$$\frac{21}{1+r^3}$$

$$\frac{20}{1-r} = \frac{21}{r^2-r+1}$$

$$20r^2 - 20r + 20 = 21 - 21r$$

$$20r^2 + r - 1 = 0$$

$$r = -\frac{1}{4}$$

$$\frac{3\left(\frac{1}{4}\right)^{n-1} + b_n}{\left(-\frac{1}{4}\right)^{n-1}}$$

$$\rightarrow \frac{b_1}{a_1} = 3 \frac{b_2}{a_2}$$

$$-4 \times \left(-\frac{1}{4}\right)^n$$

$$b_n = 12 \times \left(\frac{1}{4}\right)^n$$

$$3 \times \frac{10.3}{1 - \frac{1}{4}}$$

12

30. 상수  $a (0 < a < 1)$ 에 대하여 함수  $f(x)$ 를

$$f(x) = \int_0^x \ln(e^{t^3} - a) dt \quad f'(x) = \ln(e^{x^3} - a)$$

라 하자. 함수  $f(x)$ 와 상수  $k$ 는 다음 조건을 만족시킨다.

(가) 함수  $f(x)$ 는  $x = \ln \frac{3}{2}$ 에서 극값을 갖는다.  $a = \frac{1}{2}$

$$(나) f\left(-\ln \frac{3}{2}\right) = \frac{f(k)}{6}$$

$\int_0^k \frac{|f'(x)|}{f(x) - f(-k)} dx = p$ 일 때,  $100 \times a \times e^p$ 의 값을 구하시오. [4점]

$$-\int_0^{\ln \frac{3}{2}} \frac{1}{t} dt - \int_{\ln \frac{3}{2}}^k \frac{1}{t} dt + \int_{\ln \frac{3}{2}}^k \frac{1}{t} dt$$

$$\ln t$$

$$-\ln \frac{5}{6} + \ln \frac{12}{5} = \frac{6 \times 12}{25} \times \frac{2}{100} \times \frac{1}{2}$$

\* 확인 사항

○ 답안지의 해당란에 필요한 내용을 정확히 기입(표기)했는지 확인하시오.

○ 이어서, 「선택과목(기하)」 문제가 제시되오니, 자신이 선택한 과목인지 확인하시오.

144