

제 4 교시

사회탐구 영역(정치와 법)

성명  수험번호  -  제 ( ) 선택

1. 정치를 바라보는 갑, 을의 관점에 대한 설명으로 옳은 것은?

갑: 정치는 모든 사회 집단에서 발생하는 이해관계의 대립을 조정하고 갈등을 해결하는 과정이기 때문에 아파트 입주자 대표 회의 또한 정치로 볼 수 있습니다.  
 을: 그렇지 않습니다. 정치란 정치권력을 획득, 유지, 행사하는 국가 고유의 활동을 의미합니다. 따라서 아파트 입주자 대표 회의는 정치라고 볼 수 없습니다.

- ① 갑은 정치를 구성원들의 복리를 증진하고 공동체의 목표를 달성하기 위한 국가만의 활동으로 본다.
- ② 을은 선거를 통해 정치권력을 획득하는 과정을 정치의 사례라고 보지 않는다.
- ③ 갑은 을과 달리 이익 집단 내 구성원들 간의 합의를 도출하는 과정을 정치로 보지 않는다.
- ④ 을의 관점은 갑과 달리 다원화된 현대 사회의 정치 현상을 설명하기에 적합하다.
- ⑤ 갑, 을의 관점 모두 이해관계의 조정과 갈등의 해결을 정치의 기능으로 본다.

2. 다음 자료에 대한 설명으로 적절한 것은? [3점]

교사: 각자 뽑은 쪽지에 적혀 있는 법치주의의 유형에 대해 설명해 볼까요?  
 갑: 제가 뽑은 A는 통치의 합법성만 고려된 법에 의해 통치가 이루어지기 때문에 합법적 독재의 우려가 존재해요.  
 을: 제가 뽑은 B는 법률의 목적이나 내용이 인간의 존엄과 가치, 자유와 평등을 보장하는 헌법의 이념에 부합해야 한다는 것을 강조해요.  
 교사: 서로 자신이 뽑지 않은 법치주의의 유형에 대해 발표했네요.

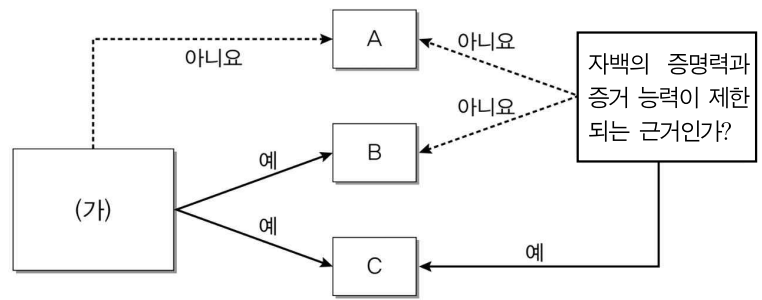
- ① 갑이 뽑은 유형은 법률 제정의 합법적 절차가 정당성을 부여한다고 본다.
- ② 을이 뽑은 유형은 국가의 모든 통치 행위가 정의에 구속되어야 한다고 본다.
- ③ A와 달리 B는 입법 과정에서도 인간의 존엄성을 고려해야 한다고 본다.
- ④ A와 B 모두 통치자의 자의적 행사를 방지하는 것을 목표로 한다.
- ⑤ 역사적으로 법치주의는 A에서 그 한계점을 보완한 B로 변화되었다.

3. 다음 헌법 조항에 공통적으로 반영된 헌법의 기본 원리에 대한 설명으로 적절한 것은?

• 대한민국은 통일을 지향하며, 자유민주적 기본질서에 입각한 평화적 통일정책을 수립하고 이를 추진한다.  
 • 정당의 설립은 자유이며, 복수정당제는 보장된다.

- ① 국가의 의사를 결정할 수 있는 최고의 권력이 국민에게 있다는 원리이다.
- ② 남북 분단의 특수한 상황을 반영한 우리나라 헌법 특유의 원리이다.
- ③ 개인의 자유를 존중하고 국가 권력의 간섭을 최소화해야 한다는 원리이다.
- ④ '여성 및 연소자의 근로에 대한 특별한 보호'를 실현 방안으로 들 수 있다.
- ⑤ 세계 평화와 인류 공동 번영을 위해 노력해야 한다는 원리이다.

4. 그림은 기본권 A~C를 구분한 것이다. 이에 대한 설명으로 적절하지 않은 것은? (단, A~C는 각각 자유권, 평등권, 청구권 중 하나임.)



- ① C의 내용으로 복수 정당제를 들 수 있다.
- ② (가)에 '소극적 권리인가?'가 들어갈 수 있다.
- ③ A가 다른 기본권을 보장하기 위한 수단적 권리라면, B의 내용으로 사회적 특수 계급 제도의 금지를 들 수 있다.
- ④ B의 내용으로 청원권을 들 수 있다면, A는 절대적이고 형식적인 평등을 인정하지 않는다.
- ⑤ A~C를 법률에 의해 제한하고자 할 때, 그 본질적인 내용은 침해할 수 없다.

5. 다음은 갑국의 정당별 의회 의석률과 행정부 수반에 대한 정보를 나타낸 것이다. 이에 대한 추론으로 옳은 것은? (단, 갑국은 전형적인 정부 형태를 채택하고 있으며, T~T+2 대에서 1회 정부 형태가 변경되었음.) [3점]

(단위 : %)

구분	A당	B당	C당	D당	행정부 수반 소속 정당
T대	57	35	6	2	B당
T+1대	30	52	15	3	A당
T+2대	33	31	26	10	B당

- ① T대에는 의회 의원이 행정부 각료를 겸직할 수 있었을 것이다.
- ② T+1대의 갑국의 행정부 수반은 의회에 대하여 정치적 책임을 진다.
- ③ T+2대에는 B당과 D당이 연립하여 행정부를 구성하였을 것이다.
- ④ T대와 달리 T+1대에 행정부와 의회간의 정치적 대립 가능성이 높다.
- ⑤ T+1대와 달리 T+2대에는 의회 의원의 임기가 보장되지 않을 것이다.

## 2 (정치와 법)

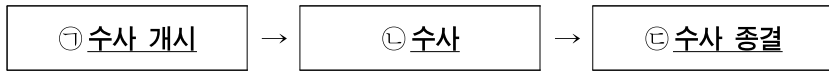
## 사회탐구 영역

6. 다음 ㉠~㉣에 대한 설명으로 옳은 것은? [3점]

조례란 지방 자치 단에서 정하는 법 규범으로 일종으로 주민의 대표인 ㉠ 지방 의회의 의결을 거쳐 만들어진다. 지방 자치법에서는 ㉡과 지방 의회 의원만이 조례안을 제출할 수 있도록 규정하고 있다. 다만, ㉢ 주민 자치 및 ㉣ 직접 민주주의 제도의 하나로 주민들이 필요하다고 판단하는 내용을 포함한 조례의 제·개정 및 폐지를 청구할 수 있는 제도를 마련하고 있는데, 이를 ㉤라고 한다.

- ① ㉠은 광역 자치 단체에만 존재하는 입법 기관이다.
- ② ㉡은 지방 자치 단체장이고, 명령을 제정할 수 있다.
- ③ ㉢은 중앙과 지방 정부 간의 수직적 권력 분립에 기여한다.
- ④ ㉣의 실현 방안으로 주민 투표·소환 제도를 들 수 있다.
- ⑤ ㉤은 조례 제·개정 및 폐지권으로, ㉡에게 청구해야 한다.

7. 다음 수사 절차에 대한 설명으로 옳은 설명만을 <보기>에서 있는 대로 고른 것은?



<보 기>  
 가. ㉠은 고소·고발, 현행범의 체포 등으로 시작된다.  
 나. ㉡ 도중 필요한 경우에 따라 검사로부터 영장을 발부받아 피의자를 구속하거나 압수·수색할 수 있다.  
 다. ㉢은 오직 검사 또는 판사만이 할 수 있는 행위이다.

- ① 가      ② 다      ③ 가, 다      ④ 나, 다      ⑤ 가, 나, 다

8. 다음은 우리나라 헌법 기관에 속했던 갑의 발언 중 일부이다. 이에 대한 설명으로 적절한 것은? [3점]

저는 오늘 ㉠ A로서의 임기를 마치고 물러나게 됩니다. 지난 시간을 돌이켜 보니, 참으로 우여곡절이 많았습니다. 첫 ㉡ 국무 회의 때 ㉢ 각부 장관들과 국가를 위해 일하자고 다짐한 것이 엇그제 같습니다. 또, 신임 ㉣ 감사원장을 임명할 때도, 수개월 간 언론에서 이슈가 되었던 ㉤ ○○○ 법률 개정안을 국무 회의에서 국회에 제출하기로 의결한 순간도, 기억에 남습니다. 가장 안타까웠던 순간은 제가 임명한 ㉥ □□ 국무총리에 대한 해임 건의안이 국회를 통과했던 날이지요. 또, 저의 탄핵에 대한 B의 기각 판결이 나온 날은, 다시 국민을 위해 일할 수 있음에 감사했던 기억이 납니다.

- ① ㉠은 4년이고, 중임이나 연임은 불가능하다.
- ② ㉡의 의장은 A이고, 일부 ㉢만 ㉡에 소속된다.
- ③ ㉣의 장과 위원의 임명 권한은 A에게 있다.
- ④ ㉤ 이후 해당 법률안은 상임 위원회를 거치지 않고 본회의에 상정된다.
- ⑤ ㉥가 통과되면 B에서 국무총리의 해임을 심판한다.

9. 다음 자료에 대한 옳은 설명만을 <보기>에서 있는 대로 고른 것은?

갑은 X 오피스텔을 취득하면서 해당 오피스텔이 '업무 시설'임을 전제로 지방세법이 정하는 바에 따라 과세 표준에 '1천분의 40'의 세율을 적용한 취득세를 신고·납부하였다. 이후 갑은 X 오피스텔이 주거 시설에 해당하여 '1천분의 10'의 세율이 적용되어야 한다며 취득세 경정 청구를 하였으나, Y구청장은 이를 거부하였다. 이후 갑은 A에 Y구청장의 거부 처분 취소를 구하는 소송을 제기하였고, 소송 계속 중 지방세법 ○○ 조항이 주택과 달리 오피스텔을 취득한 경우 합리적 이유 없이 차별한다며 해당 조항에 대해 ㉠ 위헌 법률 심판 제청을 신청하였다. 이에 A는 갑의 청구를 기각하고 위 제청 신청도 기각하였다. 이후 갑은 B에 헌법 소원 심판을 청구하였고, B는 해당 조항은 헌법에 위배되지 않는다고 결정하였다.

\*경정 청구 : 납세자가 착오 등으로 과다 납부한 세금을 돌려줄 것을 요구하는 행위

<보 기>  
 가. A는 1심 법원이고, B는 헌법재판소이다.  
 나. 갑은 ㉠을 하였으나 기각되어 위헌 심사형 헌법 소원을 청구하였다.  
 다. 갑이 B의 결정에 불복하려 하더라도 재판에 결함이 없다면 재심을 청구할 수 없다.  
 라. B의 결정에 따라 Y구는 취득세를 돌려 주어야 한다.

- ① 가, 나      ② 가, 다      ③ 나, 라
- ④ 가, 나, 다      ⑤ 나, 다, 라

10. 다음 사례에 대한 법적 판단으로 옳지 않은 것은? [3점]

X 회사에서 근무하던 갑과, Y 회사에서 근무하던 을은 해고를 당했다. 다음은 각각 갑과 을의 해고와 관련된 판결문 중 일부이다.

(A 법원)  
 원고 : 갑      피고 : (가)  
 주문 : 피고가 원고에 대하여 한 ××××.××.××. 자 해고는 무효임을 확인한다.

(B 법원)  
 원고 : Y 회사      피고 : 중앙 노동 위원회 위원장  
 주문 : 중앙 노동 위원회가 ... 재심 판정을 취소한다.

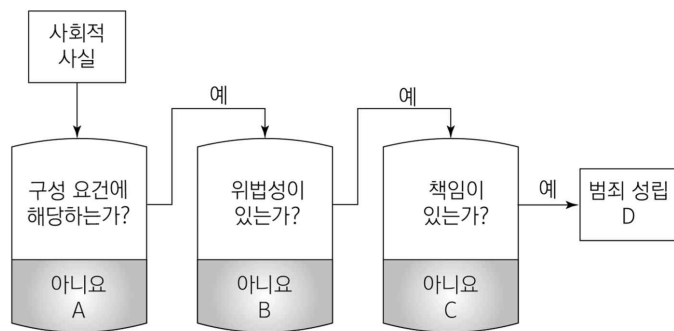
- ① (가)는 X 회사이고, 판결에 따라 갑은 복직할 수 있다.
- ② 갑은 해당 소송과는 별개로 지방 노동 위원회에 구제를 신청할 수 있다.
- ③ 을의 해고에 대해 중앙 노동 위원회는 부당 해고에 해당하지 않는다고 판단하였다.
- ④ 갑과 Y 회사가 제기한 소송 모두 3심제가 적용된다.
- ⑤ 갑의 해고가 부당 해고인지에 대한 A 법원의 판단과, 을의 해고가 부당 해고인지에 대한 B 법원의 판단은 다르다.

11. (가), (나)에 반영된 민법의 기본 원칙에 대한 설명으로 적절하지 않은 것은?

(가) 공정거래위원회는 연예인 전속 계약 기간을 과도하게 설정한 기획사의 계약을 규제하였다.  
 (나) 정부는 자연 환경 보전과 건전한 생활 환경 확보라는 공익을 목적으로 관련 법에 근거하여 개인의 토지를 개발 제한 구역으로 지정하였다.

- ① (가)에 반영된 민법의 기본 원칙은 근대의 '계약 자유의 원칙'을 수정·보완한 것이다.
- ② (나)에 반영된 민법의 기본 원칙은 근대의 '소유권 절대의 원칙'을 수정·보완한 것이다.
- ③ (가), (나)에 반영된 민법의 기본 원칙의 등장으로 인해 기존 민법의 기본 원칙은 현대의 사법 관계에서 적용되지 않는다.
- ④ (가)에 반영된 민법 원칙의 적용 사례로 '매수자의 경솔 또는 무경험을 이용하여 현저히 균형을 잃은 내용으로 계약을 체결했을 때 계약이 무효가 되는 것'을 들 수 있다.
- ⑤ (나)에 반영된 민법 원칙의 적용 사례로 '문화재 보호 구역에서 땅을 2m 넘는 깊이로 팔 수 없다는 제한이 있는 것'을 들 수 있다.

12. 다음 그림의 A~D에 해당하는 사례로 적절하지 않은 것은? [3점]



- ① A: 맹장염 수술을 집도하는 의사의 행위
- ② A: 남의 것을 훔치려 했으나 착각하여 자신의 지갑을 가져간 행위
- ③ B: 경찰관이 적법한 절차에 따라 현행범인을 체포한 행위
- ④ C: 갑(12세)이 장난으로 옆집의 반려견을 건어차 다치게 한 행위
- ⑤ D: 친구의 동의하에 그 친구 아버지의 자전거를 훔친 행위

13. 다음 자료에 대한 분석으로 옳은 것은? (단, A~C는 각각 시민단체, 이익 집단, 정당 중 하나임.) [3점]

· '집단의 특수 이익을 우선시하는가?'를 통해 A와 B, C를 구분할 수 있다.  
 · '정권 획득을 목적으로 하는가?'에 대해 B만 '예'라고 답할 수 있다.

- ① A는 구성원의 이익을 공익보다 우선시한다.
- ② B는 법률안을 제출할 수 있다.
- ③ C는 정부의 정책을 비판·감시할 수 있다.
- ④ A, B는 C와 달리 정치 사회화 기능을 수행한다.
- ⑤ B, C는 A와 달리 대의 정치의 한계를 보완한다.

14. 다음 사례에 대한 법적 판단으로 옳은 것만을 <보기>에서 있는 대로 고른 것은?

갑(17세)은 서점에서 자신의 법정 대리인 을의 동의 없이 용돈으로 참고서를 구입했다. 며칠 후 갑은 백화점에서 고가의 한정판 가방을 구입했다. 또한 을의 동의를 얻어 사업을 하는 갑은 ㉠사업에 필요한 재료를 구매하는 계약을 병(45세)과 체결하였다. 한편, 을은 중고차 딜러의 속임수에 넘어가 시가보다 높은 가격에 중고차를 구매하였다.

<보 기>

- ㄱ. 갑이 참고서를 구입한 것은 미성년자가 단독으로 할 수 있는 법률 행위에 해당한다.
- ㄴ. 갑이 동의를 위조함으로써 을의 동의가 있는 것으로 믿게 하여 한정판 가방을 구매했다면 을은 해당 계약을 취소할 수 없다.
- ㄷ. ㉠에서 병은 을에게 해당 계약을 유효로 할지 여부를 확정하도록 촉구할 수 있다.
- ㄹ. 을의 중고차 구매 계약은 법률 행위가 성립한 때부터 당연히 그 효력이 없는 것으로 확정된다.

- ① ㄱ, ㄴ                      ② ㄱ, ㄷ                      ③ ㄷ, ㄹ
- ④ ㄱ, ㄴ, ㄹ                ⑤ ㄱ, ㄷ, ㄹ

15. 다음 사례의 법원 판결에 대한 설명으로 옳지 않은 것은? [3점]

A는 B 소유의 빌딩에 있는 C의 식당에서 술을 마시다 흡연실 내부에 설치된 문을 열고 외부로 연결된 베란다를 활용해 옆 건물로 나가던 중 추락하여 전치 10주의 상해를 입었다. 사고 후 A는 C에게 손해 배상 청구 소송을 제기하였다. 법원은 안전사고 발생을 막기 위해 그 용도에 따라 통상적으로 있어야 할 안정성을 갖추지 못한 해당 발코니에 설치·보존 상의 하자가 있으며, 이 하자와 사고 사이에는 상당한 인과관계가 인정된다고 보아 C에게 손해 배상 책임이 있다고 판단하였다. 또한 법원은 A도 사고 당시 자신의 안전을 지키기 위해 스스로 주의를 기울일 필요가 있는데 음주 상태로 인해 이를 소홀히 하여 사고가 발생했으므로 C의 책임을 60%로 제한한다고 판결하였다.

- ① B는 손해 방지를 위한 주의를 다하였음을 증명할 필요가 없다.
- ② C는 손해 방지를 위한 주의를 다하였음을 증명하지 못했을 것이다.
- ③ 법원은 C 뿐만 아니라 B에게도 책임이 있다고 판단하였다.
- ④ 법원이 C에게 손해 배상 책임이 없다고 판단했을 경우, B가 무과실 책임을 질 것이다.
- ⑤ A가 C의 식당에서 마신 술로 인해 만취 상태가 되어 자신의 집 앞에서 넘어졌을 경우, B 혹은 C에게 손해 배상 의무가 없다.

# 4 (정치와 법)

# 사회탐구 영역

16. 다음 사례에 대한 법적 판단으로 옳지 않은 것은? (단, 제시된 혼인은 모두 법률혼임.) [3점]

갑(남)과 을(여)은 혼인을 한 후 X와 Y를 출산하여 살고 있었다. 그런데 갑과 을은 혼인 중 갑의 부정한 행위를 이유로 숙려 기간을 거친 후 이혼을 하였고, 이혼 후 X는 갑이, Y는 을이 양육하기로 하였다. 이후 갑은 A와 재혼을 하였고, A가 미성년자인 X에 대해 친양자가 아닌 양자로 입양하였다. 1년 후 X가 8살이 되었을 때, 갑과 A 사이에서 Z가 출생하였다. 한편 을은 혼인하지 않은 채 계속 지내왔다. 어느 날, 갑은 출장 중 교통사고로 사망하였다.

- ① 갑과 을이 겪은 이혼은 이혼 신고 이후 효력이 발생한다.
- ② A가 X를 입양하기 위해서는 가정 법원의 허가가 필요하다.
- ③ A가 X를 입양하더라도 X와 을 간의 친족 관계는 유지된다.
- ④ 갑은 Z에 대해 인지 절차를 거쳐야만 친자 관계가 형성된다.
- ⑤ 을과 달리 X, Y, Z는 갑의 사망 후 재산을 상속받을 수 있다.

17. 표는 질문에 따라 우리나라의 선거 A~C를 구분한 것이다. 이에 대한 옳은 설명만을 <보기>에서 고른 것은? (단, A~C는 각각 우리나라의 대통령 선거, 국회 의원 선거, 기초 의회 의원 선거 중 하나이며, 질문에 대해서는 ‘예’ 또는 ‘아니오’로만 대답함.) [3점]

구분	A	B	C
유권자가 1인 1표를 행사하는가?	㉠	㉡	㉢
조례를 제정할 수 있는 기관을 구성하는 선거인가?	㉣	㉤	㉥

<보 기>  
 가. ㉠~㉥에 들어갈 대답 중 ‘예’는 2개이다.  
 나. A가 기초 의회 의원 선거라면, ㉠과 ㉥에 들어갈 대답은 같지 않다.  
 다. B가 5년마다 진행되는 선거라면, ㉣과 ㉤은 ‘아니오’이다.  
 리. ㉢, ㉤, ㉥에 들어갈 대답이 같다면, C는 중대선거구제를 바탕으로 한다.

- ① 가, 나    ② 가, 다    ③ 나, 리    ④ 나, 리    ⑤ 다, 리

18. (가), (나)의 입장으로 가장 적절한 것은?

(가) 국제 평화를 실현하기 위해서는 이성적 존재인 국가들이 합리적인 대화와 협력을 하고, 세력 균형, 동맹, 비밀외교 등을 영원히 제거해야 한다. 왜냐하면 이러한 잘못된 정책이나 제도에 의해 국제 분쟁이 발생하기 때문이다.  
 (나) 국제 분쟁을 억지하기 위해서는 국가 간 힘의 균형이 이루어져야 한다. 왜냐하면 한 국가나 국가들의 동맹이 우월한 힘을 갖게 되면 다른 국가들에 대해 패권적인 의지를 강요하게 될 위험이 커지기 때문이다.

- ① (가) : 국제 관계에서는 국가가 유일한 행위자로 간주된다.
- ② (가) : 국가 간 동맹과 힘의 균형을 통해서만 군비 경쟁은 종식된다.
- ③ (나) : 국제 관계에서 세력 균형은 평화를 영구적으로 보장한다.
- ④ (나) : 전쟁 수행의 최종 목표와 외교 정책의 최종 목표는 국익이다.
- ⑤ (가)와 (나) : 자국의 이익 추구보다 세계 평화가 우선되어야 한다.

19. 밑줄 친 ㉠~㉣에 대한 설명으로 적절하지 않은 것은?

㉠ 국제 연합은 민주주의를 훼손하고 법의 지배를 위태롭게 하는 부패를 척결하기 위해 ㉡ ‘국제 연합 부패 방지 협약’을 마련하였다. 우리나라에서 이 협약은 헌법에 정해진 절차에 따라 체결·공포되어 2008년에 발효되었다. 국회는 이 협약의 효율적 이행을 위해 ㉢ ‘부패 재산의 몰수 및 회복에 관한 특별법’을 제정하였다.

<보 기>  
 가. ㉠에는 최고 의사 결정 기관인 안전 보장 이사회가 있다.  
 나. ㉡은 국제 사법 재판소의 재판 준거로 활용될 수 있다.  
 다. ㉢은 헌법에 따라 ㉣과 같은 국내법과 동일 효력을 가진다.

- ① 가    ② 다    ③ 가, 다    ④ 나, 다    ⑤ 가, 나, 다

20. 다음과 같은 비례 대표 선출 방식의 변화로 개편 전보다 개편 이후 의석이 가장 많이 증가한 정당과 가장 적게 증가한 정당을 순서대로 나열할 것은? (단, 아래 제시된 표는 개편 후의 선거 결과이며, 개편 전 방식 또한 아래의 표로 분석함.)

유권자의 지역구 국회 의원 후보자에 대한 투표를 소속 정당에 대한 지지로 환산하는 비례 대표 선출 방식이 위헌이라는 결정에 따라 폐지되었다. 따라서 유권자들은 자신이 거주하는 지역의 국회 의원 후보에게 투표하는 동시에 자신이 지지하는 정당에도 투표하여 비례 대표를 선출하게 되었다. 이와 더불어 비례 대표 의석수가 기존 100석에서 150석으로 증가되었다.

구분	지역구	비례 대표
	득표율(%)	득표율(%)
A당	40	32
B당	30	28
C당	15	22
D당	10	10
E당	5	8
계	100	100

- ① B당, E당    ② C당, A당    ③ C당, D당
- ④ A당, C당    ⑤ D당, A당

\* 확인 사항  
 ○ 답안지의 해당란에 필요한 내용을 정확히 기입(표기)했는지 확인하십시오.