

제 2 교시

수학 영역

5 지선 다형

1. $\sqrt[3]{8} \times \frac{2^{\sqrt{2}}}{2^{1+\sqrt{2}}}$ 의 값은? [2점]

- ① 1 ② 2 ③ 4 ④ 8 ⑤ 16

$$(2^3)^{\frac{1}{3}} \times 2^{\sqrt{2}-1-\sqrt{2}} = 2^0 = 1$$

2. 함수 $f(x) = 2x^3 - x^2 + 6$ 에 대하여 $f'(1)$ 의 값은? [2점]

- ① 1 ② 2 ③ 3 ④ 4 ⑤ 5

$$f'(x) = 6x^2 - 2x$$

$$\therefore f'(1) = 4$$

3. 등비수열 $\{a_n\}$ 이

$$a_5 = 4, a_7 = 4a_6 - 16$$

을 만족시킬 때, a_8 의 값은? [3점]

- ① 32 ② 34 ③ 36 ④ 38 ⑤ 40

$$4r^5 = 4r^6 - 16 \rightarrow r = 2$$

$$\therefore a_8 = a_5 \times r^3 = 32$$

4. 다항함수 $f(x)$ 가 모든 실수 x 에 대하여

$$\int_1^x f(t) dt = x^3 - ax + 1$$

을 만족시킬 때, $f(2)$ 의 값은? (단, a 는 상수이다.) [3점]

- ① 8 ② 10 ③ 12 ④ 14 ⑤ 16

$$\int_1^x f(t) dt = x^3 - ax + 1$$

$$x=1 \rightarrow a=2$$

$$\frac{d}{dx} \rightarrow f(x) = 3x^2 - 2$$

$$\therefore f(2) = 12 - 2 = 10$$

5. $\cos(\pi+\theta) = \frac{1}{3}$ 이고 $\sin(\pi+\theta) > 0$ 일 때, $\tan\theta$ 의 값은? [3점]

- ① $-2\sqrt{2}$ ② $-\frac{\sqrt{2}}{4}$ ③ 1
 ④ $\frac{\sqrt{2}}{4}$ ⑤ $2\sqrt{2}$

$\cos\theta = -\frac{1}{3}$, $\sin\theta < 0 \rightarrow 3사$
 $\therefore \tan\theta = 2\sqrt{2}$

6. 함수

$$f(x) = \begin{cases} x^2 - ax + 1 & (x < 2) \\ -x + 1 & (x \geq 2) \end{cases}$$

에 대하여 함수 $\{f(x)\}^2$ 이 실수 전체의 집합에서 연속이 되도록 하는 모든 상수 a 의 값의 합은? [3점]

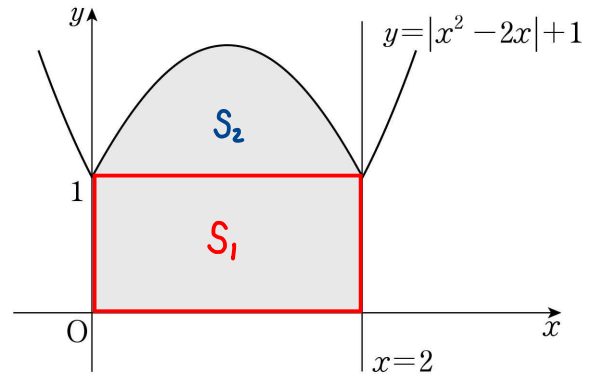
- ① 5 ② 6 ③ 7 ④ 8 ⑤ 9

i) $f(2-) = f(2+)$
 $\Leftrightarrow 5 - 2a = -1 \rightarrow a = 3$

ii) $f(2-) + f(2+) = 0$
 $\Leftrightarrow 5 - 2a - 1 = 0 \rightarrow a = 2$

7. 함수 $y = |x^2 - 2x| + 1$ 의 그래프와 x 축, y 축 및 직선 $x=2$ 로 둘러싸인 부분의 넓이는? [3점]

- ① $\frac{8}{3}$ ② 3 ③ $\frac{10}{3}$ ④ $\frac{11}{3}$ ⑤ 4



$S_1 = 2 \times 1 \rightarrow 2$
 $S_2 = \frac{1}{6} (2)^3 \rightarrow \frac{4}{3}$) $\rightarrow \frac{10}{3}$

8. 두 점 $A(m, m+3)$, $B(m+3, m-3)$ 에 대하여 선분 AB를 2:1로 내분하는 점이 곡선 $y = \log_4(x+8) + m - 3$ 위에 있을 때, 상수 m 의 값은? [3점]

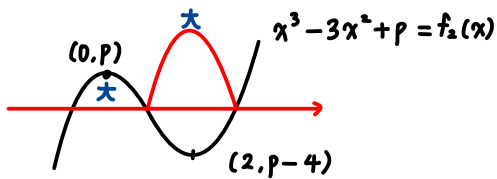
- ① 4 ② $\frac{9}{2}$ ③ 5 ④ $\frac{11}{2}$ ⑤ 6

내분점 P $\rightarrow (m+2, m-1)$

$$\begin{aligned} \therefore m-1 &= \log_4(m+8) + m - 3 \\ \rightarrow m &= 6 \end{aligned}$$

9. 함수 $f(x) = |x^3 - 3x^2 + p|$ 는 $x=a$ 와 $x=b$ 에서 극대이다. $f(a) = f(b)$ 일 때, 실수 p 의 값은? (단, a, b 는 $a \neq b$ 인 상수이다.) [4점]

- ① $\frac{3}{2}$ ② 2 ③ $\frac{5}{2}$ ④ 3 ⑤ $\frac{7}{2}$



$$\begin{aligned} p + p - 4 &= 0 & (\because f_2(0) + f_2(2) = 0) \\ \rightarrow 2p - 4 &= 0 & \therefore p = 2 \end{aligned}$$

10. 공차가 양수인 등차수열 $\{a_n\}$ 이 다음 조건을 만족시킬 때, a_{10} 의 값은? [4점]

(가) $|a_4| + |a_6| = 8$

(나) $\sum_{k=1}^9 a_k = 27$

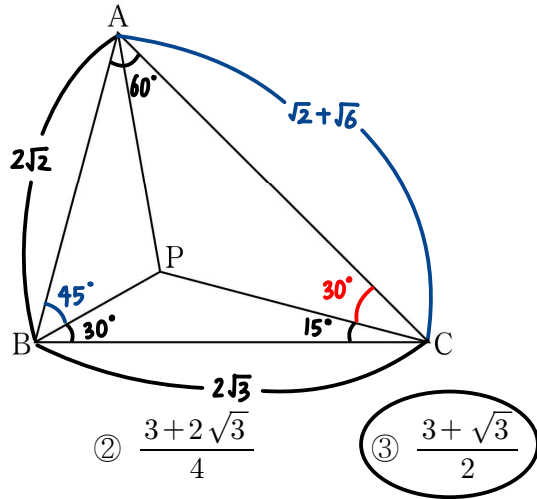
- ① 21 ② 23 ③ 25 ④ 27 ⑤ 29

(가) $\rightarrow a_5 = 0$ or $-a_4 + a_6 = 8$
 $\rightarrow d = 4$

(나) $\rightarrow a_5 = 3$

$$\begin{aligned} \therefore a_{10} &= 3 + 4 \times 5 \\ &= 23 \end{aligned}$$

11. 그림과 같이 $\angle BAC = 60^\circ$, $\overline{AB} = 2\sqrt{2}$, $\overline{BC} = 2\sqrt{3}$ 인 삼각형 ABC가 있다. 삼각형 ABC의 내부의 점 P에 대하여 $\angle PBC = 30^\circ$, $\angle PCB = 15^\circ$ 일 때, 삼각형 APC의 넓이는? [4점]



- ① $\frac{3+\sqrt{3}}{4}$
- ② $\frac{3+2\sqrt{3}}{4}$
- ③ $\frac{3+\sqrt{3}}{2}$
- ④ $\frac{3+2\sqrt{3}}{2}$
- ⑤ $2+\sqrt{3}$

$$\frac{2\sqrt{3}}{\sin \angle BAC} = \frac{2\sqrt{2}}{\sin \angle ACB}$$

$$\rightarrow \angle ACB = 45^\circ$$

$$\overline{AC} = \sqrt{2} + \sqrt{6}$$

$$\overline{PC} = x$$

$$x \cos 15^\circ + x \sin 15^\circ \times \frac{1}{\tan 30^\circ} = 2\sqrt{3}$$

$$\cos 30^\circ = 2 \cos^2 15^\circ - 1 \rightarrow \cos 15^\circ = \frac{1+\sqrt{3}}{2\sqrt{2}}$$

$$\sin 30^\circ = 2 \cos 15^\circ \sin 15^\circ \rightarrow \sin 15^\circ = \frac{-1+\sqrt{3}}{2\sqrt{2}}$$

$$\therefore x = \sqrt{6}$$

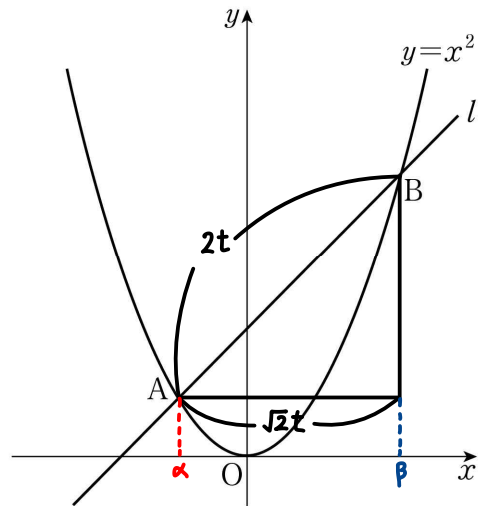
$$\therefore S = \frac{1}{2} \times (\sqrt{2} + \sqrt{6}) \times \sqrt{6} \times \sin 30^\circ$$

$$= \frac{3+\sqrt{3}}{2}$$

12. 곡선 $y = x^2$ 과 기울기가 1인 직선 l 이 서로 다른 두 점 A, B에서 만난다. 양의 실수 t 에 대하여 선분 AB의 길이가 $2t$ 가 되도록 하는 직선 l 의 y 절편을 $g(t)$ 라 할 때,

$\lim_{t \rightarrow \infty} \frac{g(t)}{t^2}$ 의 값은? [4점]

- ① $\frac{1}{16}$
- ② $\frac{1}{8}$
- ③ $\frac{1}{4}$
- ④ $\frac{1}{2}$
- ⑤ 1



$$l: x + g(t)$$

$$x^2 = x + g(t) \rightarrow \alpha + \beta = 1$$

$$\alpha\beta = -g(t)$$

$$\therefore (\beta - \alpha)^2 = (\alpha + \beta)^2 - 4\alpha\beta$$

$$\rightarrow g(t) = \frac{2t^2 - 1}{4}$$

$$\therefore \lim_{t \rightarrow \infty} \frac{g(t)}{t^2} = \frac{1}{2}$$

13. 두 함수

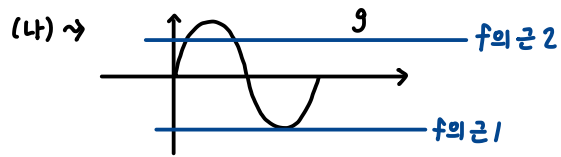
$$f(x) = x^2 + ax + b, \quad g(x) = \sin x$$

가 다음 조건을 만족시킬 때, $f(2)$ 의 값은?
(단, a, b 는 상수이고, $0 \leq a \leq 2$ 이다.) [4점]

(가) $\{g(a\pi)\}^2 = 1$
(나) $0 \leq x \leq 2\pi$ 일 때, 방정식 $f(g(x)) = 0$ 의 모든 해의 합은 $\frac{5}{2}\pi$ 이다.

- ① 3 ② $\frac{7}{2}$ ③ 4 ④ $\frac{9}{2}$ ⑤ 5

(가) $\rightarrow a\pi \rightarrow \frac{\pi}{2}$ or $\frac{3\pi}{2}$



$\therefore f(-1) = 0$, 한 근 at $0 \leq x < 1$

i) $a = \frac{3}{2}$
 $b = \frac{1}{2} \rightarrow 2x^2 + 3x + 1 = 2(x+1)(x + \frac{1}{2})$
모순

ii) $a = \frac{1}{2}$
 $b = -\frac{1}{2} \rightarrow 2x^2 + x - 1 = (x+1)(2x-1)$
ok!

$\therefore f(2) = \frac{9}{2}$ "

14. 세 양수 a, b, k 에 대하여 함수 $f(x)$ 를

$$f(x) = \begin{cases} ax & (x < k) \\ -x^2 + 4bx - 3b^2 & (x \geq k) \end{cases}$$

라 하자. 함수 $f(x)$ 가 실수 전체의 집합에서 미분가능할 때, <보기>에서 옳은 것만을 있는 대로 고른 것은? [4점]

< 보 기 >

ㄱ. $a=1$ 이면 $f'(k)=1$ 이다.
ㄴ. $k=3$ 이면 $a=-6+4\sqrt{3}$ 이다.
ㄷ. $f(k)=f'(k)$ 이면 함수 $y=f(x)$ 의 그래프와 x 축으로 둘러싸인 부분의 넓이는 $\frac{1}{3}$ 이다.

- ① ㄱ ② ㄱ, ㄴ ③ ㄱ, ㄷ
④ ㄴ, ㄷ ⑤ ㄱ, ㄴ, ㄷ

f 미가 $\rightarrow f(k-) = f(k+)$

$\rightarrow ak = -k^2 + 4bk - 3b^2 \dots \textcircled{\ominus}$

$\rightarrow f'(k-) = f'(k+)$

$\rightarrow a = -2k + 4b \dots \textcircled{\ominus}$

ㄱ. $a=1 \quad f'(k)=1 \quad \therefore (\text{ok})$

ㄴ. $k=3 \rightarrow \begin{cases} 3a = -3b^2 + 12b - 9 \dots \textcircled{\ominus} \\ a = 4b - 6 \dots \textcircled{\ominus} \end{cases}$

$\textcircled{\ominus} = 3 \textcircled{\ominus}$

$\rightarrow b = \sqrt{3} \quad \therefore a = 4\sqrt{3} - 6$ "
(ok)

ㄷ. $/// = ///$

$ak = a \rightarrow k = 1$

$\textcircled{\ominus} = k \times \textcircled{\ominus} \rightarrow b = \frac{1}{\sqrt{3}} \quad \therefore a = \frac{4}{\sqrt{3}} - 2$

$\therefore \int_0^1 (\frac{4}{\sqrt{3}} - 2)x dx + \int_1^{\sqrt{3}} (-x^2 + \frac{4}{\sqrt{3}}x - 1) dx$
 $= \frac{1}{3}$ "
(ok)

15. 모든 항이 자연수인 수열 $\{a_n\}$ 이 모든 자연수 n 에 대하여

$$a_{n+2} = \begin{cases} a_{n+1} + a_n & (a_{n+1} + a_n \text{이 홀수인 경우}) \\ \frac{1}{2}(a_{n+1} + a_n) & (a_{n+1} + a_n \text{이 짝수인 경우}) \end{cases}$$

를 만족시킨다. $a_1 = 1$ 일 때, $a_6 = 34$ 가 되도록 하는 모든 a_2 의 값의 합은? [4점]

- ① 60 ② 64 ③ 68 ④ 72 ⑤ 76

$a_1 = 1 \rightarrow a_2$ 홀짝성 \rightarrow 수열 고정

i) $a_2 = 2k$

$$\begin{array}{cccccc} / & 2 & 3 & 4 & 5 & 6 \\ / \rightarrow & 2k & \rightarrow 2k+1 & \rightarrow 4k+1 & \rightarrow 3k+1 & \rightarrow 7k+2 \quad (k:\text{홀}) \\ & & & & & \searrow \frac{7k+2}{2} \quad (k:\text{짝}) \end{array}$$

\Rightarrow 모순

ii) $a_2 = 2k+1$

$$\begin{array}{cccccc} / & 2 & 3 & 4 & 5 & 6 \\ / \rightarrow & 2k+1 & \rightarrow k+1 & \rightarrow 3k+2 & \rightarrow 4k+3 & \rightarrow \frac{7k+5}{2} = 34 \rightarrow k=9 \quad \therefore a_2=19 \\ & & \searrow \frac{3k+2}{2} & \rightarrow 5i+2 & \rightarrow \frac{8i+3}{2} \\ & \swarrow \frac{2i+1}{2} & & \searrow \frac{5i+2}{2} & \rightarrow \frac{11n+2}{2} = 34 \rightarrow n=6 \\ & & \downarrow & & \swarrow \frac{3i+1}{2} & \rightarrow \frac{6n+1}{2} \\ & & & & \downarrow & \rightarrow \frac{5n+1}{2} \\ & & & & & \rightarrow k=24 \quad \therefore a_2=49 \end{array}$$

$\sum a_2 = 68$ //

단 답 형

16. $\log_2 96 - \frac{1}{\log_6 2}$ 의 값을 구하시오. [3점]

$\log_2 \frac{96}{6} = 4$ //

17. 직선 $y = 4x + 5$ 가 곡선 $y = 2x^4 - 4x + k$ 에 접할 때, 상수 k 의 값을 구하시오. [3점]

$$\begin{aligned} -2x^4 + 8x + 5 &= k \\ f(x) & \\ f'(x) &= 0 \quad \therefore k = 11 \end{aligned}$$

18. n 이 자연수일 때, x 에 대한 이차방정식

$$x^2 - 5nx + 4n^2 = 0$$

의 두 근을 α_n, β_n 이라 하자.

$\sum_{n=1}^7 (1 - \alpha_n)(1 - \beta_n)$ 의 값을 구하시오. [3점]

$$\begin{aligned} & \sum_{n=1}^7 (1 - (\alpha_n + \beta_n) + \alpha_n \beta_n) \\ &= \sum_{n=1}^7 (4n^2 - 5n + 1) \\ &= 560 - 140 + 7 \\ &= \underline{427} \text{ ,,} \end{aligned}$$

19. 시각 $t=0$ 일 때 동시에 원점을 출발하여 수직선 위를 움직이는 두 점 P, Q의 시각 $t(t \geq 0)$ 에서의 속도가 각각

$$v_1(t) = 3t^2 - 15t + k, \quad v_2(t) = -3t^2 + 9t$$

이다. 점 P와 점 Q가 출발한 후 한 번만 만날 때, 양수 k 의 값을 구하시오. [3점]

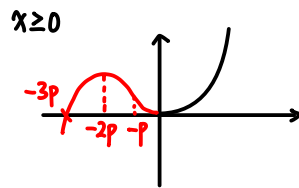
$$\begin{aligned} & \begin{cases} S_1(t) = t^3 - \frac{15}{2}t^2 + kt \\ S_2(t) = -t^3 + \frac{9}{2}t^2 \end{cases} \\ & \underline{-} \\ & \quad 2t^3 - 12t^2 + kt = 0 \\ & \quad t(2t^2 - 12t + k) = 0 \\ & \quad \underline{D=0 \rightarrow k=18} \text{ ,,} \end{aligned}$$

20. 최고차항의 계수가 1이고 $f(0)=1$ 인 삼차함수 $f(x)$ 와 양의 실수 p 에 대하여 함수 $g(x)$ 가 다음 조건을 만족시킨다.

$$\begin{aligned} & \text{(가) } g'(0) = 0 \\ & \text{(나) } g(x) = \begin{cases} f(x-p) - f(-p) & (x < 0) \\ f(x+p) - f(p) & (x \geq 0) \end{cases} \end{aligned}$$

$\int_0^p g(x) dx = 20$ 일 때, $f(5)$ 의 값을 구하시오. [4점]

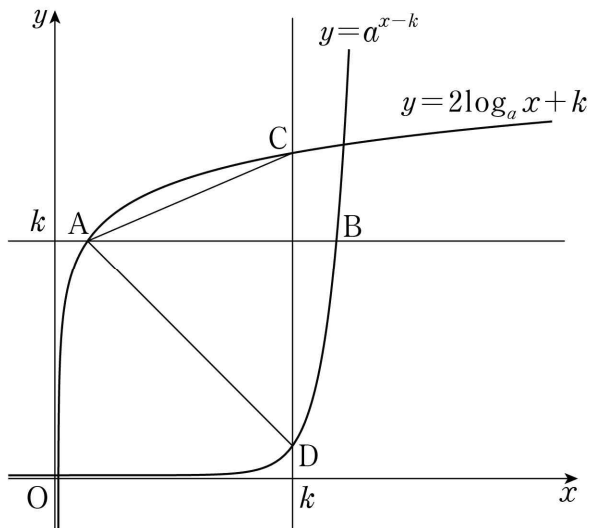
$$\begin{aligned} & \text{(가) } \rightarrow f'(-p) = f'(p) = 0 \\ & \quad \therefore f(x) = 1 + (x)(x^2 - 3p^2) \end{aligned}$$



$$\begin{aligned} \therefore \int_0^p g(x) dx &= \int_0^p (x)^2 (x+3p) dx \\ &= \frac{1}{4} p^4 + p^4 = 20 \\ &\therefore \underline{p=2} \text{ ,,} \end{aligned}$$

$$\begin{aligned} \therefore f(5) &= 1 + 5(25 - 3 \times 2^2) \\ &= \underline{66} \text{ ,,} \end{aligned}$$

21. 그림과 같이 1보다 큰 두 실수 a, k 에 대하여 직선 $y=k$ 가 두 곡선 $y=2\log_a x+k, y=a^{x-k}$ 과 만나는 점을 각각 A, B라고 하고, 직선 $x=k$ 가 두 곡선 $y=2\log_a x+k, y=a^{x-k}$ 과 만나는 점을 각각 C, D라 하자. $\overline{AB} \times \overline{CD} = 85$ 이고 삼각형 CAD의 넓이가 35일 때, $a+k$ 의 값을 구하시오. [4점]



$\log_a k = p$
 $A(1, k) \quad C(k, 2p+k)$
 $B(k+p, k) \quad D(k, 1)$

$\rightarrow (k+p-1)(2p+k-1) = 85$
 $\frac{1}{2}(2p+k-1)(k-1) = 35$
 $\Rightarrow k=8, p=\frac{3}{2}$
 $\therefore A=4$

22. 최고차항의 계수가 1인 사차함수 $f(x)$ 가 있다.

실수 t 에 대하여 함수 $g(x)$ 를 $g(x) = |f(x) - t|$ 라 할 때,

$\lim_{x \rightarrow k} \frac{g(x) - g(k)}{|x - k|}$ 의 값이 존재하는 서로 다른 실수 k 의 개수를

$h(t)$ 라 하자.

함수 $h(t)$ 는 다음 조건을 만족시킨다.

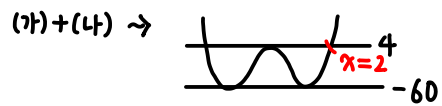
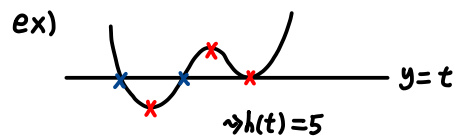
(가) $\lim_{t \rightarrow 4^+} h(t) = 5$

(나) 함수 $h(t)$ 는 $t = -60$ 과 $t = 4$ 에서만 불연속이다.

$f(2) = 4$ 이고 $f'(2) > 0$ 일 때, $f(4) + h(4)$ 의 값을 구하시오.

[4점]

$\lim_{x \rightarrow k} \frac{g(x) - g(k)}{|x - k|} = 有 \sim \begin{cases} 0인수 \ 2개 \uparrow \\ or \\ 0인수 \ 1개 \ n \text{ 겹} \end{cases}$



$f(x) = (x-p)^2(x+p)^2$
 $f(0) = 64 \rightarrow p^4 = 64$
 $p = 2\sqrt{2}$
 $\therefore \sqrt{2}p = 4$

$\rightarrow f(x) = 4 + (x-2)(x+2)^2(x+6)$
 $f(4) = 724 \quad h(4) = 5$
 \downarrow
 729

* 확인 사항

- 답안지의 해당란에 필요한 내용을 정확히 기입(표기)했는지 확인하시오.
- 이어서, 「선택과목(확률과 통계)」 문제가 제시되오니, 자신이 선택한 과목인지 확인하시오.

제 2 교시

수학 영역(미적분)

5 지선 다형

23. $\lim_{n \rightarrow \infty} \frac{(2n+1)(3n-1)}{n^2+1}$ 의 값은? [2점]

- ① 3 ② 4 ③ 5 ④ 6 ⑤ 7

$\lim_{n \rightarrow \infty} \frac{6n^2}{n^2} = 6$ //

24. 수열 $\{a_n\}$ 이 모든 자연수 n 에 대하여

$$3^n - 2^n < a_n < 3^n + 2^n$$

을 만족시킬 때, $\lim_{n \rightarrow \infty} \frac{a_n}{3^{n+1} + 2^n}$ 의 값은? [3점]

- ① $\frac{1}{6}$ ② $\frac{1}{3}$ ③ $\frac{1}{2}$ ④ $\frac{2}{3}$ ⑤ $\frac{5}{6}$

$\lim_{n \rightarrow \infty} \frac{3^n}{3^{n+1}} = \frac{1}{3}$

25. 등차수열 $\{a_n\}$ 에 대하여

$$\lim_{n \rightarrow \infty} \frac{a_{2n} - 6n}{a_n + 5} = 4$$

일 때, $a_2 - a_1$ 의 값은? [3점]

- ① -1 ② -2 ③ -3 ④ -4 ⑤ -5

$$a_n = dn$$

$$\lim_{n \rightarrow \infty} \frac{2dn - 6n}{dn} = 4 \rightarrow d = -3$$

26. 두 수열 $\{a_n\}, \{b_n\}$ 에 대하여

$$\lim_{n \rightarrow \infty} (n^2 + 1)a_n = 3, \quad \lim_{n \rightarrow \infty} (4n^2 + 1)(a_n + b_n) = 1$$

일 때, $\lim_{n \rightarrow \infty} (2n^2 + 1)(a_n + 2b_n)$ 의 값은? [3점]

- ① -3 ② $-\frac{7}{2}$ ③ -4 ④ $-\frac{9}{2}$ ⑤ -5

$$a_n = \frac{3}{n^2} \quad b_n = -\frac{11}{4n^2}$$

$$2 \times (3 - \frac{11}{2}) = -\frac{5}{2} \times 2 = -5$$

27. $a_1 = 3, a_2 = -4$ 인 수열 $\{a_n\}$ 과 등차수열 $\{b_n\}$ 이 모든 자연수 n 에 대하여

$$\sum_{k=1}^n \frac{a_k}{b_k} = \frac{6}{n+1}$$

을 만족시킬 때, $\lim_{n \rightarrow \infty} a_n b_n$ 의 값은? [3점]

- ① -54 ② $-\frac{75}{2}$ ③ -24 ④ $-\frac{27}{2}$ ⑤ -6

$$\begin{cases} n=1 \rightarrow \frac{a_1}{b_1} = 3 \rightarrow b_1 = 1 \\ n \geq 2 \rightarrow b_n = -\frac{n(n+1)}{6} a_n \end{cases}$$

$$\therefore b_2 = 4$$

$$\rightarrow b_n = 3n - 2$$

$$\begin{aligned} \therefore \lim_{n \rightarrow \infty} a_n b_n &= \lim_{n \rightarrow \infty} \frac{-6}{n(n+1)} (3n-2)^2 \\ &= \underline{\underline{-54}} \end{aligned}$$

28. $a > 0, a \neq 1$ 인 실수 a 와 자연수 n 에 대하여 직선 $y = n$ 이 y 축과 만나는 점을 A_n , 직선 $y = n$ 이 곡선 $y = \log_a(x-1)$ 과 만나는 점을 B_n 이라 하자. 사각형 $A_n B_n B_{n+1} A_{n+1}$ 의 넓이를 S_n 이라 할 때,

$$\lim_{n \rightarrow \infty} \frac{\overline{B_n B_{n+1}}}{S_n} = \frac{3}{2a+2}$$

을 만족시키는 모든 a 의 값의 합은? [4점]

- ① 2 ② $\frac{9}{4}$ ③ $\frac{5}{2}$ ④ $\frac{11}{4}$ ⑤ 3

$$S_n = \frac{1}{2} (1) (a^{n+1} + a^n + 2)$$

$$B_n B_{n+1} = \sqrt{(a^{n+1} - a^n)^2 + 1^2}$$

$$i) a > 1 \rightarrow \lim_{n \rightarrow \infty} \frac{B_n B_{n+1}}{S_n} = \frac{\sqrt{(a-1)^2 a^{2n}}}{\frac{1}{2}(a+1)a^n} = \frac{a-1}{\frac{1}{2}(a+1)}$$

$$\rightarrow \frac{1}{2} = a$$

$$ii) 0 < a < 1 \rightarrow \frac{1}{\frac{1}{2}(2)} = \frac{3}{2(a+1)}$$

$$\rightarrow a = \frac{1}{2}$$

$$\underline{\underline{\sum a = \frac{9}{4}}}$$

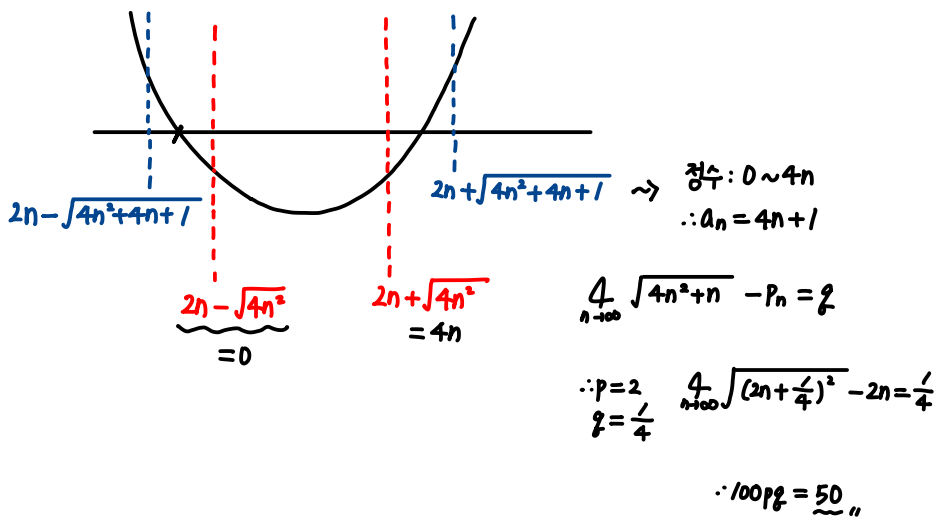
단답형

29. 자연수 n 에 대하여 x 에 대한 부등식 $x^2 - 4nx - n < 0$ 을 만족시키는 정수 x 의 개수를 a_n 이라 하자. 두 상수 p, q 에 대하여

$$\lim_{n \rightarrow \infty} (\sqrt{na_n} - pn) = q$$

일 때, $100pq$ 의 값을 구하시오. [4점]

$$x^2 - 4nx - n = 0 \rightarrow x = 2n \pm \sqrt{4n^2 + 4n}$$



30. 함수

$$f(x) = \lim_{n \rightarrow \infty} \frac{x^{2n+1} - x}{x^{2n} + 1}$$

에 대하여 실수 전체의 집합에서 정의된 함수 $g(x)$ 가 다음 조건을 만족시킨다.

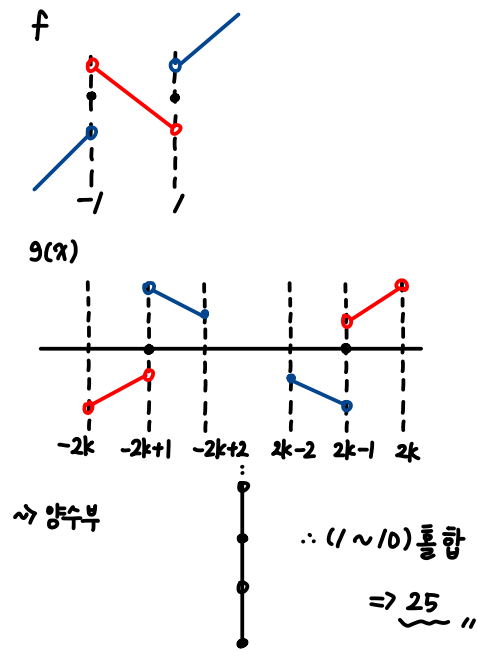
$2k - 2 \leq |x| < 2k$ 일 때,

$$g(x) = (2k - 1) \times f\left(\frac{x}{2k - 1}\right)$$

이다. (단, k 는 자연수이다.)

$0 < t < 10$ 인 실수 t 에 대하여 직선 $y = t$ 가 함수 $y = g(x)$ 의 그래프와 만나지 않도록 하는 모든 t 의 값의 합을 구하시오.

[4점]



* 확인 사항

- 답안지의 해당란에 필요한 내용을 정확히 기입(표기)했는지 확인하시오.
- 이어서, 「선택과목(기하)」 문제가 제시되오니, 자신이 선택한 과목인지 확인하시오.