

수학 영역 해설지

Epsilon

정답 및 해설

1) [정답] ④ (출제자 : 20 최연조)

[출제의도] 지수법칙을 이용하여 간단한 계산을 할 수 있는가?

[해설]

지수법칙에 의해 $3^{\sqrt{6}} \times 3^{2-\sqrt{6}} = 3^{\sqrt{6}+2-\sqrt{6}} = 3^2 = 9$ 이므로
구하고자 하는 값은 9이다.

2) [정답] ③ (출제자 : 20 김태희)

[출제의도] 간단한 정적분의 값을 구할 수 있는가?

[해설]

$$\begin{aligned} \int_{-3}^3 (x^2 + 6x + 7) dx &= \int_{-3}^3 (x^2 + 7) dx \\ &= 2 \int_0^3 (x^2 + 7) dx \\ &= 2 \times \left[\frac{1}{3}x^3 + 7x \right]_0^3 \\ &= 60 \end{aligned}$$

3) [정답] ① (출제자 : 21 김민성)

[출제의도] 로그함수의 점근선과 지수함수의 교점을 구할 수 있는가?

[해설]

곡선 $y = \log_2(x-3)$ 의 점근선의 방정식은 $x = 3$ 이다.
함수 $y = 3^{x-2} + 1$ 에 $x = 3$ 을 대입하면 y 좌표는 4이다.

4) [정답] ④ (출제자 : 20 송문주)

[출제의도] 간단한 부정형 함수의 극한값을 구할 수 있는가?

[해설]

$$\begin{aligned} \lim_{x \rightarrow 0^+} f(x) = 2 \text{ 이고 } \lim_{x \rightarrow -1^-} f(x) = 0 \text{ 이므로} \\ \lim_{x \rightarrow 0^+} f(x) + \lim_{x \rightarrow -1^-} f(x) = 2 + 0 = 2 \text{ 이다.} \end{aligned}$$

5) [정답] ③ (출제자 : 21 김서원)

[출제의도] 부정적분을 이용하여 함수값을 구할 수 있는가?

[해설]

$f'(x) = 12x^2 - 6$ 의 양변을 적분하면
 $f(x) = 4x^3 - 6x + C_1$ (C_1 은 적분상수)이다.
여기서 한 번 더 양변을 적분하면

$F(x) = x^4 - 3x^2 + C_1x + C_2$ (C_2 는 적분상수)이다.

$F(1) = -5$ 이고 $F(2) = 6$ 이므로

$1 - 3 + C_1 + C_2 = -5$, $16 - 12 + 2C_1 + C_2 = 6$ 이다.

두 식을 연립하면 $C_1 = 5$, $C_2 = -8$ 이다.

$f(x) = 4x^3 - 6x + 5$ 이므로

$f(1) = 3$ 이다.

[별해]

$f'(x) = 12x^2 - 6$ 의 양변을 적분하면

$f(x) = 4x^3 - 6x + C$ (C 는 적분상수)이다.

$$\int_1^2 f(x) dx = F(2) - F(1) = 11 \text{ 이므로 } C = 5 \text{ 이다.}$$

$f(x) = 4x^3 - 6x + 5$ 이므로 $f(1) = 3$ 이다.

6) [정답] ① (출제자 : 20 김동해)

[출제의도] 함수의 연속과 미분가능성을 이용하여 함수값을 구할 수 있는가?

[해설]

$f(1) = 0$ 이므로 $1 + c = 0$, $c = -1$ 이다.

함수 $f(x)$ 가 실수 전체의 집합에서 미분가능하므로

함수 $f(x)$ 는 실수 전체의 집합에서 연속이다.

함수 $f(x)$ 가 $x = 1$ 에서 연속이므로

$$\lim_{x \rightarrow 1^-} f(x) = f(1) \text{ 이다.}$$

$f(1) = 0$, $\lim_{x \rightarrow 1^-} f(x) = a + b$ 이므로 $a + b = 0$ 이다.

함수 $f(x)$ 는 $x = 1$ 에서 미분가능하므로

$$\lim_{x \rightarrow 1^+} \frac{f(x) - f(1)}{x - 1} = \lim_{x \rightarrow 1^-} \frac{f(x) - f(1)}{x - 1} \text{ 이다.}$$

$$\lim_{x \rightarrow 1^+} \frac{f(x) - f(1)}{x - 1} = \lim_{x \rightarrow 1^+} \frac{x^2 - x}{x - 1} = \lim_{x \rightarrow 1^+} x = 1,$$

$$\lim_{x \rightarrow 1^-} \frac{f(x) - f(1)}{x - 1} = \lim_{x \rightarrow 1^-} \frac{ax - a}{x - 1} = a \text{ 이므로 } a = 1, b = -1 \text{ 이다.}$$

따라서 $f(-1) = -a + b = -2$ 이다.

7) [정답] ③ (출제자 : 20 김동해)

[출제의도] 주어진 조건을 만족하는 등비수열의 공비를 구할 수 있는가?

[해설]

등비수열 $\{a_n\}$ 의 첫째항을 a 라 하자.

공비가 r 이므로 $a_n = ar^{n-1}$ 이다.

등비수열 $\{b_n\}$ 의 공비가 6 이므로

$b_n = 3^n \times a_n = 3^n \times ar^{n-1} = 3a \times (3r)^{n-1}$ 이다.

그러므로 $r = 2$ 이다.

$a_2 + a_4 = ar + ar^3 = 2a + 8a = 5$ 이므로 $a = \frac{1}{2}$ 이다.

그러므로 등비수열 $\{b_n\}$ 의 일반항은 $b_n = \frac{3}{2} \times 6^{n-1}$ 이고

$b_2 = 9$ 이다.

따라서 $r + b_2 = 11$ 이다.

8) [정답] ④ (출제자 : 20 이도윤)

[출제의도] 미분계수와 접선의 방정식을 이용하여 함숫값을 구할 수 있는가?

[해설]

곡선 $y = f(x)$ 가 점 A(1, 4)를 지나므로 $f(1) = a + b = 4$ 이다.

이 때, $b = -a + 4$ 이므로 $f(x) = x^3 - x^2 + ax - a + 4$ 이다.

$f'(x) = 3x^2 - 2x + a$ 이고, $f'(1) = a + 1$ 이므로 점 (1, 4)에서의

접선의 방정식은 $y = (a + 1)(x - 1) + 4 = (a + 1)x - a + 3$ 이다.

함수 $f(x)$ 의 그래프와 위 접선의 교점의 x 좌표는

$x^3 - x^2 + ax - a + 4 = (a + 1)x - a + 3$ 에서

$x^3 - x^2 - x + 1 = 0$, $x = -1$ 또는 $x = 1$ 이다.

이때, 점 A의 x 좌표가 1 이므로, 점 B의 x 좌표는 -1 이다.

점 B에서의 접선의 기울기가 6 이므로

$f'(-1) = 3 + 2 + a = 6$, $a = 1$ 이다.

따라서 $f(x) = x^3 - x^2 + x + 3$ 이고 $f(2) = 9$ 이다.

[별해]

곡선 $y = f(x)$ 의 점 A에서의 접선의 방정식을 $y = g(x)$ 라 하면

$f(x) - g(x) = (x - 1)^2(x - c)$ (c 는 상수)

이 때 $g(x)$ 는 일차 이하의 다항함수이므로,

$f(x) - g(x)$ 의 이차항의 계수는 $f(x)$ 와 동일한 -1 이다.

$(x - 1)^2(x - c)$ 에서 이차항의 계수는 $-2 - c$ 이므로

$-2 - c = -1$, $c = -1$

즉, 점 B의 x 좌표는 -1 이다.

(이하 생략)

9) [정답] ② (출제자 : 20 이선우)

[출제의도] 미분계수의 정의를 이용하여 문제를 해결할 수 있는가?

[해설]

조건 (가)에서 $x \rightarrow a$ 일 때, (분모) $\rightarrow 0$ 이므로 (분자) $\rightarrow 0$ 이다.

즉, $f(a) + g(a) = 0 \dots \textcircled{1}$

$$\lim_{x \rightarrow a} \frac{f(x) + g(x)}{x - a} = \lim_{x \rightarrow a} \frac{\{f(x) - f(a)\} + \{g(x) - g(a)\}}{x - a} = 4$$

즉, $f'(a) + g'(a) = 4 \dots \textcircled{2}$

조건 (나)에서 $x \rightarrow a$ 일 때, (분모) $\rightarrow 0$ 이므로 (분자) $\rightarrow 0$ 이다.

즉, $f(a) - g(a) - 2f(2) = 0 \dots \textcircled{3}$

$\textcircled{1}$ 과 $\textcircled{3}$ 에서 $2f(a) - 2f(2) = 0$, $f(a) = f(2)$ 이다.

이때, 모든 실수 x 에 대하여 $f'(x) > 0$ 이므로

함수 $f(x)$ 는 일대일대응이다.

그러므로 $a = 2$ 이다.

$$\lim_{x \rightarrow 2} \frac{f(x) - g(x) - 2f(2)}{x - 2}$$

$$= \lim_{x \rightarrow 2} \frac{\{f(x) - f(2)\} - \{g(x) - g(2)\}}{x - 2} = 6$$

즉, $f'(2) - g'(2) = 6 \dots \textcircled{4}$

$\textcircled{1}$ 과 $\textcircled{4}$ 에서 $f'(2) = 5$, $g'(2) = -1$ 이다.

따라서 $a \times f'(a) \times g'(a) = 2 \times 5 \times (-1) = -10$ 이다.

10) [정답] ② (출제자 : 21 서연수)

[출제의도] 속도를 통해 움직인 거리를 구할 수 있는가?

[해설]

시각 t 에서의 점 P의 위치를 $x_1(t)$ 라 하면

$$\begin{aligned} x_1(t) &= \int (3t^2 - 16t + 10) dt \\ &= t^3 - 8t^2 + 10t + C_1 \quad (C_1 \text{은 적분상수}) \text{이고,} \end{aligned}$$

시각 t 에서의 점 Q의 위치를 $x_2(t)$ 라 하면

$$x_2(t) = \int (2t + 16) dt = t^2 + 16t + C_2 \quad (C_2 \text{는 적분상수}) \text{이다.}$$

시각 t 에서 수직선 위를 움직이는 점 R의 위치를 $x_3(t)$ 라 하면

$$\begin{aligned} x_3(t) &= \frac{2x_1(t) + x_2(t)}{1 + 2} \\ &= \frac{2(t^3 - 8t^2 + 10t + C_1) + (t^2 + 16t + C_2)}{3} \\ &= \frac{2}{3}t^3 - 5t^2 + 12t + C_3 \quad (C_3 \text{은 상수}) \text{이다.} \end{aligned}$$

시각 t 에서의 점 R의 속도를 $v_3(t)$ 라 하면

$$v_3(t) = 2t^2 - 10t + 12 = 2(t - 2)(t - 3) \text{ 이므로}$$

점 R는 $t = 2$ 일 때와 $t = 3$ 일 때 움직이는 방향이 바뀐다.

$v_3(t) = 2(t - 2)(t - 3)$ 이므로 닫힌구간 $[0, 2]$ 에서 $v_3(t) \geq 0$ 이고,

닫힌구간 $[2, 3]$ 에서 $v_3(t) \leq 0$ 이다.

따라서 점 R가 움직이는 방향이 두 번 바뀔 때까지 움직인 거리는

$$\begin{aligned} \int_0^3 |v_3(t)| dt &= \int_0^2 |2t^2 - 10t + 12| dt \\ &= \int_0^2 (2t^2 - 10t + 12) dt + \int_2^3 (-2t^2 + 10t - 12) dt \\ &= \left[\frac{2}{3}t^3 - 5t^2 + 12t \right]_0^2 + \left[-\frac{2}{3}t^3 + 5t^2 - 12t \right]_2^3 \\ &= \frac{28}{3} + \frac{1}{3} = \frac{29}{3} \text{ 이다.} \end{aligned}$$

11) [정답] ⑤ (출제자 : 20 김동해)

[출제의도] 삼각함수의 그래프의 성질을 이용하여 주어진 값을 구할 수 있는가?

[해설]

함수 $y = |a \sin(bx - c) + 1|$ 의 그래프에서

$-2 \leq a \sin(bx - c) + 1 \leq 4$ 이므로 $-3 \leq a \sin(bx - c) \leq 3$ 이다.

그러므로 $a = 3$ 또는 $a = -3$ 이다.

또한, 함수 $y = a \sin(bx - c) + 1$ 의 주기가 $\frac{2\pi}{|b|} = \pi$ 이므로

$b = 2$ 또는 $b = -2$ 이다.

그림에서 함수 $y = |a \sin(bx - c) + 1|$ 의 그래프는

$x = \frac{\pi}{2}$ 에서 함숫값 4를 갖는다.

$-2 \leq a \sin(bx - c) + 1 \leq 4$ 이므로

수학 영역

함수 $y = a \sin(bx - c) + 1$ 는 $x = \frac{\pi}{2}$ 에서 함숫값 -4 를 가질 수 없다.
따라서 함수 $y = a \sin(bx - c) + 1$ 의 그래프는 점 $(\frac{\pi}{2}, 4)$ 를 지난다.

한편 $0 < c < 2\pi$ 이므로 abc 가 최대인 상황은 $ab > 0$ 인 경우이므로 다음과 같이 경우를 나누자.

i) $a = 3, b = 2$ 인 경우

함수 $y = 3 \sin(2x - c) + 1$ 이 점 $(\frac{\pi}{2}, 4)$ 를 지나므로
 $3 \sin(\pi - c) + 1 = 4$ 에서 $\sin c = 1$ 이다.

이를 만족시키는 c 의 값은 $\frac{\pi}{2}$ 이다. ($\because 0 < c < 2\pi$)

이 경우 $abc = 3 \times 2 \times \frac{\pi}{2} = 3\pi$ 이다.

ii) $a = -3, b = -2$ 인 경우

함수 $y = -3 \sin(-2x - c) + 1$ 이 점 $(\frac{\pi}{2}, 4)$ 를 지나므로
 $-3 \sin(-\pi - c) + 1 = 4$ 에서 $\sin(c) = -1$ 이다.

이를 만족시키는 c 의 값은 $\frac{3}{2}\pi$ 이다. ($\because 0 < c < 2\pi$)

이 경우 $abc = (-3) \times (-2) \times \frac{3}{2}\pi = 9\pi$ 이다.

위의 i), ii)에 의하여 abc 의 최댓값은 9π 이다.

12) [정답] ④ (출제자 : 20 최인환)

[출제의도] 함수의 특징을 파악하여 등차수열의 일반항을 구할 수 있는가?

[해설]

모든 자연수 n 에 대하여 점 Q_n 의 좌표를 $(a_n, 2(a_n)^2)$ 이라 하면
직선 OQ_n 의 기울기는 $2a_n$ 이므로 점 Q_n 을 지나면서

직선 OQ_n 과 수직인 직선의 기울기는 $-\frac{1}{2a_n}$ 이다.

따라서 직선 l 의 방정식은 $y = -\frac{1}{2a_n}(x - a_n) + 2(a_n)^2$ 이다.

직선 l 이 y 축과 만나는 점이 P_{n+1} 이므로 점 P_{n+1} 의 좌표는

$(0, 2(a_n)^2 + \frac{1}{2})$ 임을 알 수 있다.

즉, 삼각형 $P_{n+1}Q_nQ_{n+1}$ 의 밑변의 길이는 $\overline{P_{n+1}Q_{n+1}}$ 이고
높이는 점 Q_{n+1} 과 점 Q_n 의 y 좌표의 차이 $2(a_{n+1})^2 - 2(a_n)^2$ 이므로
넓이는 $\frac{1}{2} \times \overline{P_{n+1}Q_{n+1}} \times 2\{(a_{n+1})^2 - (a_n)^2\}$ 이다.

이때 점 Q_{n+1} 의 y 좌표는 점 P_{n+1} 의 y 좌표와 같으므로

$2(a_{n+1})^2 = 2(a_n)^2 + \frac{1}{2}$ 이다.

그러므로 $A_n = \frac{1}{2} \times a_{n+1} \times \frac{1}{2} = \frac{a_{n+1}}{4}$ 이다.

점 Q_n 의 좌표는 $(a_n, 2(a_n)^2)$ 이고 y 축과 직선 P_nQ_n 은 수직이므로
점 P_n 의 좌표는 $(0, 2(a_n)^2)$ 이다.

점 Q_{n+1} 의 x 좌표는 a_{n+1} 이므로 $B_n = (a_n)^2 a_{n+1}$ 이다.

그러므로 $\frac{B_n}{A_n} = 4 \times (a_n)^2$ 이다.

이때, 수열 $\{(a_n)^2\}$ 은 식 $2(a_{n+1})^2 = 2(a_n)^2 + \frac{1}{2}$ 에서

첫째항이 $(a_1)^2 = \frac{1}{4} \times \frac{B_1}{A_1} = \frac{3}{8}$ 이고 공차가 $\frac{1}{4}$ 인 등차수열이므로

$(a_n)^2 = \frac{n-1}{4} + (a_1)^2 = \frac{2n+1}{8}$ 이다.

따라서 $\frac{B_n}{A_n} = \frac{2n+1}{2}$ 이다.

$p = 4, f(n) = \frac{2n+1}{2}$ 이므로 $p \times f(4) = 4 \times \frac{8+1}{2} = 18$

13) [정답] ② (출제자 : 21 서연수)

[출제의도] 주어진 조건을 이용하여 삼차함수의 개형을 추론할 수 있는가?

[해설]

삼차함수 $f(x)$ 의 최고차항의 계수를 a 라 하자. (단, $a \neq 0$)

삼차함수 $f(x)$ 의 일차항의 계수가 0 이므로

함수 $f(x)$ 의 도함수 $f'(x)$ 의 상수항이 0 이다.

즉, $f'(0) = 0$ 이다.

이때, 조건 (가)에 의해 함수 $f(x)$ 는 극값을 가지므로

함수 $f(x)$ 는 $x = 0$ 에서 극값을 갖는다.

조건 (가)에서 함수 $f(x)$ 의 그래프는 직선 $y = f(-1)$ 에 접해야 한다.

이때, 조건 (나)에 의해 $f'(-1) \neq 0$ 이므로 함수 $f(x)$ 는 $x = -1$ 에서
극값을 갖지 않고 극값 중 하나는 $f(-1)$ 과 같다.

함수 $f(x)$ 의 극값이 $f(-1)$ 과 같으려면

$a > 0$ 일 때, 함수 $f(x)$ 는 $x = -1$ 근방에서 증가하고

$a < 0$ 일 때, 함수 $f(x)$ 는 $x = -1$ 근방에서 감소해야 한다.

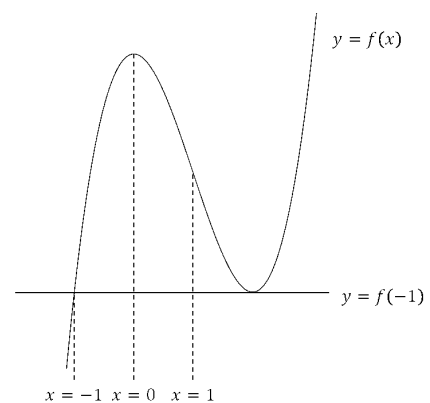
따라서 조건 (나)에 의해

$a > 0$ 일 때, 함수 $f(x)$ 는 $x = 1$ 근방에서 감소하고

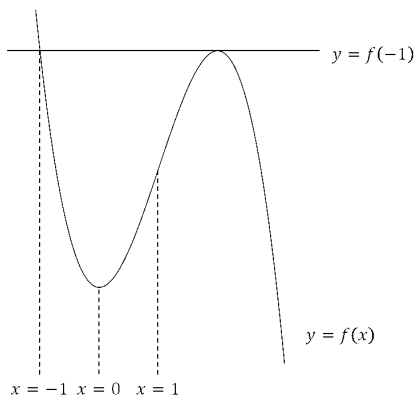
$a < 0$ 일 때, 함수 $f(x)$ 는 $x = 1$ 근방에서 증가해야 한다.

이를 만족시키는 함수 $f(x)$ 의 개형은 다음과 같다.

i) $a > 0$ 일 때



ii) $a < 0$ 일 때



함수 $f(x)$ 와 직선 $y=f(-1)$ 의 접점의 x 좌표를 $k(k > 1)$ 라 하면 $f(x) = a(x+1)(x-k)^2 + f(-1)$ 이라 할 수 있다.

함수 $f(x)$ 의 일차항의 계수가 0이므로 일차항의 계수만 보면 $a(k^2 - 2k) = 0$ 이다.
 $a \neq 0, k > 1$ 이므로 $k = 2$ 이다.

$f(x) = a(x+1)(x-2)^2 + f(-1)$ 에서
 $f(-1) = f(2)$ 이므로 $f(-1)f(2) = \{f(2)\}^2 = \{f(1)\}^2$ 이다.
 이때, $f(1) \neq f(2)$ 이므로 $f(1) = -f(2)$ 이다.

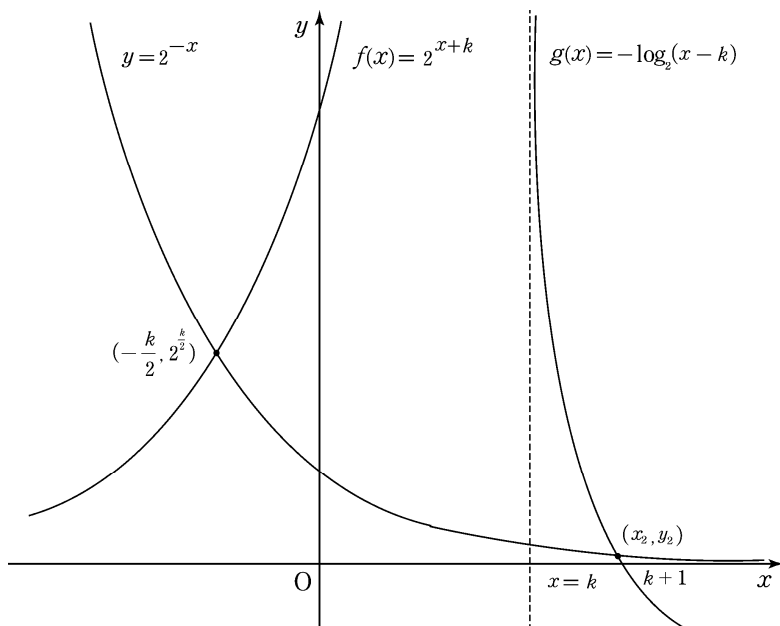
앞서 구한 $f(x)$ 에 $x=1$ 을 대입하여 비교하면
 $f(1) = 2a + f(-1) = 2a + f(2) = -f(2)$ 이다.
 그러므로 $f(2) = -a, f(x) = a(x+1)(x-2)^2 - a$ 이다.

따라서 $\frac{f(-2)}{f(2)} = \frac{-17a}{-a} = 17$ 이다.

14) [정답] ⑤ (출제자 : 21 박창수)

[출제의도] 지수함수와 로그함수 그래프의 성질을 이용하여 명제의 참, 거짓을 판단할 수 있는가?

[해설]



ㄱ. x_2 의 값은 곡선 $g(x)$ 의 점근선이 x 축과 만나는 점의 x 좌표인 k 보다 크고, 곡선 $y=g(x)$ 가 x 축과 만나는 점의 x 좌표인 $k+1$ 보다 작으므로 $k < x_2 < k+1$ 이다. (참)

ㄴ. $k \geq 2$ 일 때 $2^{-k} \leq 2^{-2}$ 이고 $k < x_2$ 이므로 $2^{-x_2} < 2^{-k}$ 이다.
 $y_2 = 2^{-x_2}$ 이므로 $y_2 < 2^{-k} \leq \frac{1}{4}$ 이다. (참)

ㄷ. 두 곡선 $y=2^{-x}$ 와 $y=2^{x+k}$ 에 대하여 방정식 $2^{-x} = 2^{x+k}$ 의 실근은 $x = -\frac{k}{2}$ 이므로 $x_1 = -\frac{k}{2}$ 이고 $y_1 = 2^{\frac{k}{2}}$ 이다.

또한, ㄱ과 ㄴ에서 $x_2 < k+1$ 이고 $y_2 < \frac{1}{4}$ 이므로

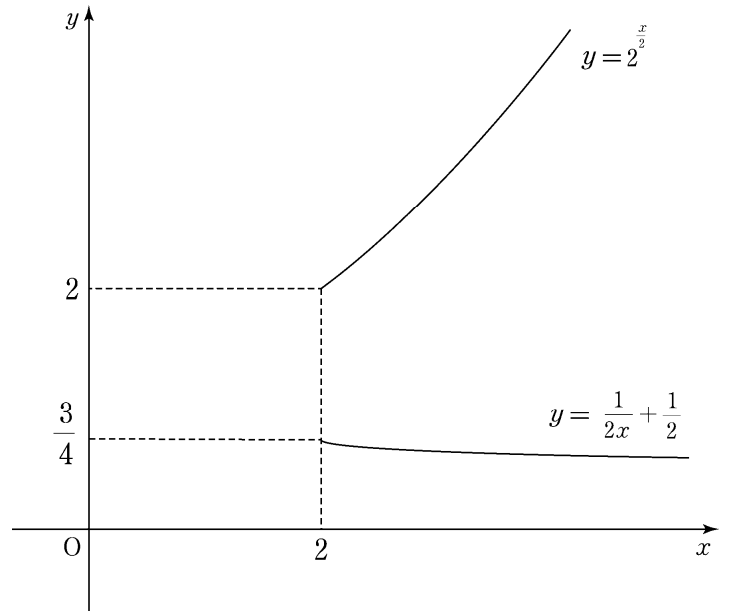
$x_2 y_2 < \frac{1}{4}(k+1)$ ($\because x_2 > 0, y_2 > 0$)이고

$x_1 y_1 + x_2 y_2 < \left(-\frac{k}{2}\right) \times 2^{\frac{k}{2}} + \frac{1}{4}(k+1)$ 이다.

위 부등식에서 우변 $\left(-\frac{k}{2}\right) \times 2^{\frac{k}{2}} + \frac{1}{4}(k+1)$ 의 범위를 살펴보자.

$\frac{k+1}{4} - \frac{k}{2} \times 2^{\frac{k}{2}} = \frac{k}{2} \left(\frac{k+1}{2k} - 2^{\frac{k}{2}}\right)$ 에서 $x \geq 2$ 일 때,

두 곡선 $y=2^{\frac{x}{2}}$ 와 $y=\frac{x+1}{2x} = \frac{1}{2x} + \frac{1}{2}$ 의 그래프는 다음과 같다.



$x \geq 2$ 일 때, $\frac{1}{2x} + \frac{1}{2} < 2^{\frac{x}{2}}$ 이므로 양변에 $\frac{x}{2}$ 를 곱하면

$\frac{1}{4}(x+1) < \frac{x}{2} \times 2^{\frac{x}{2}}$ 이다.

따라서 $k \geq 2$ 일 때, $\frac{1}{4}(k+1) < \frac{k}{2} \times 2^{\frac{k}{2}}$ 이고

$\left(-\frac{k}{2}\right) \times 2^{\frac{k}{2}} + \frac{1}{4}(k+1) < 0$ 이다.

따라서 $k \geq 2$ 일 때

$x_1 y_1 + x_2 y_2 < \left(-\frac{k}{2}\right) \times 2^{\frac{k}{2}} + \frac{1}{4}(k+1) < 0$ 이다. (참)

15) [정답] ① (출제자 : 20 최인환, 19 황주영)

[출제의도] 정적분의 기하적 의미를 이용하여 삼차함수의 값을 찾아낼 수 있는가?

[해설]

조건 (가)에 의해 $f(x) = x(x-k)(x-\alpha) + f(0)$ 이다.

조건 (나)의 식을 계산하면

$$\int_0^k f(t) dt = \int_0^k \{t^3 - (\alpha+k)t^2 + kat + f(0)\} dt$$

$$\begin{aligned}
 &= \left[\frac{t^4}{4} - \frac{(\alpha+k)t^3}{3} + \frac{k\alpha t^2}{2} + f(0)t \right]_0^k \\
 &= \frac{k^4}{4} - \frac{(\alpha+k)k^3}{3} + \frac{\alpha k^3}{2} + kf(0) \\
 &= kf(0) \text{ 이다.}
 \end{aligned}$$

$$\frac{k^4}{4} - \frac{(\alpha+k)k^3}{3} + \frac{\alpha k^3}{2} = 0 \text{ 에서 } \alpha = \frac{k}{2} \text{ 이므로}$$

$$f(x) = x\left(x - \frac{k}{2}\right)(x - k) + f(0) \text{ 이다.}$$

주어진 관계식 $g(x) = \int_0^x (x-t)f(t)dt - x^2$ 의
 양변을 x 에 대하여 미분하면

$$\begin{aligned}
 g'(x) &= xf(x) + \int_0^x f(t)dt - xf(x) - 2x \\
 &= \int_0^x f(t)dt - 2x \text{ 이다.}
 \end{aligned}$$

이때, 함수 $g'(x)$ 는 최고차항의 계수가 양수인 사차함수이므로
 $g'(x)$ 의 부호가 양수에서 음수로 바뀌는 구간이 존재하면
 $g'(x)$ 의 부호가 음수에서 양수로 바뀌는 구간이 반드시 존재한다.
 따라서 함수 $g(x)$ 가 극값을 갖지 않으려면
 실수 전체의 집합에서 $g'(x) \geq 0$ 이어야 한다.

$$g'(x) = \int_0^x f(t)dt - 2x \geq 0 \text{ 에서}$$

함수 $h(x)$ 를 $h(x) = \int_0^x f(t)dt$ 라 하면 $h(x) \geq 2x$ 이다.

이때, $h(0) = 0$ 에서 곡선 $y = h(x)$ 와 직선 $y = 2x$ 가 원점에서 만나므로
 실수 전체의 집합에서 $h(x) \geq 2x$ 이려면 $h'(0) = 2$ 이어야 한다.

즉, $f(0) = 2$ 이므로 $f(x) = x\left(x - \frac{k}{2}\right)(x - k) + 2$ 이다.

따라서 $f(1) = \left(1 - \frac{k}{2}\right)(1 - k) + 2 = \frac{1}{2}\left(k - \frac{3}{2}\right)^2 + \frac{15}{8}$ 이므로
 $f(1)$ 의 최솟값은 $\frac{15}{8}$ 이다.

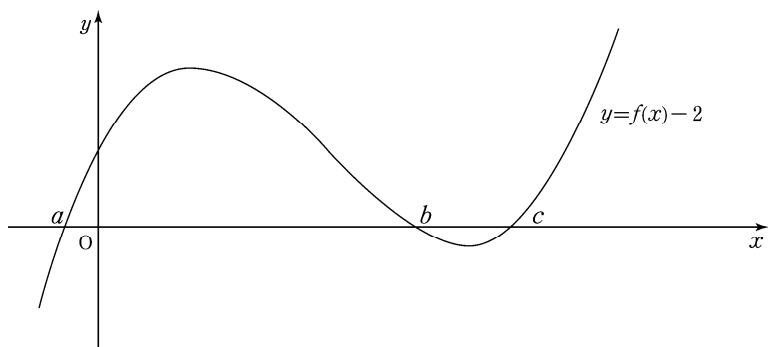
[별해]

$$\begin{aligned}
 g'(x) &= \int_0^x f(t)dt - 2x = \int_0^x f(t)dt - \int_0^x 2dt \\
 &= \int_0^x \{f(t) - 2\}dt \text{ 로 나타낼 수 있다.}
 \end{aligned}$$

함수 $g(x)$ 가 극솟값을 가지지 않으려면

x 값이 증가할 때 $g'(x) = \int_0^x \{f(t) - 2\}dt$ 의 부호가 음수에서 양수로
 바뀌는 구간이 없어야 하므로 $f(0)$ 의 값에 따라 경우를 나누면
 다음과 같다.

i) $f(0) - 2 > 0$ 일 때

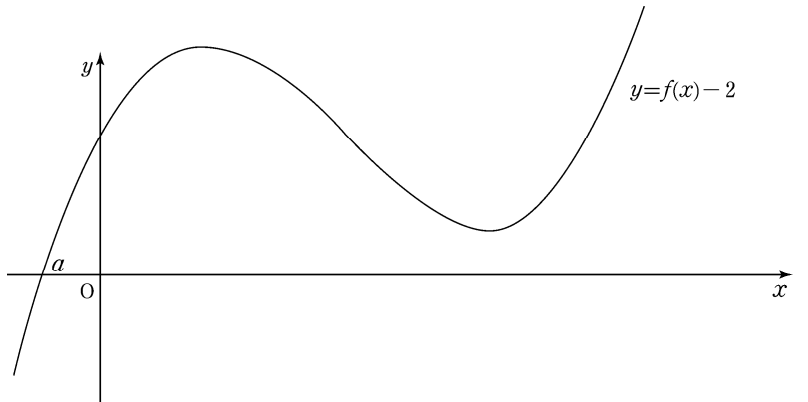


$f(x) - 2 = 0$ 의 실근을 순서대로 a, b, c 라 하자.

$$a < x < 0 \text{ 에서 } g'(x) = \int_0^x \{f(t) - 2\}dt < 0,$$

$$x \geq 0 \text{ 에서 } g'(x) = \int_0^x \{f(t) - 2\}dt \geq 0 \text{ 이므로}$$

함수 $g(x)$ 는 항상 극솟값을 갖는다.



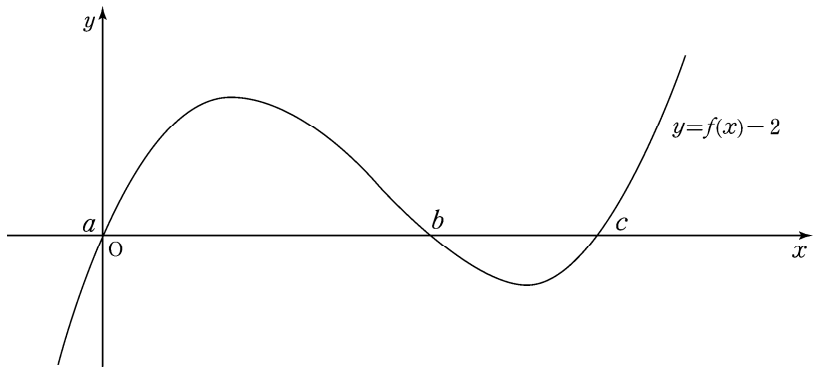
$f(x) - 2 = 0$ 의 실근을 a 라 하자.

$$a < x < 0 \text{ 에서 } g'(x) = \int_0^x \{f(t) - 2\}dt < 0,$$

$$x \geq 0 \text{ 에서 } g'(x) = \int_0^x \{f(t) - 2\}dt \geq 0 \text{ 이므로}$$

함수 $g(x)$ 는 항상 극솟값을 갖는다.

ii) $f(0) - 2 = 0$ 일 때



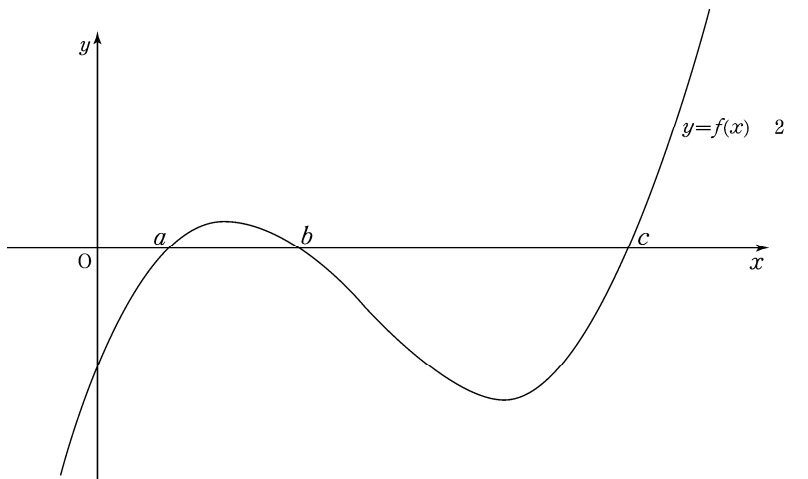
$f(x) - 2 = 0$ 의 실근을 순서대로 a, b, c 라 하자.

$$x = a, x = c \text{ 에서 } g'(x) = \int_0^x \{f(t) - 2\}dt = 0,$$

$$x < a, a < x < c, x > c \text{ 에서 } g'(x) = \int_0^x \{f(t) - 2\}dt > 0 \text{ 이므로}$$

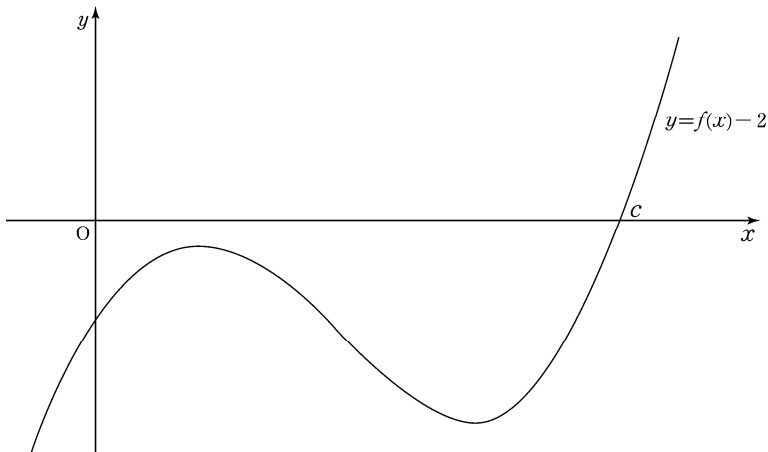
함수 $g(x)$ 는 실수 전체의 집합에서 증가한다.

iii) $f(0) - 2 < 0$ 일 때



$f(x) - 2 = 0$ 의 실근을 순서대로 a, b, c 라 하자.

$b < x < c$ 에서 $g'(x) = \int_0^x \{f(t) - 2\} dt < 0$ 인 x 가 존재하고
 $x \geq c$ 에서 $g'(x) = \int_0^x \{f(t) - 2\} dt \geq 0$ 인 x 가 존재하므로
 함수 $g(x)$ 는 항상 극솟값을 갖는다.



$f(x) - 2 = 0$ 의 실근을 c 라 하자.
 $0 < x < c$ 에서 $g'(x) = \int_0^x \{f(t) - 2\} dt < 0$,
 $x \geq c$ 에서 $g'(x) = \int_0^x \{f(t) - 2\} dt \geq 0$ 인 x 가 존재하므로
 함수 $g(x)$ 는 항상 극솟값을 갖는다.
 i), ii), iii)에 의해 $f(0) = 2$ 이므로 $f(x) = x\left(x - \frac{k}{2}\right)(x - k) + 2$ 이다.
 따라서 $f(1) = \left(1 - \frac{k}{2}\right)(1 - k) + 2 = \frac{1}{2}\left(k - \frac{3}{2}\right)^2 + \frac{15}{8}$ 이므로
 $f(1)$ 의 최솟값은 $\frac{15}{8}$ 이다.

16) [정답] 8 (출제자 : 21 서연수)
 [출제의도] 주어진 식을 통해 등차수열의 항의 값을 구할 수 있는가?

[해설]
 등차수열 $\{a_n\}$ 의 첫째항을 a , 공차를 d 라 하면
 $a_1 + a_2 = 2a + d = 4$ 이고, $a_3 = a + 2d = 4$ 이므로
 두 식을 연립하면 $a = d = \frac{4}{3}$ 이다.
 따라서 $a_6 = a + 5d = \frac{4}{3} + \frac{20}{3} = 8$ 이다.

17) [정답] 6 (출제자 : 20 송문주)
 [출제의도] 곱의 미분법을 이용하여 미분계수를 구할 수 있는가?

[해설]
 $f(x)g(x) = (x^2 - 4x + 6)g(x)$ 이므로 양변을 미분하면
 곱의 미분법에 의해
 $f'(x)g(x) + f(x)g'(x) = (2x - 4)g(x) + (x^2 - 4x + 6)g'(x)$ 이다.
 $x = 2$ 를 대입하면
 $f'(2)g(2) + f(2)g'(2) = 0 + 2g'(2) = 2g'(2)$ 이다.
 따라서 $g'(2) = 3$ 을 대입하면 $x = 2$ 에서의 미분계수는 $2 \times 3 = 6$ 이다.

18) [정답] 4 (출제자 : 21 황민수)

[출제의도] 로그의 밑 변환 공식을 이용하여 문제를 해결할 수 있는가?

[해설]
 로그의 밑 변환 공식에 의해 $\log_a b = \frac{\log b}{\log a}$,
 $\frac{\log a}{\log b} = \log_b a = \frac{1}{\log_a b}$ 이므로 $\log_a b - \frac{2}{\log_a b} = 1$ 이다.
 위의 식 양변에 $\log_a b$ 를 곱하고 식을 정리하면
 $(\log_a b)^2 - \log_a b - 2 = 0$ 이다.
 그러므로 $\log_a b$ 의 값은 2 또는 -1이다.
 a 와 b 가 1보다 큰 상수이므로 $\log_a b > 0$ 이다.
 따라서 $\log_a b = 2$ 이므로 $(\log_a b)^2 = 4$ 이다.

19) [정답] 220 (출제자 : 20 이도윤)
 [출제의도] 삼각함수 사이의 관계를 이용하여 주어진 값을 구할 수 있는가?

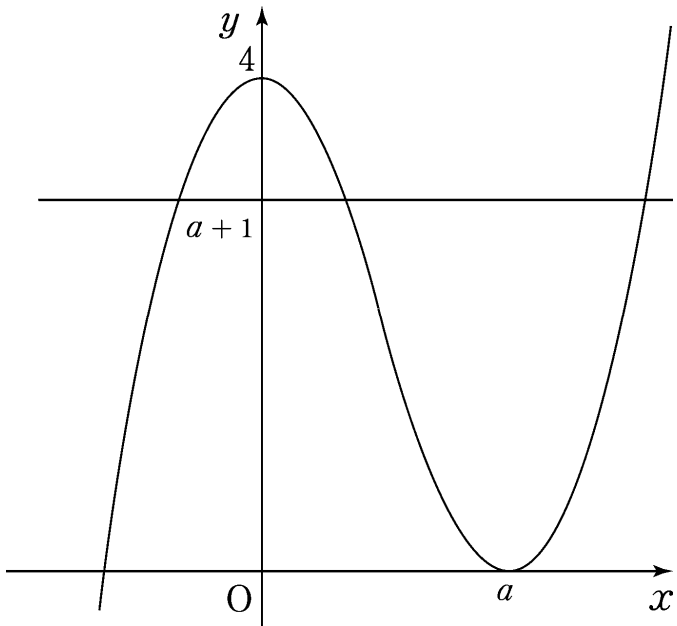
[해설]
 $\sin \theta + 2 \cos \theta = -\frac{2}{5}$ 의 양변을 제곱하면
 $\sin^2 \theta + 4 \sin \theta \cos \theta + 4 \cos^2 \theta = \frac{4}{25} \dots \textcircled{A}$
 $2 \sin \theta - \cos \theta = k$ 의 양변을 제곱하면
 $4 \sin^2 \theta - 4 \sin \theta \cos \theta + \cos^2 \theta = k^2 \dots \textcircled{B}$
 \textcircled{A} 과 \textcircled{B} 을 더하면 $5 \sin^2 \theta + 5 \cos^2 \theta = 5 = \frac{4}{25} + k^2$
 $k^2 = \frac{121}{25}$ 이고 $k = \pm \frac{11}{5}$ 이다.
 $\frac{\pi}{2} < \theta < \pi$ 일 때 $\sin \theta > 0$ 이고 $\cos \theta < 0$ 이므로 $2 \sin \theta - \cos \theta > 0$
 따라서 $k > 0$ 이므로 $k = \frac{11}{5}$ 이고, $100k = 220$ 이다.

20) [정답] 5 (출제자 : 20 김동연)
 [출제의도] 삼차함수의 그래프의 개형을 추론하고 이에 따른 경우를 비교하여 문제를 해결할 수 있는가?

[해설]
 조건 (가)에 의해 $f'(x)$ 를 $f'(x) = 3x(x - a)$ ($a > 0$ 인 상수)로 나타낼 수 있다.
 조건 (나)에서 방정식 $(f' \circ f)(x) = 3f(x)$ 의 실근의 개수는 방정식 $3f(x)\{f(x) - a\} = 3f(x)$ 의 실근의 개수와 같으므로
 방정식 $f(x) = 0$ 의 실근의 개수와 방정식 $f(x) = a + 1$ 의 실근의 개수를 더한 값이다.
 그 값이 5이므로 방정식 $f(x) = 0$ 의 실근의 개수가 2인 경우와 3인 경우로 나누어 생각할 수 있다.
 i) 방정식 $f(x) = 0$ 의 실근의 개수가 2일 때
 조건 (가)에서 함수 $f(x)$ 의 극댓값이 $f(0) = 4$ 이므로
 방정식 $f(x) = 0$ 의 실근의 개수가 2이려면 함수 $f(x)$ 의 극솟값인 $f(a)$ 의 값이 0이 되어야 한다.
 $f'(x) = 3x(x - a) = 3x^2 - 3ax$, $f(0) = 4$ 에서
 $f(x) = x^3 - \frac{3}{2}ax^2 + 4$ 이므로 $f(a) = 4 - \frac{1}{2}a^3 = 0$ 이다.
 그러므로 $a = 2$ 이다.

수학 영역

이때 방정식 $f(x) = 2 + 1 = 3$ 의 실근의 개수가 3이므로 조건 (나)를 만족시킨다.



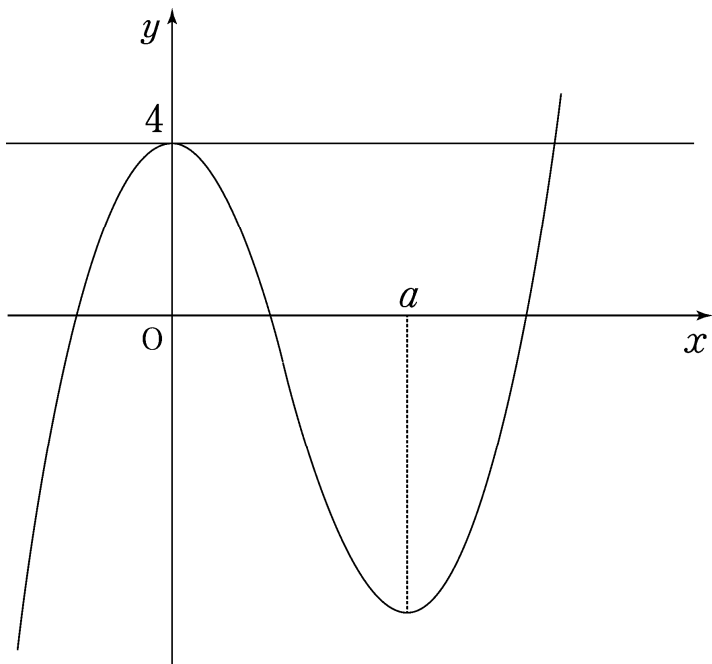
ii) 방정식 $f(x) = 0$ 의 실근의 개수가 3일 때

조건 (가)에서 함수 $f(x)$ 의 극댓값이 $f(0) = 4$ 이므로 방정식 $f(x) = 0$ 의 실근의 개수가 3이려면 함수 $f(x)$ 의 극솟값인 $f(a)$ 의 값이 0보다 작아야 한다.

$$f(x) = x^3 - \frac{3}{2}ax^2 + 4 \text{ 이므로 } f(a) = 4 - \frac{1}{2}a^3 < 0 \text{ 이어야 한다.}$$

그러므로 $a > 2$ 이고 방정식 $f(x) = a + 1$ 의 실근의 개수가 2이므로 이를 만족시키는 $a + 1$ 의 값은 함수 $f(x)$ 의 극댓값이 되어야 한다.

따라서 $a + 1 = 4$ 이므로 $a = 3$ 이 모든 조건을 만족시킨다.

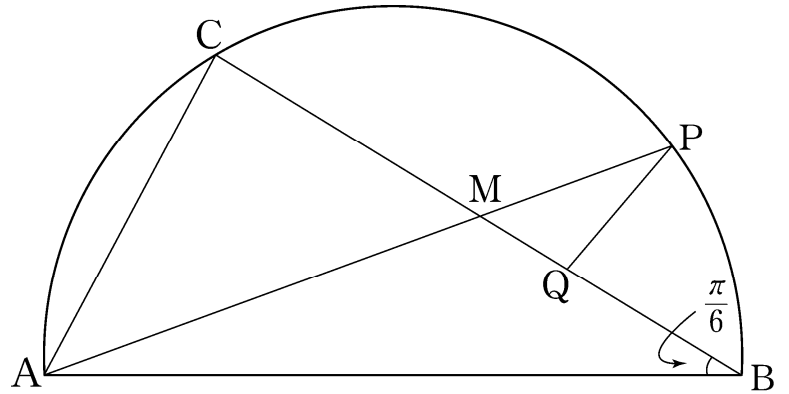


i), ii)에서 a 의 값이 될 수 있는 수는 2와 3이므로 함수 $f(x)$ 가 $x = a$ 에서 극솟값을 갖도록 하는 모든 상수 a 의 값의 합은 $2 + 3 = 5$ 이다.

21) [정답] 10 (출제자 : 20 정원철)

[출제의도] 주어진 조건에 따라 사인법칙과 코사인법칙을 이용할 수 있는가?

[해설]



삼각형 ABC에서 $\overline{AB} = 4$ 이고 $\angle ABC = \frac{\pi}{6}$ 이므로 $\overline{BC} = 2\sqrt{3}$ 이다.

$$\overline{CM} = \frac{1}{2}\overline{BC} = \frac{1}{2} \times 2\sqrt{3} = \sqrt{3} \text{ 이고}$$

$$\angle MCA = \frac{\pi}{2} \text{ 이므로 } \overline{AM} = \sqrt{\overline{AC}^2 + \overline{CM}^2} = \sqrt{4 + 3} = \sqrt{7} \text{ 이다.}$$

$\angle AMC = \theta$ 라 하면 삼각형 AMC에서

$$\cos \theta = \frac{\overline{CM}}{\overline{AM}} = \frac{\sqrt{3}}{\sqrt{7}} = \frac{\sqrt{21}}{7} \text{ 이다.}$$

$$\overline{BM} = \frac{1}{2}\overline{BC} = \frac{1}{2} \times 2\sqrt{3} = \sqrt{3} \text{ 이다.}$$

또한, $\angle PMQ = \angle AMC = \theta$ 이고 $\angle BPM = \frac{\pi}{2}$ 이므로

$$\overline{MP} = \overline{BM} \times \cos \theta = \frac{3\sqrt{7}}{7} \text{ 이다.}$$

$$\overline{MQ} = \frac{1}{3}\overline{BM} = \frac{\sqrt{3}}{3} \text{ 이므로 코사인법칙에 의해}$$

$$\overline{PQ}^2 = \frac{9}{7} + \frac{1}{3} - 2 \times \frac{3\sqrt{7}}{7} \times \frac{\sqrt{3}}{3} \times \frac{\sqrt{21}}{7} = \frac{16}{21},$$

$$\overline{PQ} = \frac{4\sqrt{21}}{21} \text{ 이다.}$$

$$\sin \theta = \sqrt{1 - \frac{3}{7}} = \sqrt{\frac{4}{7}} = \frac{2\sqrt{7}}{7} \text{ 이므로}$$

삼각형 MQP의 외접원의 반지름의 길이를 R 라고 하면

$$\text{사인법칙에 의해 } 2R = \frac{\overline{PQ}}{\sin \theta} = \frac{\frac{4\sqrt{21}}{21}}{\frac{2\sqrt{7}}{7}} = \frac{2\sqrt{3}}{3}, R = \frac{\sqrt{3}}{3} \text{ 이다.}$$

따라서 삼각형 MQP의 외접원의 넓이는 $\pi R^2 = \frac{\pi}{3}$ 이므로

$$p^2 + q^2 = 10 \text{ 이다.}$$

22) [정답] 66 (출제자 : 20 이도윤)

[출제의도] 수열의 합과 일반항의 관계를 이용해 주어진 수열을 추론할 수 있는가?

[해설]

조건 (가)에서

$$a_n a_{n+1} = (S_{n+1})^2 - (S_n)^2 = (S_{n+1} + S_n)(S_{n+1} - S_n) \text{ 이고}$$

모든 자연수 n 에 대하여 $a_{n+1} = S_{n+1} - S_n$ 이므로,

수학 영역

모든 자연수 n 에 대하여 $a_{n+1} = 0$ 또는 $a_n = S_{n+1} + S_n$ 이다.

이때 $a_{n+1} = 0$ 이면 $S_n = S_{n+1}$ 이고,

2 이상의 자연수 n 에 대하여

$a_n = S_n - S_{n-1}$ 을 $a_n = S_{n+1} + S_n$ 에 대입하면

$S_{n-1} + S_{n+1} = 0$ 이다.

따라서 수열 $\{S_n\}$ 은 모든 자연수 n 에 대하여

$S_n = S_{n+1} \cdots \textcircled{1}$ 또는 $S_n + S_{n+2} = 0 \cdots \textcircled{2}$ 을 만족시킨다.

(이때 $\textcircled{2}$ 의 식은 유도된 식 $a_n = S_{n+1} + S_n$ 와 함께 고려할 수 있다.)

$a_1 = a$ 라 할 때, $a = 0$ 이면 $S_1 = 0$ 이다.

$\textcircled{1}$ 또는 $\textcircled{2}$ ($a_n = S_{n+1} + S_n$)에 $n = 1$ 을 대입하면 $S_2 = 0$ 이다.

$S_1 = 0, S_2 = 0$ 에서 수열 $\{S_n\}$ 은 $\textcircled{1}$ 또는 $\textcircled{2}$ 을 만족시켜야 하므로

모든 자연수 n 에 대하여 $S_n = 0$ 이다.

이는 조건 (나)에 모순이므로 $a \neq 0$ 이다.

$S_1 = a$ 이므로 $\textcircled{1}$ 또는 $\textcircled{2}$ ($a_n = S_{n+1} + S_n$)에서

S_2 의 값은 a 또는 0 이다.

이때 $\textcircled{1}$ 또는 $\textcircled{2}$ 에서 3 이상의 자연수 n 에 대하여 S_n 의 값은

S_{n-1} 또는 $-S_{n-2}$ 이므로 S_n 의 값은 반드시 $-a, 0, a$ 중 하나이다.

따라서 모든 자연수 n 에 대하여 $S_n \in \{-a, 0, a\}$ 이다.

$a_n = S_{n+1} + S_n$ 에서

$S_{n+1} + S_n$ 의 값은 반드시 $-2a, -a, 0, a, 2a$ 중 하나이므로

모든 자연수 n 에 대하여 $a_n \in \{-2a, -a, 0, a, 2a\}$ 이다.

따라서 조건 $\left| \frac{a_5}{a_3} \right| = 2$ 에서 $a_5 = \pm 2a, a_3 = \pm a$ 이다.

$S_2 = a$ 인 경우, $a_3 = \pm a$ 이므로 $S_3 = S_2 + a_3$ 의 값은 $2a$ 또는 0 이다.

이 두 값은 $\textcircled{1}$ 과 $\textcircled{2}$ 모두에 모순이므로 $S_2 = 0$ 이다.

$S_2 = 0$ 에서 $a_3 = \pm a$ 이므로 $S_3 = S_2 + a_3$ 의 값은 a 또는 $-a$ 이다.

이 중 $\textcircled{1}$ 또는 $\textcircled{2}$ 에서 S_3 으로 가능한 값은 $\textcircled{2}$ 일 때인 $-a$ 이다.

n	1	2	3	4	5	6	7
S_n	a	0	$-a$				

위의 표와 $\textcircled{1}$ 과 $\textcircled{2}$ 에서 S_4 의 값은 $-a$ 또는 0 이다.

$S_4 = 0$ 인 경우, $a_5 = \pm 2a$ 이므로

$S_5 = S_4 + a_5$ 로 가능한 값은 $2a$ 또는 $-2a$ 이다.

이 두 값은 $\textcircled{1}$ 과 $\textcircled{2}$ 모두에 모순이므로 $S_4 = -a$ 이다.

$S_4 = -a$ 에서 $a_5 = \pm 2a$ 이므로 $S_5 = S_4 + a_5$ 의 값은 a 만 가능하다.

n	1	2	3	4	5	6	7
S_n	a	0	$-a$	$-a$	a		

위의 표에서 $\textcircled{1}$ 과 $\textcircled{2}$ 모두에 상관없이 S_6 의 값은 a 이다.

위의 표와 $S_6 = a$, $\textcircled{1}$ 과 $\textcircled{2}$ 에서 S_7 의 값은 a 또는 $-a$ 이다.

n	1	2	3	4	5	6	7
S_n	a	0	$-a$	$-a$	a	a	$\pm a$

이때 $S_7 = -a$ 이면 $\sum_{k=1}^7 S_k = 0$ 이므로 조건 (나)에 모순이다.

따라서 $S_7 = a$ 이므로 $\sum_{k=1}^7 S_k = 2a, a = 6$ 이다.

지금까지 알아낸 정보와 $a_{n+1} = S_{n+1} - S_n$ 을 이용하여

두 수열 $\{a_n\}, \{S_n\}$ 의 항을 표로 정리하면 다음과 같다.

(이때 지금까지 a 로 이루어진 표를 사용해왔으니 그대로 사용하자.)

n	1	2	3	4	5	6	7
a_n	a	$-a$	$-a$	0	$2a$	0	0
S_n	a	0	$-a$	$-a$	a	a	a

위의 표를 이용하여 수열 $b_n = |a_n + S_{n+1}|$ 에 대하여

수열 $\{b_n\}$ 의 항을 표로 정리하면 다음과 같다.

n	1	2	3	4	5	6	7
a_n	a	$-a$	$-a$	0	$2a$	0	0
S_{n+1}	0	$-a$	$-a$	a	a	a	
b_n	a	$2a$	$2a$	a	$3a$	a	

b_7 의 값을 구하기 위해 S_8 의 값을 구하자.

위의 표와 $\textcircled{1}$ 과 $\textcircled{2}$ 에서 S_8 의 값은 a 또는 $-a$ 이다.

이때 이 두 값에 상관없이 $b_7 = |a_7 + S_8| = |0 \pm a| = a$ 이므로

$\sum_{k=1}^7 |a_k + S_{k+1}| = 11a = 66$ 이다.

수학 영역(확률과 통계) 해설지

Epsilon

정답 및 해설

23) [정답] ① (출제자: 21 류은수)

[출제의도] 이항분포를 따르는 확률변수의 표준편차를 구할 수 있는가?

[해설]

확률변수 X 는 이항분포 $B\left(16, \frac{1}{2}\right)$ 을 따르므로

$$V(X) = 16 \times \frac{1}{2} \times \left(1 - \frac{1}{2}\right) = 4 \text{ 이다.}$$

따라서 X 의 표준편차는 $\sqrt{4} = 2$ 이다.

24) [정답] ⑤ (출제자: 20 이선우)

[출제의도] 이항정리를 이용하여 주어진 값을 구할 수 있는가?

[해설]

다항식 $(ax - 2)^4$ 의 전개식의 일반항은 ${}_4C_r(-2)^{4-r}(ax)^r$ 이다.

x^2 의 계수는 $r = 2$ 일 때이므로

$${}_4C_2 4a^2 = 24a^2 = 54$$

$$a^2 = \frac{9}{4} \text{ 이므로 양수 } a \text{의 값은 } \frac{3}{2} \text{ 이다.}$$

25) [정답] ④ (출제자: 20 송문주)

[출제의도] 주어진 조건을 만족시키는 조건부확률을 구할 수 있는가?

[해설]

만들어진 세 자리의 자연수가 짝수인 사건을 A ,

세 자리의 자연수 중 적어도 한 자리의 숫자가 소수인 사건을 B 라 하자.

세 자리의 자연수가 짝수이므로 일의 자리에 들어갈 수 있는 수는 2, 4, 6, 8이다.

일의 자리의 수를 선택하는 경우의 수는 4이고 나머지 두 자리를 선택하는 경우의 수는 ${}_7P_2 = 7 \times 6 = 42$ 이므로 세 자리의 자연수가 짝수인 경우의 수는 $4 \times 42 = 168$ 이다.

그 중 적어도 한 자리의 숫자가 소수일 확률을 여사건을 이용하여 구해보자.

1부터 8까지의 자연수 중 소수는 2, 3, 5, 7이다. 소수를 제외하고 세 자리의 짝수를 만들어보면 다음과 같다.

일의 자리의 수를 선택하는 경우의 수는 3이고 나머지 두 자리를 선택하는 경우의 수는 ${}_3P_2 = 3 \times 2 = 6$ 이므로 소수가 포함되지 않은 세 자리의 짝수의 개수는 $3 \times 6 = 18$ 이다.

$$\text{따라서 } P(B^c|A) = \frac{18}{168} = \frac{3}{28} \text{ 이므로}$$

여사건의 확률을 적용하면

$$\text{구하고자 하는 확률은 } P(B|A) = 1 - \frac{3}{28} = \frac{25}{28} \text{ 이다.}$$

26) [정답] ③ (출제자: 20 송문주)

[출제의도] 표준정규분포표를 이용하여 조건을 만족시키는 값을 구할 수 있는가?

[해설]

$P(X \geq 60) + P(Y \geq 30) = 1$ 이므로 이를 표준화하면

$$P\left(Z \geq \frac{60 - m_1}{10}\right) + P\left(Z \geq \frac{30 - m_2}{10}\right) = 1 \text{ 이다.}$$

$$\frac{60 - m_1}{10} = -\frac{30 - m_2}{10} \text{ 이므로 식을 정리하면, } m_1 + m_2 = 90 \text{ 이다.}$$

$$P\left(X \geq \frac{k}{2}\right) = P(Y \geq 2k) = 0.0228 \text{ 이므로}$$

$$\text{이를 표준화하면 } P\left(Z \geq \frac{\frac{k}{2} - m_1}{10}\right) = P\left(Z \geq \frac{2k - m_2}{10}\right) = 0.0228 \text{ 이다.}$$

이때, $P(Z \geq 2) = 0.0228$ 이므로

$$\frac{\frac{k}{2} - m_1}{10} = 2, \quad \frac{2k - m_2}{10} = 2 \text{ 이다.}$$

위의 두 식을 더하면 $\frac{5}{2}k - (m_1 + m_2) = 40$ 이므로 $m_1 + m_2 = 90$ 을 대입하면 $k = 52$ 이다.

27) [정답] ② (출제자: 21 김서원)

[출제의도] 같은 것이 있는 순열을 이용하여 경우의 수를 구할 수 있는가?

[해설]

3개의 상자 중 적어도 하나의 상자에서 파란 공이 더 많이 나오므로 1개의 상자에서 파란 공이 적어도 3개 나와야 한다. 그러므로 3개의 상자에서 나오는 파란 공의 개수는 (0, 0, 4)이거나 (0, 1, 3)이어야 한다.

i) 3개의 상자에서 나오는 파란 공의 개수가 (0, 0, 4)일 때

파란 공이 4개 나오는 상자를 고르는 경우의 수는 ${}_3C_1$ 이고

파란 공이 나오는 상자에서 4개의 파란 공과 1개의 빨간 공이 나오는 순서를 결정하는 경우의 수는 $\frac{5!}{4!}$ 이므로

$$\text{구하고자 하는 경우의 수는 } {}_3C_1 \times \frac{5!}{4!} = 15 \text{ 이다.}$$

ii) 3개의 상자에서 나오는 파란 공의 개수가 (0, 1, 3)일 때

서로 다른 3개의 상자에서 나오는 파란 공의 개수를 정하는 경우의 수는 $3!$ 이고 1개의 파란 공과 4개의 빨간 공이 나오는 순서를 결정하는 경우의

수학 영역(확률과 통계)

수는 $\frac{5!}{4!}$ 이다. 3 개의 파란 공과 2 개의 빨간 공이 나오는 순서를 결정하는 경우의 수는 $\frac{5!}{3! \times 2!}$ 이므로
 구하고자 하는 경우의 수는 $3! \times \frac{5!}{4!} \times \frac{5!}{3! \times 2!} = 300$ 이다.

따라서 3 개의 상자 중 조건을 만족시키면서 적어도 하나의 상자에서 파란 공이 더 많이 나오는 경우의 수는 315 이다.

28) [정답] ③ (출제자 : 20 김동연)

[출제의도] 조건을 만족시킬 확률을 구할 수 있는가?

[해설]

x_1, x_2, x_3, x_4 를 결정짓는 전체 경우의 수는 ${}_4P_4 = 4^4 = 256$ 이다.

(가) 조건을 만족시키는 x_1, x_2, x_3, x_4 의 개수는 ${}_4H_3 \times 4 = 80$ 이다.

(가) 조건을 만족시키면서 $x_1 \times x_2 \times x_3 = 8$ 인 사건을 A ,

(가) 조건을 만족시키면서 $x_2 \times x_3 \times x_4 = 8$ 인 사건을 B 라 하자.

구하고자 하는 확률은 $\frac{80 - n(A \cup B)}{256}$ 이다.

$n(A \cup B) = n(A) + n(B) - n(A \cap B)$ 이므로 $n(A), n(B), n(A \cap B)$ 를 구해보자.

$n = 1, 2$ 에 대하여 $x_n \times x_{n+1} \times x_{n+2} = 8$ 을 만족시키려면 x_n, x_{n+1}, x_{n+2} 는 $(1, 1, 8), (1, 2, 4), (2, 2, 2)$ 중 하나의 값으로 구성되어야 한다.

i) $n(A)$

순서쌍 (x_1, x_2, x_3) 가 $(1, 1, 8)$ 인 경우 4 가지, $(1, 2, 4)$ 인 경우 4 가지, $(2, 2, 2)$ 인 경우 4 가지이므로 $n(A) = 4 + 4 + 4 = 12$ 이다.

ii) $n(B)$

순서쌍 (x_2, x_3, x_4) 가 $(1, 1, 8)$ 또는 $(1, 8, 1)$ 인 경우 각각 1 가지, $(1, 2, 4)$ 또는 $(1, 4, 2)$ 인 경우 각각 1 가지, $(2, 4, 1)$ 인 경우 2 가지, $(2, 2, 2)$ 인 경우 2 가지이므로 $n(B) = 2 + 2 + 2 + 2 = 8$ 이다.

iii) $n(A \cap B)$

순서쌍 (x_1, x_2, x_3, x_4) 가 $(1, 1, 8, 1)$ 인 경우 1 가지, $(1, 2, 4, 1)$ 인 경우 1 가지, $(2, 2, 2, 2)$ 인 경우 1 가지이므로

$n(A \cap B) = 1 + 1 + 1 = 3$ 이다.

i), ii), iii)에서

$n(A \cup B) = n(A) + n(B) - n(A \cap B) = 12 + 8 - 3 = 17$ 이다.

그러므로 (가) 조건과 (나) 조건을 만족시키는 x_1, x_2, x_3, x_4 의 개수는 $80 - n(A \cup B) = 80 - 17 = 63$ 이다.

따라서 구하고자 하는 확률은 $\frac{63}{256}$ 이다.

29) [정답] 91 (출제자 : 21 김서원)

[출제의도] 여사건의 확률을 구할 수 있는가?

[해설]

A 에서 A 로의 모든 함수 f 의 개수는 ${}_4P_4 = 4^4$ 이다.

함수 f 의 치역을 B , $f \circ f$ 의 치역을 C 라고 하고 $n(B) > n(C)$ 인 사건을 X 라고 하자.

이때 $C \subset B$ 이므로 함수 f 의 치역의 원소의 개수보다 $f \circ f$ 의 치역의 원소의 개수가 더 많을 수는 없다.

사건 X 의 여사건은 $n(B) = n(C)$ 즉, $B = C$ 인 사건이다.

여사건의 경우의 수를 구하면

i) $n(B) = 4$ 인 경우의 수

함수 f 가 일대일대응이므로 $f \circ f$ 의 치역의 원소의 개수도 항상 4 이다. 그러므로 구하고자 하는 경우의 수는 $4! = 24$ 이다.

나머지 상황에서는 함수 f 가 일대일대응이 아니다.

이러한 경우 B 에서 B 로 가는 함수가 일대일대응일 때 $n(B) = n(C)$ 이다.

그러므로 4 개의 원소 중에서 B 의 원소를 정하고, B 에서 C 로 일대일 대응을 시킨 후, 남은 원소의 함수값을 정해야 한다. 구하는 경우의 수는 다음과 같다.

ii) $n(B) = 3$ 인 경우의 수

${}_4C_3 \times 3! \times {}_3P_1 = 72$

iii) $n(B) = 2$ 인 경우의 수

${}_4C_2 \times 2! \times {}_2P_2 = 48$

iv) $n(B) = 1$ 인 경우의 수

${}_4C_1 = 4$

그러므로 $n(B) = n(C)$ 일 확률은 $\frac{148}{4^4} = \frac{37}{64}$ 이다.

따라서 함수 f 의 치역의 원소의 개수보다 $f \circ f$ 의 치역의 원소의 개수가 더 적을 확률은 $1 - \frac{37}{64} = \frac{27}{64}$ 이므로 $p + q = 91$ 이다.

30) [정답] 528 (출제자 : 21 심현재)

[출제의도] 중복순열을 이용하여 문제를 해결할 수 있는가?

[해설]

문자 카드를 180° 회전하면 문자 카드의 회전하기 전과 후의 문자열이 일치하는 경우와 일치하지 않는 경우가 있다.

i) 문자 카드의 180° 회전 전과 후의 문자열이 일치할 때

네 번째와 다섯 번째 자리의 문자는 각각 첫 번째와 두 번째 자리의 문자에 따라 결정되므로 첫 번째, 두 번째, 세 번째 자리의 문자만 택하면 된다.

첫 번째와 두 번째 자리에 올 수 있는 문자는 I, M, O, W 이다.

이때, M과 W는 회전하면 각각 W와 M이 되어 세 번째 자리에 올 수 없으므로 세 번째 자리에 올 수 있는 문자는 I, O 이다.

따라서 경우의 수는 $4 \times 4 \times 2 = 32$ 이다.

ii) 문자 카드의 180° 회전 전과 후의 문자열이 일치하지 않을 때

4 개의 문자에서 5 개를 택하는 중복순열의 수는 ${}_4P_5 = 4^5 = 1024$ 이다.

수학 영역(확률과 통계)

문자 카드의 180° 회전 전과 후의 문자열이 일치하지 않는 경우,
회전하기 전과 후의 문자 카드를 하나의 문자 카드로 본다.


그러므로 경우의 수는 $\frac{1024 - 32}{2} = 496$ 이다.

따라서 구하는 문자 카드의 개수는

$496 + 32 = 528$ 이다.

수학 영역(미적분) 해설지

Epsilon



정답 및 해설

23) [정답] ① (출제자 : 21 박주원)

[출제의도] 수열의 극한값을 구할 수 있는가?

[해설]

$$\begin{aligned} \lim_{n \rightarrow \infty} \frac{8n^4 + 3n^3 + 8}{(2n^2 + 4)(2n + 1)^2} &= \lim_{n \rightarrow \infty} \frac{8n^4 + 3n^3 + 8}{8n^4 + 8n^3 + 18n^2 + 16n + 4} \\ &= \lim_{n \rightarrow \infty} \frac{8 + \frac{3}{n} + \frac{8}{n^4}}{8 + \frac{8}{n} + \frac{18}{n^2} + \frac{16}{n^3} + \frac{4}{n^4}} \\ &= 1 \end{aligned}$$

24) [정답] ② (출제자 : 21 황민수)

[출제의도] 급수와 수열의 일반항 사이의 관계를 이용하여 극한값을 구할 수 있는가?

[해설]

급수 $\sum_{n=1}^{\infty} \left(\frac{a_n}{n} - \frac{2n^2}{n^2 + 2n} \right)$ 이 수렴하므로, 급수와 수열의

일반항 사이의 관계에 의해 $\lim_{n \rightarrow \infty} \left(\frac{a_n}{n} - \frac{2n^2}{n^2 + 2n} \right) = 0$ 이다.

이때, $\lim_{n \rightarrow \infty} \frac{2n^2}{n^2 + 2n} = 2$ 이므로

$$\lim_{n \rightarrow \infty} \frac{a_n}{n} = \lim_{n \rightarrow \infty} \left(\frac{a_n}{n} - \frac{2n^2}{n^2 + 2n} \right) + \lim_{n \rightarrow \infty} \frac{2n^2}{n^2 + 2n} = 2 \text{ 이다.}$$

$$\text{따라서 } \lim_{n \rightarrow \infty} \frac{6a_n + 4n}{a_n + 2n} = \lim_{n \rightarrow \infty} \frac{\frac{6a_n}{n} + 4}{\frac{a_n}{n} + 2} = 4 \text{ 이다.}$$

25) [정답] ③ (출제자 : 21 서연수)

[출제의도] 음함수의 미분법을 이용하여 접선의 기울기를 구할 수 있는가?

[해설]

$ye^{kx} + \ln(y+1) = e$ 의 양변을 x 에 대하여 미분하면

$$kye^{kx} + \frac{dy}{dx} e^{kx} + \frac{1}{y+1} \frac{dy}{dx} = 0 \text{ 이다.}$$

이 식을 $\frac{dy}{dx}$ 에 대하여 정리하면

$$kye^{kx} + \left(e^{kx} + \frac{1}{y+1} \right) \frac{dy}{dx} = 0$$

$$\left(e^{kx} + \frac{1}{y+1} \right) \frac{dy}{dx} = -kye^{kx}$$

$$\frac{dy}{dx} = \frac{-kye^{kx}}{e^{kx} + \frac{1}{y+1}} \text{ 이다.}$$

위 식에 $\frac{dy}{dx} = -1, x=0, y=e-1$ 을 대입하면

$$\frac{-k(e-1) \times e^0}{e^0 + \frac{1}{(e-1)+1}} = -1 \text{ 이므로 } k = \frac{e+1}{e^2-e} \text{ 이다.}$$

26) [정답] ⑤ (출제자 : 21 김예찬)

[출제의도] 등비급수의 합을 이용하여 도형의 넓이에 대한 극한값을 구할 수 있는가?

[해설]

점 O_1 에서 선분 BC 에 내린 수선의 발을 H , $\angle ABC = \theta$ 라 하자.

삼각형 AHB 에서 $\overline{AB} = 10, \overline{BH} = \frac{5}{2}$ 이므로

$$\cos \theta = \frac{1}{4} \text{ 이고, } \sin \theta = \frac{\sqrt{15}}{4} \text{ 이다.}$$

삼각형 ABC 의 넓이를 이용하여 선분 B_1O_1 의 길이를 구해보자.

삼각형 ABC 의 넓이는

$$\frac{1}{2} \times \overline{AB} \times \overline{BC} \times \sin \theta = \frac{1}{2} \times 10 \times 5 \times \frac{\sqrt{15}}{4} = \frac{25\sqrt{15}}{4} \text{ 이다.}$$

선분 B_1O_1 은 삼각형 ABC 의 내접원의 반지름이므로

삼각형 ABC 의 넓이를

$$\frac{1}{2} \times \overline{B_1O_1} \times (\overline{AB} + \overline{BC} + \overline{CA}) = \frac{25}{2} \times \overline{B_1O_1} \text{ 으로 표현할 수 있다.}$$

$$\frac{25\sqrt{15}}{4} = \frac{25}{2} \times \overline{B_1O_1} \text{ 이므로 } \overline{B_1O_1} = \frac{\sqrt{15}}{2} \text{ 이다.}$$

또한, 삼각형 AB_1O_1 과 삼각형 AHB 는 닮음이므로

$\angle AO_1B_1 = \angle ABH = \theta$ 이고 $\angle AO_1B_1 = \angle AO_1C_1$ 이다.

그러므로 $\angle B_1O_1C_1 = 2\theta$ 이다.

$$\sin 2\theta = 2\sin \theta \cos \theta = 2 \times \frac{\sqrt{15}}{4} \times \frac{1}{4} = \frac{\sqrt{15}}{8} \text{ 이므로}$$

삼각형 $O_1B_1C_1$ 의 넓이는 $\frac{1}{2} \times \overline{B_1O_1} \times \overline{C_1O_1} \times \sin 2\theta$

$$\begin{aligned} &= \frac{1}{2} \times \frac{\sqrt{15}}{2} \times \frac{\sqrt{15}}{2} \times \frac{\sqrt{15}}{8} \\ &= \frac{15\sqrt{15}}{64} \text{ 이다.} \end{aligned}$$

$\overline{B_1B} = \overline{BH}$ 이므로 $\overline{AB_1} = 10 - \frac{5}{2}$ 이고, $\overline{AB} : \overline{AB_1} = 4 : 3$ 이므로

삼각형 $O_1B_1C_1$ 과 삼각형 $O_2B_2C_2$ 의 넓이의 비는 $16 : 9$ 이다.

따라서 그림 R_2 에서 새롭게 색칠되는 부분의 넓이는

그림 R_1 에서 색칠되는 부분의 넓이의 $\frac{9}{16}$ 이므로

수열 $\{S_n\}$ 은 첫째항이 $\frac{15\sqrt{15}}{64}$ 이고 공비가 $\frac{9}{16}$ 인 등비수열의 합이다.

수학 영역(미적분)

따라서 구하고자 하는 값은 $\lim_{n \rightarrow \infty} S_n = \frac{15\sqrt{15}}{64} = \frac{15\sqrt{15}}{28}$ 이다.

27) [정답] ④ (출제자 : 19 황주영)

[출제의도] 두 곡선으로 둘러싸인 부분의 넓이를 구할 수 있는가?

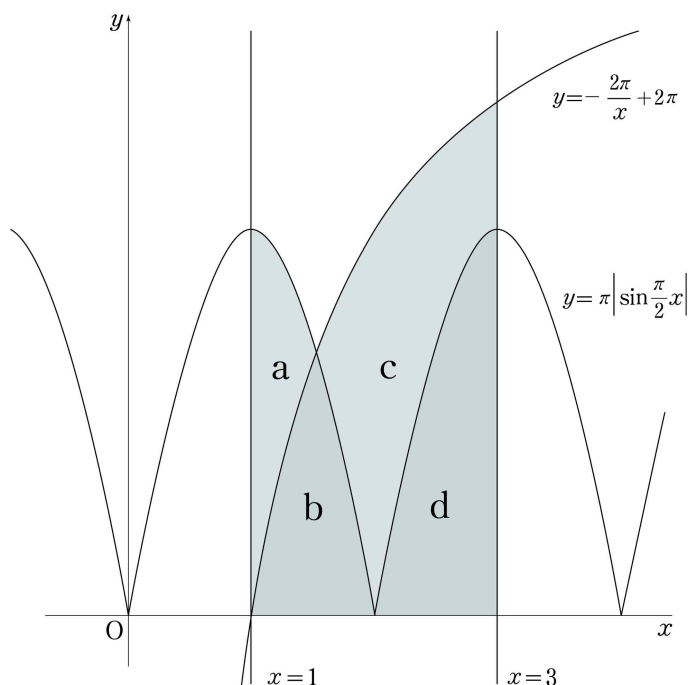
[해설]

$f(x) = -\frac{2\pi}{x} + 2\pi$, $g(x) = \pi \left| \sin \frac{\pi}{2}x \right|$ 라 하자.

두 함수 $f(x)$ 와 $g(x)$ 의 그래프의 교점의 x 좌표를 α ($1 < \alpha < 3$) 라 하면

$$\begin{aligned} S_2 - S_1 &= \int_{\alpha}^3 \{f(x) - g(x)\} dx - \int_1^{\alpha} \{g(x) - f(x)\} dx \\ &= \int_1^3 \{f(x) - g(x)\} dx \\ &= \int_1^3 \left(-\frac{2\pi}{x} + 2\pi - \pi \left| \sin \frac{\pi}{2}x \right| \right) dx \\ &= \int_1^2 \left(-\frac{2\pi}{x} + 2\pi - \pi \sin \frac{\pi}{2}x \right) dx \\ &\quad + \int_2^3 \left(-\frac{2\pi}{x} + 2\pi + \pi \sin \frac{\pi}{2}x \right) dx \\ &= \int_1^3 \left(-\frac{2\pi}{x} + 2\pi \right) dx + \int_1^2 \left(-\pi \sin \frac{\pi}{2}x \right) dx \\ &\quad + \int_2^3 \left(\pi \sin \frac{\pi}{2}x \right) dx \\ &= \left[-2\pi \ln x + 2\pi x \right]_1^3 + \left[2\cos \frac{\pi}{2}x \right]_1^2 + \left[-2\cos \frac{\pi}{2}x \right]_2^3 \\ &= (4 - 2\ln 3)\pi - 4 \text{ 이다.} \end{aligned}$$

[별해]



위 그림에서 $\int_1^3 \left(-\frac{2\pi}{x} + 2\pi \right) dx = b + c + d$ 이고

$\int_1^3 \pi \left| \sin \frac{\pi}{2}x \right| dx = a + b + d$ 이므로

$\int_1^3 \left(-\frac{2\pi}{x} + 2\pi - \pi \left| \sin \frac{\pi}{2}x \right| \right) dx = c - a = S_2 - S_1$ 이다.

즉, $S_2 - S_1 = \int_1^3 \left(-\frac{2\pi}{x} + 2\pi - \pi \left| \sin \frac{\pi}{2}x \right| \right) dx$

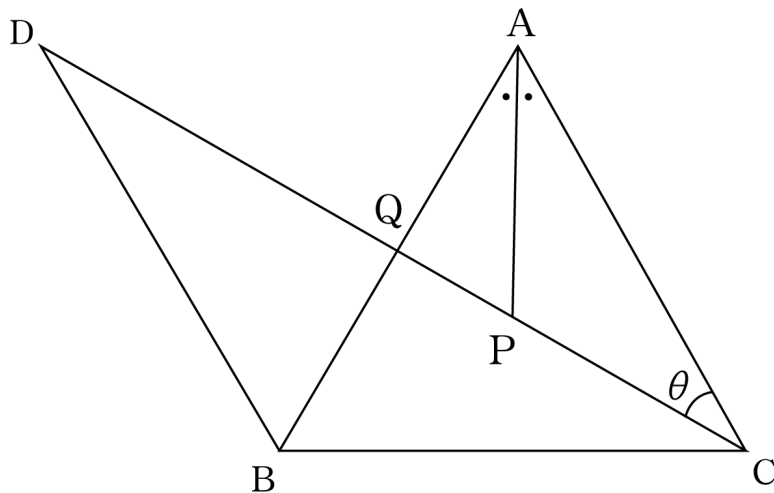
$= \int_1^2 \left(-\frac{2\pi}{x} + 2\pi - \pi \sin \frac{\pi}{2}x \right) dx + \int_2^3 \left(-\frac{2\pi}{x} + 2\pi + \pi \sin \frac{\pi}{2}x \right) dx$

$$\begin{aligned} &= \int_1^3 \left(-\frac{2\pi}{x} + 2\pi \right) dx + \int_1^2 \left(-\pi \sin \frac{\pi}{2}x \right) dx + \int_2^3 \left(\pi \sin \frac{\pi}{2}x \right) dx \\ &= \left[-2\pi \ln x + 2\pi x \right]_1^3 + \left[2\cos \frac{\pi}{2}x \right]_1^2 + \left[-2\cos \frac{\pi}{2}x \right]_2^3 \\ &= (4 - 2\ln 3)\pi - 4 \end{aligned}$$

28) [정답] ① (출제자 : 21 김예찬)

[출제의도] 도형에서 여러 가지 조건을 이용하여 삼각함수의 극한값을 구할 수 있는가?

[해설]



삼각형 ACP 가 이등변삼각형이므로 $\angle PAC = \theta$ 이다.

점 P 에서 선분 BC 에 내린 수선의 발을 H 라 하면 $\overline{CH} = 2$ 이고

삼각형 AHC 는 직각삼각형이므로 $\overline{AC} = \frac{2}{\sin \theta}$ 이다.

점 P 에서 선분 \overline{AC} 에 내린 수선의 발을 H' 이라 하면

$\overline{AP} \times \cos \theta = \overline{AH'}$ 이고 $\overline{AH'} = \frac{1}{2} \overline{AC} = \frac{1}{\sin \theta}$ 이므로

$\overline{AP} = \frac{1}{\sin \theta \cos \theta}$ 이다.

$\angle PAQ = \theta$ 이고 $\angle APQ = 2\theta$ 이므로 $\angle AQP = \pi - 3\theta$ 이다.

사인법칙에 의하여 $\frac{\overline{PQ}}{\sin(\angle PAQ)} = \frac{\overline{AP}}{\sin(\angle AQP)}$ 이므로

$\overline{PQ} = \frac{1}{\sin 3\theta \cos \theta}$ 이다.

$\therefore f(\theta) = \frac{1}{\sin 3\theta \cos \theta}$

$\overline{BD} \parallel \overline{AC}$ 이므로 $\angle QAC = \angle QBD$ (\because 엇각)이고

$\angle QCA = \angle QDB$ (\because 엇각)이다.

그러므로 삼각형 QAC 와 삼각형 QBD 는 닮음이다.

사인법칙에 의해 $\frac{\overline{BC}}{\sin(\angle BDC)} = \frac{\overline{BD}}{\sin(\angle BCD)}$,

$\frac{4}{\sin \theta} = \frac{\overline{BD}}{\sin(\frac{\pi}{2} - 2\theta)}$ 이므로 $\overline{BD} = \frac{4\cos 2\theta}{\sin \theta}$ 이다.

$\overline{AC} = \frac{2}{\sin \theta}$ 이고 삼각형 QAC 와 삼각형 QBD 는 닮음이므로

닮음비는 $\overline{AC} : \overline{BD} = \frac{2}{\sin \theta} : \frac{4\cos 2\theta}{\sin \theta} = 1 : 2\cos 2\theta$ 이다.

그러므로 넓이의 비는 $1 : 4\cos^2 2\theta$ 이다.

$$\begin{aligned} \Delta QAC &= \frac{1}{2} \times \overline{QC} \times \overline{AC} \times \sin \theta = \frac{1}{2} \times (\overline{QP} + \overline{PC}) \times \overline{AC} \times \sin \theta \\ &= \frac{1}{2} \times \left(\frac{1}{\sin 3\theta \cos \theta} + \frac{1}{\sin \theta \cos \theta} \right) \times \frac{2}{\sin \theta} \times \sin \theta \end{aligned}$$

수학 영역(미적분)

$$= \frac{1}{\sin 3\theta \cos \theta} + \frac{1}{\sin \theta \cos \theta}$$

$$\triangle QBD = \left(\frac{1}{\sin 3\theta \cos \theta} + \frac{1}{\sin \theta \cos \theta} \right) \times 4\cos^2 2\theta \text{ 이다.}$$

$$g(\theta) = \frac{4\cos^2 2\theta(\sin 3\theta + \sin \theta)}{\sin \theta \cos \theta \sin 3\theta}$$

따라서 $\lim_{\theta \rightarrow 0^+} \frac{f(\theta)}{g(\theta)} = \lim_{\theta \rightarrow 0^+} \frac{\sin \theta}{4\cos^2 2\theta(\sin 3\theta + \sin \theta)}$

$$= \lim_{\theta \rightarrow 0^+} \left(\frac{1}{4\cos^2 2\theta} \times \frac{\frac{\sin \theta}{\theta}}{\frac{3\sin 3\theta}{3\theta} + \frac{\sin \theta}{\theta}} \right) \text{ 이다.}$$

$$\therefore \lim_{\theta \rightarrow 0^+} \frac{f(\theta)}{g(\theta)} = \frac{1}{16}$$

[별해1]

삼각형 QAC와 삼각형 QBD가 닮음임을 이용하여 $f(\theta)$ 를 구해보자.
 $2\angle BDC = \angle BAC$ 이고 선분 BC를 공유하므로
삼각형 BCD는 중심이 점 A인 원에 내접한다.

원의 반지름을 R라 할 때, 사인법칙에 의해
 $2R = \frac{\overline{BC}}{\sin(\angle BDC)}$ 이고, $R = \frac{2}{\sin \theta}$ 이다.

즉, 삼각형 BCD는 중심이 점 A이고 반지름이 $\frac{2}{\sin \theta}$ 인 원에 내접한다.

사인법칙에 의해 $2R = \frac{\overline{BD}}{\sin(\angle BCD)}$ 이므로 $\overline{BD} = \frac{4\cos 2\theta}{\sin \theta}$ 이다.

사인법칙에 의해 $\frac{\overline{PQ}}{\sin(\angle PAQ)} = \frac{\overline{AP}}{\sin(\angle AQP)}$ 이고,

$\overline{AP} = \frac{1}{\sin \theta \cos \theta}$ 이므로 $\overline{PQ} = \frac{1}{\sin 3\theta \cos \theta}$ 이다.

$$\therefore f(\theta) = \frac{1}{\sin 3\theta \cos \theta}$$

이하 풀이는 위와 같다.

따라서 $\lim_{\theta \rightarrow 0^+} \frac{f(\theta)}{g(\theta)} = \frac{1}{16}$ 이다.

[별해2]

삼각형 APC가 이등변삼각형이기 때문에 선분 AC의 수직이등분선이 선분 BC의 수직이등분선 위의 점 P를 지난다.

즉, 삼각형 ABC는 점 P를 중심으로 하고 반지름이 \overline{AP} 인 원에 내접한다.
그러므로 사인법칙에 의해 $2\overline{AP} = \frac{\overline{BC}}{\sin(\angle BAC)}$ 이다.

이하 풀이는 위와 같다.

따라서 $\lim_{\theta \rightarrow 0^+} \frac{f(\theta)}{g(\theta)} = \frac{1}{16}$ 이다.

29) [정답] 43 (출제자 : 21 김민성)

[출제의도] 주어진 조건을 바탕으로 함수의 그래프의 특징을 파악하고 미분과 적분을 할 수 있는가?

[해설]

(가) 조건에서 $0 \leq x < 1$ 일 때, $f(x) = (x^2 - 3x + 3)e^x - 3$ 이다.

이때 실수 전체의 집합에서 정의된 함수

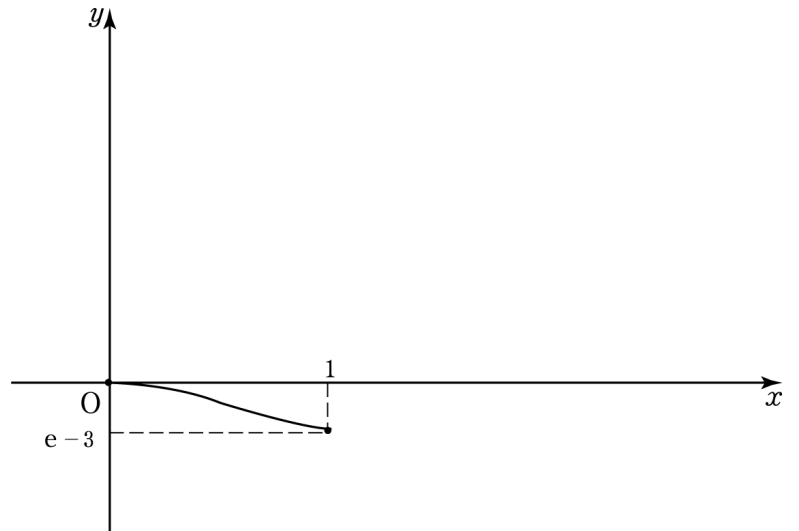
$$g(x) = (x^2 - 3x + 3)e^x - 3 \text{에 대하여}$$

$$g'(x) = (x^2 - x)e^x \text{ 이다.}$$

그러므로 곡선 $y = g(x)$ 는 $x = 0$ 에서 극댓값 0을 가지고, $x = 1$ 에서 극솟값 $e - 3$ 을 갖는다.

또한, 함수 $f(x)$ 는 실수 전체의 집합에서 미분가능하므로 $x = 1$ 에서 연속이다. 즉, $f(1) = \lim_{x \rightarrow 1^-} g(x) = e - 3$ 이다.

따라서 $0 \leq x \leq 1$ 일 때, 함수 $f(x)$ 의 그래프는 닫힌구간 $[0, 1]$ 에서 다음과 같다.



(나) 조건에서 $f(x+2) = -f(x) + f(5)$, $f(x) + f(x+2) = f(5)$ 이고 함수 $f(x)$ 가 $f(x) + f(x+2) = f(5)$ 를 만족시키면
함수 $f(x)$ 는 $f(x+2) + f(x+4) = f(5)$ 도 만족시킨다.

두 식 $f(x) + f(x+2) = f(5)$, $f(x+2) + f(x+4) = f(5)$ 를 연립하면
 $f(x) = f(x+4)$ 이므로 함수 $f(x)$ 는 주기가 4인 주기함수이다.
즉 $f(5) = f(1)$ 이고, $f(x) + f(x+2) = f(5) = f(1) = e - 3$ 이다.

위에서 얻은 식 $f(x+2) = -f(x) + f(1)$ 에서

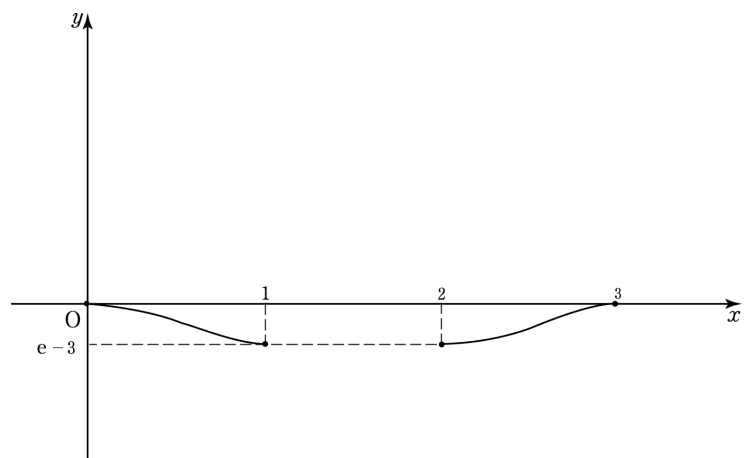
$2 \leq x \leq 3$ 일 때 함수 $y = f(x)$ 의 그래프는

$0 \leq x \leq 1$ 일 때 함수 $y = f(x)$ 의 그래프를

x 축에 대하여 대칭이동하고 y 축의 방향으로

$e - 3$ 만큼 평행이동한 그래프와 같다.

따라서 지금까지 알아낸 함수 $f(x)$ 의 그래프는 다음과 같다.



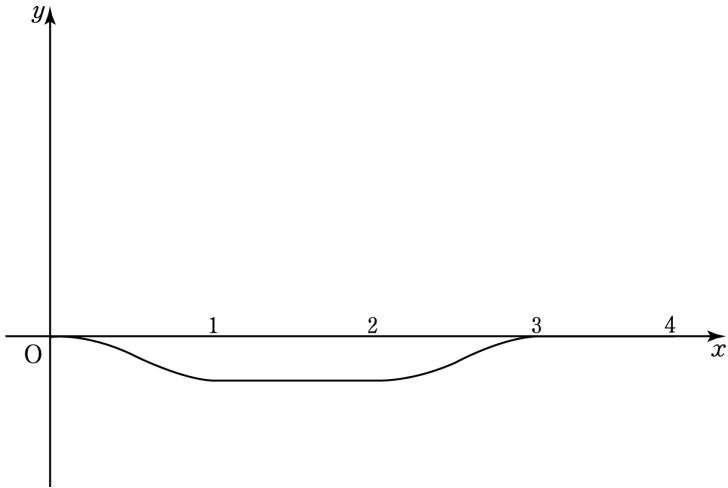
$1 \leq x \leq 2$ 일 때 함수 $f(x)$ 의 그래프를 추론하자.

주어진 조건에서 $1 < x < 2$ 일 때 $f'(x) \geq 0$ 이다.

수학 영역(미적분)

이때 위 그림에서 $f(1) = f(2)$ 이므로
어떤 실수 a ($1 < a < 2$)가 $f'(a) > 0$ 을 만족시키면
 $f'(b) < 0$ 을 만족시키는 실수 b ($1 < b < 2$)가 존재해야 한다.
이는 위 조건에 모순이므로 $1 \leq x \leq 2$ 일 때 $f'(x) = 0$ 이다.

즉 $1 \leq x \leq 2$ 일 때 $f(x) = e - 3$ 이고,
 $2 \leq x \leq 3$ 일 때 함수 $f(x)$ 의 그래프를 구한 것과 같은 방식으로
 $3 \leq x \leq 4$ 일 때 $f(x) = 0$ 임을 알 수 있다.
따라서 $0 \leq x \leq 4$ 일 때 함수 $f(x)$ 의 그래프는 다음과 같다.



함수 $f(x)$ 는 주기가 4인 주기함수이므로
 $\int_0^{14} f(x) dx = 3 \int_0^4 f(x) dx + \int_0^2 f(x) dx$ 이다.

이때 위의 그림에서
 $\int_0^1 f(x) dx + \int_2^3 f(x) dx = 1 \times f(1) = e - 3$ 이고
 $\int_1^2 f(x) dx = 1 \times f(1) = e - 3$ 이므로
 $\int_0^4 f(x) dx = 2f(1) = 2e - 6$ 이다.

$$\begin{aligned} \int_0^1 f(x) dx &= \int_0^1 \{(x^2 - 3x + 3)e^x - 3\} dx \\ &= [(x^2 - 3x + 3)e^x - (2x - 3)e^x + 2e^x - 3x]_0^1 \\ &= 4e - 11 \end{aligned}$$

$\int_0^2 f(x) dx = (4e - 11) + (e - 3) = 5e - 14$ 이므로
 $\int_0^{14} f(x) dx = 3(2e - 6) + (5e - 14) = 11e - 32$ 이다.
따라서 $a + b = 43$ 이다.

[별해]

위의 과정에서 $\int_0^4 f(x) dx$ 의 값을 다른 방식으로도 구할 수 있다.
 $f(x) + f(x+2) = f(1)$ 의 양변을 0부터 1까지 적분하면
 $\int_0^1 f(x) dx + \int_2^3 f(x) dx = 1 \times f(1) = \int_1^2 f(x) dx$ 이므로
 $\int_0^4 f(x) dx = 2f(1) = 2e - 6$ 이다.

30) [정답] 108 (출제자 : 21 김민성)

[출제의도] 절댓값으로 정의된 함수의 미분가능성을 파악하고 미분을 통해 함수를 해석할 수 있는가?

[해설]

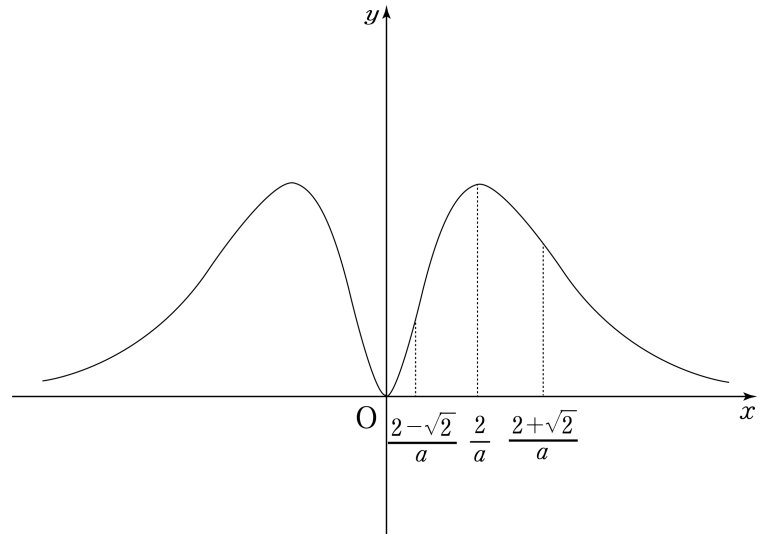
식 $f(x) + tf'(t) - f(t) - xf'(x)$ 를 정리하면
 $f(x) + tf'(t) - f(t) - xf'(x) = f(x) - f'(t)(x-t) - f(t)$
 $= f(x) - \{f'(t)(x-t) + f(t)\}$ 이다.

곡선 $y = f(x)$ 위의 점 $(t, f(t))$ 에서의 접선의 방정식을 $y = h(x)$ 라 하면
 $|f(x) + tf'(t) - f(t) - xf'(x)| = |f(x) - h(x)|$ 이므로
곡선 $y = f(x)$ 가 직선 $y = h(x)$ 와 만나는 점 중
곡선 $y = f(x)$ 가 직선 $y = h(x)$ 에 접하지 않는 점이 존재할 때
함수 $|f(x) - h(x)|$ 는 그 점에서 미분가능하지 않고
이를 만족시키는 모든 점의 개수가 $g(t)$ 이다.

이제 함수 $y = f(x)$ 의 개형을 파악하자.
모든 실수 x 에 대하여 $f(-x) = f(x)$ 이므로
 $x \geq 0$ 일 때 함수 $y = f(x)$ 의 개형을 먼저 파악하자.

$x \geq 0$ 일 때, $f(x) = x^2 e^{-ax+2}$ 에서
 $f'(x) = (-ax^2 + 2x)e^{-ax+2}$,
 $f''(x) = (a^2x^2 - 4ax + 2)e^{-ax+2} = \{(ax-2)^2 - 2\}e^{-ax+2}$ 이다.

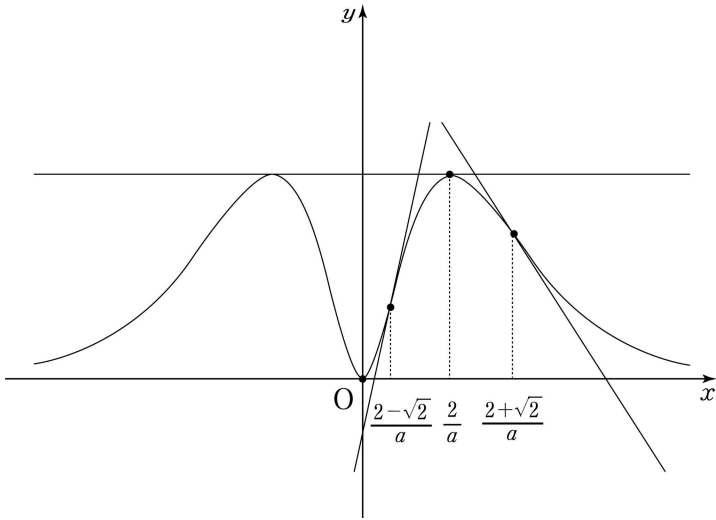
$x \geq 0$ 일 때 함수 $f(x)$ 는 $x=0$, $x = \frac{2}{a}$ 에서 극값을 갖고
곡선 $y = f(x)$ 의 변곡점의 x 좌표는 $\frac{2-\sqrt{2}}{a}$, $\frac{2+\sqrt{2}}{a}$ 이다.
또한 $\lim_{x \rightarrow \infty} f(x) = 0$ 이므로 함수 $y = f(x)$ 의 개형은 다음과 같다.



위의 그림에서 $g(t) = 0$,
즉 함수 $|f(x) - h(x)|$ 가 실수 전체의 집합에서 미분가능하기 위해서는
곡선 $y = f(x)$ 가 직선 $y = h(x)$ 와 만나는 모든 점에서
곡선 $y = f(x)$ 가 직선 $y = h(x)$ 에 접해야 한다.

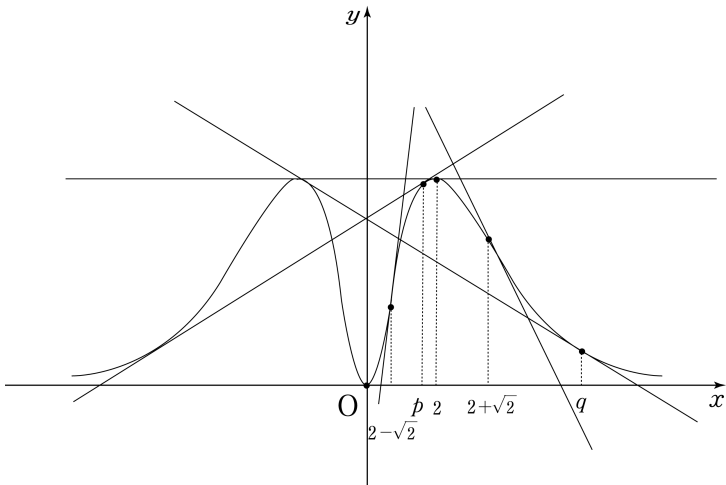
직선 $y = h(x)$ 가 곡선 $y = f(x)$ 위의 점 $(t, f(t))$ 에서의
접선의 방정식임을 이용해 $g(t) = 0$ 을 만족시키는
모든 t 의 값을 $t \geq 0$ 에서 관찰하면
다음과 같이 $t = 0, \frac{2-\sqrt{2}}{a}, \frac{2}{a}, \frac{2+\sqrt{2}}{a}$ 이다.

수학 영역(미적분)



즉, 함수 $f(x)$ 가 $x=t$ 에서 극값을 갖거나 곡선 $y=f(x)$ 의 변곡점의 x 좌표가 t 일 때 $g(t)=0$ 이므로 $t_1 = \frac{2+\sqrt{2}}{a}$, $f(x)$ 는 y 축에 대하여 대칭이기 때문에 $t_2 = -\frac{2}{a}$ 이다. $t_1+t_2 = \frac{\sqrt{2}}{a}$ 에서 $t_1+t_2 = \sqrt{2}$ 이므로 $a=1$ 이다.

이제 함수 $g(t)$ 가 불연속인 점의 개수를 파악하자. 위와 같은 방식으로 함수 $g(t)$ 가 불연속인 모든 t 의 값을 $t \geq 0$ 에서 관찰하면 다음과 같다.



위 그림에서 곡선 $y=f(x)$ 가 직선 $y=h(x)$ 와 서로 다른 세 점에서 만나고 그 중 두 점에서 접하도록 하는 양수 t 의 값을 각각 p, q ($p < q$)라 할 때, 함수 $g(t)$ 가 불연속인 모든 양수 t 의 개수가 5이므로 함수 $g(t)$ 가 불연속인 모든 음수 t 의 개수도 5이다. 따라서 함수 $g(t)$ 가 불연속인 점의 개수는 $5+1+5=11$ 이므로 $n=11$ 이다.

이제 위에서 관찰한 t 의 값을 기준으로 함수 $g(t)$ 의 값을 $t \geq 0$ 에서 관찰하자.

이때 위 그림에서 $t=0, t=2-\sqrt{2}, t=2, t=2+\sqrt{2}$ 일 때 $g(t)=0$, $t=p, t=q$ 일 때 $g(t)=1$ 이다. 즉, 함수 $g(t)$ 가 불연속인 모든 t 에 대하여 $g(t)$ 의 값을 알고 있으므로 위에 포함되지 않는 t 에 대하여

$g(t)$ 의 값을 관찰하면 다음과 같다.

- i) $0 < t < 2-\sqrt{2}$ 일 때, $g(t)=1$
- ii) $2-\sqrt{2} < t < p$ 일 때, $g(t)=1$
- iii) $p < t < 2$ 일 때, $g(t)=3$
- iv) $2 < t < 2+\sqrt{2}$ 일 때, $g(t)=1$
- v) $2+\sqrt{2} < t < q$ 일 때, $g(t)=1$
- vi) $t > q$ 일 때, $g(t)=3$

이제 $\sum_{k=1}^6 g(2^{k-2}) = g\left(\frac{1}{2}\right) + g(1) + g(2) + g(4) + g(8) + g(16)$ 의 값을 구하자.

$g\left(\frac{1}{2}\right)$ 의 값에 대하여 $0 < \frac{1}{2} < 2-\sqrt{2}$ 이므로 i)에 의하여 $g\left(\frac{1}{2}\right)=1$ 이다.

$g(1)$ 의 값에 대하여 $2-\sqrt{2} < 1 < 2$ 이다. 하지만 p 의 값을 알 수 없으므로 곡선 $y=f(x)$ 위의 점 $(1, f(1))$ 에서의 접선의 방정식을 직접 세워보자.

$x \geq 0$ 일 때 $f(x) = x^2 e^{-x+2}$, $f'(x) = (-x^2 + 2x)e^{-x+2}$ 이므로 $f(1) = e$, $f'(1) = e$, 즉 $y = ex$ 이다. 곡선 $y=f(x)$ 위의 점 $(1, f(1))$ 에서의 접선이 원점을 지나므로 $2-\sqrt{2} < 1 < p$ 임을 알 수 있다. 따라서 ii)에 의하여 $g(1)=1$ 이다.


$g(2)$ 의 값이 0임을 이미 관찰했으므로 $g(2)=0$ 이다.

$g(4), g(8), g(16)$ 의 값에 대하여 $2+\sqrt{2} < 4 < 8 < 16$ 이고 q 의 값을 알 수 없다. 하지만 주어진 조건 $g(6) \neq g(7)$ 에 의하여 $6 < q < 7$ 이므로 v)에 의하여 $g(4)=1$, vi)에 의하여 $g(8)=g(16)=3$ 이다.

따라서 구하는 값은 $(a+n) \sum_{k=1}^6 g(2^{k-2}) = (1+11) \times (1+1+0+1+3+3) = 12 \times 9 = 108$ 이다.

수학 영역(가하) 해설지

Epsilon



정답 및 해설

23) [정답] ① (출제자 : 20 김유진)

[출제의도] 공간좌표에서의 대칭이동을 이용하여 간단한 계산을 할 수 있는가?

[해설]

좌표공간의 점 $P(2a-2, b-4, 2)$ 를 zx 평면에 대하여 대칭이동한 점의 좌표는 $(2a-2, -b+4, 2)$ 이다.

$2a-2=2$ 이고 $-b+4=3$ 이므로 $a=2, b=1$ 이다.

따라서 $a+b=3$ 이다.

24) [정답] ⑤ (출제자 : 20 정원철)

[출제의도] 타원의 성질을 이용하여 주어진 값을 구할 수 있는가?

[해설]

$\overline{FF'} = 4$ 이므로 삼각형 $PF'F$ 의 한 변의 길이는 4 이다.

타원의 성질에 의하여 $\overline{PF'} + \overline{PF} = 2|a| = 8$ 이므로 $a^2 = 16$ 이다.

타원의 한 초점 F 의 좌표가 $(2, 0)$ 이므로

$b^2 = a^2 - 4 = 16 - 4 = 12$ 이다.

따라서 $a^2 + b^2 = 28$ 이다.

25) [정답] ② (출제자 : 19 황주영)

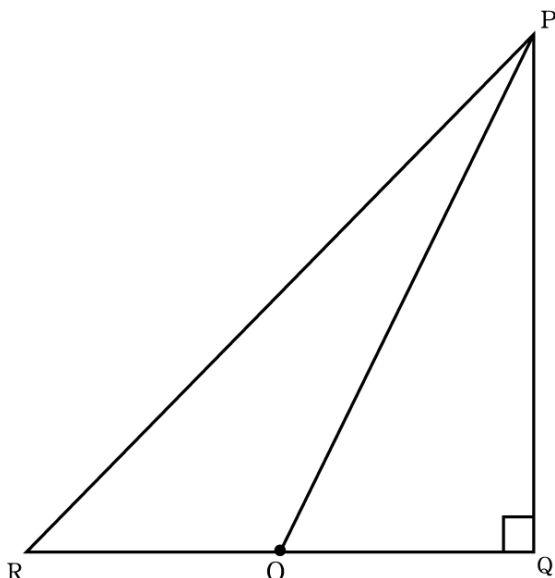
[출제의도] 삼수선의 정리를 이용하여 문제를 해결할 수 있는가?

[해설]

원과 직선 l 의 접점을 R 라 하자. $\overline{OR} \perp l$ 이므로 $\overline{QR} \perp l$ 이다.

$\overline{PQ} \perp \alpha$ 이므로 삼수선의 정리에 의해 $\overline{PR} \perp l$ 이고,

$\angle PRQ$ 는 점 P 와 직선 l 을 지나는 평면과 평면 α 가 이루는 각이다.



위 그림에서 $\overline{QR} = 6$ 이고 $\angle PRQ = 45^\circ$ 이므로 $\overline{PQ} = 6$ 이다.

$\overline{OQ} = 3$ 이므로 피타고라스의 정리에 의해 $\overline{OP} = 3\sqrt{5}$ 이다.

*점 Q 가 직선 l 과 원의 접점에 위치하는 경우는

점 P 와 직선 l 을 지나는 평면과 평면 α 가 수직이므로 생각하지 않는다.

26) [정답] ① (출제자 : 20 정원철)

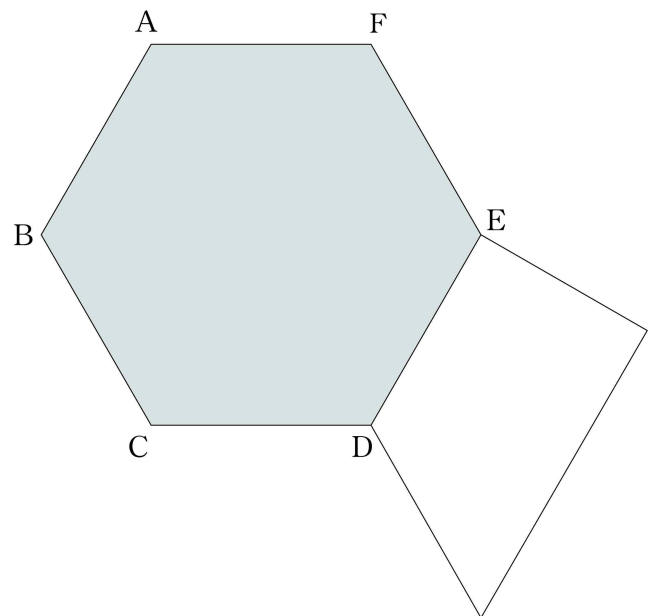
[출제의도] 평면벡터의 내적으로 표현된 영역의 넓이를 구할 수 있는가?

[해설]

점 P 가 선분 BC 위를 움직이므로 $|\overline{AB}| \leq |\overline{AP}| \leq |\overline{AC}|$ 이다.

그러므로 $|\overline{AB}|^2 \leq \overline{AB} \cdot \overline{AP} \leq |\overline{AB}| |\overline{AC}| \cos 30^\circ$ 이고

$1 \leq \overline{AB} \cdot \overline{AP} \leq \frac{3}{2}$ 이다.



$(\overline{AB} \cdot \overline{AP}) \overline{AQ}$ 가 나타내는 영역은 위 그림과 같다.

따라서 점 X 가 나타내는 영역은 윗변의 길이가 1, 아랫변의 길이가 $\frac{3}{2}$,

높이가 $\frac{\sqrt{3}}{2}$ 인 사다리꼴이므로 넓이는

$\frac{1}{2} \times \left(1 + \frac{3}{2}\right) \times \frac{\sqrt{3}}{2} = \frac{5\sqrt{3}}{8}$ 이다.

27) [정답] ③ (출제자 : 20 이선우)

[출제의도] 쌍곡선의 접선의 방정식을 이용하여 주어진 문제를 해결할 수 있는가?

[해설]

쌍곡선 위의 점 P 에서의 접선의 방정식은 $kx - \frac{2\sqrt{6}}{a^2}y = 1$ 이고

x 절편은 $\frac{1}{k}$ 이므로

수학 영역(기하)

$\overline{OQ} = \frac{1}{k}$ 이다.

한편, $l_2 - l_1 = (\overline{PF'} - \overline{PF}) + (\overline{QF'} - \overline{QF}) = \frac{8}{3}$ 에서

주어진 쌍곡선의 주축의 길이는 2 이므로

$(\overline{PF'} - \overline{PF}) + (\overline{QF'} - \overline{QF}) = 2 + (\overline{QF'} - \overline{QF}) = \frac{8}{3}$ 이다.

즉, $\overline{QF'} - \overline{QF} = \frac{2}{3}$ 이다.

이때, $\overline{QF'} - \overline{QF} = (\overline{OF'} + \overline{OQ}) - (\overline{OF} - \overline{OQ}) = 2\overline{OQ} = \frac{2}{k} = \frac{2}{3}$

이므로 $k = 3$ 이다.

점 $P(3, 2\sqrt{6})$ 을 쌍곡선의 방정식에 대입하면 $a^2 = 3$ 이므로

주어진 쌍곡선의 방정식은 $x^2 - \frac{y^2}{3} = 1$ 이다.

두 초점 F, F' 의 좌표가 $(2, 0), (-2, 0)$ 이므로

$\overline{FF'} = 4, \overline{FP} = 5, \overline{F'P} = 7$ 이다.

따라서 삼각형 FPF' 의 둘레의 길이는 16 이다.

28) [정답] ④ (출제자 : 20 김동연)

[출제의도] 평면벡터의 내적을 이용하여 구하고자 하는 값을 구할 수 있는가?

[해설]

$\overrightarrow{BA} = \vec{a}, \overrightarrow{BC} = \vec{b}$ 라 놓으면 $\overrightarrow{BD} = \frac{1}{3}\vec{a} + \frac{2}{3}\vec{b}, \overrightarrow{BG} = \frac{1}{3}\vec{a} + \frac{1}{3}\vec{b},$

$\overrightarrow{BE} = \frac{3}{4}\vec{b}$ 이다.

$\overrightarrow{BF} = t\overrightarrow{BD} (0 < t < 1, t$ 는 실수)이고

$\overrightarrow{BF} = s\overrightarrow{BG} + (1-s)\overrightarrow{BE} (0 < s < 1, s$ 는 실수)이므로

$t\overrightarrow{BD} = s\overrightarrow{BG} + (1-s)\overrightarrow{BE}$ 이다.

$\frac{t}{3}\vec{a} + \frac{2t}{3}\vec{b} = s\left(\frac{1}{3}\vec{a} + \frac{2}{3}\vec{b}\right) + (1-s)\left(\frac{3}{4}\vec{b}\right)$ 에서

$\frac{t}{3} = \frac{s}{3}, \frac{2t}{3} = \frac{s}{3} + \frac{3-3s}{4}$ 이므로 $t = s = \frac{9}{13}$ 이다.

그러므로 $\overrightarrow{BF} = \frac{9}{13}\overrightarrow{BD} = \frac{3}{13}\vec{a} + \frac{6}{13}\vec{b}$ 이다.

$\overrightarrow{AF} = \overrightarrow{BF} - \overrightarrow{BA} = -\frac{10}{13}\vec{a} + \frac{6}{13}\vec{b}$ 이므로

$\overrightarrow{AF} \cdot \overrightarrow{DB} = \left(-\frac{10}{13}\vec{a} + \frac{6}{13}\vec{b}\right) \cdot \left(-\frac{1}{3}\vec{a} - \frac{2}{3}\vec{b}\right)$

$$= \frac{2}{39} \times (5\vec{a} - 3\vec{b}) \cdot (\vec{a} + 2\vec{b})$$

$$= \frac{2}{39} \times \{5|\vec{a}|^2 - 6|\vec{b}|^2 + 7(\vec{a} \cdot \vec{b})\}$$

$$= \frac{2}{39} \times \{45 - 78 + 7(\vec{a} \cdot \vec{b})\}$$

$$= \frac{20}{13} \text{ 이다.}$$

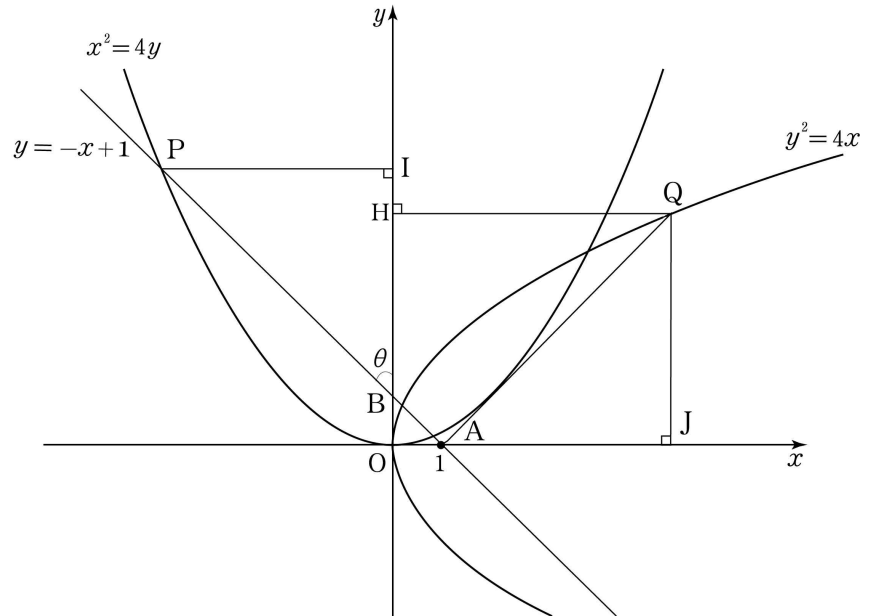
따라서 $\vec{a} \cdot \vec{b} = 9, \cos(\angle ABC) = \frac{\vec{a} \cdot \vec{b}}{|\vec{a}||\vec{b}|} = \frac{9}{3 \times \sqrt{13}} = \frac{3\sqrt{13}}{13}$

이다.

29) [정답] 19 (출제자 : 19 황주영)

[출제의도] 포물선의 정의와 두 포물선 사이의 관계를 이용하여 문제를 해결할 수 있는가?

[해설]



점 $(0, 1)$ 을 B 라 하자.

포물선 $y^2 = 4x, x^2 = 4y$ 의 준선은 각각 $x = -1, y = -1$ 이다.

$\overline{PA} = \overline{PB} + \overline{AB}$ 이고 점 A 는 포물선 $y^2 = 4x$ 의 초점이므로

포물선의 정의에 의해 $\overline{QA} = \overline{QH} + 1$ 이다.

그러므로 $\overline{PA} - \overline{QH} = (\overline{PB} + \overline{AB}) - (\overline{QA} - 1) = 1 + \sqrt{2}$ 이고

$\overline{AB} = \sqrt{2}$ 이므로 $\overline{PB} = \overline{QA}$ 이다.

한편, 점 P 에서 y 축에 내린 수선의 발을 I , 점 Q 에서 x 축에 내린 수선의 발을 J 라 하자.

점 B 는 포물선 $x^2 = 4y$ 의 초점이므로 포물선의 정의에 의하여

$\overline{BI} = \overline{PB} - 2, \overline{AJ} = \overline{QA} - 2$ 이고 $\overline{BI} = \overline{AJ}$ 이다.

즉, 삼각형 PBI 와 삼각형 QAJ 는 RHS 합동이다.

$\angle PBI = \theta$ 라 하자. 점 O 를 원점이라 하면 맞꼭지각의 성질에 의해 $\angle ABO = \theta$ 이므로 $\angle BAO = 90^\circ - \theta$ 이다.

또한, $\angle QAJ = \theta$ 이므로 $\angle PAQ = 90^\circ$ 이다.

즉, 삼각형 PQA 는 직각삼각형이고 이 삼각형의 외접원의 지름은 선분 PQ 이다.

점 P 의 좌표는 $(-2 - 2\sqrt{2}, 3 + 2\sqrt{2})$ 이고 포물선의 정의를 이용하면 $\overline{PB} = 4 + 2\sqrt{2}$ 임을 알 수 있다.

즉, $\overline{PA} = 4 + 3\sqrt{2}, \overline{QA} = 4 + 2\sqrt{2}$ 이고, 삼각형 PQA 의

외접원의 넓이는 $\left(\frac{\overline{PA}^2 + \overline{QA}^2}{4}\right)\pi = \left(\frac{29}{2} + 10\sqrt{2}\right)\pi$ 이다.

따라서 $a = \frac{29}{2}, b = 10$ 이므로 $2a - b = 19$ 이다.

[별해] - 삼각형 PQA 가 직각삼각형을 보이는 또 다른 방법

포물선 $x^2 = 4y$ 는 포물선 $y^2 = 4x$ 을 원점을 중심으로 반시계 방향으로 90° 회전시켜서 생긴 포물선이다. 이 회전으로 인하여 선분 QA 는 선분 PB 로 옮겨지고, 두 선분의 연장선이 이루는 각의 크기는 90° 이다.

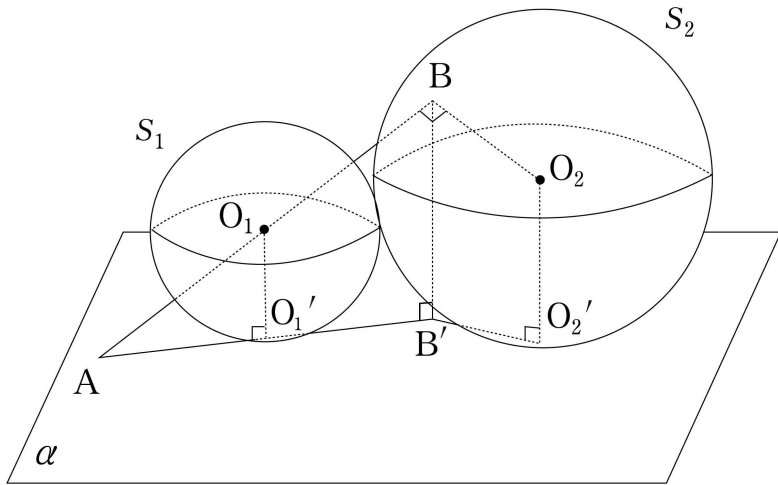
따라서 삼각형 PQA 는 직각삼각형이다.

수학 영역(기하)

30) [정답] 26 (출제자 : 20 김동연)

[출제의도] 공간도형에서의 구의 성질을 이용하여 정사영의 넓이를 구할 수 있는가?

[해설]

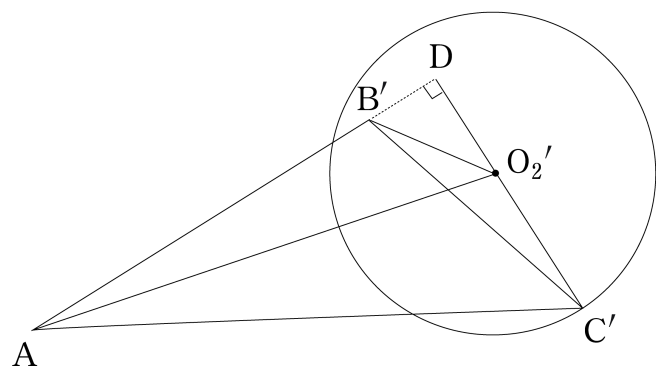


점 O_1 에서 평면 α 에 내린 수선의 발을 O_1' ,
 점 O_2 에서 평면 α 에 내린 수선의 발을 O_2' ,
 점 B 에서 평면 α 에 내린 수선의 발을 B' 이라 하자.

직선 AB 와 평면 α 와 이루는 각은 $\angle BAB'$ 이므로 $\angle BAB' = 30^\circ$ 이다.
 $\overline{O_1O_1'} = 2$, $\angle O_1AO_1' = 30^\circ$ 이므로
 $\overline{O_1A} = \frac{2}{\sin 30^\circ} = 4$ 이다.

직선 BO_1 이 구 S_2 와 한 점에서 만나므로 접하고, 삼각형 BO_1O_2 는
 직각삼각형이고 $\overline{O_1O_2} = 5$, $\overline{BO_2} = 3$ 이므로 $\overline{BO_1} = 4$ 이다.
 그러므로 $\overline{AB} = 8$ 이고 $\overline{BB'} = \overline{AB} \times \sin 30^\circ = 4$ 이다.

점 C 에서 평면 α 에 내린 수선의 발을 C' 이라 하자.
 점 C 는 구 S_2 위의 점이므로 점 C' 은 중심이 점 O_2' 이고
 반지름의 길이가 3인 원의 내부와 경계에 존재할 수 있다.
 그러므로 삼각형 ABC 의 평면 α 위로의 정사영의 넓이가 최대가 되려면
 아래 그림과 같이 점 C' 과 직선 AB' 사이의 거리가 최대가 되어야 한다.
 이때 직선 $C'O_2'$ 과 직선 AB' 의 교점을 D 라 하자.



구하고자 하는 값은 $\frac{1}{2} \times \overline{AB'} \times \overline{C'D}$ 이다.
 그러므로 $\overline{AB'}$ 과 $\overline{O_2'D}$ 의 값을 구해야 한다.
 $\overline{AB'} = \overline{AB} \times \cos 30^\circ = 4\sqrt{3}$ 이다.
 $\overline{O_2'D}$ 의 값을 구하기 위해 두 삼각형 $O_2'B'D$ 와 $O_2'AD$ 를 살펴보자.

$$\begin{aligned} \overline{AO_2'}^2 &= \overline{AO_2}^2 - \overline{O_2O_2'}^2 = \overline{AO_2}^2 - \overline{O_2B}^2 = \overline{AB}^2 \text{ 이므로} \\ \overline{AO_2'} &= 8 \text{ 이다.} \\ \overline{B'O_2'}^2 &= \overline{BO_2}^2 - (\overline{BB'} - \overline{O_2O_2'})^2 = 9 - 1 = 8 \text{ 이므로} \\ \overline{B'O_2'} &= 2\sqrt{2} \text{ 이다.} \\ \overline{O_2'D} &= k \text{ 라 하면, } \overline{B'D} = \sqrt{8 - k^2} \text{ 이고 } \overline{AO_2'}^2 = \overline{AD}^2 + \overline{O_2'D}^2 \\ \text{이므로 } 64 &= (4\sqrt{3} + \sqrt{8 - k^2})^2 + k^2 \text{ 이다.} \\ \text{이 식을 풀면 } 64 &= 48 + 8\sqrt{24 - 3k^2} + 8 - k^2 + k^2 \text{ 이므로} \\ \sqrt{24 - 3k^2} &= 1, \overline{O_2'D} = k = \frac{\sqrt{69}}{3} \text{ 이다.} \end{aligned}$$

따라서 삼각형 ABC 의 평면 α 위로의 정사영의 넓이의 최댓값은
 $\frac{1}{2} \times 4\sqrt{3} \times \left(\frac{\sqrt{69}}{3} + 3\right) = 2\sqrt{23} + 6\sqrt{3}$ 이고,
 $p + q = 23 + 3 = 26$ 이다.