

제 2 교시

수학 영역

5지선다형

1. $(\sqrt{2})^4 \times 8^{-\frac{2}{3}}$ 의 값은? [2점]

- ① 1 ② 2 ③ 3 ④ 4 ⑤ 5

$$2^{\frac{1}{2} \times 4} \times 2^{-2} = 2^0 = 1$$

2. 함수 $f(x) = x^3 + 9$ 에 대하여 $\lim_{h \rightarrow 0} \frac{f(2+h) - f(2)}{h}$ 의 값은? [2점]

- ① 11 ② 12 ③ 13 ④ 14 ⑤ 15

$$f'(x) = 3x^2$$

$$f'(2) = 3 \cdot 2^2 = 12$$

3. $\frac{\pi}{2} < \theta < \pi$ 인 θ 에 대하여 $\cos^2 \theta = \frac{4}{9}$ 일 때, $\sin^2 \theta + \cos \theta$ 의 값은? [3점]

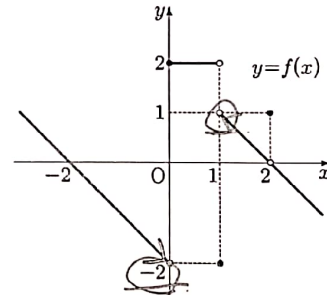
- ① $-\frac{4}{9}$ ② $-\frac{1}{3}$ ③ $-\frac{2}{9}$ ④ $-\frac{1}{9}$ ⑤ 0

$$\sin^2 \theta = 1 - \cos^2 \theta = \frac{5}{9}$$

$$\cos \theta = -\frac{2}{3} \quad (\cos \theta < 0)$$

$$\sin^2 \theta + \cos \theta = \frac{5}{9} - \frac{2}{3} = -\frac{1}{9}$$

4. 함수 $y = f(x)$ 의 그래프가 그림과 같다.



$\lim_{x \rightarrow 0^-} f(x) + \lim_{x \rightarrow 1^+} f(x)$ 의 값은? [3점]

- ① -2 ② -1 ③ 0 ④ 1 ⑤ 2

$$-2 + 1 = -1$$

5. 모든 항이 양수인 등비수열 $\{a_n\}$ 에 대하여

$$a_1 = \frac{1}{4}, \quad a_2 + a_3 = \frac{3}{2}$$

일 때, $a_6 + a_7$ 의 값은? [3점]

- ① 16 ② 20 ③ 24 ④ 28 ⑤ 32

공비 $\rightarrow r$

$$a_2 + a_3 = \frac{1}{4}(r + r^2) = \frac{3}{2} \rightarrow r^2 + r - 6 = 0$$

$$r = 2 \quad (r > 0)$$

$$a_6 + a_7 = 2^4(a_2 + a_3)$$

$$= 16 \times \frac{3}{2} = 24$$

6. 두 양수 a, b 에 대하여 함수 $f(x)$ 가

$$f(x) = \begin{cases} x+a & (x < -1) \\ x & (-1 \leq x < 3) \\ bx-2 & (x \geq 3) \end{cases}$$

이다. 함수 $|f(x)|$ 가 실수 전체의 집합에서 연속일 때, $a+b$ 의 값은? [3점]

- ① $\frac{7}{3}$ ② $\frac{8}{3}$ ③ 3 ④ $\frac{10}{3}$ ⑤ $\frac{11}{3}$

	좌극한	우극한
$ f(x) $	$ a-1 $	1
	3	$ 3b-2 $

이므로

연속이므로, $|a-1|=1$ 에서 $a=2 \quad (a > 0)$

$3 = |3b-2|$ 에서 $b = \frac{5}{3} \quad (b > 0)$

$$a+b = \frac{11}{3}$$

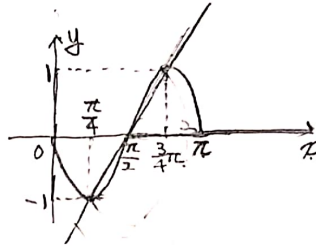
7. 닫힌구간 $[0, \pi]$ 에서 정의된 함수 $f(x) = -\sin 2x$ 가

$x=a$ 에서 최댓값을 갖고 $x=b$ 에서 최솟값을 갖는다.

곡선 $y=f(x)$ 위의 두 점 $(a, f(a)), (b, f(b))$ 를 지나는

직선의 기울기는? [3점]

- ① $\frac{1}{\pi}$ ② $\frac{2}{\pi}$ ③ $\frac{3}{\pi}$ ④ $\frac{4}{\pi}$ ⑤ $\frac{5}{\pi}$



$$\frac{2}{\frac{\pi}{2}} = \frac{4}{\pi} \quad \left(x = \frac{\pi}{4} \sim x = \frac{3}{4}\pi \right)$$

또한 직선이 $(\frac{\pi}{2}, 0)$ 호 지나므로

$$\frac{1}{\frac{\pi}{4}} = \frac{4}{\pi} \quad \left(x = \frac{\pi}{4} \sim x = \frac{\pi}{2} \right)$$

또 가능

8. 실수 전체의 집합에서 미분가능하고 다음 조건을 만족시키는 모든 함수 $f(x)$ 에 대하여 $f(5)$ 의 최솟값은? [3점]

(가) $f(1)=3$
 (나) $1 < x < 5$ 인 모든 실수 x 에 대하여 $f'(x) \geq 5$ 이다.

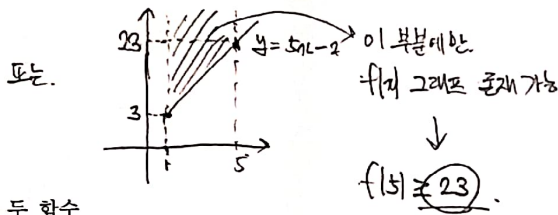
- ① 21 ② 22 ③ 23 ④ 24 ⑤ 25

평균값 정리에 의해

$$\frac{f(5) - f(1)}{5 - 1} = f'(c) \geq 5 \text{ 를 만족시키는}$$

실수 c 가 $(1, 5)$ 에 존재 하고

$$\frac{f(5) - f(1)}{5 - 1} \geq 5 \text{ 에서 } f(5) \geq 23$$



9. 두 함수

$$f(x) = x^3 - x + 6, \quad g(x) = x^2 + a$$

가 있다. $x \geq 0$ 인 모든 실수 x 에 대하여 부등식

$$f(x) \geq g(x)$$

가 성립할 때, 실수 a 의 최댓값은? [4점]

- ① 1 ② 2 ③ 3 ④ 4 ⑤ 5

$$f(x) - g(x) = x^3 - x^2 - x + 6 - a \geq 0$$

에서 $f'(x) - g'(x) = 3x^2 - 2x - 1$

$x=1$ 에서 극소를 가지고
 이는 $x \geq 0$ 에서 유일한 극값
 \rightarrow 최댓값은 $x=1$ 일 때이다.

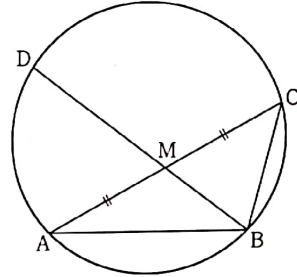
$$f(1) - g(1) = 5 - a \geq 0$$

$$a \leq 5$$

10. 그림과 같이 $\overline{AB}=3, \overline{BC}=2, \overline{AC} > 3$ 이고

$\cos(\angle BAC) = \frac{7}{8}$ 인 삼각형 ABC가 있다. 선분 AC의 중점을 M,

삼각형 ABC의 외접원이 직선 BM과 만나는 점 중 B가 아닌 점을 D라 할 때, 선분 MD의 길이는? [4점]



- ① $\frac{3\sqrt{10}}{5}$ ② $\frac{7\sqrt{10}}{10}$ ③ $\frac{4\sqrt{10}}{5}$
 ④ $\frac{9\sqrt{10}}{10}$ ⑤ $\sqrt{10}$

$\overline{AC} = p$ 라 할 때, $\cos(\angle BAC) = \frac{3^2 + p^2 - 2^2}{6p} = \frac{7}{8}$

$$4p^2 - 2p + 20 = (4p - 5)(p - 4) = 0$$

에서 $p > 3$ 이므로 $p = 4$

$\overline{BM} = r$ 라 할 때, $\cos(\angle BAM) = \frac{3^2 + 2^2 - r^2}{12} = \frac{7}{8}$

$$r^2 = \frac{5}{2}, \quad r = \frac{\sqrt{10}}{2} \text{ 이다.}$$

두 삼각형 BCM, ADM은 닮음이다

$$\overline{MD} = 2 = 2 \cdot \frac{\sqrt{10}}{2}$$

$$\overline{MD} = \frac{4}{\frac{\sqrt{10}}{2}} = \frac{4}{5}\sqrt{10}$$

4

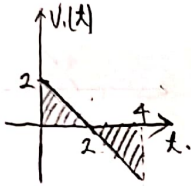
수학 영역

11. 시각 $t=0$ 일 때 동시에 원점을 출발하여 수직선 위를 움직이는 두 점 P, Q의 시각 $t(t \geq 0)$ 에서의 속도가 각각

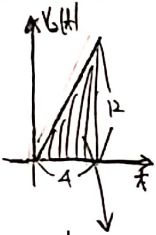
$$v_1(t) = 2 - t, \quad v_2(t) = 3t$$

이다. 출발한 시각부터 점 P가 원점으로 돌아올 때까지 점 Q가 움직인 거리는? [4점]

- ① 16 ② 18 ③ 20 ④ 22 ⑤ 24



↓
 넓이가 같아지는 $t = 4$
 ↓
 (변위 의미) -



$$\frac{1}{2} \times 4 \times 12 = 24 \text{ (변위인 동시에 움직인 거리)}$$

12. 공차가 3인 등차수열 $\{a_n\}$ 이 다음 조건을 만족시킬 때, a_{10} 의 값은? [4점]

(가) $a_5 \times a_7 < 0$

(나) $\sum_{k=1}^6 |a_{k+6}| = 6 + \sum_{k=1}^6 |a_{2k}|$

- ① $\frac{21}{2}$ ② 11 ③ $\frac{23}{2}$ ④ 12 ⑤ $\frac{25}{2}$

공차가 3이므로 $a_1 < a_2 < \dots$

$a_5 < a_6 < a_7 < \dots$ 에서 $a_5 < 0, a_7 > 0$

$$|a_1| + |a_2| + |a_3| + |a_4| + |a_5| + |a_6|$$

$$= 6 + |a_2| + |a_4| + |a_6| + |a_8| + |a_{10}| + |a_{12}|$$

$$|a_1| + |a_2| + |a_3| = |a_2| + |a_4| + |a_6| + 6$$

$a_5 > 0$ 인 경우

$$a_5 + 3 + a_5 + 9 + a_5 + 15 = 12 - a_5 + 6 - a_5 + a_5 + 6$$

$$4a_5 = -3, \quad a_5 = -\frac{3}{4} < 0 \text{ 이므로 배제}$$

$a_5 < 0$ 인 경우

$$a_5 + 3 + a_5 + 9 + a_5 + 15 = 12 - a_5 + 6 - a_5 - a_5 + 6$$

$$6a_5 = -2, \quad a_5 = -\frac{1}{3} \text{ 이라.}$$

$$a_{10} = a_5 + 12 = \frac{23}{2} \text{ 이라.}$$

15. 자연수 k 에 대하여 다음 조건을 만족시키는 수열 $\{a_n\}$ 이 있다.

$$a_1 = 0 \text{이고 모든 자연수 } n \text{에 대하여}$$

$$a_{n+1} = \begin{cases} a_n + \frac{1}{k+1} & (a_n \leq 0) \\ a_n - \frac{1}{k} & (a_n > 0) \end{cases}$$

이다.

$a_{22} = 0$ 이 되도록 하는 모든 k 의 값의 합은? [4점]

- ① 12 ② 14 ③ 16 ④ 18 ⑤ 20

$$a_1 = 0$$

$$a_2 = \frac{1}{k+1}$$

$$a_3 = \frac{1}{k+1} - \frac{1}{k}$$

$$a_4 = \frac{2}{k+1} - \frac{1}{k}$$

...

여기 $\frac{1}{k+1} - \frac{1}{k} \neq 0$ 이고 a_{2n+1} 은 0 이 될 수 없다.

a_{2n+2} 는 $a_1 \neq 0, a_2 \neq 0, a_3 \neq 0, \dots, a_{2n+1} \neq 0$
 이고 $a_{2n+2} = 0$ 이 되게 하는 k 가 존재한다.

이때, $a_1 \sim a_{2n+1}$ 까지의 항이 a_{2n+2} 부터
 반복되고 $a_{22} = 0$ 이어야 하므로.

$(2n+1)$ 개의 항이 (차연수) 번 반복되는 항의 개수가
 2 개 있어야 한다.

즉, $2n+1$ 은 2의 약수여야 하고

$$n = 1, n = 3, n = 10 \text{ 이다}$$

이때, a_{2n+2} 에서 처음으로 0 이 되게 하는

$$k \text{ 은 } a_{2n+2} = \frac{n+1}{k+1} - \frac{n}{k} = 0 \text{ 이 되도록 하는}$$

k 이고 $n = k$ 이다.

모든 k 의 값의 합은 $1+3+10 = 14$ 이다

단답형

16. 방정식 $\log_2(x+2) + \log_2(x-2) = 5$ 를 만족시키는 실수 x 의 값을 구하시오. [3점]

$$x^2 - 4 = 2^5$$

$$x^2 = 36, x = \underline{6} \quad (x > 2)$$

17. 함수 $f(x)$ 에 대하여 $f'(x) = 8x^3 + 6x^2$ 이고 $f(0) = -1$ 일 때, $f(-2)$ 의 값을 구하시오. [3점]

$$f(x) = \int f'(x) dx = 2x^4 + 2x^3 - 1$$

$$f(-2) = 32 - 16 - 1 = \underline{15}$$

18. $\sum_{k=1}^{10} (4k+a) = 250$ 일 때, 상수 a 의 값을 구하시오. [3점]

$$4 \sum_{k=1}^{10} k + 10a$$

$$= 220 + 10a = 250$$

$$a = \textcircled{3}$$

19. 함수 $f(x) = x^4 + ax^2 + b$ 는 $x=1$ 에서 극소이다.
 함수 $f(x)$ 의 극댓값이 4일 때, $a+b$ 의 값을 구하시오.
 (단, a 와 b 는 상수이다.) [3점]

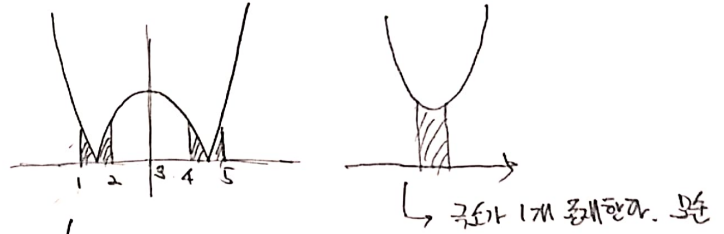
$$f'(x) = 4x^3 + 2ax$$

$$f'(1) = 4 + 2a = 0 \rightarrow a = -2$$

$$f(0) = b = 4$$

$$a+b = \textcircled{2}$$

20. 최고차항의 계수가 2인 이차함수 $f(x)$ 에 대하여
 함수 $g(x) = \int_x^{x+1} |f(t)| dt$ 는 $x=1$ 과 $x=4$ 에서 극소이다.
 $f(0)$ 의 값을 구하시오. [4점]



↓
 넓이가 1칸씩을 가지고 $[x, x+1]$ 에서 변한다고 할 때,
 함수 $|f(x)|$ 가 $x=k$ 에 선대칭인 함수 그래프를 가지므로
 극소일 때의 넓이는 같고, 극소인 x 로 대칭 형태를 분류한다.

위 그림처럼 $x=1, 4$ 에서 극소인 상황에서
 $f(x)$ 는 $x=3$ 에 대칭인 함수이다. $\rightarrow f(x) = 2(x-3)^2 + a$
 $g'(1) = 0$ 이어야 함
 $|f(1)| - |f(4)| = -(f(1) + f(4)) = 0$ 에서
 $10 + 2a = 0, a = -5$ 이라.
 $f(0) = 18 - 5 = \textcircled{13}$

21. 자연수 n 에 대하여 $4 \log_{\frac{3}{4n+16}} \left(\frac{3}{4n+16} \right)$ 의 값이 정수가 되도록 하는 1000 이하의 모든 n 의 값의 합을 구하시오. [4점]

$$\frac{2}{3} \log_{\frac{3}{4n+16}} \left(\frac{3}{4n+16} \right) = k \text{ 라 할 때,}$$

$0 < \frac{3}{4n+16} < 1$ 에서 k 는 음의 정수여야 한다

$$\frac{3}{4n+16} = 2^{\frac{3}{2}k} \text{ 에서}$$

$$\frac{4n+16}{3} = 2^{-\frac{3}{2}k}$$

$$\frac{n+4}{3} = 2^{-\frac{3}{2}k-2}$$

$$n = 3 \cdot 2^{-\frac{3}{2}k-2} - 4 \text{ 이고}$$

이때, $k = -2, -4, -6, \dots$ 이어야

n 이 자연수 이다.

$$k = -2 \text{ 일 때, } n = 3 \times 2 - 4 = 2$$

$$k = -4 \text{ 일 때, } n = 3 \times 2^4 - 4 = 44$$

$$k = -6 \text{ 일 때, } n = 3 \times 2^7 - 4 = 380$$

$k \leq -8$ 일 때는 $n > 1000$ 이다.

$$2 + 44 + 380 = 426$$

22. 두 양수 $a, b (b > 3)$ 과 최고차항의 계수가 1인 이차함수 $f(x)$ 에 대하여 함수

$$g(x) = \begin{cases} (x+3)f(x) & (x < 0) \\ (x+a)f(x-b) & (x \geq 0) \end{cases}$$

이 실수 전체의 집합에서 연속이고 다음 조건을 만족시킬 때, $g(4)$ 의 값을 구하시오. [4점]

$$\lim_{x \rightarrow -3} \frac{\sqrt{|g(x)| + (g(x))^2} - |g(x)|}{(x+3)^2} \text{의 값이 존재하지 않는}$$

실수 l 의 값은 -3 과 6 뿐이다.

$|g(x)| = k$ 라 둔 때, ($k > 0$)

$$\lim_{x \rightarrow -3} \frac{\sqrt{|g(x)| + k^2} - k}{(x+3)^2} = \lim_{x \rightarrow -3} \frac{(\sqrt{|g(x)| + k^2} - k)(\sqrt{|g(x)| + k^2} + k)}{(x+3)^2(\sqrt{|g(x)| + k^2} + k)}$$

$$= \lim_{x \rightarrow -3} \frac{|g(x)|}{(x+3)^2(\sqrt{|g(x)| + k^2} + k)}$$

$$= \lim_{x \rightarrow -3} \frac{|f(x)|}{|x+3|(\sqrt{|g(x)| + k^2} + k)} \text{ 이고}$$

$x \neq -3, x \neq -b$ 에서 극한값이 존재하려면 $f(-3) = 0$ 이다.

$f(x) = (x+3)(x-\alpha)$ 라 할 때,

$$\lim_{x \rightarrow -3} \frac{|x-\alpha|}{\sqrt{|g(x)| + k^2} + k} \text{의 극한값이 존재하면 } k \neq 0$$

존재하지 않으면 $k = 0$ 이다.

즉, $g(x) = 0$ 의 실근은 $x = -3, x = 6$ 뿐이다.

$f(x-b) = 0$ 에서 $b > 3$ 이므로 $x = 6 - b = -3$ 이고 $b = 9$ 이다.

$g(x) = 0$ 의 실근이 두개 뿐이므로 $\alpha = -3$ 이고 $f(x) = (x+3)^2$

$g(x)$ 는 $x = 0$ 에서 연속이므로, $3f(a) = a f(-9)$ 이고

$27 = a \times 3 \times 6$ 에서 $a = \frac{3}{2}$ 이다.

$$g(4) = \left(4 + \frac{3}{2}\right) f(-5) = \frac{11}{2} \times 4 = 22$$

* 확인 사항

- 답안지의 해당란에 필요한 내용을 정확히 기입(표기)했는지 확인하시오.
- 이어서, 「선택과목(확률과 통계)」 문제가 제시되오니, 자신이 선택한 과목인지 확인하시오.