

2015학년도 카이독 수능 대비 온라인 모의고사

수학 영역 (B형)

성명		수험번호						-				
----	--	------	--	--	--	--	--	---	--	--	--	--

- 자신이 선택한 유형(A형/B형)의 문제지인지 확인하시오.
- 문제지의 해당란에 성명과 수험번호를 정확히 쓰시오.
- 답안지의 필적 확인란에 다음의 문구를 정확히 기재하시오.

저문 들길에 서서 푸른 별을 바라보자

- 답안지의 해당란에 성명과 수험 번호를 쓰고, 또 수험 번호, 문형 (홀수/짝수), 답을 정확히 표시하시오.
- 단답형 정답에 '0'이 포함되면 그 '0'도 답란에 반드시 표시하시오.
- 문항에 따라 배점이 다르니, 각 물음의 끝에 표시된 배점을 참고하시오. 배점은 2점, 3점, 또는 4점입니다.
- 계산은 문제지의 여백을 활용하시오.

※ 시험이 시작되기 전까지 표지를 넘기지 마시오.

수학 영역(B형)

제 2교시

출수형

5 지 선 다 형

1. $\log_{\sqrt{2}} 3 \cdot \log_3 4\sqrt{2}$ 의 값은? [2점]

- ① 1 ② 2 ③ 3 ④ 4 ⑤ 5

2. $\lim_{n \rightarrow \infty} n(\sqrt{4n^2+3} - \sqrt{4n^2-5})$ 의 값은? [2점]

- ① 1 ② 2 ③ 3 ④ 4 ⑤ 5

3. 함수 $f(x) = xe^{-x^2}$ 에 대하여 $f'(\sqrt{2})$ 의 값은? [2점]

- ① $-\frac{3}{e^2}$ ② $-\frac{2}{e^2}$ ③ $-\frac{1}{e^2}$ ④ $\frac{1}{e^2}$ ⑤ $\frac{2}{e^2}$

4. x, y 에 대한 연립일차방정식 $\begin{pmatrix} 2^{t+1} & 2^t \\ 1 & 4^t \end{pmatrix} \begin{pmatrix} x \\ y \end{pmatrix} = \begin{pmatrix} -4x+7y \\ 2y \end{pmatrix}$ 가 $x=0, y=0$ 이외의 해를 갖도록 하는 모든 실수 t 의 값의 합은? [3점]

- ① -2 ② -1 ③ 0 ④ 1 ⑤ 2

5. 두 사건 A, B 에 대하여

$$P(A \cup B) = \frac{2}{3}, P(B) = \frac{1}{2}$$

를 만족시킬 때, $P(B^c | A)$ 의 최댓값과 최솟값이 각각 M, m 이다.
 $M+m$ 의 값은? (단, B^c 는 B 의 여사건이다.) [3점]

- ① $\frac{7}{6}$ ② $\frac{6}{5}$ ③ $\frac{5}{4}$ ④ $\frac{4}{3}$ ⑤ $\frac{3}{2}$

6. 자연수 n 에 대하여 x 에 대한 부등식

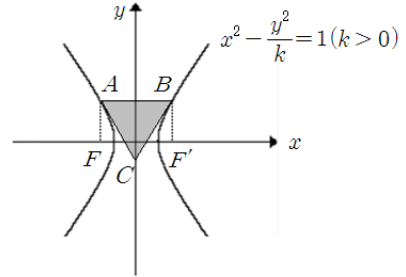
$$(x - n^2 + 3)(x - 2n)(x - 1) < 0$$

의 자연수인 해의 개수를 a_n 이라 할 때, $\sum_{k=1}^{10} a_k$ 의 값은? [3점]

- ① 241 ② 243 ③ 245
 ④ 247 ⑤ 249

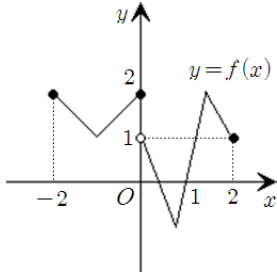
7. 쌍곡선 $x^2 - \frac{y^2}{k} = 1 (k > 0)$ 의 두 초점 F, F' 에서 x 축에 수직

인 직선을 그을 때, 쌍곡선과 만나는 교점 중 y 좌표가 양수인 점을 각각 A, B 라 하자. 점 A, B 에서 쌍곡선의 접선을 그을 때, 두 접선의 교점을 C 라 하자. 삼각형 ABC 가 정삼각형일 때, 삼각형 ABC 의 넓이는? [3점]



- ① $2\sqrt{3}$ ② $3\sqrt{3}$ ③ $4\sqrt{3}$ ④ $5\sqrt{3}$ ⑤ $6\sqrt{3}$

8. 닫힌 구간 $[-2, 2]$ 에서 정의된 함수 $f(x)$ 에 대하여 $y=f(x)$ 의 그래프가 아래와 같다.



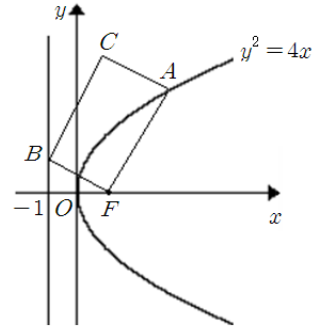
함수 $f(x)$ 를 $(n-1)$ 번 합성한 함수를 f^n 이라 하자. 예를 들어 $f^1=f(x)$, $f^{n+1}=(f \circ f^n)(x)$ 이다. 함수 f^k 가 $x=0$ 에서 연속이도록 하는 자연수 k 의 최솟값은? [3점]

- ① 11 ② 12 ③ 13 ④ 14 ⑤ 15

9. 함수 $f(x) = 2\sin x(k\sin x + \cos x)$ ($0 \leq x \leq \frac{\pi}{2}$)가 $x=\theta$ 에서 최댓값 2를 가질 때, $\tan\theta$ 의 값은? (단, $k > 0$ 이다.) [3점]

- ① $\frac{1}{2}$ ② $\frac{1}{3}$ ③ $\frac{1}{4}$ ④ 2 ⑤ 3

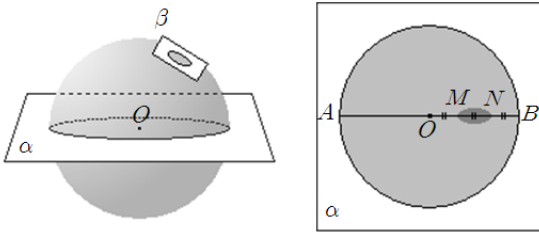
10. 그림과 같이 포물선 $y^2=4x$ 위의 점 A , 직선 $x=-1$ 위의 점 B , 점 $F(1,0)$ 에 대하여 $\angle AFB = \frac{\pi}{2}$, $\overline{AF}:\overline{BF}=3:2$ 를 만족한다. 좌표평면 위의 점 C 에 대하여 사각형 $AFBC$ 가 직사각형일 때, 직사각형 $AFBC$ 의 둘레를 구하면? [3점]



- ① $\frac{65}{6}$ ② $\frac{25}{2}$ ③ $\frac{85}{6}$ ④ $\frac{95}{6}$ ⑤ $\frac{35}{2}$

11. 그림과 같이 반지름의 길이가 3인 구의 중심 O 를 지나는 평면 α 에 의하여 잘린 구의 단면인 원을 C_1 이라 하자. 평면 α 와 한 직선을 공유하는 평면 β 에 대하여 두 평면 α, β 의 교선은 원 C_1 의 한 지름 AB 의 연장선과 수직일 때, 평면 β 에 의하여 잘린 구의 단면인 원을 C_2 라 하자. 원 C_2 를 평면 α 에 정사영시킨 도형과 선분 AB 와의 교점을 M, N 이라 할 때, 두 점 M, N 은 선분 OB 를 삼등분한다. 평면 α, β 가 이루는 각의 크기를 θ 라 할 때, $\cos \theta$ 의 값은?

[3점]



- ① $\frac{\sqrt{10}}{10}$
- ② $\frac{\sqrt{10}+1}{9}$
- ③ $\frac{\sqrt{10}+\sqrt{2}}{8}$
- ④ $\frac{\sqrt{10}+\sqrt{3}}{7}$
- ⑤ $\frac{\sqrt{10}+2}{6}$

12. 수열 $\{a_n\}$ 이 $a_1 = 7$ 이고, 모든 자연수 n 에 대하여

$$n(a_{n+1} - 3a_n) = 3(3^n + a_n - 1) - 2n$$

을 만족시킨다. 다음은 일반항 a_n 을 구하는 과정이다.

주어진 식에 의하여

$$\frac{a_{n+1}-1}{(n+1) \cdot 3^{n+1}} = \frac{a_n-1}{n \cdot 3^n} + \boxed{\text{(가)}} \quad (n \geq 1)$$

이다. $b_n = \frac{a_n-1}{n \cdot 3^n}$ 이라 하면

$$b_{n+1} = b_n + \boxed{\text{(가)}} \quad (n \geq 1)$$

이고, $b_1 = \boxed{\text{(나)}}$ 이므로

$$b_n = \boxed{\text{(다)}} \quad (n \geq 1)$$

이다. 그러므로

$$a_n = 3^n \times \boxed{\text{(다)}} + 1 \quad (n \geq 1)$$

이다.

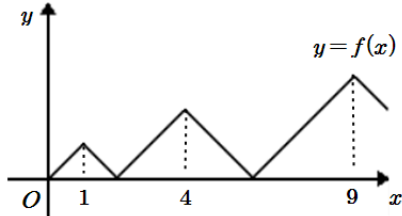
위의 (나)에 알맞은 수를 p , (가), (다)에 알맞은 식을 각각 $f(n)$, $g(n)$ 이라 할 때 $\frac{g(p)}{p \times f(p)}$ 의 값은? [3점]

- ① 15
- ② 12
- ③ 9
- ④ 6
- ⑤ 3

[13 ~ 14] 그림은 $y=f(x)$ 의 그래프를 나타낸 것으로 양의 실수의 전체 집합에서 정의된 함수 $f(x)$ 는 다음과 같다.

$$f(x) = -|x - n^2| + n \quad (n^2 - n \leq x < n^2 + n, n = 1, 2, 3, \dots)$$

13번과 14번의 두 물음에 답하시오.



13. 방정식 $f(x)=0$ 의 양의 실근을 작은 순부터 차례대로 x_1, x_2, x_3, \dots 라 할 때, 수열 $\{a_m\}$ 을 다음과 같이 정의한다.

$$a_m = \lim_{n \rightarrow \infty} \frac{1}{n} \sum_{k=1}^n f\left(\frac{kx_m}{n}\right)$$

$\lim_{m \rightarrow \infty} \frac{a_m}{m}$ 의 값은? [3점]

- ① $\frac{1}{6}$ ② $\frac{1}{3}$ ③ $\frac{1}{2}$ ④ $\frac{2}{3}$ ⑤ $\frac{5}{6}$

14. 함수 $g(x)$ 를 $g(x) = f\left(\frac{1}{2}x\right)$ 라 할 때, 닫힌 구간 $[0, 200]$ 에서

무리방정식 $\frac{[g(x)+20]}{[g(x)+2]} + \sqrt{[g(x)-3]} = 5$ 를 만족시키는 서로 다른 정수 x 의 개수는? (단, $[x]$ 는 x 보다 크지 않은 최대 정수이다.) [4점]

- ① 28 ② 30 ③ 32 ④ 34 ⑤ 36

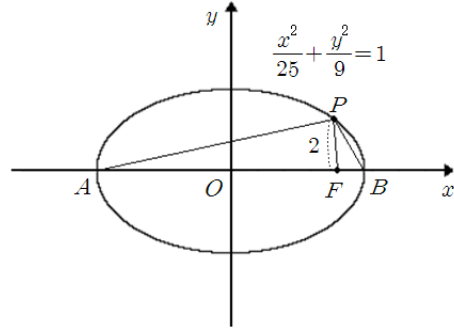
15. 어느 재단에서 어린이들을 위한 공연을 계획하는데, 구성되는 공연은 2시간 분량의 마술 쇼, 1시간 분량의 연극으로 모두 두 종류라고 한다. 재단에서 다음과 같은 규칙으로 일일 공연 계획을 세울 때, 아래의 공연 계획표를 세울 수 있는 계획 중 한 가지로 생각할 수 있다. 이 때, 세울 수 있는 일일 공연 계획의 모든 경우의 수는?
(단, 휴식 시간은 1시간 단위로 배정된다.) [4점]

- (가) 오전 9시에 첫 공연을 시작하고, 밤 11시에 마지막 공연이 끝난다.
- (나) 마술 쇼와 연극은 각각 2회, 3회씩 공연한다.
- (다) 각 공연 사이에는 적어도 1시간 이상의 휴식을 가진다.

일일 공연 계획표	
공연 시간	공연 내용
9:00 ~ 10:00	연극
10:00 ~ 13:00	휴식
13:00 ~ 15:00	마술 쇼
15:00 ~ 16:00	휴식
16:00 ~ 17:00	연극
17:00 ~ 19:00	휴식
19:00 ~ 20:00	연극
20:00 ~ 21:00	휴식
21:00 ~ 23:00	마술 쇼

- ① 160 ② 180 ③ 200 ④ 220 ⑤ 240

16. 그림과 같이 타원 $\frac{x^2}{25} + \frac{y^2}{9} = 1$ 의 한 초점 F 와 타원 위의 한 점 P 에 대하여 $\overline{FP} = 2$ 이다. 타원의 장축 위의 꼭짓점을 A, B 라 할 때, $\overline{AP}^2 + \overline{BP}^2$ 의 값은? [4점]



- ① 80 ② 82 ③ 84 ④ 86 ⑤ 88

17. 미분가능한 두 함수 $f(x), g(x)$ 에 대하여 다음 조건을 만족시킨다.

- (가) 함수 $f(x), 2f'(x), f''(x)$ 는 이 순서대로 공비가 $g(x)$ 인 등비수열을 이룬다.
 (나) $g(2) = 1$

$\int_0^1 \frac{1}{g(2x)} dx$ 의 값은? (단, $f'(x) > 0, g(x) > 0$ 이다.) [4점]

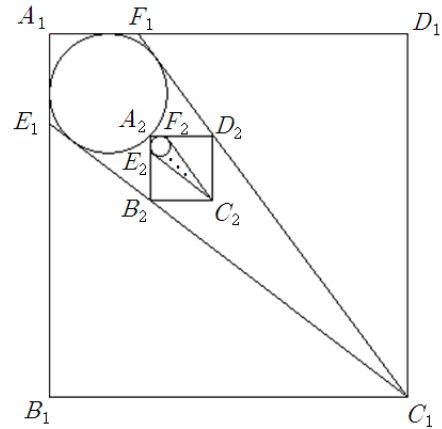
- ① $\frac{1}{2}$ ② 1 ③ $\frac{3}{2}$ ④ 2 ⑤ $\frac{5}{2}$

18. 그림과 같이 한 변의 길이가 4인 정사각형 $A_1B_1C_1D_1$ 이 있다. 선분 A_1B_1 , 선분 A_1D_1 을 1:3으로 내분하는 점을 각각 E_1, F_1 이라 할 때, 사각형 $A_1E_1C_1F_1$ 의 네 변에 내접하는 원을 R_1 이라 하자.

원 R_1 , 선분 C_1E_1 , 선분 C_1F_1 에 각각 점 A_2, B_2, D_2 를 잡고 원 R_1 의 내부를 지나지 않는 정사각형을 $A_2B_2C_2D_2$ 을 그린 후 선분 A_2B_2 , 선분 A_2D_2 를 1:3으로 내분하는 점을 각각 E_2, F_2 라 할 때, 사각형 $A_2E_2C_2F_2$ 의 네 변에 내접하는 원을 R_2 라 하자.

이와 같은 방법으로 자연수 $n(n \geq 2)$ 에 대하여 원 R_{n-1} , 선분 $C_{n-1}E_{n-1}$, 선분 $C_{n-1}F_{n-1}$ 에 각각 점 A_n, B_n, D_n 을 잡고 원 R_{n-1} 의 내부를 지나지 않는 정사각형 $A_nB_nC_nD_n$ 을 그린 후 선분 A_nB_n , 선분 A_nD_n 을 1:3으로 내분하는 점을 각각 E_n, F_n 이라 할 때, 사각형 $A_nE_nC_nF_n$ 의 네 변에 내접하는 원을 R_n 이라 하자.

원 R_n 의 둘레를 l_n 이라 할 때, $\sum_{n=1}^{\infty} l_n$ 의 값은? [4점]



- ① $\frac{64}{38 + \sqrt{2}} \pi$ ② $\frac{64}{40 + \sqrt{2}} \pi$ ③ $\frac{64}{42 + \sqrt{2}} \pi$
 ④ $\frac{64}{44 + \sqrt{2}} \pi$ ⑤ $\frac{64}{46 + \sqrt{2}} \pi$

19. 두 이차정사각행렬 A, B 가

$$A + B = AB, AB^2 - 4BA^{-1} = 2E$$

을 만족시킬 때, 옳은 것만을 <보기>에서 있는 대로 고른 것은?
(단, A^{-1} 은 A 의 역행렬이고, E 는 단위행렬이다.) [4점]

< 보 기 >

- ㄱ. $B - E$ 의 역행렬이 존재한다.
- ㄴ. $AB = BA$
- ㄷ. $B = A^3 - A^2 + A$

- ① ㄱ
- ② ㄷ
- ③ ㄱ, ㄴ
- ④ ㄱ, ㄷ
- ⑤ ㄱ, ㄴ, ㄷ

20. 0을 제외한 실수 전체의 집합에서 함수

$G(t)$ 를 정규분포 $N(t^2 + 1, 4t^2)$ 을 따르는 확률변수 X 에 대하여

$$G(t) = P(X \leq t) \quad (t \neq 0)$$

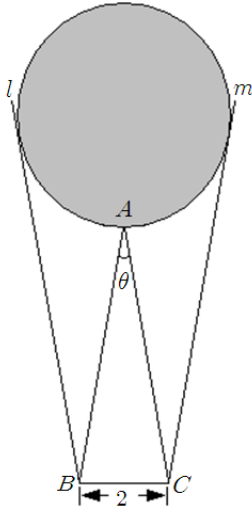
라고 정의한다. 함수 $\left| G(t) - \frac{k}{100} \right|$ 가

z	$P(0 \leq Z \leq z)$
0.5	0.19
1.0	0.34
1.5	0.43
2.0	0.48

오직 세 점에서만 미분가능하지 않도록 하는 자연수 k 의 최댓값과 최솟값을 각각 M, m 이라 할 때, $M + m$ 의 값을 위의 표준정규분포표를 이용하여 구하면? [4점]

- ① 36
- ② 37
- ③ 38
- ④ 39
- ⑤ 40

21. 그림과 같이 $\overline{AB} = \overline{AC}$ 이고, $\overline{BC} = 2$ 인 이등변삼각형 ABC 가 있다. 점 B 에서 선분 AC 와 평행한 직선 l 을, 점 C 에서 선분 AB 와 평행한 직선 m 을 그린다고 하자. $\angle BAC = \theta$ 라 할 때, 점 A 를 지나고 직선 l, m 에 접하는 원의 넓이를 $S(\theta)$ 라 하자. $\lim_{\theta \rightarrow \pi-0} \{(\pi-\theta)^2 \times S(\theta)\}$ 의 값은? (단, $0 < \theta < \pi$ 이고, 원은 삼각형 ABC 의 내부를 지나지 않는다.) [4점]



- ① 4π
- ② 8π
- ③ 16π
- ④ 32π
- ⑤ 64π

단 답 형

22. $\lim_{x \rightarrow 0} \frac{1}{x^2} \ln \frac{1}{\cos x \cos 5x}$ 의 값은? [3점]

23. 등차수열 $\{a_n\}$ 에 대하여 $a_2 + a_3 + a_4 + a_5 = 5a_1$ 이 성립할 때, $a_k = 2a_1$ 을 만족하는 자연수 k 의 값은? (단, $a_1 \neq 0$) [3점]

24. 어느 물질 X 는 물에 담그면 물을 흡수하여 질량이 늘어난다고 한다. 질량이 $4g$ 인 물질 X 를 물에 담근 후 t 분이 지났을 때의 질량을 $M(g)$ 이라 할 때, 다음 관계식이 성립한다.

$$M = \log_4(a+t) + b \quad (\text{단, } a, b \text{는 상수})$$

질량이 $4g$ 인 물질 X 를 물에 담근 후 12분이 지났을 때 질량이 $6g$ 이었고, 이로부터 T 분이 지났을 때 질량이 $\frac{20}{3}g$ 이었다. $5T$ 의 값은? (단, $\log 2 = 0.3$ 으로 계산한다.) [3점]

25. 공간좌표에서의 점 $A(1, 3, 2)$ 에 대하여 $\overline{AB} = \sqrt{2}$ 를 만족하도록 움직이는 점 B 가 있다. 직선 AB 는 xy 평면과 만나고 이 때의 교점을 P 라 하자. 점 P 가 선분 AB 를 2:1로 외분할 때, 선분 OP 의 길이의 최댓값과 최솟값이 각각 M, m 이다. Mm 의 값은? (단, O 는 원점이다.) [3점]

26. 표본공간 $S = \{1, 2, 3, 4, 5, 6\}$ 의 부분집합인 두 사건 A, B 에 대하여 두 사건 A, B 가 서로 독립일 때, $P(A) > P(B)$ 를 만족하는 두 사건 A, B 의 순서쌍 (A, B) 의 개수는? [4점]

27. 좌표평면에서 두 일차변환 f, g 를 나타내는 행렬이 각각

$$\begin{pmatrix} k & 0 \\ 0 & k \end{pmatrix}, \begin{pmatrix} \cos\theta & -\sin\theta \\ \sin\theta & \cos\theta \end{pmatrix}$$

이다. 점 $A(1, 1)$ 이 합성변환 $f \circ g$ 에 의해 옮겨지는 점을 B 라 할 때, 두 점 A, B 는 다음 조건을 만족시킨다.

(가) $\overline{AB} = \frac{15}{4}$

(나) 직선 AB 의 기울기는 $\frac{4}{3}$ 이다.

$32k^2$ 의 값은? (단, $k > 1, 0 < \theta < \frac{\pi}{2}$ 이다.) [4점]

28. 닫힌 구간 $[0, 1]$ 에서 정의된 연속확률변수 X 의 확률밀도함수가

$$f(x) = ax^2 + bx \quad (0 \leq x \leq 1, a \neq 0)$$

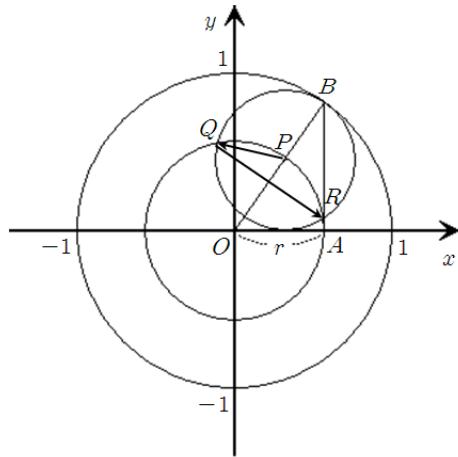
이다. $E(X) \leq \frac{5}{8}$ 를 만족시키는 점 $P(a, b)$ 가 나타내는 도형 전체의 길이가 l 일 때, $4l^2$ 의 값은? [4점]

29. 실수 전체의 집합에서 미분가능한 함수 $f(x)$ 가 다음 조건을 만족한다.

- (가) $f(-x) = -f(x)$
- (나) $f(x+2) = f(x)+2$
- (다) $f'(x) \geq 0$

자연수 n 에 대하여 원점에서 닫힌 구간 $[2n-1, 2n+1]$ 에 속하는 $y=f(x)$ 그래프 위의 한 점에 그은 접선의 기울기를 k_n 이라 할 때, 위의 조건을 만족하는 모든 함수 $f(x)$ 에 대하여 $\alpha < k_8 < \beta$ 이다. $240(\beta-\alpha)$ 의 최솟값은? [4점]

30. 그림과 같이 원 $C_1 : x^2 + y^2 = 1$, $C_2 : x^2 + y^2 = r^2 (0 < r < 1)$ 이 좌표평면 위에 있다. 점 $A(r, 0)$ 에서 x 축에 수직인 직선을 그었을 때 원 C_1 과 만나는 y 좌표가 양수인 점을 B , 선분 OB 와 원 C_2 와의 교점을 P 라 하자. 점 P 를 중심으로 하고 x 축에 접하는 원 C_3 를 그릴 때, 원 C_2 와 원 C_3 가 만나는 점을 Q, R 이라 하자. 두 벡터 $\overrightarrow{PQ}, \overrightarrow{QR}$ 에 대하여 내적 $\overrightarrow{PQ} \cdot \overrightarrow{QR}$ 의 최솟값은 $p+q\sqrt{13}$ 이다. $27(p+q)$ 의 값은? (단, O 는 원점이고, p, q 는 유리수이다.) [4점]



※ 시험이 시작되기 전까지 표지를 넘기지 마시오.