

제 4 교시

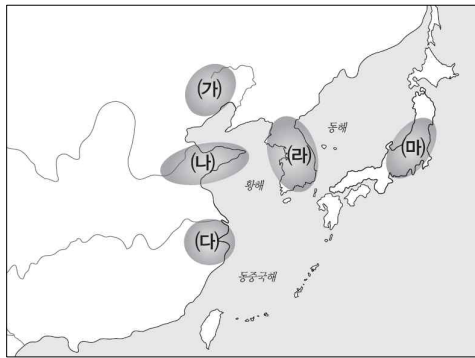
사회탐구 영역(동아시아사)

성명

수험 번호

제 () 선택

1. 다음 토기가 출토되는 지역을 지도에서 옳게 고른 것은? [2점]



- ① (가) ② (나) ③ (다)
 ④ (라) ⑤ (마)

2. 밑줄 친 '이 전투' 이후에 일어난 사실로 옳은 것은? [3점]

백제가 적의 계획을 알고 여러 장수에게 “지금 일본에서 우리를 구원하러 장수 노원군신이 용사 1만여 명을 거느리고 바다를 건너오고 있다. 여러 장군은 미리 계획을 세우기 바란다. ... 당의 장군이 함선 170척을 이끌고 백강에 진을 쳤다. 일본의 수군 중 처음 도착한 배들이 당의 수군과 싸웠지만 불리하여 후퇴하였다. 당군은 좌우에서 수군을 동원하여 협공하였다. 이 전투에서 눈 깜짝할 사이에 일본군이 패하였다. - 『일본서기』 -

- ① 주몽 집단이 졸본 지방으로 남하하였다.
 ② 히미코가 친위왜왕의 칭호를 받았다.
 ③ 매소성 전투 등 나당 전쟁이 발발하였다.
 ④ 당이 토번에 문성 공주를 보냈다.
 ⑤ 나당 연합이 결성되었다.

3. 다음 지도를 통해 확인할 수 있는 사실로 옳은 것은? [3점]



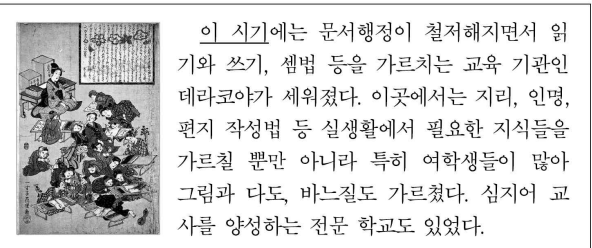
- ① 전연의 맹약 체결
 ② 건융의 침입과 천도
 ③ 한 무제의 정복 활동
 ④ 5호의 세력 확대와 한족의 이동
 ⑤ 도왜인의 이주와 야마토 정권의 성립

4. 다음과 같은 상황이 나타난 배경으로 적절한 것은? [2점]

일본 나고야 성에 도착한 사타케 요시노부는 “농민들이 세금을 내지 않으면 여자나 어린아이를 가리지 않고 죽여도 좋다. 마을이 폐허가 되어도 상관없다.”라고 지시하였다. 그렇게 해서 사타케군이 인부를 동원한 일반 백성은 약 천오백명이었다. 탈주자가 생기자 죽여서라도 탈주를 막으려고 하였다.

- ① 이종무가 대마도를 토벌하였다.
 ② 조선과 청이 군신 관계를 맺었다.
 ③ 여몽연합군이 일본 원정을 나섰다.
 ④ 임진왜란과 정유재란이 발발하였다.
 ⑤ 덴메이 대기근으로 인구가 감소하였다.

5. 밑줄 친 '이 시기'에 동아시아 각국의 문화로 옳은 것은? [2점]



- ① 일본 - 승려들 사이에서 성리학이 연구되었다.
 ② 한국 - 팔만대장경이 조판되었다.
 ③ 한국 - 직관적인 깨달음을 중시하는 불교 종파가 널리 확산되었다.
 ④ 중국 - 불경 보관을 위해 대안탑이 건립되었다.
 ⑤ 중국 - 경극이 공연되고 연화가 유행하였다.

2 (동아시아사)

사회탐구 영역

6. 다음 상황이 끼친 영향으로 가장 적절한 것은? [2점]

황제의 군대가 산하이관에 이르렀다. 섭정왕이 말하기를, “너는 돌아가 너의 병사들에게 각자 흰 천을 어깨에 묶어 표식으로 삼게 하라. 그렇지 않으면 같은 한인(漢人)인데 어찌 구별할 수가 있겠는가. 잘못 죽일까 걱정이다.”라고 하였다. …… 마침내 산하이관 안으로 들어오니 이자성의 군사 20여만 명이 길게 진을 치고 기다리고 있었다. …… 황제의 군대가 이자성의 군사를 크게 무너뜨리고 40리를 쫓아갔다. 적은 머리와 꼬리를 서로 돌보지 못하고 베이징으로 달아났다.

- ① 명이 멸망하였다.
- ② 가마쿠라 막부가 쇠퇴하였다.
- ③ 명의 장수가 군대를 이끌고 평안도 철산에 주둔하였다.
- ④ 청이 중원 지역을 장악하게 되었다.
- ⑤ 에도 막부가 실패를 통해 무역을 통제하였다.

7. (가), (나) 사이에 일어난 사실로 옳은 것은? [3점]

(가) 원종이 몽골에 사신을 보내 강화를 맺자고 요청하였다. 몽골은 화친을 받아들여 고려의 독립적인 지위를 인정하고 고려 왕실과 혼인으로 맺어진 부마 관계를 성립하였다.
(나) 아시카가 다카우지는 고다이로 천황을 폐위하고 고묘 천황을 내세워 복조를 수립하였다. 이어 스스로 정이대장군에 올라 새로운 막부를 열었다.

- ① 정화의 함대가 아프리카에 도착하였다.
- ② 찌흥다오가 몽골의 침입을 바익당강에서 격퇴하였다.
- ③ 미나모토노 요리토모가 쇼군에 책봉되었다.
- ④ 명과 일본 사이에 감함무역이 행해졌다.
- ⑤ 몽골이 채주를 점령하며 화북 지방을 차지하였다.

8. (가) ~ (라)에 해당하는 내용으로 옳은 것을 <보기>에서 모두 고른 것은? [2점]

탐구 활동 계획서

▶ 주제: 불교의 동아시아 확산과 영향
▶ 목적: 불교가 동아시아에 전파되는 과정과 영향을 파악한다.
▶ 모둠별 조사 내용

<1모둠> 중국의 불교 수용과 발전 …………… (가)
<2모둠> 불교의 한반도 전래와 토착화 …………… (나)
<3모둠> 일본의 불교문화 발전 …………… (다)
<4모둠> 동아시아 불교문화의 공통점 …………… (라)

<보기>

- ㄱ. (가) - 둔황, 룡먼 석굴 사원 건립
ㄴ. (나) - 불교와 신도의 결합
ㄷ. (다) - 아스카 문화 성립
ㄹ. (라) - 『주자가례』 보급

- ① ㄱ, ㄴ
- ② ㄱ, ㄷ
- ③ ㄴ, ㄷ
- ④ ㄴ, ㄹ
- ⑤ ㄷ, ㄹ

9. 다음 (가), (나)에 대한 설명으로 옳은 것을 <보기>에서 모두 고른 것은? [3점]

(가)

13조 천황은 전쟁을 선포하고 평화를 마련하며 여러 조약을 체결한다.
20조 일본 신민은 정해진 법률을 따르고 병역의 의무를 행한다.
29조 일본 신민은 법률이 정한 범위 안에서 언론, 저작, 인쇄 및 발행, 집회, 결사의 자유를 허용한다.

(나)

제9조
1항 일본 국민은 정의와 질서를 기조로 하는 국제 평화를 성실히 희망하고 국권의 발동인 전쟁과 무력에 의한 위협 또는 무력행사는 국제 분쟁을 해결하는 수단으로서 영구히 포기한다.
2항 전쟁의 목적을 성취하기 위해 육해공군 및 그 밖의 전력은 보유하지 않는다.

<보기>

- ㄱ. (가) - 이타카기 디스케의 주도로 발의되었다.
ㄴ. (가) - 천황이 국민에게 하사하는 형식으로 반포되었다.
ㄷ. (나) - 주권재민의 원칙에 따른 인권 보호 조항을 강화하였다.
ㄹ. (나) - 샌프란시스코 강화 조약 이후 제정·반포되었다.

- ① ㄱ, ㄴ
- ② ㄱ, ㄷ
- ③ ㄴ, ㄷ
- ④ ㄴ, ㄹ
- ⑤ ㄷ, ㄹ

10. 밑줄 친 ‘이 도시’에 대한 탐구 주제로 적절한 것은? [3점]

일본 역사 여행 2일차 계획표

- 오전 09시 : 호텔 조식 먹고 로비에 집합
- 오전 10시 : 이 도시 거류지 벽돌 창고



미일수호통상조약으로 개항되면서 거류지가 형성되면서 지어진 빨간 벽돌 창고로 복원 사업에 의해 재건되었다.

- 오후 01시 : 스키야키 요리 정식 체험
- 오전 03시 : 이 도시 철도역



일본 최초의 철도가 개통되었을 때 개항장이었던 이곳이 도쿄와 연결되었다. 수도와 연결되자 이 일대는 상업적으로 대단히 번영하게 되었다.

- ① 포츠머스 조약과 창춘 ~ 뤼순 간 철도 운영권의 변동
- ② 이와쿠라 사절단의 출항지에 대한 조사
- ③ 교육입국 조서를 통해 설립된 학교의 교육 과정
- ④ 경사대학당의 설립과 청년 세대의 계몽을 위한 노력
- ⑤ 영선사 일행의 도착과 기술 전수 과정에 나타난 특징

11. 다음 주장이 제기되었을 당시 동아시아 각국의 정세로 가장 적절한 것은? [3점]

자기 힘을 해아리지 않고 경망하게 큰소리를 쳐서 오랑캐의 노여움을 도발하여 백성이 도탄에 빠지고 종묘와 사직에 제사 지내지 못하게 된다면 그 허물이 이보다 클 수 있겠습니까? ... 우리의 국력은 현재 바닥나 있고 오랑캐의 병력은 강성합니다. 정묘년의 맹약을 아직 지켜서 몇 년이라도 화를 늦추고 그 동안 ... 민심을 수습하고 성을 쌓으며 ... 적의 허점을 노리는 것이 우리로서는 최상의 계획일 것입니다.

- 『지천집』 -

- ① 몽골 - 명의 수도 베이징을 포위하고 위협하였다.
- ② 한국 - 삼포의 왜관을 통해 일본과 교역하였다.
- ③ 중국 - 은 유입이 감소하면서 왕조 멸망의 원인이 되었다.
- ④ 일본 - 사쓰마번이 류큐 왕국을 침공하였다.
- ⑤ 베트남 - 안남도호부를 통해 중국의 지배를 받았다.

12. (가) 국가에 대한 설명으로 옳은 것은? [2점]

(가) _____에서는 여러 부족민에게 다른 요역은 없었고 성인 남자면 모두 병사가 되었다. 부족민들은 평상시에 수렵과 어로에 종사하였는데, 유사시에 나라에서 전 지역에 명령을 내리고 사자를 파견하여 군대를 징발하였다. 그 부족장을 패군이라 하고 군대를 지휘하게 되면 맹안모쿠이라 하였는데 군사의 많고 적음에 따라 붙여진 이름이었다.

- ① 좌현왕과 우현왕을 두었다.
- ② 3공 9경제를 실시하였다.
- ③ 원호를 신하로 삼고, 조공·책봉 관계를 체결하였다.
- ④ 북면관·남면관제를 시행하였다.
- ⑤ 고려, 서하, 남송 등과 군신 관계를 맺었다.

13. (가), (나) 시기 사이에 있었던 사실로 옳은 것은? [3점]

(가) 옛날 우거왕의 대신이었던 성기가 다시 반란을 일으켰다. 좌장군은 우거왕의 아들인 위장과 항복한 재상인 노인(路人)의 아들로 하여금 그 백성을 달래고 성기를 주살하도록 하였다. 이로써 마침내 고조선을 평정하고 4군을 세웠다.

(나) 황제에게 왜의 노국이 공물을 바치고 조공하였는데, 사신은 대부분을 자칭하였다. 노국은 왜에서 남쪽에 있는 나라이다. 황제는 노국 사자에게 금인과 도장 끈을 하사하였다.

- ① 왕망이 황위를 찬탈하였다.
- ② 장건이 대월지에 사신으로 파견되었다.
- ③ 시황제가 분서갱유를 단행하였다.
- ④ 위만이 준왕을 몰아내고 왕이 되었다.
- ⑤ 건융의 침입으로 호경에서 낙읍(류양)으로 천도하였다.

14. (가), (나) 사이에 동아시아 각국에서 일어난 사실로 옳은 것을 <보기>에서 모두 고른 것은? [3점]

(가) 신군부 세력이 서울역 광장에 모인 시민들을 탄압하기 위해 계엄령을 내렸다. 그러자 광주 시민들이 신군부의 독재에 저항하는 대규모 시위를 열었는데, 계엄군을 이를 무력 탄압하면서 수많은 시민들이 희생되었다.

(나) 중국 국민당의 일당 지배 체제에 무기력해진 정치 환경을 개선하기 위해 시민들은 민주화를 요구하였다. 이에 따라 총통 직선제 개헌을 통해 민주화가 실현되고 처음으로 국민당의 장기 집권이 마감되었다.

<보기>

ㄱ. 일본 - 55년 체제가 붕괴되었다.


ㄴ. 베트남 - 남베트남 민족 해방 전선이 결성되었다.

ㄷ. 한국 - 민주화 시위로 대통령 직선제 개헌이 단행되었다.

ㄹ. 중국 - 국제 연합에 가입하여 상임이사국의 지위를 인정받았다.

- ① ㄱ, ㄴ
- ② ㄱ, ㄷ
- ③ ㄴ, ㄷ
- ④ ㄴ, ㄹ
- ⑤ ㄷ, ㄹ

15. 교사의 질문에 대한 학생의 답변으로 적절한 것은? [2점]



- ① 류타오후에서 남만주 철도가 폭파되었어요.
- ② 동북 항일 연군이 두만강 유역을 공격하였어요.
- ③ 미군이 미드웨이 해전에서 승리하였어요.
- ④ 봉오동 전투, 청산리 전투에서 일본군이 패배하였어요.
- ⑤ 국제 연맹이 리튼 조사단을 파견하였어요.

