

제 4 교시

사회탐구 영역(동아시아사)


성명

수험번호

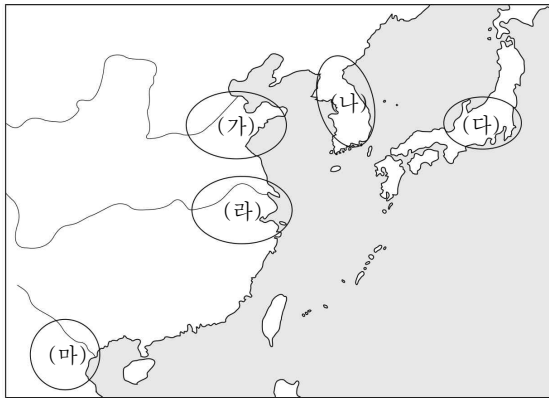
6

제 ( ) 선택

1. 자료에서 질문하는 지역을 지도에서 옳게 고른 것은?




신석기 시대 문화를 대표하는 토기는 여러 지역에서 발굴되었습니다. 특히 그림 (가)와 같은 토기는 신석기 시대 조몬 토기로 대표되는 토기입니다. 이 토기는 새끼줄 무늬가 있고 음식을 보관하는 등 다양하게 사용되었다고 알려져 있습니다. 이 토기가 발견된 지역은 어디일까요?



- ① (가)    ② (나)    ③ (다)    ④ (라)    ⑤ (마)

2. 다음 문화가 유행하던 시기 동아시아에 있었던 사실로 옳은 것은?

**수행 평가 과제: 일본의 서민 문화에 대해서**



**작가:** 기타가와 우타마로  
**작품명:** 간세이 시대의 세 미인  
**제작연도:** 0000년  
**작가 설명:** 우타마로는 여성의 얼굴과 상체를 대담한 구도로 포착해 그려낸 미인도로 유명하다.  
**작품 설명:** 이 작품은 00막부 시대 대표적인 우키요에 작품이다.

- ① 신도와 불교를 융합한 신불합합 사상이 처음 출현하였다.  
 ② 문헌의 엄격한 실증을 중시한 고증학이 발달하였다.  
 ③ 중국에 조로아스터교가 전래되어 성행하였다.  
 ④ 민족의식이 높아져 대월사기가 저술되었다.  
 ⑤ 사서집주가 편찬되었다.

3. 다음 일지를 적은 인물 살았던 시기 동아시아에 있었던 사실로 옳은 것은?

0000년 00월 00일  
 나는 상인들을 따라 성도를 떠나 강동(江東)으로 갔다가 먼저 형주 천황사에 이르렀다. 그곳에서 『섭대승론』과 『잡아비담심론』 등을 강론하니 이복과 장쭈성 일대의 명승들이 구름처럼 몰려와서 들었다.  
 0000년 00월 00일  
 나는 평생 장안 역경원에서 경전을 번역했는데, 도합 75부, 1338권에 달했다. 나는 나의 제자 승변에게 나의 저서 『대당서역기』를 받아쓰게 하였다.

- ① 감진은 일본에 계율을 전파하였다.  
 ② 법흥왕이 불교를 공인하였다.  
 ③ 호류사 5층 목탑이 건립되었다.  
 ④ 입당구법순례행기가 저술되었다.  
 ⑤ 혜자가 쇼토쿠 태자의 스승이 되었다.

4. 다음 자료에 나타난 사상에 대한 설명으로 옳은 것은?

그는 『대학』의 ‘재천민의’ ‘친’자를 ‘신’자로 고친 것을 비판하였다. 친해한다는 뜻에는 가르치고 기른다는 뜻을 가지고 있는 것이지 백성을 새롭게 하여 깨닫게 하는 뜻이 아니라고 지적하였다. …… 또한 그는 “모든 것은 오직 마음에 달려 있으니 마음이 곧 이(理)이다. 이 마음이 사육에 가려짐이 없으면 그것이 바로 천리이니, 무엇 하나 밖에서 가져와 보탬 필요가 없다.”

- ① 치양지와 지행합일을 강조하였다.  
 ② 우주 만물의 성립과 존재를 이와 기로 설명하였다.  
 ③ 인간의 본성이 곧 우주의 이치라고 주장하였다.  
 ④ 노장 사상과 결합하여 현실 도피적 성격을 지녔다.  
 ⑤ 거경공리와 격물치지의 수양방법을 중시하였다.

5. 다음 자료에 나타난 사건에 대한 설명으로 옳은 것은?

흠차대신 새상아(賽尙阿)와 양광충동 서광진(徐廣縉)이 말하길, “청을 위협하는 이 **난**은 기존의 비적들과 전혀 다른 성격이옵니다. 구성원 간의 유대가 견고하고 죽음들 두려워하지 않으며 높은 도덕성이 있습니다.” 또한 “그들의 전신 조직인 배상제회를 비롯한 여러 조직들이 세력이 커지고 있으니 어서 그들의 수도이자 거점 난징을 공격해야 합니다.”

- ① 부청명양의 구호를 내세웠다.  
 ② 입헌 군주제의 수립을 지향하였다.  
 ③ 인민공사를 중심으로 전개되었다.  
 ④ 메이지 유신에 영향을 받았다.  
 ⑤ 남녀평등과 토지 균분을 내세웠다.

6. 다음 문서가 작성된 시기를 연표에서 옳게 고른 것은?

일본 측은 전권 대사로 이토 히로부미를 임명해 베이징에 파견하였다. 청국 측은 텐진에 회담 장소를 마련하였고 이홍장을 테이블에 앉혔다. 양국 충돌에 대한 사과와 조선에서의 철병을 논제로 삼고 회의를 진행하였다. 그 결과 두 전권대사의 합의 하에 조약이 체결되었다.

제 1조 청과 일본은 조선 반도에서 즉시 철수를 시작해 4개월 안에 철수를 완료한다.

.....

제 3조 장래 조선에 출병할 경우 상호 통지 한다.

(가)	(나)	(다)	(라)	(마)
미일화친조약 체결	메이지 유신 단행	이외쿠라 사절단 파견	오키나와 현 설치	현 대일본 제국 헌법 공포
교역입국조서 반포				

- ① (가)    ② (나)    ③ (다)    ④ (라)    ⑤ (마)

7. 다음 자료가 나타난 상황 시기 동아시아에서 볼 수 있는 모습으로 적절한 것은?



\*저작권 때문에 직접 그렸습니다. ^^

- ① 영락제의 즉위식에 참여하는 한인관료  
 ② 위화도 회군에 참여하는 군인  
 ③ 후금의 침략으로 피난 가는 조선인  
 ④ 조공을 위해 중국을 방문하는 류큐 사신  
 ⑤ 금과의 강화 추진에 반대하는 장수

8. 밑줄 친 '사건'의 영향으로 옳은 것은?

다음 자료는 (대한민국) 14년 4월 26일에 작성된 선서문입니다. 내용 '나는 적성으로 조국의 독립과 자유를 회복하기 위하여 한민애국단의 일원이 되어 중국을 침략하는 적의 장교를 도륙하기로 맹세합니다.' 이 선서문 이후 3일 뒤 홍커우 공원에서 역사적인 사건이 발생했습니다.

- ① 3·1운동에 영향을 주었다.  
 ② 신간회의 주도로 일어났다.  
 ③ 대한민국 임시 정부 수립에 영향을 끼쳤다.  
 ④ 제 2차 국·공 합작이 이루어지는 결과를 가져왔다.  
 ⑤ 중국 국민당의 대한민국 임시 정부 지원에 영향을 주었다.

9. (가) 국가에 대한 설명으로 옳은 것은?

☐(가)을/를 건국한 태조는 서역을 굴복시키고 눈길을 동쪽으로 돌렸다. 태조는 공격 준비를 마치고 군 요충지인 부여부를 포위하며 다음해 부여성을 함락하였다. 기세를 몰아 적국의 본거지인 수도 공략에 나섰다. 적국의 저항도 만만치 않았지만 노상이 이끄는 적국의 주력군이 패하면서 한때 해동성국이라 불린 나라의 왕 대인선(大諲諝)이 흰 옷을 입고 새끼로 몸을 묶은 채 양을 끌고 태조의 말 앞에서 항복하였다. ☐(가)의 태조는 항복을 받아드리고 대제국을 건설하였다.

- ① 탕구트족 이원호가 건국하였다.  
 ② 북면관·남면관제를 실시하였다.  
 ③ 송으로부터 은과 비단, 차 등을 제공받았다.  
 ④ 호라즘을 정복하고 비단길을 장악하였다.  
 ⑤ 송을 무너뜨리고 화북 지역을 지배하였다.

10. 밑줄 친 ㉠, ㉡ 사이에 있었던 사실로 옳지 않은 것은?

○ 치밀하게 모의하고 계획된 이 ㉠전쟁은 한반도에서 발발하였다. 북한군은 38도선을 넘어 일요일 새벽에 공격을 감행하였고 서울로 계속 진격하였다. 남한의 상황은 지속적으로 악화되었고 동맹국인 미국은 급히 유엔 안전 보장 이사회를 소집해 북한에 즉시 전쟁 중지를 촉구하였다.

○ 10월 17일 오후 7시 비상계엄령 선포와 4개항의 '특별선언'을 발표하였다. 그 내용은 첫째 국회 해산 및 정치활동 중지, 일부 헌법 효력 중지한다. 둘째 정지된 헌법의 기능은 비상국무회의가 대신한다. .... 비상국무회의는 27일 헌법 개정안을 공고하고 국민투표를 실시하였다. 높은 찬성률로 ㉡유신헌법(維新憲法)이 국민투표로 확정되었다.

- ① 미군이 베트남에서 철수하였다.  
 ② 문화 대혁명이 시작되었다.  
 ③ 한일 기본 조약이 체결되었다.  
 ④ 일본에서 도쿄 올림픽이 개최되었다.  
 ⑤ 타이완이 일본과 평화 조약을 체결하였다.

\* 확인 사항

○ 답안지의 해당란에 필요한 내용을 정확히 기입(표기) 했는지 확인하시오.