

제 4 교시

사회탐구 영역(동아시아사)

성명	수험번호	3	제 [ ] 선택
----	------	---	----------



1. (가) 문화가 남긴 유물로 옳은 것은?

**원문**

랴오허강 유역에서 발달한 신석기 문화인 (가) 을/를 대표하는 유물입니다. 이 유물에 대해 말해 볼까요?

뉴허량 유적에서 발견된 여신 얼굴상입니다.

푸른색의 눈이 인상적이에요.

① 3문 ② 허위 ④ 일리개유문화  
 ⑤ 갑골문 → ⑤

2. (가) 황제에 대한 설명으로 옳은 것은?

**원문**

(가) 은/는 북과장군 노박덕, 누선장군 양복 등을 시켜 남월(남비엣)을 정복하여 아홉 군을 설치하였다. 이는 남쪽으로 영역을 넓힌 것이다. 양복 및 좌장군 순체에게 조선을 공격하게 하여, 그 땅에 진번, 임둔, 낙랑, 현도 네 군을 두었다. 이것은 동북쪽으로 영역을 넓힌 것이다. 또한 장군 등을 보내 서역과 교통하게 하니, 여러 나라가 공물을 바쳤다. 이는 서쪽으로 세력을 확대한 것이다.

- ① 균전제를 실시하였다.
- ② 분서갱유를 단행하였다.
- ③ 준왕을 몰아내고 정권을 잡았다.
- ④ 4번공주인 문성 공주와 혼인하였다.
- ⑤ 동중서의 건의를 수용하여 유교를 진흥하였다.

① 3문 ② 3문 ③ 위안 ④ 2문 ⑤ 7문

3. 자료를 활용한 탐구 주제로 가장 적절한 것은?

명문 출신의 고위 관료들이 수도 뤼양의 동남쪽으로 달아나고, 태자를 돌보아야 할 관료도 밤중에 성의 북문을 열고 북쪽으로 달아났다. 유요와 왕미가 수도로 쳐들어오니 진(晉)의 황제는 궁성의 문을 열고 뤼양의 북쪽을 거쳐 장안으로 가려 하였으나 유요 등에게 사로잡혔다.

- ① 백강 전투의 영향
- ② 수의 남북조 통일 결과
- ③ 나당 연합군의 결성 계기
- ④ 5호의 화북 지역 장악 과정
- ⑤ 거란의 연운 16주 차지 배경

5호의 남북

4. 다음 상황이 나타난 시기의 대표 유물에 고른 것은? [3점]

**남동 멸망 (1279)**

칸의 부대가 고정산에 이르자 송의 황제가 신하를 파견하여 국새를 지니고 양복해 왔다. 동문병은 임안(臨安)의 궁전에 들어가, 황제가 기거하던 곳을 장악하고 창고에 소장된 물품을 봉하여 인수하였다. ... (중략) ... 송의 황제 조현과 사태후·전황후 등을 상도(上都)로 보냈다.

1004 (가) 1125 (나) 1185 (다) 1284 (라) 1392 (마) 1636

전연의 맹약 체결	거란 멸망	가마쿠라 막부 성립	금 멸망	조선 건국	병자호란 발발
-----------	-------	------------	------	-------	---------

① (가) ② (나) ③ (다) ④ (라) ⑤ (마)

5. (가) 개혁이 추진된 시기의 동아시아 상황으로 적절한 것은?

**다이카 개혁 (645)**

야마토 정권에서 추진된 (가) 에 대해 이야기해 볼까?

나카노오에 황자가 소가씨를 제거하면서 시작되었어.

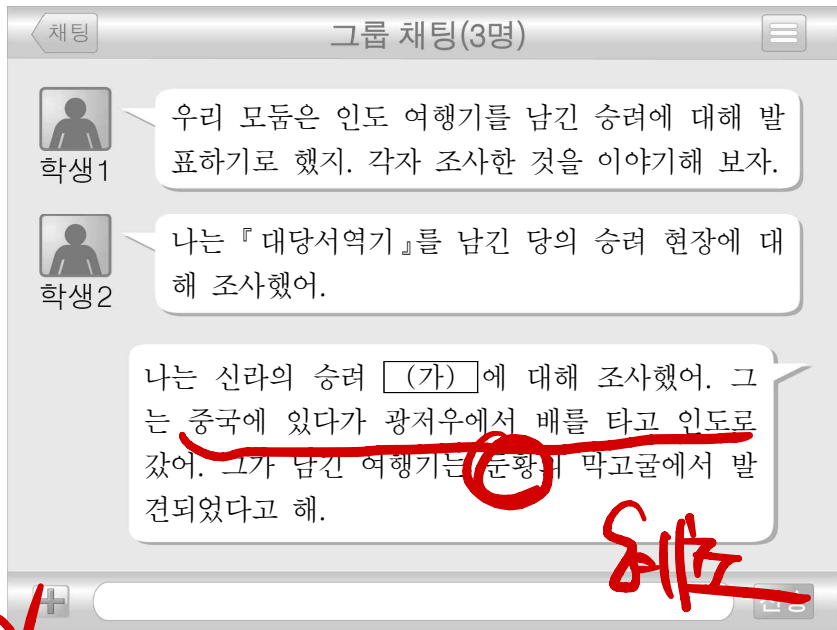
군주 중심의 중앙 집권 체제를 수립하기 위한 개혁이었지.

- ① 서하가 건국되었다.
- ② 삼번의 난이 일어났다.
- ③ 양안석이 신법을 추진하였다.
- ④ 세이안쿄로 천도가 이루어졌다.
- ⑤ 고구려와 당이 군사적으로 대립하였다.

9 36 ① 1038 ② 1673 ③ 10경 ④ 744

동아시아사


6. (가) 인물에 대한 설명으로 옳은 것은?



- ① 왕오천축국전을 남겼다.
- ② 사서집주를 집필하였다.
- ③ 일본에 계율을 전해 주었다.
- ④ 쇼토쿠 태자의 스승이 되었다.
- ⑤ 입당구법순례행기를 저술하였다.

② 주익 ③ 갈진 ④ 혜자 ⑤ 연진

7. (가) 막부 시기의 동아시아에서 볼 수 있는 모습으로 적절한 것은? [3점]



위 그림들은 (가) 시기의 화가 우타가와 히로시게가 묘사한 도카이도(東海道) 풍경 중의 일부이다. 도카이도는 5가도(5개 주요 도로) 중 하나로 조선의 통신사가 이용하기도 하였다. 왼쪽 그림은 도카이도의 출발점인 니혼바시를 건너는 다이묘의 행렬이다. 오른쪽 그림은 도카이도의 종착점인 교토의 다리, 산조오하시를 묘사하고 있다. 그의 작품들은 고흐 등 유럽의 화가에게 영향을 주었다.

- ① 한국-독서삼품과를 거쳐 임용된 관리
- ② 중국-홍루몽을 읽고 있는 상인
- ③ 중국-오경정의를 편찬하는 학자
- ④ 일본-헤이조쿄의 건설에 동원된 농민
- ⑤ 일본-호류사 5층 목탑을 건립하는 장인

① 통일신라 ② 당 ③ 대서대 ④ 바바르 정권

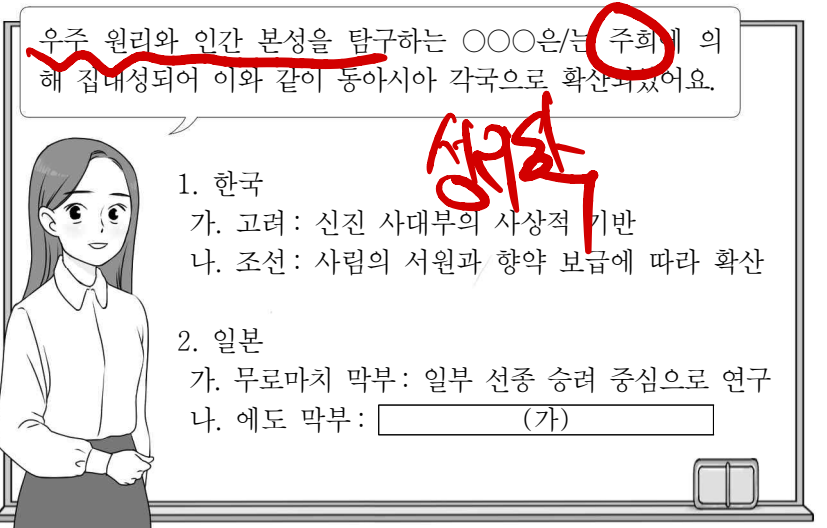
8. 밑줄 친 '이 나라'에 대한 설명으로 옳은 것은?

이 나라의 여러 왕과 장(將)들은 각각 다스리는 영역이 있었으며 그 안에서 물과 풀을 찾아 옮겨 다니며 살았다. 그들 중에서 좌현왕과 우현왕, 좌록리왕과 우록리왕의 영역이 가장 컸다. 그리고 좌갈도후와 우갈도후가 선구의 통치를 보좌하였다.

- ① 도량형, 화폐, 문자를 통일하였다.
- ② 한 고조를 굴복시키고 공물을 받았다.
- ③ 상을 멸망시키고 호경을 수도로 삼았다.
- ④ 야마타이국을 중심으로 연맹체를 이루었다.
- ⑤ 사회 질서 유지를 위해 8조의 법을 제정하였다.

① 진 ② 주 ③ 일본 ④ 고조선

9. (가)에 들어갈 내용으로 적절한 것은?



- ① 신사층 형성에 기여
- ② 다이호 율령 제정에 영향
- ③ 무사 중심의 신분 질서 정비에 활용
- ④ 해체신서 간행을 계기로 본격적 발전
- ⑤ 사고전서 등 대규모 편찬 사업에 기여

① 협정 ② 율령(당) ③ 신학 ④ 책

10. 다음 상황이 나타난 배경으로 가장 적절한 것은? [3점]

중국 국민당과 중국 공산당은 협력의 구체적 내용을 둘러싸고 협상을 계속하였다. 협상은 상하이 전투가 일어나면서 진전을 보였다. 결국 양당의 정책 협정 체결은 성사되지 않았지만, 공산당은 삼민주의를 받들고 국난에 대처하겠다는 선언을 발표하였다. 이후 장제스가 공산당의 합법적 지위를 인정하며 이 선언을 수용하겠다는 의사를 표명하였고 이로써 협작이 성립되었다.

- ① 텐안먼 사건이 일어났다.
- ② 중일 전쟁이 발발하였다.
- ③ 국민 혁명군이 북벌을 전개하였다.
- ④ 좌우 합작 단체인 신간회가 설립되었다.
- ⑤ 일본군이 미드웨이 해전에서 패배하였다.

알탄 칸 → 1550  
부총병 (16C)

11. 자료에 나타난 시기의 동아시아 상황으로 옳은 것은? [3점]

가정 42년 정월 알탄 칸이 선부를 침범하였다. 4월 왜구가 북청을 침범하니 총병관 유현과 유대유가 이들을 섬멸하였다. 부총병 척계광\*은 왜구를 평해위에서 격파하였다. 10월 북로가 장자령을 무수고 약탈하니 수도 베이징의 경계를 엄히 하였다. 조칙을 내려 각 진에서 병사를 수도로 보내 돕게 하였다.

\* 척계광: 장거정의 신임을 얻어 북방을 방비했고, 『기효신서』를 저술하였다.

- ① 태평천국 운동이 발생하였다.
- ② 고려가 거란의 침입을 물리쳤다.
- ③ 원흥다오가 몽골의 침략에 대항하였다.
- ④  센고쿠 다이묘들의 내전이 전개되었다.
- ⑤ 장보고가 청해진을 중심으로 활동하였다.

① 185년 ② 10세기 ③ 1284년 ④ 9C

12. 밑줄 친 '전쟁'의 결과로 옳은 것은?


일본은 경복궁을 점령하고 흥선 대원군을 내세워 새 내각을 구성하였다. 그리고 일본군이 풍도 근처에서 청의 군함을 공격하면서 전쟁은 시작되었다. 이 상황에서 흥선 대원군은 러시아 공사 베베르에게 두 나라의 전쟁은 동양 평화를 위협하는 일이므로 러시아를 비롯해 여러 나라가 중재해주기를 바란다고 말하였다.

- ① 홍콩이 할양되었다.
- ② 만주국이 수립되었다.
- ③  양무운동이 시작되었다.
- ④ 시모노세키 조약이 체결되었다.
- ⑤ 대한 제국의 외교권이 박탈되었다.

① 1차 아편전쟁  
② 만주세번  
③ 러일전쟁  
④ 을사늑약  
⑤ 러일전쟁

13. (가) 도시에서 있었던 사실로 옳은 것은? [3점]

오늘 (가) 답사 첫 일정으로 여기 윤봉길 의사의 흉터공원 의거를 기리는 기념관을 둘러보았습니다. 이제 난징 조약으로 개항된 이후 서양식 거리가 조성된 와이탄을 거쳐 대한민국 임시 정부 청사로 이동하겠습니다.




- ① 신해혁명이 시작되었다.
- ② 한국광복군이 창설되었다.
- ③ 아주 화친회가 창립되었다.
- ④  경사 대학당이 설립되었다.
- ⑤ 영국인이 신보를 창간하였다.

상하이

① 우창 ② 톈징 ③ 도쿄 ④ 베이징


14. (가), (나) 전투 사이에 있었던 사실로 옳은 것은?

무기로 보는 동아시아사 - 조총 편



(가) 전투

오다 노부나가 는 최강으로 알려진 다케다 가쓰요리의 기마 부대를 조총을 이용한 전법으로 격파하였다.



(나) 전투

강홍립 지휘하의 조선군은 사르후산 주변에서 벌어진 전투에서 조총 부대를 앞장세워 후금의 군대와 맞섰다.


나세부 전투 (1575)

사르후산 전투 (1619)

- ① 오년의 난이 발생하였다.
- ② 정화의 항해가 시작되었다.
- ③ 인조가 남한산성에서 항전하였다.
- ④  이순신이 한산도 해전에서 승리하였다.
- ⑤ 이자성의 농민군이 베이징을 점령하였다.

① 1467 ② 1405 ③ 1636년 ④ 1644

15. 밑줄 친 ㉠에 대한 설명으로 옳은 것은? [3점]




인트라무로스\*가 완공되었을 당시 마닐라의 지도이다. 이곳 마닐라로 아메리카 대륙에서 온 갈베온선이 입항하였다. 명의 해금(海禁)이 완화된 이후 중국 상인들이 바다를 건너왔고, 일본인도 슈인선을 타고 왔다. ㉠ 이곳 인트라무로스를 중심으로 에스파냐인, 중국인, 일본인들이 서로 활발하게 교역하였다.

\* 인트라무로스: 에스파냐인들이 거주하기 위해 세운 성으로 이후 필리핀 지배의 거점이 되었다.

- ① 조공 무역의 형태로 전개되었다.
- ② 공행을 통해 교역이 이루어졌다.
- ③  삼합이라는 무역 허가증이 필요하였다.
- ④  신패가 발급되어 무역량이 통제되었다.
- ⑤ 은이 중국으로 유입되는 결과를 낳았다.

은 무역...?

16. 밑줄 친 '신정부'에 대한 설명으로 옳은 것은? [3점]



이것은 신정부가 수립된 이후 근대식 교육을 받는 남학생들과 여학생들의 모습을 표현한 그림이다. 사민평등을 선언한 신정부는 새로운 학제를 공포하고 소학교 의무 교육을 시작하였다. 이후 교육 칙령을 반포하여 중준애국과 충효 일치를 교육의 기본으로 강조하였다.

- ① 광무개혁을 추진하였다.
- ②  흥정 헌법 대강을 반포하였다.
- ③ 이와쿠라 사절단을 파견하였다.
- ④ 미일 수호 통상 조약을 체결하였다.
- ⑤ 베르사유 조약의 조인을 거부하였다.

① 대한제국 ②  흥정 헌법 ③ 미일수호 ④ 베르사유 조약

17. 밑줄 친 '새로운 헌법'에 대한 설명으로 옳은 것은?

9월에 들어 군수 물자 생산의 전면 중지, 육해군 해체, 전범 체포 등 군사적 무장 해체 조치가 단행되었다. 10월부터는 인권 지령과 5대 개혁 지령으로 정치범이 석방되고 여성 참정권이 부여되는 등 대대적 개혁이 단행되었다. 또한 재벌 해체, 노동조합 결성, 농지 개혁 등의 경제 민주화 조치가 발표되었다. 그리고 이듬해 11월에 새로운 헌법이 공포되었다.

- ①  천황에게 막강한 권력을 부여하였다.
- ②  전쟁 포기 내용을 조항에 명시하였다.
- ③ 6·25 전쟁의 영향을 받아 제정되었다.
- ④ 총통 직선제를 실시하는 계기가 되었다.
- ⑤ 혁명파와 입헌파의 대립 속에 만들어졌다.

① 대한제국헌법 ② 1950 ③ 대만(1946) ④  6.25전쟁후

18. 밑줄 친 '혁명'이 일어난 배경으로 가장 적절한 것은?


1966년 여름부터 홍위병들이 격렬하게 활동하였다. '낡은 사상, 문화, 풍속, 학습을 모두 타도'하고 '부르주아 권력의 일소'를 내세운 홍위병들이 문화유산을 파괴하고 많은 사람들을 박해하였다. 마오쩌둥은 이러한 대중 동원 방법을 통해 '당내에서 자본주의 길을 걷는 실권파'를 해체시키고 당과 사회를 재조직하려고 하였다. 이로 인한 갈등과 혼란은 혁명이라는 이름으로 10년에 걸쳐 진행되었다.

- ①  대약진 운동이 실패하였다.
- ② 천수이볜이 총통에 당선되었다.
- ③ 중국 공산당이 대장정을 감행하였다.
- ④ 베트남 사회주의 공화국이 수립되었다.
- ⑤ 집권당에 의해 부정 선거가 자행되었다.

① 대약진운동 ②  문화대혁명 ③ 장제스의 탄압 ④ 남베트남 멸망 ⑤ 3.15 부정선거

19. 다음 뉴스가 보도될 당시 동아시아 상황으로 옳은 것은? [3점]

저는 한국과 타이완의 국교가 단절됨에 따라 철수할 것으로 알려진 타이완 대사관 앞에 나와 있습니다. 지금 대사관 앞에는 많은 화교들이 나와 침통한 표정으로 이후 상황을 걱정하고 있습니다.



- ① 닉슨 독트린이 발표되었다.
- ② 한국군이 베트남 전쟁에 파견되었다.
- ③ 중국에서 국공 내전이 본격화되었다.
- ④  샌프란시스코 강화 조약이 체결되었다.
- ⑤ 중국에서 개혁·개방 정책이 가속화되었다.

① 1969 ② 1965 ③ 1946 ④  1951

20. 자료에 나타난 분쟁 지역을 지도에서 옳게 고른 것은? [3점]

동아시아사신문

○○○○년 △△월 □□일

중·일 영유권 분쟁



섬에 상륙한 시위대

센카쿠 열도(다오위다오)의 한 섬에 상륙한 시위대를 일본 당국이 체포한 이후 중국과 일본의 갈등이 격화되고 있다. 일본 당국은 이들을 곧 석방하였지만 후속 조치로 민간 소유 섬을 국유화하였고, 이에 대해 중국 곳곳에서 반일 시위가 일어나고 있다.



- ① (가) ② (나) ③  (다) ④ (라) ⑤ (마)

\* 확인 사항

○ 답안지의 해당란에 필요한 내용을 정확히 기입(표기)했는지 확인하십시오.