

제 2 교시

수학 영역(가형&나형)

1,2번 ⇨ 수1

3,4번 ⇨ 확통

5,6번 ⇨ 수2

7,8번 ⇨ 미적분

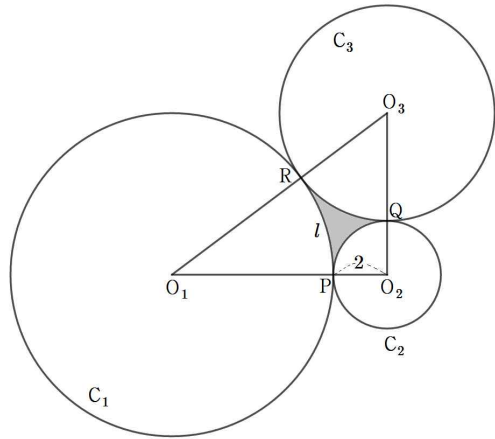
→ 가형은 전문항 풀기, 나형은 1번~6번까지 풀기

5지선다형	단답형
-------	-----

1. 공차가 4인 등차수열 $\{a_n\}$ 에 대하여 세 항 a_3, a_k, a_{15} 은 이 순서대로 등차수열을 이루고, 세 항 a_1, a_2, a_k 는 이 순서대로 등비수열을 이룬다. $k \times a_1$ 의 값은? [4점]

- ① 6 ② 8 ③ 10 ④ 12 ⑤ 14

2. 그림과 같이 넓이가 24이고 $\angle O_1O_2O_3 = 90^\circ$ 인 직각삼각형 $O_1O_2O_3$ 가 있다. 중심이 O_1 인 원 C_1 과 중심이 O_2 인 원 C_2 가 선분 O_1O_2 위의 한 점 P에서 만나고, 원 C_2 와 중심이 O_3 인 원 C_3 이 선분 O_2O_3 위의 한 점 Q에서 만나고 두 원 C_1, C_3 이 선분 O_1O_2 위의 한 점 R에서 만난다. $\overline{O_2P} = 2, \overline{PR} = l$ 일 때, 세 원의 원주로 둘러싸인 도형 PQR의 넓이를 l 에 관한 식으로 나타낸 것은? [4점]



- ① $24 - 4\pi - \frac{4}{3}l$ ② $24 - 3\pi - \frac{5}{3}l$ ③ $24 - 5\pi - \frac{5}{3}l$
 ④ $24 - 3\pi - \frac{4}{3}l$ ⑤ $24 - 6\pi - \frac{4}{3}l$

3. 확률변수 X 가 정규분포

$N\left(m, \frac{16}{(4m+1)^2}\right)$ 를 따른다고 한다.

$P(X \leq 10) = 0.9938$ 일 때, 오른쪽 표준정규분포표를 이용하여 $4m$ 의 값을 구하시오. (단, $m > 0$) [4점]

표준정규분포표	
z	$P(0 \leq Z \leq z)$
1.0	0.3413
1.5	0.4332
2.0	0.4772
2.5	0.4938
3.0	0.4987

4. 학생 A_1, A_2, A_3, A_4 을 포함한 20명의 학생이 있는 반이 있다. 점심시간 좌석번호가 1번부터 20번까지 있는 급식실에 앉는 좌석번호를 정할 때, 학생 A_1, A_2, A_3, A_4 의 좌석번호를 a_1, a_2, a_3, a_4 라 한다. $a_1 - a_2 \geq 4, a_2 - a_3 \geq 4, a_3 - a_4 \geq 4$ 을 만족시키도록 좌석번호를 정하는 모든 순서쌍 (a_1, a_2, a_3, a_4) 의 개수는? [4점]

- ① 56 ② 126 ③ 186 ④ 260 ⑤ 330

5. 함수

$$f(x) = \begin{cases} \frac{x^2+ax+b}{x-1} & (x \neq 1) \\ 2 & (x = 1) \end{cases}$$

이 $x = 1$ 에서 연속이 되도록 하는 두 상수 a, b 에 대하여 $a+b$ 의 값은? [4점]

- ① 4 ② 2 ③ 1 ④ -1 ⑤ -2

6. 함수 $g(x) = -4x^2 + 4x$ 에 대하여 함수 $f(x)$ 를 다음과 같이 정의한다.

$$f(x) = \begin{cases} g(x) & (0 \leq x < 1) \\ \left(\frac{1}{2}\right)^n g(x-2n+1) & (2n-1 \leq x < 2n) \quad (\text{단, } n = 1, 2, 3, \dots) \\ \left(\frac{1}{3}\right)^n g(x-2n) & (2n \leq x < 2n+1) \end{cases}$$

자연수 n 에 대하여 $S_n = \int_{2n-1}^{2n+1} f(x)dx$ 이라 할 때,

$\sum_{n=1}^{20} S_n$ 의 값은? [4점]

- ① $2 - \frac{1}{3} \left(\frac{1}{2^{19}} + \frac{1}{3^{20}} \right)$ ② $1 - \frac{1}{3} \left(\frac{1}{2^{19}} + \frac{1}{3^{20}} \right)$
 ③ $1 - \frac{1}{3} \left(\frac{1}{2^{20}} + \frac{1}{3^{19}} \right)$ ④ $1 - \left(\frac{1}{2^{19}} + \frac{1}{3^{20}} \right)$
 ⑤ $1 - \left(\frac{1}{2^{20}} + \frac{1}{3^{20}} \right)$

7. x 에 대한 방정식 $x^2 e^{\frac{x}{n+2}} = k$ 가 서로 다른 세 실근을 갖도록

하는 정수 k 의 개수를 $f(n)$ 이라 하자. $\sum_{n=1}^5 f(n)$ 의 값을

구하시오. (단, n 은 자연수이고 $\lim_{x \rightarrow -\infty} x^2 e^{\frac{x}{n+2}} = 0$) [4점]

8. 좌표평면 위를 움직이는 점 P 의 시간 t 에서의 좌표는 $(t, 0)$ 이다.

곡선 $y = xe^{-x}$ 위의 점 $Q(x, y)$ 는 점 P 와 거리를 $\sqrt{2}e$ 를 유지하며 움직인다. 다음 중 옳은 것을 고른 것은? [4점]

— 보기 —

ㄱ. $t = \sqrt{2}e$ 일 때 $\frac{dy}{dx} > 0$ 인 Q 의 좌표는 $(0, 0)$ 이다.

ㄴ. $\frac{dy}{dx} < 0$ 인 Q 가 두 개 존재하기 위한 t 범위는

$$t > \frac{\sqrt{2e^4 - 1}}{e} \text{이다.}$$

ㄷ. $t = e - 1$ 일 때, $\frac{dy}{dx} > 0$ 인 점 Q 의 속도는

$$\left(\frac{1}{2e+1}, \frac{2e}{2e+1} \right) \text{이다. (단, } Q \text{의 } x \text{좌표는 정수이다.)}$$

- ① ㄱ ② ㄴ ③ ㄱ, ㄷ
 ④ ㄴ, ㄷ ⑤ ㄱ, ㄴ, ㄷ

* 확인 사항

- 답안지의 해당란에 필요한 내용을 정확히 기입 (표기)했는지 확인하시오.

람데뷰 시사준킬 제70회 해설

1	2	3	4
①	③	39	⑤
5	6	7	8
④	②	175	③

출제
대구 송원학원 황보백 선생님

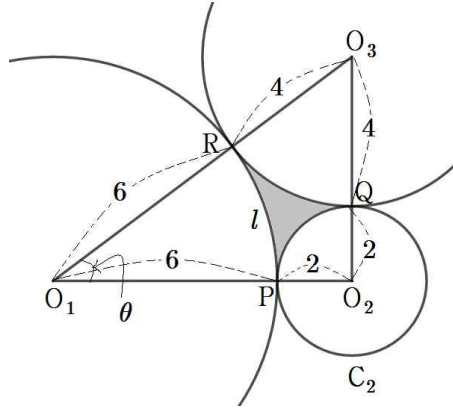
1) 정답 ①
[출제자 : 황보백 대구 송원학원 010-5673-8601]

등차중항의 성질에 의해 $a_k = a_9$ 이다. 따라서 $k = 9$
따라서 $a_2 = a_1 + 4$, $a_9 = a_1 + 32$
등비중항의 성질에 의해
 $(a_1 + 4)^2 = a_1 \times (a_1 + 32)$
 $a_1^2 + 8a_1 + 16 = a_1^2 + 32a_1$
 $24a_1 = 16$
따라서 $a_1 = \frac{2}{3}$
 $k \times a_1 = 9 \times \frac{2}{3} = 6$

2) 정답 ③
[출제자 : 황보백 대구 송원학원 010-5673-8601]

$\overline{O_1P} = a$, $\overline{O_3Q} = b$ 라 두면 $\overline{O_1O_3} = a + b$ 이다.
직각삼각형 $O_1O_2O_3$ 의 넓이가 24이므로
 $24 = \frac{1}{2} \times (a+2) \times (b+2)$
 $\therefore (a+2)(b+2) = 48 \dots \textcircled{1}$
직각삼각형 $O_1O_2O_3$ 에서 피타고라스 정리에 의해
 $(a+2)^2 + (b+2)^2 = (a+b)^2$ 이 성립하므로
 $\therefore 2a+2b+4 = ab \dots \textcircled{2}$
 $\textcircled{1}$ 을 정리하면 $ab = -2a - 2b + 44$ 이고 $\textcircled{2}$ 에 대입하면
 $2a + 2b + 4 = -2a - 2b + 44$
 $a + b = 10$
 $b = -a + 10 \dots \textcircled{3}$
 $\textcircled{3}$ 을 $\textcircled{1}$ 에 대입하면
 $(a+2)(-a+12) = 48$
 $a^2 + 10a - 24 = 0$
 $(a-4)(a-6) = 0$
따라서 $a = 4$, $b = 6$ 또는 $a = 6$, $b = 4$ 이다.

두 경우 모두 도형 PQR의 넓이는 같으므로
 $a = 6$, $b = 4$ 라 하자.



도형 PQR의 넓이를 S 라 하면
 $S = \triangle O_1O_2O_3 - \text{부채꼴 } O_1PR - \text{부채꼴 } O_3RQ - \text{사분원 } O_2PQ$
이다.

부채꼴 O_1PR 의 넓이는 $\frac{1}{2} \times 6 \times l = 3l$ 이고
한편, 부채꼴 O_1PR 에서 $\angle RO_1P = \theta$ 라 하면 $a\theta = l$ 에서 $\theta = \frac{l}{6}$ 이므로
부채꼴 O_3RQ 에서 $\angle RO_1P + \angle RO_3Q = \frac{\pi}{2}$ 이므로
 $\angle RO_3Q = \frac{\pi}{2} - \frac{l}{6}$
따라서 부채꼴 O_3RQ 의 넓이는 $\frac{1}{2} \times 4^2 \times \left(\frac{\pi}{2} - \frac{l}{6}\right) = 4\pi - \frac{4}{3}l$
사분원 O_2PQ 의 넓이는 $\frac{1}{4} \times \pi \times 2^2 = \pi$ 이다.
따라서
 $S = 24 - 3l - \left(4\pi - \frac{4}{3}l\right) - \pi$
 $= 24 - 5\pi - \frac{5}{3}l$

3) 정답 39
[출제자 : 황보백 대구 송원학원 010-5673-8601]

$P(X \leq 10) = 0.9938 = 0.5 + 0.4938$
 $= P(X \leq m) + P(m \leq X \leq 10)$
표준정규분포표를 이용하면
 $P(0 \leq Z \leq 2.5) = 0.4938$ 이므로
 $\frac{10-m}{\sqrt{(4m+1)^2}} = \frac{5}{2}$ 이다.

$$\frac{(10-m)(4m+1)}{4} = \frac{5}{2}$$

$$\rightarrow -4m^2 + 39m + 10 = 10$$

$$\rightarrow -4m\left(m - \frac{39}{4}\right) = 0 \text{에서}$$

$$m = \frac{39}{4} \text{이다.}$$

$$\text{따라서 } 4m = 39$$

4) 정답 ⑤

[출제자 : 황보백 대구 송원학원 010-5673-8601]

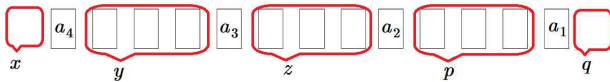
숫자를 적을 수 있는 카드 20개에서 4개를 골라 순서대로 빈 공간이 있도록 나열한다.

왼쪽부터 a_1, a_2, a_3, a_4 표기를 한다.

$$a_1 \geq a_2 + 4, a_2 \geq a_3 + 4, a_3 \geq a_4 + 4 \dots \text{㉠이므로}$$

a_1 과 a_2 사이에 3개의 카드를 넣고 마찬가지로 a_2 과 a_3 사이에, a_3 와 a_4 사이에 3개의 카드를 넣으면 ㉠조건을 만족한다. 그럼 $4+9=13$ 개의 카드를 사용했고 7개의 카드가 남아 있다.

7개의 카드가 들어갈 수 있는 공간은 다음 그림과 같이 5곳이고 거기에 들어가는 카드의 개수를 x, y, z, p, q 라 하면



$$x+y+z+p+q=7, 0 \leq x, y, z, p, q \leq 7 \text{이다.}$$

따라서 공간에 넣는 경우의 수는 ${}_5H_7$ 이다.

$${}_5H_7 = {}_{11}C_7 = {}_{11}C_4 = \frac{11 \times 10 \times 9 \times 8}{4 \times 3 \times 2 \times 1} = 330 \text{이다.}$$

나열된 카드에 순서대로 1,2,3,...,20을 적으면 a_1, a_2, a_3, a_4 표기를 한 카드의 숫자가 순서쌍 (a_1, a_2, a_3, a_4) 이 된다.

따라서 330개다.

5) 정답 ④

[출제자 : 황보백 대구 송원학원 010-5673-8601]

함수 $f(x)$ 가 $x=1$ 에서 연속이므로 $\lim_{x \rightarrow 1} f(x) = f(1)$ 이어야 한다.

$$\text{즉, } \lim_{x \rightarrow 1} \frac{x^2 + ax + b}{x-1} = 2 \dots \text{㉠}$$

$x \rightarrow 1$ 일 때 (분모) $\rightarrow 0$ 이므로 (분자) $\rightarrow 0$ 이어야 한다.

$$\text{즉, } \lim_{x \rightarrow 1} (x^2 + ax + b) = 1 + a + b = 0 \text{에서}$$

$$b = -a - 1 \dots \text{㉡}$$

㉠, ㉡에서

$$\begin{aligned} \lim_{x \rightarrow 1} \frac{x^2 + ax - (a+1)}{x-1} &= \lim_{x \rightarrow 1} \frac{(x-1)(x+a+1)}{x-1} \\ &= \lim_{x \rightarrow 1} (x+a+1) \\ &= a+2 \end{aligned}$$

$$a+2=2 \text{에서 } a=0, b=-1 \text{이므로}$$

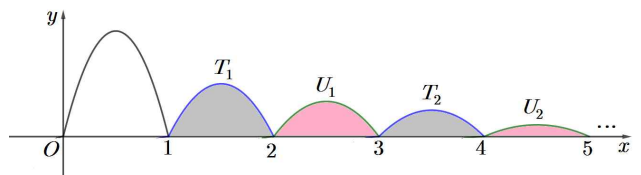
$$a+b=-1$$

6) 정답 ②

[출제자 : 황보백 대구 송원학원 010-5673-8601]

함수 $y = \left(\frac{1}{2}\right)^n g(x-2n+1)$ 의 그래프는 함수 $y = \left(\frac{1}{2}\right)^n g(x)$ 의 그래프를 x 축의 방향으로 $2n-1$ 만큼 평행이동한 것이고

함수 $y = \left(\frac{1}{3}\right)^n g(x-2n)$ 의 그래프는 함수 $y = \left(\frac{1}{3}\right)^n g(x)$ 의 그래프를 x 축의 방향으로 $2n$ 만큼 평행이동한 것으로 함수 $y=f(x)$ 의 그래프는 다음 그림과 같다.



단한구간 $[0, 1]$ 에서 함수 $y=f(x)$ 의 그래프와 x 축으로 둘러싸인 부분의 넓이는

$$S = \int_0^1 (-4x^2 + 4x) dx = \left[-\frac{4}{3}x^3 + 2x^2\right]_0^1 = \frac{2}{3}$$

단한구간 $[2n-1, 2n]$ 에서 함수 $y=f(x)$ 의 그래프와 x 축으로 둘러싸인 부분의 넓이를 T_n 이라 하고 단한구간 $[2n, 2n+1]$ 에서 함수 $y=f(x)$ 의 그래프와 x 축으로 둘러싸인 부분의 넓이를 U_n 이라 하면 $S_n = T_n + U_n$ 이다.

$$T_n \text{은 } T_1 = \frac{2}{3} \times \frac{1}{2} = \frac{1}{3} \text{이고 공비가 } \frac{1}{2} \text{인 등비수열의 합을 이루고}$$

$$U_n \text{은 } U_1 = \frac{2}{3} \times \frac{1}{3} = \frac{2}{9} \text{이고 공비가 } \frac{1}{3} \text{인 등비수열의 합을 이룬다.}$$

따라서

$$\begin{aligned} \sum_{n=1}^{20} S_n &= \sum_{n=1}^{20} T_n + \sum_{n=1}^{20} U_n \\ &= \frac{\frac{1}{3} \left\{1 - \left(\frac{1}{2}\right)^{20}\right\}}{1 - \frac{1}{2}} + \frac{\frac{2}{9} \left\{1 - \left(\frac{1}{3}\right)^{20}\right\}}{1 - \frac{1}{3}} \\ &= \frac{2}{3} \left\{1 - \left(\frac{1}{2}\right)^{20}\right\} + \frac{1}{3} \left\{1 - \left(\frac{1}{3}\right)^{20}\right\} \\ &= 1 - \frac{1}{3} \left\{\frac{1}{2^{19}} + \frac{1}{3^{20}}\right\} \end{aligned}$$

7) 정답 175

[출제자 : 황보백 대구 송원학원 010-5673-8601]

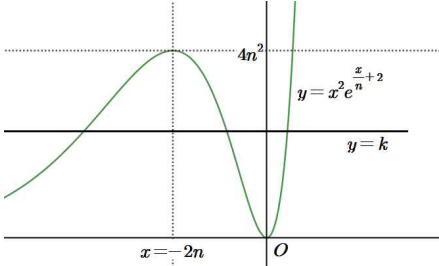
$$g(x) = x^2 e^{\frac{x}{n}+2} \text{라 하면}$$

$$g'(x) = 2xe^{\frac{x}{n}+2} + \frac{1}{n}x^2 e^{\frac{x}{n}+2}$$

$$= xe^{\frac{x}{n}+2} \left(2 + \frac{x}{n}\right)$$

따라서 함수 $g(x)$ 는 $x=-2n$ 과 $x=0$ 일 때 극값을 갖는다.
 증감표로 조사해 보면
 $x=-2n$ 일 때 극댓값 $4n^2$, $x=0$ 일 때 극솟값 0을 갖는다.

따라서 $0 < k < 4n^2$ 일 때 $y=x^2e^{\frac{x}{n}+2}$ 와 $y=k$ 는 서로 다른 세 점에서 만난다.



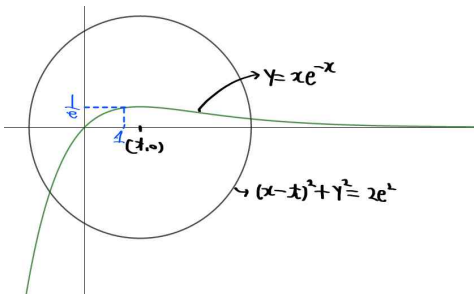
따라서 $0 < k < 4n^2$ 을 만족하는 정수 k 는 1부터 $4n^2 - 1$ 까지이므로 $f(n) = 4n^2 - 1$ 이다.

$$\begin{aligned} \sum_{n=1}^5 f(n) &= \sum_{n=1}^5 (4n^2 - 1) \\ &= 4 \sum_{n=1}^5 n^2 - 5 \\ &= 4 \times \frac{5 \times 6 \times 11}{6} - 5 = 220 - 5 = 215 \end{aligned}$$

8) 정답 ③

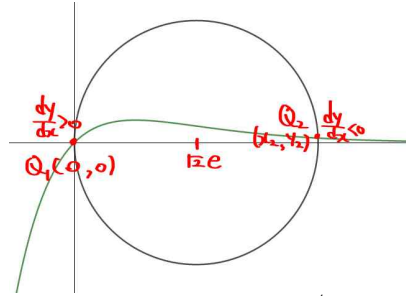
[출제자 : 황보백 대구 송원학원 010-5673-8601]

점 Q 가 $y = xe^{-x}$ 과 $(x-t)^2 + y^2 = 2e^2$ 을 만족한다.
 그래프로 나타내면 다음과 같다.



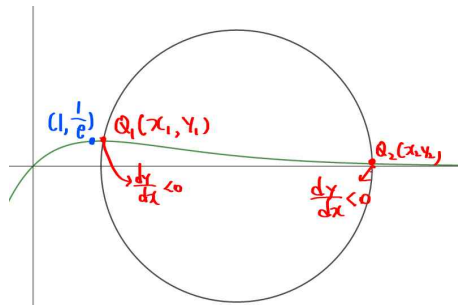
ㄱ. $t = \sqrt{2}e$ 일 때
 $y = xe^{-x}$ 와 $(x - \sqrt{2}e)^2 + y^2 = 2e^2$ 의 교점을
 $Q_1(0, 0)$, $Q_2(x_2, y_2)$ 라 하면 다음 그림과 같이 $\frac{dy}{dx} > 0$ 인 경우는
 $Q_1(0, 0)$ 일 때다. (참)

ㄴ. $\frac{dy}{dx} < 0$ 인 Q 가 두 개 존재한다는 뜻은 $y = xe^{-x}$ 와
 $(x-t)^2 + y^2 = 2e^2$ 의 교점이
 $y = xe^{-x}$ 의 감소 구간에서 두 개 존재한다는 의미이다.
 $y = xe^{-x}$ 의 극대점은 $(1, \frac{1}{e})$ 이므로 $(x-t)^2 + y^2 = 2e^2$ 에
 대입하면



$$(1-t)^2 + \frac{1}{e^2} = 2e^2 \Leftrightarrow (t-1)^2 = \frac{2e^4-1}{e^2}$$

$$t > 1 \text{ 이므로 } t-1 = \frac{\sqrt{2e^4-1}}{e} \text{ 에서 } t = 1 + \frac{\sqrt{2e^4-1}}{e}$$



따라서 교점이 모두 극대점의 x 좌표 1보다 큰 쪽에 존재해야
 하므로 $t > 1 + \frac{\sqrt{2e^4-1}}{e}$ 이다. (거짓)

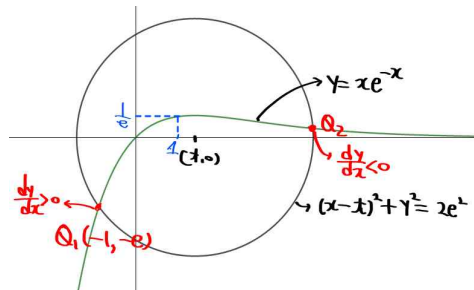
ㄷ.

$y = xe^{-x}$ 와 $(x - \sqrt{2}e)^2 + y^2 = 2e^2$ 을 한 식으로 정리하면
 $(x-t)^2 + x^2e^{-2x} = 2e^2$ 에서
 $(e^{-2x} + 1)x^2 - 2tx + t^2 = 2e^2$ 이다.

음함수 미분하면

$$\{-2x^2e^{-2x} + 2x(e^{-2x} + 1)\} \frac{dx}{dt} - 2x - 2t \frac{dx}{dt} + 2t = 0 \dots \textcircled{7}$$

$t = e - 1$ 일 때 $\frac{dy}{dx} > 0$ 인 점은 Q_1 이고 Q_1 의 x 좌표가 정수이므로
 $(x-t)^2 + x^2e^{-2x} = 2e^2$ 에 대입해서 구하면 $x = -1$ 이므로
 $Q_1(-1, e)$ 이다.



따라서 대입하면 ㉞에 $x = -1, t = e - 1$ 을 대입하면
 $(-2e^2 - 2e^2 - 2) \frac{dx}{dt} + 2 - 2(e-1) \frac{dx}{dt} + 2(e-1) = 0$
 $-2e(2e+1) \frac{dx}{dt} = -2e$
 $\therefore \frac{dx}{dt} = \frac{1}{2e+1}$

한편 $y = xe^{-x}$ 을 t 에 관해 음함수 미분하면

$$\frac{dy}{dt} = e^{-x}(1-x)\frac{dx}{dt} \text{이므로}$$

$$\frac{dy}{dt} = 2e \times \frac{1}{2e+1} = \frac{2e}{2e+1} \text{이다.}$$

따라서 $t = e - 1$ 일 때, Q 의 속도는 $\left(\frac{1}{2e+1}, \frac{2e}{2e+1}\right)$ 이다. (참)