

2021




매쓰메딕

삼각함수 기출모음

(2015 개정)

65제



2021학년도 대비 MATHMEDIC 학습자료

수학 영역 (공통)

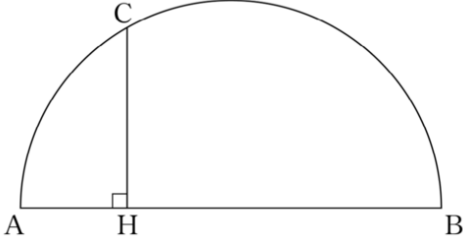
삼각함수 기출문제 65문항



- ① 문제를 풀니다.
- ① QR을 찍고 답안지를 작성합니다.
- ① 자동 채점을 확인하고 해설을 확인합니다.
- ① 이력은 모두 홈페이지에서 확인 가능합니다.

1번

그림과 같이 길이가 12 인 선분 AB 를 지름으로 하는 반원이 있다. 반원 위에서 호 BC 의 길이가 4π 인 점 C 를 잡고 점 C 에서 선분 AB 에 내린 수선의 발을 H 라 하자. \overline{CH}^2 의 값을 구하시오.



180325가

2348

2번

반지름의 길이가 4, 중심각의 크기가 $\frac{\pi}{4}$ 인 부채꼴의 호의 길이는?

- ① $\frac{\pi}{4}$ ② $\frac{\pi}{2}$ ③ $\frac{3}{4}\pi$ ④ π ⑤ $\frac{5}{4}\pi$

190402가

4371

3번

중심각의 크기가 1라디안이고 둘레의 길이가 24인 부채꼴의 넓이를 구하시오.

210323가

11543

4번

수열 $\{a_n\}$ 에서 $a_n = 3 + (-1)^n$ 일 때, 좌표평면 위의 점 P_n 을

$$P_n \left(a_n \cos \frac{2n\pi}{3}, a_n \sin \frac{2n\pi}{3} \right)$$

라 하자. 점 P_{2009} 와 같은 점은?

- ① P_1 ② P_2 ③ P_3 ④ P_4 ⑤ P_5

090928나

5117

5번

수열 $\{a_n\}$ 에서 $a_n = \sin \frac{n\pi}{4}$ 일 때, $\sum_{n=1}^{32} na_n^2$ 의 값을 구하시오.

130428나

3491

7번

$\theta = \frac{3}{4}\pi$ 일 때, $\sin \theta + \cos \theta$ 의 값은?

- ① $-\sqrt{2}$ ② -1 ③ 0
④ 1 ⑤ $\sqrt{2}$

170302가

2565

6번

$\cos \frac{3\pi}{2}$ 의 값은?

- ① -1 ② $-\frac{\sqrt{3}}{2}$ ③ 0
④ $\frac{\sqrt{3}}{2}$ ⑤ 1

170602가

1665

8번

$\sin \theta = \frac{1}{3}$ 일 때, $\cos \left(\theta + \frac{\pi}{2} \right)$ 의 값은?

- ① $-\frac{7}{9}$ ② $-\frac{2}{3}$ ③ $-\frac{5}{9}$
④ $-\frac{4}{9}$ ⑤ $-\frac{1}{3}$

171002가

2715

9번

$\sin \frac{7\pi}{3}$ 의 값은?

- ① $-\frac{\sqrt{2}}{2}$ ② $-\frac{1}{2}$ ③ $\frac{1}{2}$
④ $\frac{\sqrt{2}}{2}$ ⑤ $\frac{\sqrt{3}}{2}$

180602가

1575

11번

$\sin \frac{7}{6}\pi$ 의 값은?

- ① -1 ② $-\frac{\sqrt{3}}{2}$ ③ $-\frac{\sqrt{2}}{2}$
④ $-\frac{1}{2}$ ⑤ 0

180702가

2415

10번

$\sin \frac{7}{6}\pi$ 의 값은?

- ① $-\frac{\sqrt{3}}{2}$ ② $-\frac{\sqrt{2}}{2}$ ③ $-\frac{1}{2}$
④ $\frac{1}{2}$ ⑤ $\frac{\sqrt{2}}{2}$

180301가

2324

12번

$\cos \frac{13}{6}\pi$ 의 값은?

- ① $-\frac{\sqrt{2}}{2}$ ② $-\frac{1}{2}$ ③ $\frac{1}{2}$
④ $\frac{\sqrt{2}}{2}$ ⑤ $\frac{\sqrt{3}}{2}$

200402가

9052

13번

$0 < x < 2\pi$ 일 때, 방정식 $4 \cos^2 x - 1 = 0$ 과 부등식 $\sin x \cos x < 0$ 을 동시에 만족시키는 모든 x 의 값의 합은?

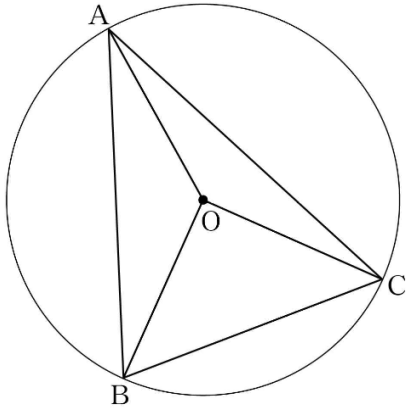
- ① 2π ② $\frac{7}{3}\pi$ ③ $\frac{8}{3}\pi$
 ④ 3π ⑤ $\frac{10}{3}\pi$

201107가

11142

14번

그림과 같이 중심이 O이고 반지름의 길이가 $\sqrt{10}$ 인 원에 내접하는 예각삼각형 ABC에 대하여 두 삼각형 OAB, OCA의 넓이를 각각 S_1, S_2 라 하자. $3S_1 = 4S_2$ 이고 $\overline{BC} = 2\sqrt{5}$ 일 때, 선분 AB의 길이는?



- ① $2\sqrt{7}$ ② $\sqrt{30}$ ③ $4\sqrt{2}$
 ④ $\sqrt{34}$ ⑤ 6

210319가

11539

15번

좌표평면에서 제 1사분면에 점 P가 있다. 점 P를 직선 $y = x$ 에 대하여 대칭이동한 점을 Q라 하고, 점 Q를 원점에 대하여 대칭이동한 점을 R라 할 때, 세 동경 OP, OQ, OR가 나타내는 각을 각각 α, β, γ 라 하자.

$\sin \alpha = \frac{1}{3}$ 일 때, $9(\sin^2 \beta + \tan^2 \gamma)$ 의 값을 구하시오. (단, O는 원점이고, 시초선은 x 축의 양의 방향이다.)

210326가

11546

16번

θ 가 제 3사분면의 각이고 $\cos \theta = -\frac{4}{5}$ 일 때, $\tan \theta$ 의 값은?

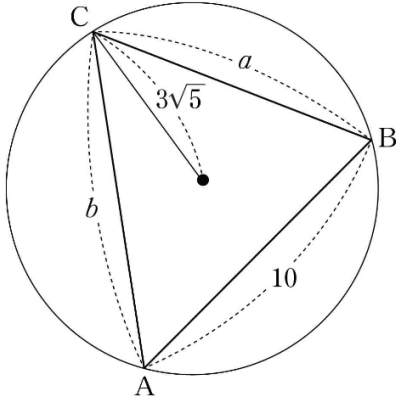
- ① $-\frac{4}{3}$ ② $-\frac{3}{4}$ ③ 0
 ④ $\frac{3}{4}$ ⑤ $\frac{4}{3}$

210303나

11552

17번

길이가 각각 10, a , b 인 세 선분 AB, BC, CA를 각 변으로 하는 예각삼각형 ABC가 있다. 삼각형 ABC의 세 꼭짓점을 지나는 원의 반지름의 길이가 $3\sqrt{5}$ 이고 $\frac{a^2 + b^2 - ab \cos C}{ab} = \frac{4}{3}$ 일 때, ab 의 값은?



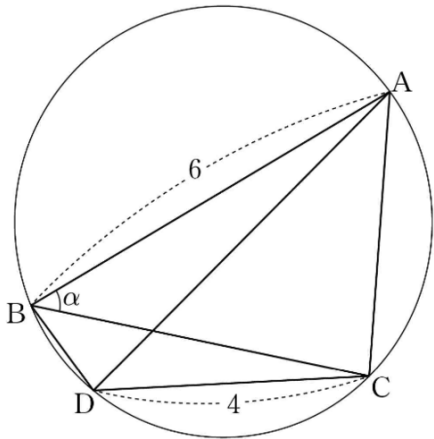
- ① 140 ② 150 ③ 160
④ 170 ⑤ 180

210319나

11568

18번

그림과 같이 예각삼각형 ABC가 한 원에 내접하고 있다. $\overline{AB} = 6$ 이고, $\angle ABC = \alpha$ 라 할 때 $\cos \alpha = \frac{3}{4}$ 이다. 점 A를 지나지 않은 호 BC 위의 점 D에 대하여 $\overline{CD} = 4$ 이다. 두 삼각형 ABD, CBD의 넓이를 각각 S_1, S_2 라 할 때, $S_1 : S_2 = 9 : 5$ 이다. 삼각형 ADC의 넓이를 S 라 할 때, S^2 의 값을 구하시오.



210329나

11578

19번

$0 < x \leq 2\pi$ 일 때, 방정식 $\sin^2 x = \cos^2 x + \cos x$ 와 부등식 $\sin x > \cos x$ 를 동시에 만족시키는 모든 x 의 값의 합은?

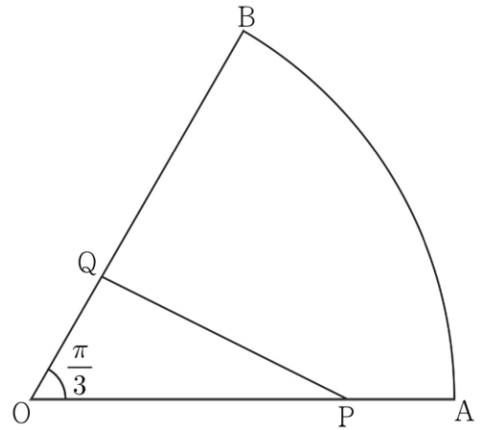
- ① $\frac{4}{3}\pi$ ② $\frac{5}{3}\pi$ ③ 2π ④ $\frac{7}{3}\pi$ ⑤ $\frac{8}{3}\pi$

210409가

11588

20번

그림과 같이 중심각의 크기가 $\frac{\pi}{3}$ 인 부채꼴 OAB에서 선분 OA를 3 : 1로 내분하는 점을 P, 선분 OB를 1 : 2로 내분하는 점을 Q라 하자. 삼각형 OPQ의 넓이가 $4\sqrt{3}$ 일 때, 호 AB의 길이는?



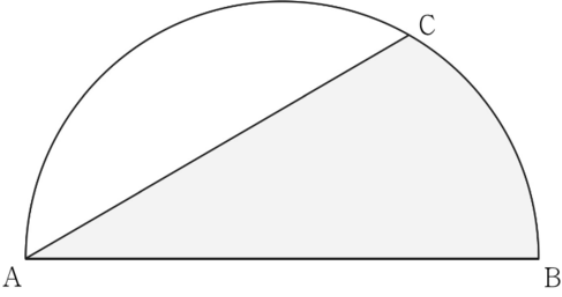
- ① $\frac{5}{3}\pi$ ② 2π ③ $\frac{7}{3}\pi$ ④ $\frac{8}{3}\pi$ ⑤ 3π

210410가

11589

21번

그림과 같이 길이가 12인 선분 AB를 지름으로 하는 반원의 호 AB 위에 점 C가 있다. 호 CB의 길이가 2π 일 때, 두 선분 AB, AC와 호 CB로 둘러싸인 부분의 넓이는?



- ① $5\pi + 9\sqrt{3}$ ② $5\pi + 10\sqrt{3}$ ③ $6\pi + 9\sqrt{3}$
 ④ $6\pi + 10\sqrt{3}$ ⑤ $7\pi + 9\sqrt{3}$

210417나

11626

22번

함수 $f(x) = 5 \sin x + 1$ 의 최댓값을 구하시오.

210622나

11691

23번

삼각방정식 $\sin(\pi \cos x) = 0$ 의 해의 개수는? (단, $0 \leq x < 2\pi$)

- ① 0 ② 1 ③ 2 ④ 3 ⑤ 4

050427가(미적)

7073

24번

두 함수 $f(x) = \lim_{n \rightarrow \infty} \frac{2x^{2n+2} + 1}{x^{2n} + 2}$, $g(x) = \sin(k\pi x)$ 에 대하여 방정식 $f(x) = g(x)$ 가 실근을 갖지 않을 때, $60k$ 의 최댓값을 구하시오.

070621가

4450

25번

무한등비급수

$$\cos^2 \theta + \cos^2 \theta \sin \theta + \cos^2 \theta \sin^2 \theta + \dots$$

의 합이 $\frac{18}{13}$ 일 때, $\frac{10}{\tan \theta}$ 의 값을 구하시오. (단, $0 < \theta < \frac{\pi}{2}$)

070430나

6431

26번

단한 구간 $[0, 2\pi]$ 에서 삼각방정식 $\sin\left(2x - \frac{\pi}{2}\right) = 2 \cos^2 x$ 의 모든

해의 합은?

- ① 2π ② 3π ③ 4π ④ 5π ⑤ 6π

090626가(미적)

4725

27번

함수 $f(x) = \sin \frac{x^2}{2}$ 에 대한 설명으로 옳은 것만을 <보기>에서 있는 대로 고른 것은?

<보기>

ㄱ. $0 < x < 1$ 일 때, $x^2 \sin \frac{x^2}{2} < f(x) < \cos \frac{x^2}{2}$ 이다.

ㄴ. 구간 $(0, 1)$ 에서 곡선 $y = f(x)$ 는 위로 볼록하다.

ㄷ. $\int_0^1 f(x) dx \leq \frac{1}{2} \sin \frac{1}{2}$

- ① ㄱ ② ㄴ ③ ㄱ, ㄴ
④ ㄱ, ㄷ ⑤ ㄴ, ㄷ

100929가(미적)

4608

28번

모든 실수 x 에 대하여 부등식

$$3x^4 - 8x^3 - 6x^2 + 24x \geq k - 2 \sin \frac{\pi}{2} x$$

가 성립할 때, 상수 k 의 최댓값은?

- ① -23 ② -22 ③ -21
④ -20 ⑤ -19

100708가

5868

29번

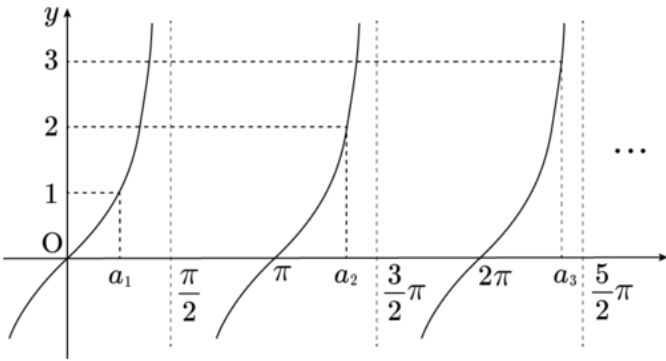
x 에 대한 방정식 $\cos x = \frac{1}{(2n-1)\pi}x$ ($n = 1, 2, 3, \dots$)의 양의 실근의 개수를 a_n 이라 할 때, $\sum_{n=1}^{24} \frac{500}{(a_n+1)(a_n+3)}$ 의 값을 구하시오.

120328가 외 1회

5358

30번

자연수 n 에 대하여 직선 $y = n$ 과 함수 $y = \tan x$ 의 그래프가 제1사분면에서 만나는 점의 x 좌표를 작은 수부터 크기순으로 나열할 때, n 번째 수를 a_n 이라 하자. $\lim_{n \rightarrow \infty} \frac{a_n}{n}$ 의 값은?



- ① $\frac{\pi}{4}$ ② $\frac{\pi}{2}$ ③ $\frac{3}{4}\pi$ ④ π ⑤ $\frac{5}{4}\pi$

141118가

1291

31번

$0 < x < 2\pi$ 일 때, 방정식 $\cos^2 x - \sin x = 1$ 의 모든 실근의 합은 $\frac{q}{p}\pi$ 이다. $p+q$ 의 값을 구하시오. (단, p, q 는 서로소인 자연수이다.)

171125가

1658

32번

$0 \leq x < 2\pi$ 일 때, 방정식

$$2 \sin^2 x + 3 \cos x = 3$$

의 모든 해의 합은?

- ① $\frac{\pi}{2}$ ② π ③ $\frac{3\pi}{2}$ ④ 2π ⑤ $\frac{5\pi}{2}$

170907가

2180

33번

함수 $f(x) = a \sin x + 1$ 의 최댓값을 M , 최솟값을 m 이라 하자.
 $M - m = 6$ 일 때, 양수 a 의 값은?

- ① 2 ② $\frac{5}{2}$ ③ 3 ④ $\frac{7}{2}$ ⑤ 4

170305가

2568

34번

x 에 대한 방정식 $\left| \cos x + \frac{1}{4} \right| = k$ 가 서로 다른 3개의 실근을 갖도록 하
는 실수 k 의 값을 α 라 할 때, 40α 의 값을 구하시오. (단, $0 \leq x < 2\pi$)

170426가

2649

35번

$0 \leq x \leq \pi$ 일 때, 방정식

$$1 + \sqrt{2} \sin 2x = 0$$

의 모든 해의 합은?

- ① π ② $\frac{5\pi}{4}$ ③ $\frac{3\pi}{2}$ ④ $\frac{7\pi}{4}$ ⑤ 2π

180906가

1609

36번

$0 \leq x < 2\pi$ 일 때, 방정식

$$\cos^2 x = \sin^2 x - \sin x$$

의 모든 해의 합은?

- ① 2π ② $\frac{5}{2}\pi$ ③ 3π ④ $\frac{7}{2}\pi$ ⑤ 4π

181107가

2270

37번

함수 $y = a \sin \frac{\pi}{2b} x$ 의 최댓값은 2 이고 주기는 2 이다. 두 양수 a, b 의 합 $a + b$ 의 값은?

- ① 2 ② $\frac{17}{8}$ ③ $\frac{9}{4}$ ④ $\frac{19}{8}$ ⑤ $\frac{5}{2}$

180306가

2329

39번

$0 \leq x < 2\pi$ 일 때, 방정식

$$|\sin 2x| = \frac{1}{2}$$

의 모든 실근의 개수는?

- ① 2 ② 4 ③ 6 ④ 8 ⑤ 10

180409가

2392

38번

함수 $y = 2 \sin x + 1$ 의 최댓값은?

- ① 1 ② 2 ③ 3 ④ 4 ⑤ 5

180402가

2385

40번

$0 \leq x \leq \pi$ 일 때, 방정식 $(\sin x + \cos x)^2 = \sqrt{3} \sin x + 1$ 의 모든 실근의 합은?

- ① $\frac{7}{6}\pi$ ② $\frac{4}{3}\pi$ ③ $\frac{3}{2}\pi$
④ $\frac{5}{3}\pi$ ⑤ $\frac{11}{6}\pi$

180711가

2424

41번

함수 $f(x) = \sin^2 x + \sin\left(x + \frac{\pi}{2}\right) + 1$ 의 최댓값을 M 이라 할 때, $4M$ 의 값을 구하시오.

190325가

4157

42번

$0 \leq x < 2\pi$ 에서 부등식 $2 \sin x + 1 < 0$ 의 해가 $\alpha < x < \beta$ 일 때, $\cos(\beta - \alpha)$ 의 값은?

- ① $-\frac{\sqrt{3}}{2}$ ② $-\frac{1}{2}$ ③ 0
④ $\frac{1}{2}$ ⑤ $\frac{\sqrt{3}}{2}$

190409가

4378

43번

좌표평면에서 곡선 $y = 4 \sin\left(\frac{\pi}{2}x\right)$ ($0 \leq x \leq 2$)위의 점 중 y 좌표가 정수인 점의 개수를 구하시오.

190424가

4393

44번

열린 구간 $\left(-\frac{\pi}{2}, \frac{3\pi}{2}\right)$ 에서 정의된 함수

$$f(x) = \begin{cases} 2 \sin^3 x & \left(-\frac{\pi}{2} < x < \frac{\pi}{4}\right) \\ \cos x & \left(\frac{\pi}{4} \leq x < \frac{3\pi}{2}\right) \end{cases}$$

가 있다. 실수 t 에 대하여 다음 조건을 만족시키는 모든 실수 k 의 개수를 $g(t)$ 라 하자.

(가) $-\frac{\pi}{2} < k < \frac{3\pi}{2}$

(나) 함수 $\sqrt{|f(x) - t|}$ 는 $x = k$ 에서 미분가능하지 않다.

함수 $g(t)$ 에 대하여 합성함수 $(h \circ g)(t)$ 가 실수 전체의 집합에서 연속이 되도록 하는 최고차항의 계수가 1인 사차함수 $h(x)$ 가 있다. $g\left(\frac{\sqrt{2}}{2}\right) = a, g(0) = b, g(-1) = c$ 라 할 때, $h(a+5) - h(b+3) + c$ 의 값은?

- ① 96 ② 97 ③ 98
④ 99 ⑤ 100

190621가

6487

45번

$0 \leq x \leq 2\pi$ 일 때, 방정식 $\sin 2x = \frac{1}{3}$ 의 모든 해의 합은?

- ① $\frac{3}{2}\pi$ ② 2π ③ $\frac{5}{2}\pi$ ④ 3π ⑤ $\frac{7}{2}\pi$

190708가

7116

46번

실수 k 에 대하여 함수

$$f(x) = \cos^2\left(x - \frac{3}{4}\pi\right) - \cos\left(x - \frac{\pi}{4}\right) + k$$

의 최댓값은 3, 최솟값은 m 이다. $k + m$ 의 값은?

- ① 2 ② $\frac{9}{4}$ ③ $\frac{5}{2}$ ④ $\frac{11}{4}$ ⑤ 3

190914가

8283

47번

0이 아닌 세 정수 l, m, n 이

$$|l| + |m| + |n| \leq 10$$

을 만족시킨다. $0 \leq x \leq \frac{3}{2}\pi$ 에서 정의된 연속함수 $f(x)$ 가 $f(0) =$

$$0, f\left(\frac{3}{2}\pi\right) = 1$$
 이고

$$f'(x) = \begin{cases} l \cos x & \left(0 < x < \frac{\pi}{2}\right) \\ m \cos x & \left(\frac{\pi}{2} < x < \pi\right) \\ n \cos x & \left(\pi < x < \frac{3}{2}\pi\right) \end{cases}$$

를 만족시킬 때, $\int_0^{\frac{3}{2}\pi} f(x)dx$ 의 값이 최대가 되도록 하는 l, m, n 에 대하여 $l + 2m + 3n$ 의 값은?

- ① 12 ② 13 ③ 14 ④ 15 ⑤ 16

190921가

8290

48번

열린 구간 $(0, \pi)$ 에서 부등식

$$(2^x - 8)\left(\cos x - \frac{1}{2}\right) < 0$$

의 해가 $a < x < b$ 또는 $c < x < d$ 일 때, $(b - a) + (d - c)$ 의 값은? (단, $b < c$)

- ① $\pi - 3$ ② $\frac{7\pi}{6} - 3$ ③ $\frac{4\pi}{3} - 3$
④ $3 - \frac{\pi}{3}$ ⑤ $3 - \frac{\pi}{6}$

191012가

8351

49번

$0 \leq \theta < 2\pi$ 일 때, x 에 대한 이차방정식

$$6x^2 + (4 \cos \theta)x + \sin \theta = 0$$

이 실근을 갖지 않도록 하는 모든 θ 의 값의 범위는 $\alpha < \theta < \beta$ 이다.

$3\alpha + \beta$ 의 값은?

- ① $\frac{5}{6}\pi$ ② π ③ $\frac{7}{6}\pi$ ④ $\frac{4}{3}\pi$ ⑤ $\frac{3}{2}\pi$

191111가

8543

50번

점 $(-\frac{\pi}{2}, 0)$ 에서 곡선 $y = \sin x (x > 0)$ 에 접선을 그어 접점의 x 좌표를 작은 수부터 크기순으로 모두 나열할 때, n 번째 수를 a_n 이라 하자. 모든 자연수 n 에 대하여 <보기>에서 옳은 것만을 있는 대로 고른 것은?

<보기>

- ㄱ. $\tan a_n = a_n + \frac{\pi}{2}$
 ㄴ. $\tan a_{n+2} - \tan a_n > 2\pi$
 ㄷ. $a_{n+1} + a_{n+2} > a_n + a_{n+3}$

- ① ㄱ ② ㄱ, ㄴ ③ ㄱ, ㄷ
 ④ ㄴ, ㄷ ⑤ ㄱ, ㄴ, ㄷ

191120가

8552

51번

최고차항의 계수가 6π 인 삼차함수 $f(x)$ 에 대하여 함수

$$g(x) = \frac{1}{2 + \sin(f(x))}$$

이 $x = \alpha$ 에서 극대 또는 극소이고, $\alpha \geq 0$ 인

모든 α 를 작은 수부터 크기순으로 나열한 것을 $\alpha_1, \alpha_2, \alpha_3, \alpha_4, \alpha_5, \dots$

라 할 때, $g(x)$ 는 다음 조건을 만족시킨다.

(가) $\alpha_1 = 0$ 이고 $g(\alpha_1) = \frac{2}{5}$ 이다.

(나) $\frac{1}{g(\alpha_5)} = \frac{1}{g(\alpha_2)} + \frac{1}{2}$

$g'(-\frac{1}{2}) = a\pi$ 라 할 때, a^2 의 값을 구하시오. (단, $0 < f(0) < \frac{\pi}{2}$)

191130가

8562

52번

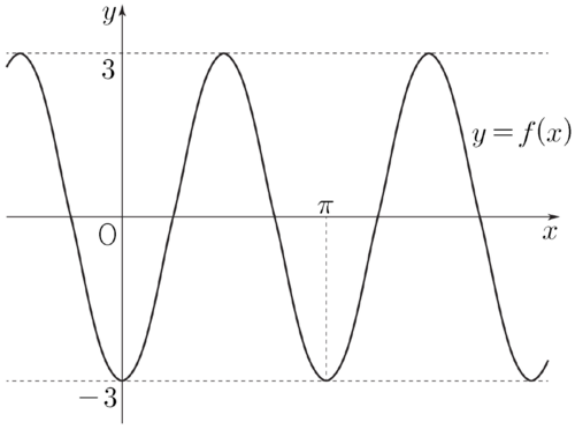
$0 \leq x \leq \pi$ 일 때, 2이상의 자연수 n 에 대하여 두 곡선 $y = \sin x$ 와 $y = \sin(nx)$ 의 교점의 개수를 a_n 이라 하자. $a_3 + a_5$ 의 값을 구하시오.

200326가

8842

53번

두 상수 a, b 에 대하여 함수 $f(x) = a \cos bx$ 의 그래프가 그림과 같다. 함수 $g(x) = b \sin x + a$ 의 최댓값은? (단, $b > 0$)



- ① -2 ② -1 ③ 0 ④ 1 ⑤ 2

200410가

9060

54번

$\tan \alpha = -\frac{5}{12}$ ($\frac{3}{2}\pi < \alpha < 2\pi$) 이고 $0 \leq x < \frac{\pi}{2}$ 일 때, 부등식

$$\cos x \leq \sin(x + \alpha) \leq 2 \cos x$$

를 만족시키는 x 에 대하여 $\tan x$ 의 최댓값과 최솟값의 합은?

- ① $\frac{31}{12}$ ② $\frac{37}{12}$ ③ $\frac{43}{12}$ ④ $\frac{49}{12}$ ⑤ $\frac{55}{12}$

200715가

9740

55번

$0 < a < \frac{4}{7}$ 인 실수 a 와 유리수 b 에 대하여 닫힌구간 $[-\frac{\pi}{a}, \frac{2\pi}{a}]$ 에서 정의된 함수 $f(x) = 2 \sin(ax) + b$ 가 있다. 함수 $y = f(x)$ 의 그래프가 두 점 $A(-\frac{\pi}{2}, 0)$, $B(\frac{7}{2}\pi, 0)$ 을 지날 때, $30(a + b)$ 의 값을 구하시오.

210328가

11548

56번

$0 \leq x < 2\pi$ 일 때, 두 곡선 $y = \cos(x - \frac{\pi}{2})$ 와 $y = \sin 4x$ 가 만나는 점의 개수는?

- ① 2 ② 4 ③ 6 ④ 8 ⑤ 10

210307나

11556

57번

$x < \theta < 2\pi$ 인 θ 에 대하여 $\frac{\sin \theta \cos \theta}{1 - \cos \theta} + \frac{1 - \cos \theta}{\tan \theta} = 1$ 일 때,
 $\cos \theta$ 의 값은?

- ① $-\frac{2\sqrt{5}}{5}$ ② $-\frac{\sqrt{5}}{5}$ ③ $\frac{1}{5}$
④ $\frac{\sqrt{5}}{5}$ ⑤ $\frac{2\sqrt{5}}{5}$

210412가

11591

58번

자연수 k 에 대하여 집합 A_k 를

$$A_k = \left\{ \sin \frac{2(m-1)\pi}{k} \mid m \text{은 자연수} \right\}$$

라 할 때, <보기>에서 옳은 것만을 있는 대로 고른 것은?

<보기>

ㄱ. $A_3 = \left\{ -\frac{\sqrt{3}}{2}, 0, \frac{\sqrt{3}}{2} \right\}$

ㄴ. 1이 집합 A_k 의 원소가 되도록 하는 두 자리 자연수 k 의 개수는 22이다.

ㄷ. $n(A_k) = 11$ 을 만족시키는 모든 k 의 값의 합은 33이다.

- ① ㄱ ② ㄱ, ㄴ ③ ㄱ, ㄷ
④ ㄴ, ㄷ ⑤ ㄱ, ㄴ, ㄷ

210421가

11600

59번

$0 \leq x \leq 2\pi$ 에서 정의된 함수 $y = a \sin 3x + b$ 의 그래프가 두 직선
 $y = 9, y = 2$ 와 만나는 점의 개수가 각각 3, 7이 되도록 하는 두 양수 a, b
에 대하여 $a \times b$ 의 값을 구하시오.

210426가

11605

60번

두 함수

$$f(x) = \cos(ax) + 1, g(x) = |\sin 3x|$$

의 주기가 서로 같을 때, 양수 a 의 값은?

- ① 5 ② 6 ③ 7 ④ 8 ⑤ 9

210415나

11618

61번

$0 \leq \theta < 2\pi$ 일 때, x 에 대한 이차방정식

$$x^2 - (2 \sin \theta)x - 3 \cos^2 \theta - 5 \sin \theta + 5 = 0$$

이 실근을 갖도록 하는 θ 의 최솟값과 최댓값을 각각 α, β 라 하자. $4\beta - 2\alpha$ 의 값은?

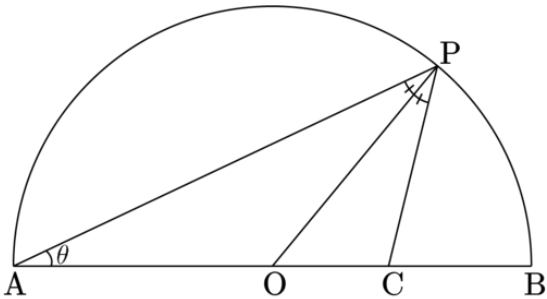
- ① 3π ② 4π ③ 5π ④ 6π ⑤ 7π

210614가

11653

62번

그림과 같이 길이가 2인 선분 AB를 지름으로 하는 반원 위의 점 P에 대하여 $\angle PAB = \theta$ 라 하자. 선분 OB 위의 점 C가 $\angle APO = \angle OPC$ 를 만족시킬 때, $\lim_{\theta \rightarrow +0} \overline{OC}$ 의 값은?
(단, $0 < \theta < \frac{\pi}{4}$ 이고, 점 O는 선분 AB의 중점이다.)



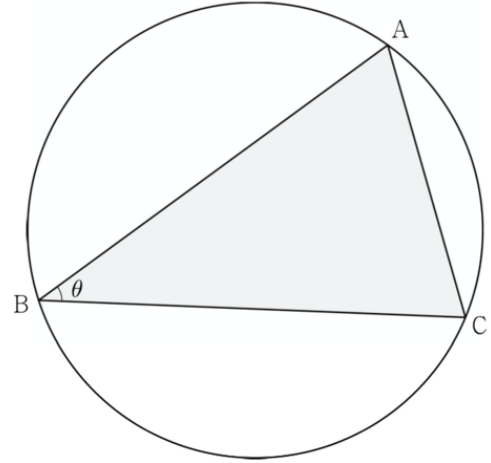
- ① $\frac{1}{12}$ ② $\frac{1}{6}$ ③ $\frac{1}{4}$ ④ $\frac{1}{3}$ ⑤ $\frac{5}{12}$

161012가

2965

63번

그림과 같이 반지름의 길이가 4인 원에 내접하고 변 AC의 길이가 5인 삼각형 ABC가 있다. $\angle ABC = \theta$ 라 할 때, $\sin \theta$ 의 값은? (단, $0 < \theta < \pi$)



- ① $\frac{1}{4}$ ② $\frac{3}{8}$ ③ $\frac{1}{2}$ ④ $\frac{5}{8}$ ⑤ $\frac{3}{4}$

210413나

11623

64번

반지름의 길이가 15인 원에 내접하는 삼각형 ABC에서 $\sin B = \frac{7}{10}$ 일 때, 선분 AC의 길이를 구하시오.

210623가

11662



65번

반지름의 길이가 15인 원에 내접하는 삼각형 ABC 에서 $\sin B = \frac{7}{10}$ 일
때, 선분 AC 의 길이는?

- ① 15 ② 18 ③ 21 ④ 24 ⑤ 27

210605나

11674



1번	<input type="text"/>	21번	<input type="radio"/> 1	<input type="radio"/> 2	<input type="radio"/> 3	<input type="radio"/> 4	<input type="radio"/> 5	41번	<input type="text"/>								
2번	<input type="radio"/> 1	<input type="radio"/> 2	<input type="radio"/> 3	<input type="radio"/> 4	<input type="radio"/> 5	22번	<input type="text"/>	42번	<input type="radio"/> 1	<input type="radio"/> 2	<input type="radio"/> 3	<input type="radio"/> 4	<input type="radio"/> 5				
3번	<input type="text"/>	23번	<input type="radio"/> 1	<input type="radio"/> 2	<input type="radio"/> 3	<input type="radio"/> 4	<input type="radio"/> 5	43번	<input type="text"/>								
4번	<input type="radio"/> 1	<input type="radio"/> 2	<input type="radio"/> 3	<input type="radio"/> 4	<input type="radio"/> 5	24번	<input type="text"/>	44번	<input type="radio"/> 1	<input type="radio"/> 2	<input type="radio"/> 3	<input type="radio"/> 4	<input type="radio"/> 5				
5번	<input type="text"/>	25번	<input type="text"/>	45번	<input type="radio"/> 1	<input type="radio"/> 2	<input type="radio"/> 3	<input type="radio"/> 4	<input type="radio"/> 5								
6번	<input type="radio"/> 1	<input type="radio"/> 2	<input type="radio"/> 3	<input type="radio"/> 4	<input type="radio"/> 5	26번	<input type="radio"/> 1	<input type="radio"/> 2	<input type="radio"/> 3	<input type="radio"/> 4	<input type="radio"/> 5	46번	<input type="radio"/> 1	<input type="radio"/> 2	<input type="radio"/> 3	<input type="radio"/> 4	<input type="radio"/> 5
7번	<input type="radio"/> 1	<input type="radio"/> 2	<input type="radio"/> 3	<input type="radio"/> 4	<input type="radio"/> 5	27번	<input type="radio"/> 1	<input type="radio"/> 2	<input type="radio"/> 3	<input type="radio"/> 4	<input type="radio"/> 5	47번	<input type="radio"/> 1	<input type="radio"/> 2	<input type="radio"/> 3	<input type="radio"/> 4	<input type="radio"/> 5
8번	<input type="radio"/> 1	<input type="radio"/> 2	<input type="radio"/> 3	<input type="radio"/> 4	<input type="radio"/> 5	28번	<input type="radio"/> 1	<input type="radio"/> 2	<input type="radio"/> 3	<input type="radio"/> 4	<input type="radio"/> 5	48번	<input type="radio"/> 1	<input type="radio"/> 2	<input type="radio"/> 3	<input type="radio"/> 4	<input type="radio"/> 5
9번	<input type="radio"/> 1	<input type="radio"/> 2	<input type="radio"/> 3	<input type="radio"/> 4	<input type="radio"/> 5	29번	<input type="text"/>	49번	<input type="radio"/> 1	<input type="radio"/> 2	<input type="radio"/> 3	<input type="radio"/> 4	<input type="radio"/> 5				
10번	<input type="radio"/> 1	<input type="radio"/> 2	<input type="radio"/> 3	<input type="radio"/> 4	<input type="radio"/> 5	30번	<input type="radio"/> 1	<input type="radio"/> 2	<input type="radio"/> 3	<input type="radio"/> 4	<input type="radio"/> 5	50번	<input type="radio"/> 1	<input type="radio"/> 2	<input type="radio"/> 3	<input type="radio"/> 4	<input type="radio"/> 5
11번	<input type="radio"/> 1	<input type="radio"/> 2	<input type="radio"/> 3	<input type="radio"/> 4	<input type="radio"/> 5	31번	<input type="text"/>	51번	<input type="text"/>								
12번	<input type="radio"/> 1	<input type="radio"/> 2	<input type="radio"/> 3	<input type="radio"/> 4	<input type="radio"/> 5	32번	<input type="radio"/> 1	<input type="radio"/> 2	<input type="radio"/> 3	<input type="radio"/> 4	<input type="radio"/> 5	52번	<input type="text"/>				
13번	<input type="radio"/> 1	<input type="radio"/> 2	<input type="radio"/> 3	<input type="radio"/> 4	<input type="radio"/> 5	33번	<input type="radio"/> 1	<input type="radio"/> 2	<input type="radio"/> 3	<input type="radio"/> 4	<input type="radio"/> 5	53번	<input type="radio"/> 1	<input type="radio"/> 2	<input type="radio"/> 3	<input type="radio"/> 4	<input type="radio"/> 5
14번	<input type="radio"/> 1	<input type="radio"/> 2	<input type="radio"/> 3	<input type="radio"/> 4	<input type="radio"/> 5	34번	<input type="text"/>	54번	<input type="radio"/> 1	<input type="radio"/> 2	<input type="radio"/> 3	<input type="radio"/> 4	<input type="radio"/> 5				
15번	<input type="text"/>	35번	<input type="radio"/> 1	<input type="radio"/> 2	<input type="radio"/> 3	<input type="radio"/> 4	<input type="radio"/> 5	55번	<input type="text"/>								
16번	<input type="radio"/> 1	<input type="radio"/> 2	<input type="radio"/> 3	<input type="radio"/> 4	<input type="radio"/> 5	36번	<input type="radio"/> 1	<input type="radio"/> 2	<input type="radio"/> 3	<input type="radio"/> 4	<input type="radio"/> 5	56번	<input type="radio"/> 1	<input type="radio"/> 2	<input type="radio"/> 3	<input type="radio"/> 4	<input type="radio"/> 5
17번	<input type="radio"/> 1	<input type="radio"/> 2	<input type="radio"/> 3	<input type="radio"/> 4	<input type="radio"/> 5	37번	<input type="radio"/> 1	<input type="radio"/> 2	<input type="radio"/> 3	<input type="radio"/> 4	<input type="radio"/> 5	57번	<input type="radio"/> 1	<input type="radio"/> 2	<input type="radio"/> 3	<input type="radio"/> 4	<input type="radio"/> 5
18번	<input type="text"/>	38번	<input type="radio"/> 1	<input type="radio"/> 2	<input type="radio"/> 3	<input type="radio"/> 4	<input type="radio"/> 5	58번	<input type="radio"/> 1	<input type="radio"/> 2	<input type="radio"/> 3	<input type="radio"/> 4	<input type="radio"/> 5				
19번	<input type="radio"/> 1	<input type="radio"/> 2	<input type="radio"/> 3	<input type="radio"/> 4	<input type="radio"/> 5	39번	<input type="radio"/> 1	<input type="radio"/> 2	<input type="radio"/> 3	<input type="radio"/> 4	<input type="radio"/> 5	59번	<input type="text"/>				
20번	<input type="radio"/> 1	<input type="radio"/> 2	<input type="radio"/> 3	<input type="radio"/> 4	<input type="radio"/> 5	40번	<input type="radio"/> 1	<input type="radio"/> 2	<input type="radio"/> 3	<input type="radio"/> 4	<input type="radio"/> 5	60번	<input type="radio"/> 1	<input type="radio"/> 2	<input type="radio"/> 3	<input type="radio"/> 4	<input type="radio"/> 5

61번 1 2 3 4 5

62번 1 2 3 4 5

63번 1 2 3 4 5

64번

65번 1 2 3 4 5

매쓰메딕 - 삼각함수 기출문제 65문항 답안

단원구분

단원명

- 1-3 번 일반각과 호도법
- 4-22번 삼각함수의 뜻
- 23-61번 삼각함수의 그래프
- 62-65번 사인법칙과 코사인법칙

해설 확인 방법

<https://app.mathmedic.kr/answers/id/>

문항 ID 입력 후 확인

문제번호	문항 ID	답
1	2348	27
2	4371	4
3	11543	32
4	5117	5
5	3491	256
6	1665	3
7	2565	3
8	2715	5
9	1575	5
10	2324	3
11	2415	4
12	9052	5
13	11142	2
14	11539	3
15	11546	80
16	11552	4
17	11568	2
18	11578	63
19	11588	1
20	11589	4
21	11626	3
22	11691	6
23	7073	5
24	4450	10
25	6431	24
26	4725	3
27	4608	4
28	5868	3
29	5358	120
30	1291	4
31	1658	7
32	2180	4
33	2568	3
34	2649	30
35	1609	3

문제번호	문항 ID	답
36	2270	4
37	2329	5
38	2385	3
39	2392	4
40	2424	1
41	4157	9
42	4378	2
43	4393	9
44	6487	4
45	7116	4
46	8283	3
47	8290	5
48	8351	3
49	8543	4
50	8552	5
51	8562	27
52	8842	9
53	9060	2
54	9740	4
55	11548	40
56	11556	4
57	11591	2
58	11600	2
59	11605	14
60	11618	2
61	11653	1
62	2965	4
63	11623	4
64	11662	21
65	11674	3