

출가능수

사회문화

자료분석

기출문제

수록

1. 2019 6월 모의평가 10번
2. 2019 6월 모의평가 15번
3. 2018 수능 4번
4. 2018 수능 15번
5. 2018 9월 모의평가 14번
6. 2018 6월 모의평가 14번
7. 2018 6월 모의평가 15번
8. 2017 수능 15번
9. 2017 수능 18번
10. 2017 6월 모의평가 15번
11. 2017 6월 모의평가 17번
12. 2016 수능 15번
13. 2016 9월 모의평가 11번
14. 2016 6월 모의평가 10번
15. 2016 6월 모의평가 15번
16. 2015 수능 9번
17. 2015 9월 모의평가 10번
18. 2015 6월 모의평가 15번
19. 2014 수능 17번
20. 2014 9월 모의평가 10번
21. 2014 6월 모의평가 16번
22. 2014 예비평가 10번



copyright © 출기능수 all rights reserved.

1. 2019 6월 모의평가 10번

10. 다음 연구에 대한 옳은 설명만을 <보기>에서 있는 대로 고른 것은? [3점]

갑은 청소년 비행에 부모와의 친밀도 및 ㉠비행 친구와의 교제가 미치는 영향에 대하여 연구하고자 선행 연구 자료를 분석하였다. 그리고 ㉡'부모와의 친밀도가 높을수록 비행을 덜 저지를 것이다.', ㉢'비행 친구와 교제할수록 비행을 더 저지를 것이다.'라는 잠정적 결론을 도출하였다. 이어 청소년 1,000명을 대상으로 부모와의 1주일 평균 대화 시간, ㉣주당 1시간 이상 접촉하는 친구 중에 비행을 저지른 친구가 있는지의 여부, 그리고 지난 1년간 비행 경험 유무에 대하여 설문 조사를 실시하였다. 수집된 자료 분석 결과는 아래와 같으며, 이 결과는 통계적 검증 과정을 거쳤다.

(단위: 명)

㉡ 부모와의 대화 시간	㉢ 비행 친구 유무	비행 경험 유무		계
		없음	있음	
적음	있음	140	60	200
	없음	180	120	300
많음	있음	240	60	300
	없음	140	60	200

<보 기>

- ㄱ. 1차 자료와 2차 자료가 모두 활용되었다.
- ㄴ. ㉡은 ㉢과 ㉣의 관계를 통해 검증된다.
- ㄷ. ㉢은 ㉠의 조작적 정의에 해당한다.
- ㄹ. 분석 결과는 ㉡과 ㉢을 지지하는 근거로 활용될 수 있다.

- ① ㄱ, ㄴ ② ㄱ, ㄷ ③ ㄴ, ㄹ
- ④ ㄱ, ㄷ, ㄹ ⑤ ㄴ, ㄷ, ㄹ

2. 2019 6월 모의평가 15번

15. 다음 자료에 대한 옳은 분석만을 <보기>에서 있는 대로 고른 것은? (단, (가)~(다)는 각각 사회 보험, 공공 부조, 사회 서비스 중 하나이다.) [3점]

<자료 1> 우리나라 사회 보장 제도의 사례

제도	사례
(가)	소득, 건강, 주거, 사회적 접촉 등의 수준을 평가하여 선정된 65세 이상의 독거 노인에게 정기적인 안전 확인 및 정서적 지원, 보건 서비스 연계·조정, 생활 교육 지원 등을 하는 제도
(나)	사용자, 근로자 또는 자영업자 등이 공동으로 마련한 재원으로 노령에 따른 근로 소득 상실을 보전하기 위한 급여를 지급하는 제도
(다)	국가와 지방 자치 단체의 재정으로 65세 이상 노인 중 소득이 일정 수준 이하인 사람에게 생활 안정에 필요한 연금을 지급하는 제도

<자료 2> A 지역의 65세 이상 인구 중 (가)~(다)의 수혜자 현황

(단위: %)

구분	2014년						2015년						
	(가)		(나)		(다)		(가)		(나)		(다)		
수혜자 비율	12		40		60		12		40		60		
수혜자 중 남녀 비율	남	30	70	58	42	36	64	40	60	55	45	30	70

* 2014년 A 지역의 65세 이상 인구는 10,000명임.

** 2015년 A 지역의 65세 이상 인구 증가율은 -5%임.

*** 65세 이상 인구 증가율(%) = $\frac{\text{당해 연도 65세 이상 인구} - \text{전년도 65세 이상 인구}}{\text{전년도 65세 이상 인구}} \times 100$

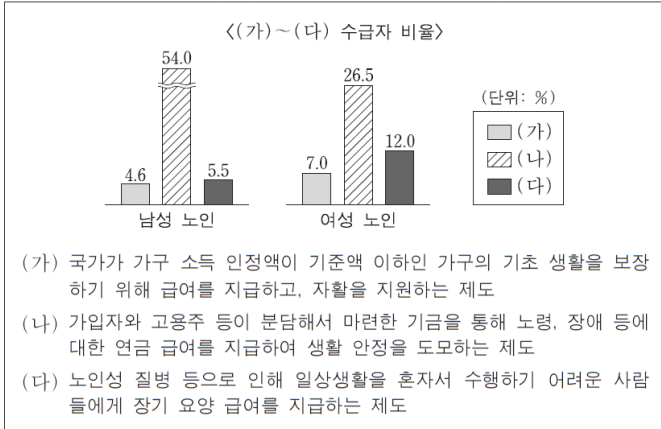
<보 기>

- ㄱ. 2014년에 소득 재분배 효과가 가장 큰 제도의 수혜자 수는 비금전적 지원이 원칙인 제도의 수혜자 수의 1.5배이다.
- ㄴ. 2015년에 수혜 정도와 무관하게 능력에 따른 비용 부담이 원칙인 제도의 남자 수혜자 수는 여자 수혜자 수보다 많다.
- ㄷ. 2015년에 상호 부조의 원리에 기반을 둔 제도의 여자 수혜자 수와 최저 생활 보장을 목적으로 하는 제도의 남자 수혜자 수는 동일하다.
- ㄹ. 강제 가입이 원칙인 제도의 여자 수혜자 수는 2014년보다 2015년이 많다.

- ① ㄱ, ㄴ ② ㄱ, ㄹ ③ ㄴ, ㄷ
- ④ ㄱ, ㄷ, ㄹ ⑤ ㄴ, ㄷ, ㄹ

3. 2018 수능 4번

4. 자료는 우리나라 성별 노인 인구 중에서 사회 보장 제도 (가)~(다) 각각의 수급자 비율을 나타낸 것이다. 이에 대한 설명으로 옳은 것은? [3점]



- ① (나)는 (다)와 달리 상호 부조 원리가 적용된다.
- ② (다)는 (가)와 달리 사후 처방적 성격을 지닌다.
- ③ (가)~(다) 중 강제 가입 원칙이 적용되는 제도의 경우, 전체 노인 수급자 중에서 성별 비율은 남성이 여성의 2배 이상이다.
- ④ (가)~(다) 중 소득 재분배 효과가 있는 제도의 경우, 남성 노인 인구 중에서 수급자 비율과 여성 노인 인구 중에서 수급자 비율은 모두 10% 미만이다.
- ⑤ (가)~(다) 중 수혜자 비용 부담 원칙이 적용되지 않는 제도의 경우, 여성 노인 인구 중에서 수급자 비율이 남성 노인 인구 중에서 수급자 비율보다 높다.

4. 2018 수능 15번

15. 다음 자료를 통해 참 또는 거짓으로 진위 여부를 판단할 수 있는 진술만을 <보기>에서 있는 대로 고른 것은?

〈갑국의 지역별, 계층별 학생 1인당 월평균 교육비〉
(단위: 만 원)

구분		연도	2010년	2013년	2016년
전체			24.0	23.9	25.6
지역	도시		26.6	27.1	29.0
	농촌		22.1	21.5	23.2
계층	상층		45.3	39.6	41.6
	중층		24.6	23.4	23.4
	하층		9.2	10.0	8.8

* 갑국의 모든 학생을 대상으로 조사하였으며 무응답은 없음.
 ** 지역은 도시와 농촌으로만, 계층은 상층, 중층, 하층으로만 구분함.

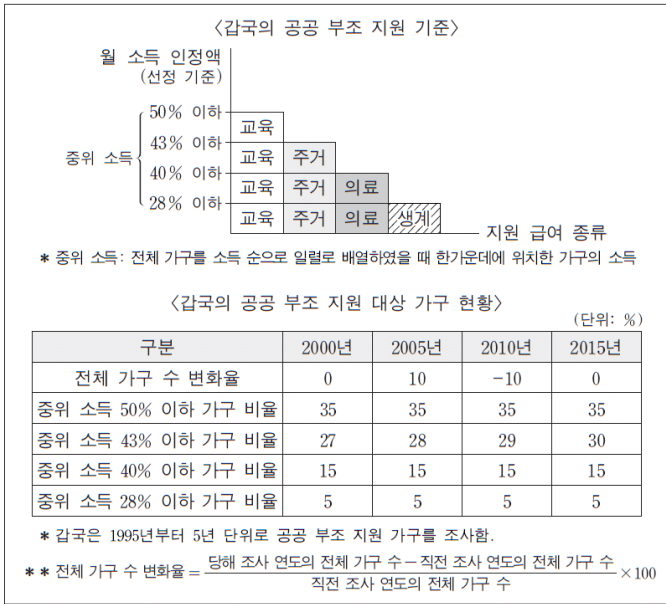
— <보기> —

- ㄱ. 2013년과 2016년에 월평균 가구 소득 중에서 학생 1인당 월평균 교육비가 차지하는 비율이 중층에서는 같다.
- ㄴ. 2010년부터 2016년까지 농촌 지역에서는 학생 1인당 월평균 교육비가 지속적으로 증가하였다.
- ㄷ. 2010년, 2016년 모두에서 계층 수준과 학생 1인당 월평균 교육비는 정(+)의 관계이다.
- ㄹ. 제시된 모든 연도에서 농촌 지역 학생이 도시 지역 학생 보다 많다.

- ① ㄱ, ㄴ ② ㄱ, ㄷ ③ ㄷ, ㄹ
- ④ ㄱ, ㄴ, ㄹ ⑤ ㄴ, ㄷ, ㄹ

5. 2018 9월 모의평가 14번

14. 다음 자료에 대한 옳은 분석만을 <보기>에서 있는 대로 고른 것은? [3점]



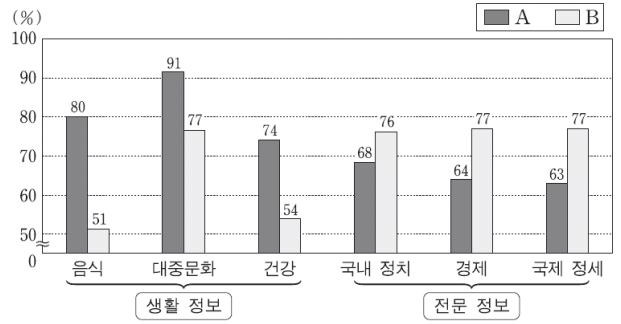
— < 보 기 > —

- ㄱ. 전체 가구 중 교육 급여 한 가지만 지원받는 가구 비율은 2010년과 2015년이 같다.
- ㄴ. 교육, 주거 급여 두 가지만 지원받는 가구 수는 2000년이 2015년보다 적다.
- ㄷ. 전체 가구 중 교육, 주거, 의료, 생계 급여 모두를 지원받는 가구 비율은 2000년이 2010년보다 낮다.
- ㄹ. 2005년 교육, 주거, 의료 급여 세 가지만 지원받는 가구 수는 2015년 교육, 주거, 의료, 생계 급여 모두를 지원받는 가구 수의 2배 이상이다.

- ① ㄱ, ㄷ ② ㄴ, ㄷ ③ ㄴ, ㄹ
- ④ ㄱ, ㄴ, ㄹ ⑤ ㄱ, ㄷ, ㄹ

6. 2018 6월 모의평가 14번

14. 자료는 어떤 세대의 매체 이용 실태를 조사한 결과이다. 이에 대한 분석으로 옳은 것은? (단, A, B는 각각 전통적 영상 매체와 뉴미디어 중 하나이다.) [3점]



* 정보의 생산자와 소비자 간 경계의 명확성은 A < B임.
 ** 각각의 수치는 전체 응답자 중 해당 정보를 획득하기 위해 각 매체를 이용한 비율이며, 무응답은 없음.

- ① 생활 정보 획득에서 일방향 매체를 이용한 응답자보다 양방향 매체를 이용한 응답자가 많다.
- ② 전문 정보 획득에서 정보 재가공이 용이한 매체를 이용한 응답자보다 그렇지 않은 매체를 이용한 응답자가 적다.
- ③ A를 이용하여 생활 정보를 획득한 건수가 전문 정보를 획득한 건수보다 많다.
- ④ B를 이용하여 '경제' 정보를 획득한 사람은 모두 '국제 정세' 정보도 획득하였다.
- ⑤ A의 이용 비율과 B의 이용 비율 간의 차이는 생활 정보 획득에서보다 전문 정보 획득에서 더 크다.

7. 2018 6월 모의평가 15번

15. 다음 과제를 적절하게 수행한 학생만을 <보기>에서 있는 대로 고른 것은?

● 표를 사용하여 진위 여부를 검증할 수 있는 진술을 만들어 보세요.

〈A국의 사회 지표 변동 추이〉

구분	연도			
	1970년	1990년	2010년	
산업별 취업자 비율(%)	1차 산업	50	17	10
	2차 산업	15	27	18
	3차 산업	35	56	72
	계	100	100	100
대학 진학률(%)	27	33	82	
노령화 지수	10	20	69	

*산업별 취업자 비율(%)=(해당 산업별 취업자 수/전체 취업자 수) × 100
 **대학 진학률(%)=(대학 진학자 수/고등학교 졸업자 수) × 100
 ***노령화 지수=(노년 인구(65세 이상)/유소년 인구(0~14세)) × 100

— < 보 기 > —

- ㄱ. 갑: 1970년 대비 2010년에 3차 산업 취업자 수는 2배 이상 증가하였다.
- ㄴ. 을: 1970년 대비 2010년에 고등학교 졸업자 증가율보다 대학 진학자 증가율이 더 높다.
- ㄷ. 병: 1990년 대비 2010년에 1차 산업 취업자 비율과 2차 산업 취업자 비율은 감소하였다.
- ㄹ. 정: 1990년에는 유소년 인구가 노년 인구보다 많지만, 2010년에는 유소년 인구가 노년 인구보다 적다.

- ① ㄱ, ㄷ ② ㄱ, ㄹ ③ ㄴ, ㄷ
- ④ ㄱ, ㄴ, ㄷ ⑤ ㄴ, ㄷ, ㄹ

8. 2017 수능 15번

15. 다음 자료에 대한 옳은 분석만을 <보기>에서 있는 대로 고른 것은? [3점]

표는 갑국의 종교별 신도 현황 중 일부를 나타낸 것이다. 갑국의 전체 인구는 2,000만 명이다. 단, 갑국에는 종교가 A, B종교 이외에 없으며, 두 종교를 동시에 믿는 사람은 없다.

(단위: %)

구분	남성 신도	여성 신도	전체 신도
A종교	25.0	25.0	25.0
B종교	12.5	25.0	20.0

*남성(여성) 신도 비율 = $\frac{\text{해당 종교를 믿는 남성(여성) 인구}}{\text{남성(여성) 인구}} \times 100$
 **전체 신도 비율 = $\frac{\text{해당 종교를 믿는 인구}}{\text{전체 인구}} \times 100$

— < 보 기 > —

- ㄱ. 종교를 가진 인구보다 종교를 가지지 않은 인구가 많다.
- ㄴ. A종교를 믿는 전체 인구 중 남성 신도가 차지하는 비율은 25%이다.
- ㄷ. B종교를 믿는 여성 인구는 B종교를 믿는 남성 인구의 3배이다.
- ㄹ. A종교를 믿는 남성 인구와 B종교를 믿는 여성 인구는 같다.

- ① ㄱ, ㄷ ② ㄱ, ㄹ ③ ㄴ, ㄹ
- ④ ㄱ, ㄴ, ㄷ ⑤ ㄴ, ㄷ, ㄹ

9. 2017 수능 18번

18. 표에 대한 분석으로 옳지 않은 것은? [3점]

〈갑국의 경력 단절 여성 규모와 사유〉

(단위: %)

구 분	2011년	2012년	2013년	2014년	2015년	
15~64세 기혼 여성 인구 변화율	0	2	-2	0	0	
경력 단절 여성 비율	20	20	20	20	20	
경력 단절 사유	결혼	47	46	45	40	37
	임신·출산	20	24	21	20	24
	육아	25	26	30	31	32
	기타	8	4	4	9	7
합계	100	100	100	100	100	

*15~64세 기혼 여성 인구 변화율 = $\frac{(\text{당해 연도 15~64세 기혼 여성 수}) - (\text{전년도 15~64세 기혼 여성 수})}{\text{전년도 15~64세 기혼 여성 수}} \times 100$

**경력 단절 여성 비율 = $\frac{\text{경력 단절 여성 수}}{\text{15~64세 기혼 여성 수}} \times 100$

- ① 15~64세 기혼 여성의 수는 2012년이 2013년보다 많다.
- ② 경력 단절 여성의 수는 2011년이 2015년보다 많다.
- ③ 결혼으로 인한 경력 단절 여성의 비율은 줄어들고 있다.
- ④ 임신·출산으로 인한 경력 단절 여성의 수는 2011년이 2014년보다 적다.
- ⑤ 육아로 인한 경력 단절 여성의 수가 가장 많은 해는 2015년이다.

10. 2017 6월 모의평가 15번

15. 다음 자료에 대한 설명으로 옳은 것은? (단, A와 B는 각각 신문과 뉴미디어 중 하나이다.) [3점]

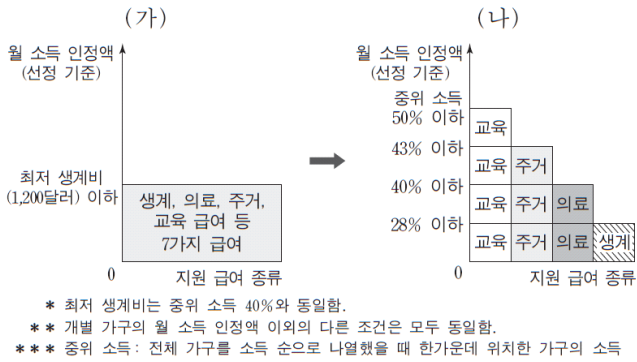
표는 시민들을 대상으로 매체의 이용률과 신뢰도를 조사한 결과와 각 매체의 특징을 제시한 것이다. 각 매체별 이용률은 뉴스를 접하기 위해 이용한다고 응답한 사람의 비율(복수 응답 가능)이며, 신뢰도는 매체에 대한 신뢰도 점수(100점 만점)의 평균값이다.

매체	특징	이용률(%)	신뢰도(점)
A	심층적인 정보 전달에 유리함.	31	49
텔레비전	(가)	94	66
B	양방향 정보 전달에 유리함.	75	25
라디오	(나)	20	38

- ① A는 시각 정보 또는 청각 정보를 활용하는 다른 모든 매체들보다 신뢰도가 높다.
- ② B는 텔레비전보다 정보의 생산자와 소비자 간의 경계가 뚜렷하다.
- ③ (가)에는 '정보 전달의 동시성이 높음.', (나)에는 '시각 정보를 제공할 수 있음.'이 적절하다.
- ④ 이용률 대비 신뢰도는 청각 정보만 전달하는 매체가 인쇄매체보다 높다.
- ⑤ 뉴미디어를 이용한다고 응답한 비율에 비해 나머지 세 가지 매체를 함께 이용한다고 응답한 비율이 높다.

11. 2017 6월 모의평가 17번

17. (가), (나)는 갑국의 사회 복지 제도 변화를 나타낸 것이다. 이에 대한 분석으로 옳은 것은? [3점]



- ① (가)는 선별적 복지보다는 보편적 복지의 성격이 강하다.
- ② (나)에서 교육 급여를 받을 수 있는 기준은 월 소득 인정액 1,400달러 이하이다.
- ③ (나)에서 월 소득 인정액 1,000달러인 가구는 의료 급여를 받을 수 있다.
- ④ (가)는 (나)와 달리 상대적 생활수준을 반영한 기준을 적용한다.
- ⑤ 월 소득 인정액 900달러인 가구는 (가)에서는 모든 급여를 받았으나 (나)에서는 교육 급여만 받을 수 있다.

12. 2016 수능 15번

15. 다음 자료는 우리나라 사회 보장 제도 (가)~(다)와 ○○시의 수급자 비율이다. 이에 대한 분석으로 옳은 것은? (단, ○○시는 A, B 지역으로만 이루어져 있다.) [3점]

- (가) 노령, 장애, 사망으로 인한 소득 상실을 보전하기 위해 연금 급여를 지급하는 제도로서, 이를 실행하는 데 드는 비용은 고용주, 가입자 등이 부담한다.
- (나) 노인에게 안정적인 소득 기반을 제공하여 생활 안정을 돕기 위한 제도로서, 65세 이상 노인 중 소득 인정액이 기준 금액 이하인 사람에게 연금 급여를 지급한다.
- (다) 생활이 어려운 국민의 최저 생활을 보장하고 자활을 지원하기 위한 제도로서, 국가나 지방 자치 단체가 수급권자로 선정된 사람에게 생계 급여 등을 지급한다.

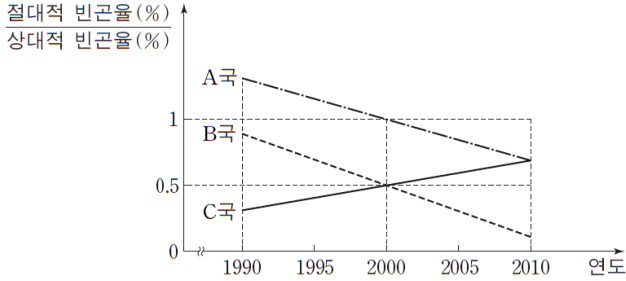
<○○시 지역별 총인구 대비 수급자 비율> (단위: %)

지역 \ 제도	(가)	(나)	(다)
A 지역	6.7	5.5	1.9
B 지역	6.7	7.6	1.6
전체	6.7	6.9	1.7

- ① A 지역의 경우, (가)~(다) 중에서 의무 가입 원칙이 적용되는 제도의 수급자 비율은 12.2%이다.
- ② B 지역의 경우, (가)~(다) 중에서 사후 처방적 성격이 강한 제도의 수급자 비율은 6.7%이다.
- ③ (가)~(다) 중에서 수혜자 부담 원칙이 적용되지 않는 제도의 수급자 수는 A 지역이 B 지역보다 많다.
- ④ (가)~(다) 중에서 가입자 간 상호 부조 원리가 적용되는 제도의 수급자 수는 B 지역이 A 지역보다 많다.
- ⑤ 지역별 총인구 중 65세 이상 노인 인구의 비율은 B 지역이 A 지역보다 높다.

13. 2016 9월 모의평가 11번

11. 그림에 대한 분석으로 옳은 것만을 <보기>에서 있는 대로 고른 것은? (단, 이 기간 동안 A~C국의 전체 가구 수와 절대적 빈곤 가구 수는 지속적으로 증가하였으며, 모든 가구의 구성원 수는 동일하다.)



- * 절대적 빈곤율: 전체 가구 중 절대적 빈곤 가구(가구 소득이 최저 생계비 미만인 가구)의 비율
- ** 상대적 빈곤율: 전체 가구 중 상대적 빈곤 가구(가구 소득이 중위 소득의 50% 미만인 가구)의 비율
- *** 중위 소득: 전체 가구를 소득 순으로 일렬로 배열했을 때 한가운데 위치한 가구의 소득

< 보기 >

- ㄱ. 1990년부터 2000년까지 B국의 상대적 빈곤 가구 수는 증가하였고, C국의 상대적 빈곤 가구 수는 감소하였다.
- ㄴ. 1990년부터 2010년까지 A국에서 절대적 빈곤 가구 수의 증가율보다 상대적 빈곤 가구 수의 증가율이 더 낮다.
- ㄷ. 1995년부터 2010년까지 B국에서 중위 소득의 1/2이 최저 생계비보다 크다.
- ㄹ. 2005년부터 2010년까지 A국, B국, C국 모두에서 절대적 빈곤 가구는 모두 상대적 빈곤 가구에 속한다.

- ① ㄱ, ㄴ ② ㄴ, ㄷ ③ ㄷ, ㄹ
- ④ ㄱ, ㄴ, ㄹ ⑤ ㄱ, ㄷ, ㄹ

14. 2016 6월 모의평가 10번

10. 다음 자료에 대한 분석으로 옳은 것은?

표는 갑국과 을국의 절대적 빈곤 가구 수(A) 대비 상대적 빈곤 가구 수(B)의 변화를 나타낸 것이다. 두 국가 모두 2000년에서 2010년 사이에 최저 생계비는 지속적으로 증가하였다. (단, 갑국과 을국 각각 모든 가구의 구성원 수는 동일하다.)

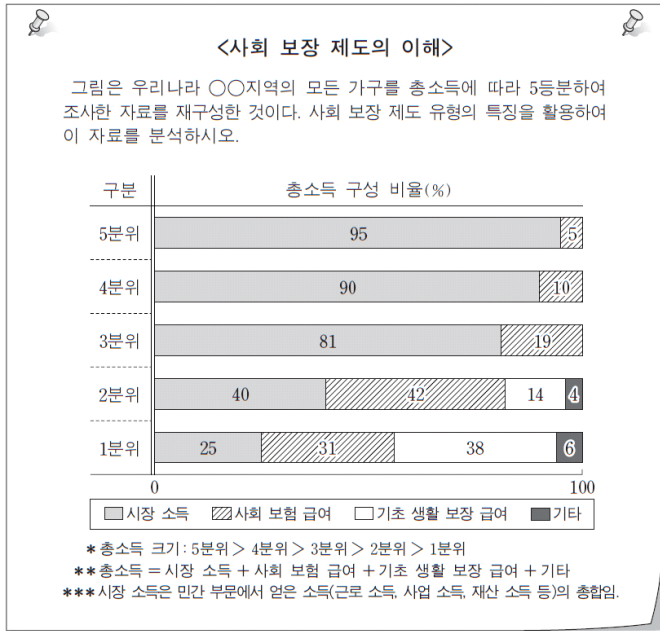
구분	2000년	2005년	2010년
갑국(B/A)	0.25	1	1.5
을국(B/A)	2	1	0.5

- * 절대적 빈곤 가구: 가구 소득이 절대적 빈곤선(최저 생계비) 미만인 가구
- ** 상대적 빈곤 가구: 가구 소득이 상대적 빈곤선(중위 소득의 50%) 미만인 가구
- *** 중위 소득: 전체 가구를 소득 순으로 나열했을 때 한가운데 위치한 가구의 소득

- ① 2000년에 갑국에서 절대적 빈곤선은 상대적 빈곤선의 4배이다.
- ② 2000년에 을국에서 상대적 빈곤 가구는 모두 절대적 빈곤 가구에 해당한다.
- ③ 2005년 대비 2010년에 갑국에서는 절대적 빈곤선과 상대적 빈곤선이 모두 높아졌다.
- ④ 2010년에 을국에서 중위 소득 대비 최저 생계비의 비율은 50% 미만이다.
- ⑤ 2010년에 갑국은 을국과 달리 상대적 빈곤 가구의 비율이 절대적 빈곤 가구의 비율보다 낮다.

15. 2016 6월 모의평가 15번

15. 교사가 제작한 수업 자료에 대한 학생들의 분석으로 옳은 것은? [3점]



- ① 갑: 소득 재분배 효과가 있는 사회 보장 제도에 의한 급여는 2분위 이하에게만 제공됩니다.
- ② 을: 저소득 분위일수록 총소득 중 강제 가입을 원칙으로 하는 제도에 의한 급여의 비율이 높습니다.
- ③ 병: 수혜 대상자 선정 과정에서 소득이 고려되는 제도의 수혜자는 ○○지역 전체 인구의 40%입니다.
- ④ 정: 1분위에서는 총소득 중 사후 처방적 성격이 강한 사회 보장 제도에 의한 급여의 비율이 가장 높습니다.
- ⑤ 무: 총소득 중 수혜자 부담 원칙이 적용되지 않는 사회 보장 제도에 의한 급여의 비율이 가장 높은 분위는 2분위입니다.

16. 2015 수능 9번

9. 표는 갑국의 빈곤율을 나타낸 것이다. 이에 대한 옳은 분석을 <보기>에서 고른 것은? (단, 전체 가구는 도시 가구와 농촌 가구로 구성되며 구성비는 1:1이고, 모든 가구의 구성원 수는 동일하다.) [3점]

구분	연도		
	2010년	2011년	
전체 가구	절대적 빈곤율(%)	7.5	8.0
	상대적 빈곤율(%)	10.0	12.0
도시 가구	절대적 빈곤율(%)	4.5	4.0
	상대적 빈곤율(%)	8.0	9.0

*절대적 빈곤율(%): 전체 가구 중 절대적 빈곤 가구(가구 소득이 최저 생계비 미만인 가구)의 비율
 **상대적 빈곤율(%): 전체 가구 중 상대적 빈곤 가구(가구 소득이 중위 소득의 50% 미만인 가구)의 비율
 ***중위 소득: 전체 가구를 소득순으로 일렬로 배열했을 때 한가운데 위치한 가구의 소득

— <보기> —

- ㄱ. 2010년 전체 가구의 소득 중 절대적 빈곤 가구의 소득이 차지하는 비율은 7.5% 미만이다.
- ㄴ. 2011년 농촌에서 절대적 빈곤 가구는 모두 상대적 빈곤 가구에 속한다.
- ㄷ. 2010년 대비 2011년에 도시와 달리 농촌에서 소득 불평등이 완화되는 경향이 나타난다.
- ㄹ. 2010년과 달리 2011년에 도시에서 가구 소득이 최저 생계비 이상이면 중위 소득의 50% 미만인 가구 수는 절대적 빈곤 가구 수의 2배 이상이다.

- ① ㄱ, ㄴ ② ㄱ, ㄷ ③ ㄴ, ㄷ ④ ㄴ, ㄹ ⑤ ㄷ, ㄹ

17. 2015 9월 모의평가 10번

10. 다음 자료에 대한 옳은 분석만을 <보기>에서 있는 대로 고른 것은? [3점]

표는 갑국의 절대적 빈곤 가구 비율과 상대적 빈곤 가구 비율의 변화를 나타낸 것이다. 2010년에 최저 생계비는 중위 소득의 50% 미만이었으며, 2000년에서 2010년 사이에 최저 생계비는 지속적으로 증가하였다. (단, A, B는 각각 절대적 빈곤 가구와 상대적 빈곤 가구 중 하나이며, 갑국에서 모든 가구의 구성원 수는 동일하다.)

(단위: %)

구분	2000년	2005년	2010년
A	5	7	10
B	9	7	5

- * 절대적 빈곤 가구: 소득이 절대적 빈곤선(최저 생계비) 미만인 가구
- ** 상대적 빈곤 가구: 소득이 상대적 빈곤선(중위 소득의 50%) 미만인 가구
- *** 중위 소득: 전체 가구를 소득 순으로 나열했을 때 한가운데 위치한 가구의 소득

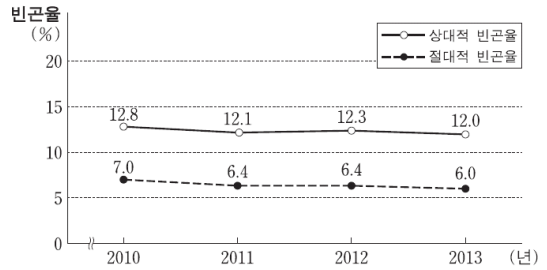
— < 보 기 —

- ㄱ. 2000년에 상대적 빈곤 가구는 모두 절대적 빈곤 가구에 속한다.
- ㄴ. 2010년에 전체 가구 소득 중 A의 소득 점유 비중은 10% 미만이다.
- ㄷ. 2000년 대비 2005년에 중위 소득 증가율이 최저 생계비 증가율보다 더 크다.
- ㄹ. 2005년에 상대적 빈곤선은 절대적 빈곤선과 일치하며, 2010년에 상대적 빈곤선은 절대적 빈곤선의 2배이다.

- ① ㄱ, ㄴ ② ㄴ, ㄹ ③ ㄷ, ㄹ
- ④ ㄱ, ㄴ, ㄷ ⑤ ㄱ, ㄷ, ㄹ

18. 2015 6월 모의평가 15번

15. 자료는 갑국의 빈곤율을 나타낸 것이다. 이에 대한 분석으로 옳은 것은? (단, 갑국 모든 가구의 구성원 수는 동일하다.) [3점]

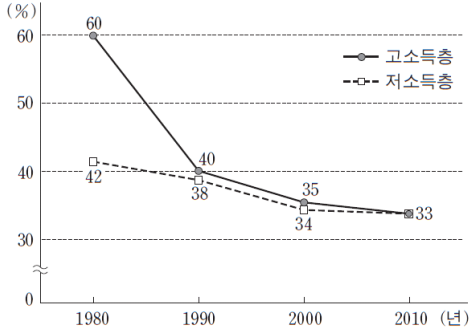


- * 상대적 빈곤율(%): 전체 가구 중 상대적 빈곤 가구(가구 소득이 중위 소득의 50% 미만인 가구)의 비율
- ** 절대적 빈곤율(%): 전체 가구 중 절대적 빈곤 가구(가구 소득이 최저 생계비 미만인 가구)의 비율
- *** 중위 소득: 전체 가구를 소득순으로 나열했을 때 한가운데 위치한 가구의 소득

- ① 2010년에 상대적 빈곤 가구는 모두 절대적 빈곤 가구이다.
- ② 2011년에 상대적 빈곤 가구의 인구는 절대적 빈곤 가구의 인구보다 2배 이상 많다.
- ③ 전년과 대비하여 2012년에 상대적 빈곤 가구의 수는 증가했고 절대적 빈곤 가구의 수는 변함이 없다.
- ④ 2013년에 중위 소득은 같은 해 최저 생계비의 2배이다.
- ⑤ 제시된 모든 연도에서 중위 소득 대비 최저 생계비의 비율은 50% 미만이다.

19. 2014 수능 17번

17. 그림은 갑국의 고소득층과 저소득층의 남녀 간 평균 임금 격차 추이를 나타낸 것이다. 이에 대한 분석으로 옳은 것은? (단, 고소득층과 저소득층 모두에서 남성 평균 임금은 지속적으로 상승하였다.) [3점]



* 남녀 간 평균 임금 격차(%)=[(남성 평균 임금-여성 평균 임금)÷남성 평균 임금]×100

- ① 1980년에 고소득층에서 여성 평균 임금은 전체 평균 임금의 40%이다.
- ② 1990년에 저소득층 여성 평균 임금은 10년 전과 비교하여 4% 증가하였다.
- ③ 1990년 대비 2000년에 고소득층에서 남성 평균 임금의 상승률이 여성 평균 임금의 상승률보다 크다.
- ④ 2010년에 고소득층과 저소득층의 남녀 간 평균 임금의 차이는 같다.
- ⑤ 1980년, 2010년 모두 저소득층에서 여성 평균 임금은 남성 평균 임금의 50%를 넘는다.

20. 2014 9월 모의평가 10번

10. 다음 자료에 대한 옳은 분석을 <보기>에서 고른 것은? [3점]

갑국과 을국의 가족 유형을 조사한 결과는 다음과 같다. 단, 갑국의 가구 수는 을국의 두 배이다. (단위: %)

구분	친족 가구			1인 가구	기타 가구
	부부	2세대	3세대 이상		
갑국	8.0	69.0 (9.0)	12.0	9.5	1.5
을국	16.0	49.0 (14.0)	7.0	25.0	3.0

* ()는 전체 가구 대비 기존 자녀와 함께 사는 2세대 가구의 비율임.
** 기타 가구는 조손 가구 및 기타 친족 가구, 비친족 가구 등을 포함함.

<보기>

- ㄱ. 부부 가구 수와 기타 가구 수의 합은 을국이 갑국의 두 배이다.
- ㄴ. 갑국의 부부 가구 인구는 을국의 1인 가구 인구보다 더 많다.
- ㄷ. 갑국은 을국에 비해 친족 가구 중에서 확대 가족이 차지하는 비중이 크다.
- ㄹ. 갑국과 을국 모두 핵가족은 전체 가구의 과반수이다.

- ① ㄱ, ㄴ ② ㄱ, ㄷ ③ ㄴ, ㄷ ④ ㄴ, ㄹ ⑤ ㄷ, ㄹ

21. 2014 6월 모의평가 16번

16. 표는 어느 해의 성별·교육 수준별 임금 근로자 중 비정규직의 비율을 조사한 것이다. 이에 대한 옳은 분석을 <보기>에서 고른 것은? [3점]

(단위: %)

교육 수준별 \ 성별	여성	남성
초졸 이하	67.7	63.8
중졸	50.4	51.7
고졸	44.9	32.5
대졸 이상	32.2	16.8

— < 보 기 > —

- ㄱ. 초졸 이하인 남성 임금 근로자의 과반수가 비정규직이다.
- ㄴ. 고졸 이상인 여성 임금 근로자 중 비정규직은 77.1%이다.
- ㄷ. 교육 수준별 임금 근로자 중 비정규직 비율은 교육 수준이 높을수록 낮다.
- ㄹ. 대졸 이상인 경우, 여성에 비해 남성의 비정규직 임금 근로자의 수가 더 적다.

- ① ㄱ, ㄴ ② ㄱ, ㄷ ③ ㄴ, ㄷ ④ ㄴ, ㄹ ⑤ ㄷ, ㄹ

22. 2014 예비평가 10번

10. 표에 대한 옳은 분석을 <보기>에서 고른 것은? [3점]

< A, B국 빈곤층 비율의 연도별 변화 >

(단위: %)

구분 \ 연도	A국		B국	
	2005	2010	2005	2010
절대적 빈곤층 비율	10	10	10	5
상대적 빈곤층 비율	10	20	20	20

*상대적 빈곤: 가구 소득이 가구 중위 소득의 50% 미만인 상태

— < 보 기 > —

- ㄱ. 2005년 A국에서는 절대적 빈곤선과 상대적 빈곤선이 일치한다.
- ㄴ. 2010년 A국에서 사회의 전반적 소득 분포를 고려한 빈곤층 비율은 5년 전과 동일하다.
- ㄷ. 2010년 B국에서 최저 생계비에 미달하는 빈곤층 비율은 5년 전에 비해 줄었다.
- ㄹ. 2005년 B국에서는 A국보다 주관적으로 빈곤을 느끼는 가구의 비율이 높다.

- ① ㄱ, ㄴ ② ㄱ, ㄷ ③ ㄴ, ㄷ ④ ㄴ, ㄹ ⑤ ㄷ, ㄹ

정답

1	②	2	⑤	3	⑤	4	⑤
5	③	6	①	7	⑤	8	①
9	④	10	⑤	11	③	12	④
13	③	14	③	15	④	16	①
17	④	18	⑤	19	⑤	20	④
21	②	22	②				



copyright © 출기능수 all rights reserved.