



출기  
능수  
N제  
사회 • 문화

chapter 1



안녕하세요. 출기능수입니다.

우선 문제집을 다운 받으셔서 풀어보시는 분들께 감사의 말씀을 올립니다.

본 N제는 적응을 노리거나 평가원급 퀄리티를 표방하는 대단한 문제집이 아닙니다.

본 N제의 목표이자 나름의 가치는 '기출의 복습'입니다.

이 문제들은 지난 수능과 평가원 기출문제를 저 스스로 나름대로 분석해보면서

'아 이런 건 빈출 되는 주제구나', '이런 건 요즘에 나오면 통수가 되겠다.', '이런 건 이것과 섞으면 어렵겠다' 라고 생각한 것들을 엮어 기출이 담겨있던 그릇을 바꾸고 옷을 갈아입혀서 만들었습니다.

요컨대 겉모습은 나름 새롭지만 내용은 전부 기출인 문제들입니다.

따라서 문제들을 꼭 풀어보시면서 '아 이건 그 기출을 변형한 것이군', '아 이것도 기출에 나온 건데 이렇게 바꾸니 헛갈리니 잘 정리해둬야겠군' 정도의 느낌을 받으실 수 있다면 가장 좋겠습니다.

구성은 크게 문제와 정답으로 이루어져 있습니다.

문제 파트는 오직 '수능과 평가원 기출문제' 만을 참고해 만든 문제입니다.

문제들은 한 페이지 당 한 문제씩 실려 있고 별도의 필기가 가능하게끔 여백을 두었습니다.

본 문제집인 chapter 1은 소위 '계층 도표' 전 단원까지의 문제들로만 이루어져 있습니다.

다양한 난이도의 대다수의 문제들이 나오는 단원만 우선적으로 집중해서 실어놓았습니다.

이후의 단원을 실지 않은 이유는 간단합니다. 이후의 단원에서 출제되는 문제들 중 따로 N제를 챙겨 풀만큼 크게 어려운 문제들이 그다지 없기 때문도 있지만, 대신 요즘 가장 어렵게 나오는 한 가지 킬러 파트가 있음을 알고 있습니다.

바로 자료 분석 파트입니다. 한데 이 파트를 어중간한 난이도의 자작 문제로 때우고 싶지는 않았기 때문에 이후의 단원을 '지금' 실지는 않았습니다.


그래서 chapter 2에서 PSAT 문제들을 변형해 만든 제대로 된 문제들로 다시 찾아뵙겠습니다. 그때 또 잘 부탁드립니다^^

말이 길었습니다. 다시 한번 부족하나마 열심히 만든 문제집을 풀어보시는 분들께 감사드리며 본 문제집이 당신의 수능 만점에 조금이나마 일조할 수 있기를 소망합니다. 감사합니다.

-출기능수(오르비 아이민:655203)-



---



\* 본 문제지에 대한 저작권은 출기능수(오르비 아이민:655203)에게 있으며, 저작권자의 허락 없이 전부 또는 일부를 상업적 목적으로 사용하거나 2차적 저작물 작성 등으로 이용하는 일체의 행위는 저작권법에 따라 금지되어 있습니다.

# CONTENTS


1  
시  
동  
.....  
7 p

2  
가  
속  
.....  
31 p



3  
질  
주  
.....  
63 p

4  
교  
전  
.....  
73 p





1



# 1

밑줄 친 ㉠~㉣과 같은 현상의 일반적인 특징을 고려하여 자신에게 주어진 질문에 모두 옳게 응답한 학생은?

㉠미세먼지가 심할수록 만성폐쇄성폐질환(COPD) 위험이 높아진다는 연구 결과가 나왔다. 특히 ㉡미세먼지 농도가 높으면 3일 후에 병원을 찾는 COPD 환자가 가장 크게 늘어났다. K 병원 호흡기알레르기내과 교수팀은 15일 ㉢이러한 내용의 논문을 국내 처음으로 발표했다. ㉣COPD는 호흡기와 폐를 중심으로 만성적 염증이 발생하며 호흡이 매우 어려운 질환이다.

학생	질문	응답			
		㉠	㉡	㉢	㉣
갑	경험적 자료를 바탕으로 연구할 수 있는가?		×	×	○
을	같은 조건 하에서는 항상 동일한 결과가 발생하는가?	○	○	×	○
병	특수성보다 보편성이 강조되는가?	×	○	○	×
정	규칙 발견을 통해 상황에 대한 예측이 용이한가?	○	×	×	○
무	사회적 상황과 시대에 따라 변화하는 특성이 나타나는가?	×	○	○	○

- ① 갑      ② 을      ③ 병      ④ 정      ⑤ 무



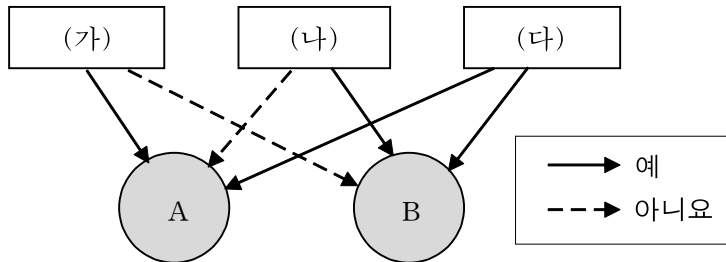
# 2

밑줄 친 ㉠~㉢과 같은 현상의 일반적인 특징에 대한 교사의 탐구에 옳게 응답한 학생을 모두 고른 것은?

교사: 다음 뉴스 기사의 ㉠~㉢의 일반적인 특징에 대해 탐구해 보고 ㉠~㉢을 구분할 수 있는 질문 (가)~(다)에 따라 A, B에 알맞게 분류해봅시다. 단, A, B는 각각 사회·문화 현상과 자연 현상 중 하나입니다.

〈뉴스 기사〉

한낮 ㉠기온이 30도 안팎으로 오르는 더위가 이르게 찾아왔다. 아직 달력은 5월을 가리키지만 이미 계절은 여름으로 접어든 것 같다. ㉡여름의 속도에 발맞춰 전국의 특급호텔이 야외 수영장 개장을 서두르고 있다. 이른 ㉢여름휴가를 계획하는 ㉣여행자가 가볼 만한 특급호텔을 소개한다.



갑: ㉠은 자연 현상이 사회·문화 현상에 영향을 준 결과입니다.

을: (가)가 '존재 법칙을 따르는가?'라면 ㉠은 A로 분류할 수 있습니다.

병: (나)가 '인간의 가치가 반영되어 나타나는가?'라면 ㉡은 B로 분류할 수 없습니다.

정: ㉢을 B로 분류할 수 있다면 (다)에는 '경험적 자료를 바탕으로 연구할 수 있는가?'가 들어갈 수 없습니다.

- ① 갑, 을    ② 갑, 병    ③ 을, 병    ④ 을, 정    ⑤ 병, 정

# 3

밑줄 친 ㉠, ㉡과 같은 현상의 일반적 특징을 구분하기 위해 A, B에 들어갈 수 있는 질문으로 옳은 것은?

기상청은 내일 오후에 ㉠장마전선이 일시 북상하면서 제주도에 장마가 시작될 것으로 예보했습니다. 기상청은 일본 남쪽 해상에 머물던 ㉡장마전선이 내일 제주도 부근 해상까지 북상해 19일 오후부터 20일 새벽까지 제주도에 10에서 40mm의 비를 뿌리겠다고 내다봤습니다.

질문 \ 현상	㉠	㉡
A	아니오	예
B	예	아니오

- ① A가 '동일 조건하에서 동일 현상이 발생하는가?'라면 ㉠은 자연 현상, ㉡은 사회·문화 현상이다.
- ② A가 '사회적 상황과 시대에 따라 변화하는 특성이 나타나는가?'라면 ㉠은 사회·문화 현상, ㉡은 자연 현상이다.
- ③ B가 '규칙 발견을 통해 상황에 대한 예측이 용이한가?'라면 ㉠은 사회·문화 현상, ㉡은 자연 현상이다.
- ④ B가 '경험적 자료로 연구할 수 있는가?'라면 ㉠은 자연 현상, ㉡은 사회·문화 현상이다
- ⑤ ㉡이 자연 현상이라면 B는 '당위 법칙의 지배를 받는가?'가 적절하다.

# 4

표는 현상 ㉠~㉣을 구분한 것이다. 이에 대한 설명으로 옳은 것을 <보기>에서 있는 대로 고른 것은?

오존주의보는 ㉠여름철 햇빛이 강하고 바람이 없을 때 오존 농도가 시간당 0.12ppm 이상일 경우 발령된다. 대기오염 물질인 ㉡오존은 미세먼지와 달리 눈에 보이지 않지만 가스 형태로 존재해 ㉢마스크를 착용해도 인체에 유해하다고 전문가들은 지적한다. 반복 노출될 경우, 노약자나 기관지염 등을 앓는 호흡기 질환 환자에게 특히 위험하다.

질문 현상	(가)	(나)
㉠	A	B
㉡	C	D
㉢	E	F

— < 보 기 > —

ㄱ. (가)가 '확률성의 원리가 적용되는가?'이면 A, C는 '예', E는 '아니오'이다.  
 ㄴ. (나)가 '존재 법칙의 지배를 받는가?'면 B, D는 '예', F는 '아니오'이다.  
 ㄷ. (가)가 '몰카치성이 나타나는가?'이고, (나)가 '당위 법칙이 적용되는가?'라면 A, C, F는 '예', B, D, E는 '아니오'이다.  
 ㄹ. (가)가 '인과 관계가 나타날 수 있는가?'이고, (나)가 '인간의 의지가 개입되어 나타나는가?'라면 A, C, E, F는 '예', B, D는 '아니오'이다.

- ① ㄱ, ㄴ                      ② ㄱ, ㄷ                      ③ ㄴ, ㄷ  
 ④ ㄴ, ㄹ                      ⑤ ㄴ, ㄷ, ㄹ

# 5

다음에서 사회·문화 현상을 이해하는 일관되지 않은 관점을 가진 학생을 있는 대로 고른 것은? [3점]

〈사회·문화 현상을 보는 관점에 대한 응답〉

관점에 따른 진술	학생	갑	을	병	정	무
사회 문제가 시대와 장소에 따라 상대적이다.		×	×	×		○
사회 문제의 해결을 위해서는 사회화와 도덕 교육이 중요하다.		×	○	×	×	×
사회적 행위의 동기에 대한 해석이 무엇보다 중요하다.		×	×	×	○	○
사회 변동은 사회 구성원들 사이의 대립과 투쟁의 결과이다.		○	×	○	×	×
사회는 내재적 모순으로 인한 불안정 상태이다.		○	×	○	×	×
사회 갈등 세력을 기존 질서에 편입시켜 사회의 안정과 발전을 도모할 수 있다.		×	○	○	×	×
사회란 사람들이 서로 교류하여 만들어낸 공유된 현실이다.		×	×	×	○	×

(○: 동의한다, ×: 동의하지 않는다)

- ① 갑, 을      ② 갑, 병      ③ 을, 병      ④ 정, 무      ⑤ 병, 무

# 6

표는 사회·문화 현상을 바라보는 관점 A~C를 구분한 것이다. 이에 대한 설명으로 옳은 것을 <보기>에서 있는 대로 고른 것은?

구 분	관 점		
	A	B	C
개인의 행위에 대한 의미를 이해하기 위해서는 사회 구조에 대한 이해가 전제되어야 한다.	예	아니오	예
(가)	아니오	예	아니오
(나)	아니오	아니오	예

— < 보 기 > —

- ㄱ. (가)는 '사회 문제는 행위자들이 공유하는 현실이 무엇인가에 따라 달라진다가 적절하다.
- ㄴ. (가)가 '개인은 각자의 주관에 따라 다양한 사회상을 만들어 낸다.'이면 B는 사회 각 부분이 상호 보완적 역할을 수행한다고 본다.
- ㄷ. (나)가 '사회 갈등은 현존 사회 질서의 전면적 재구성을 통해 해결할 수 있다.'이면 A는 C와 달리 사회의 지배적 규범을 습득하는 것이 사회 존속에 필수적이라고 본다.
- ㄹ. (나)가 '사회 갈등은 균형 회복을 위한 일시적 과정이다'라면, 사회 구성 요소의 기능과 역할을 합의한 집단의 범위를 A는 특정 집단, C는 사회 전체라고 본다.

- ① ㄱ, ㄴ                      ② ㄱ, ㄷ                      ③ ㄴ, ㄷ
- ④ ㄴ, ㄷ, ㄹ                ⑤ ㄱ, ㄷ, ㄹ

# 7

사회·문화 현상을 바라보는 갑~병의 관점에 대한 설명으로 옳은 것을 <보기>에서 있는 대로 고른 것은?

사회자: 오늘은 저출산 문제를 두고 토론해 보겠습니다. 아기를 낳지 않고 또 낳지 않으려고 하는 여성이 늘면서 인구는 해마다 줄어 들고 있습니다. 이른바 '3포 세대', 연애, 결혼, 출산을 포기한 3포 세대라는 말까지 나오는 현실입니다. 정부가 저출산 문제를 해결하기 위해서 10년 전부터 100조 원이 넘는 예산을 투입했지만 출산율은 계속해서 떨어지고 있습니다. 이유가 무엇일까요? 해법은 어떤 것이 있을까요?

갑: 오랫동안 지속된 사회 경기의 불균형에 따라 사회 구성원들의 가치관과 규범이 변화되고, 세대 간의 사고방식도 예전과 크게 달라졌습니다. 여성들이 이러한 불경기에도 안심하고 자녀 계획을 고민해볼 수 있도록 정부에서 정책적 지원이 필요합니다. 또한 정부는 동시에 이러한 불경기에서 다시 균형 잡힌 사회로 돌아갈 수 있도록 경기 부양 정책 또한 고려해야 합니다.

을: 여성을 비롯한 사회 구성원들이 여러 공통된 사회 상황에 부여하는 의미가 바뀌었습니다. 출산을 비롯해 결혼에 대한 상황 정의는 필수에서 선택으로, 선택에서 기피로 바뀌었습니다. 각 상황에 부여되는 의미가 구성원들에 의해 바뀌기를 기대해야 합니다.

병: 전근대 사회부터 현대 사회까지 자본주의와 가부장제가 결합하여 출산의 안정화에 기여했을 뿐입니다. 더군다나 금세기 자본주의 사회 속의 특정한 집단은 사회 계층 지위에서의 상대적 우위를 바탕으로 출산을 원하는 직장인 여성에게조차 은밀하게 출산 의지를 꺾는 가치를 부여해왔습니다. 이러한 비대칭적인 불평등이 먼저 해소되어야 할 것입니다.

## < 보 기 >

- ㄱ. 갑은 을, 병에게 사회 문제를 설명하는 데 사회 구조적 요인을 간과한다고 비판할 수 있다.
- ㄴ. 갑은 병에게 특정 집단의 이익을 대변하는 논리를 사용한다고 비판받을 수 있다.
- ㄷ. 을은 갑, 병에게 상황에 대한 개인의 주관적 의미를 간과한다고 비판할 수 있다.
- ㄹ. 병은 갑에게 문화의 연속성과 사회 통합의 유지를 경시한다고 비판받을 수 없다.

- ① ㄱ, ㄴ                      ② ㄱ, ㄷ                      ③ ㄴ, ㄷ
- ④ ㄱ, ㄷ, ㄹ                ⑤ ㄴ, ㄷ, ㄹ

다음 선생님의 과제를 적절하게 수행한 것만을 <보기>에서 있는 대로 고른 것은? [3점]

선생님: 다음 글을 읽고 표를 사용하여 표를 사용하여 참으로 판단할 수 있는 진술을 만들어 봅시다.

갑: 사회를 구성하는 구성원 중 생산수단을 독점하는 자본가와 착취당하는 노동자 사이의 불평등한 관계는 특정 집단의 권세를 위해 은밀하게, 때로는 공공연하게 강제된 불합리일 뿐이다.

을: 사회의 통합에 위협이 가해지는 시기는 하위 체계의 구성 요소들이 정상적으로 작동하지 못할 때이다. 이는 하나의 사회가 유기질을 생성하거나 혹은 유기질을 에너지원으로 하여 생명을 유지하는 것, 즉 생명체처럼 작동하기 때문이다.

병: 사회의 의미는 개인이나 집단에 의해 구성되고 변화한다. 따라서 행위자들이 공유하는 현실은 사회 문제를 규정하는 기준이 되기도 한다.

<갑국의 15세 이상인 국민을 대상으로 한 의견 설문 조사 응답 결과>  
(단위: 만 명)

구분		연도	2010년	2013년	2016년
지역	A 시	갑에 동의함	14.1	13.5	11.1
		을에 동의함	11.2	11.4	13.2
		병에 동의함	5.7	6.1	6.7
	B 시	갑에 동의함	9.3	9.5	7.8
		을에 동의함	10.2	10.4	13.1
		병에 동의함	11.5	11.1	10.1

\* 갑국은 A시와 B시로만 구분함.

< 보 기 >

- ㄱ. A시에서 사회 변동의 불가피성을 강조하는 입장에 동의하는 응답자는 2010년에 가장 많다.
- ㄴ. 2016년 중 대립으로 인한 사회 해체를 경계하는 입장에 동의하는 응답자의 수는 A시보다 B시에서 더 적다.
- ㄷ. B시의 응답자 중 개인의 상황정의를 강조하는 입장에 동의하는 응답자의 비율은 2013년이 2010년보다 높다.
- ㄹ. B시의 국민 중 2016년 행위자의 주체적 능동성을 중시하는 입장에 동의하는 사람이 2010년 사회 통합을 중시하는 입장에 동의하는 사람보다 적다.

- ① ㄱ, ㄴ      ② ㄱ, ㄷ      ③ ㄴ, ㄷ      ④ ㄱ, ㄴ, ㄹ      ⑤ ㄴ, ㄷ, ㄹ

그림에서 사회·문화 현상을 바라보는 갑, 을의 관점에 대한 설명으로 옳지 않은 것은?

올해 A국의 정부에서 발표된 자국의 고용·실업률 현황에 따르면 작년 대비 청년실업률이 더욱 악화된 것으로 나타났다. A국의 사회학자 병은 이러한 사태가 객관적 자료에 의한 합리적 서열화가 적절하게 이루어지지 못했음으로부터 비롯되었다고 지적했다. 병은 이에 대한 해결책으로 정부가 사회구성원 개개인의 능력에 합당하는 보상을 제도적으로 보장해줄 것을 촉구했다.

- ○일보 20○○년 ○월 ○○일자 기사-

청년실업률에 대해 제 생각은 병과 다릅니다. 작금의 사태는 주도권을 가진 사람들이 불평등한 분배 구조를 암암리에 정당화해왔음으로부터 촉발됐을 것입니다.



갑

저는 동의할 수 없습니다. 현안은 사회구조가 아닌 사회 구성원들의 상황정의의 측면으로 접근하여야 합니다. 곧 개인이 구직과정에서 부여한 의미가 중요합니다.



을

- ① 갑은 을, 병과 달리 A국의 문제에 대해 구성원들 간의 대립과 투쟁을 해결책으로 제시할 것이다.
- ② 병은 갑, 을에게 사회 각 요소의 상호 보완적 역할을 간과한다고 비판할 수 있다.
- ③ 갑, 병은 을에게 사회적 교류로부터 촉발되는 사회적 행위의 동기에 대한 해석적 분석을 간과한다고 비판받을 수 있다.
- ④ 을은 갑, 병과 달리 사회 구성원의 자율적 능동성을 중시하지 않는다.
- ⑤ A국의 사회 규범을 합의한 범위와 준수하는 범위가 병은 서로 같다고, 갑은 서로 다르다고 주장할 것이다.



사회·문화 현상을 바라보는 관점 A~C를 고려하여 자신에게 주어진 질문에 옳게 응답한 학생은? (단, A~C는 각각 기능론, 갈등론, 상징적 상호 작용론 중 하나이다.)

사회 구성원들 개개인의 정체성의 형성과 변천은 관점에 따라 달리 분석할 수 있다. C에 따르면 개개인은 공통된 정체성을 가질 수 있다. 이와 달리 A에 따르면 개개인의 정체성은 서로 차이점을 가지며 기존과 달리 새롭게 구성될 수 있다. 이 때 전자를 가능케 하는 수단은 보상이나 제재를 가하는 기준으로서의 규범이고 후자를 가능케 하는 수단은 독립된 개인 간의 의미 부여를 통해 구성된 개별적 경험이다.

질문	학생	갑	을	병	정	무
B, C와 달리 A는 인간이 의미를 추구하는 존재임을 가정한다.			○	×	○	×
A, B와 달리 C는 사회의 질서와 안정을 이루는 수단을 구성 요소 간의 상호 의존적 관계라고 본다.		○	×	○	○	○
B, C는 A와 달리 사회 구조에 대한 분석을 통해 사회 현상을 이해하고자 한다.		○	○	○	○	×
C에 따르면 정체성은 사회 통합을 증진하는 수단이 될 수 있다.		○	×	○	○	×
A, C는 B와 달리 사회의 불안정 상태의 원인이 사회에 내재된 모순임을 간과한다.		×	×	○	○	○

- ① 갑      ② 을      ③ 병      ④ 정      ⑤ 무

사회·문화 현상을 바라보는 관점 A, B에 대한 설명으로 옳은 것은?

A는 B와 달리 기존의 사회 질서를 전면적으로 재구성함으로써 사회 갈등을 해결할 수 있다고 본다. 반면 B는 A와 달리 사회 구성 요소 간의 보완적 역할이 수행될 때 사회가 안정적으로 균형을 이룰 수 있다고 본다.

- ① A에 따르면 사회 갈등이 해결되지 않은 시점은 아직 사회 질서의 전면적 재구성이 이루어지지 않은 것이다.
- ② B에 따르면 사회가 안정적으로 균형을 이루지 못하고 있는 것은 사회 구성 요소 간의 보완적 역할이 적절하게 수행되지 못하고 있는 것이다.
- ③ B가 A를 반박하려면 사회 질서의 전면적 재구성이 이루어졌음에도 불구하고 사회 갈등이 해결되지 않은 사례를 보여주면 된다.
- ④ A가 B를 반박하려면 사회 구성 요소 간의 보완적 역할이 적절하게 수행되고 있음에도 불구하고 사회가 안정적으로 균형을 이루지 못하는 사례를 보여주면 된다.
- ⑤ B와 달리 A에 따르면 사회 존속의 성립에 있어 사회의 지배적 규범을 습득하는 것은 반드시 필요하다.

다음 연구에 대한 옳은 설명만을 <보기>에서 있는 대로 고른 것은?

연구자 갑은 고등학생과 학부모 사이의 친밀도와 고등학생들의 성적 간의 관계를 알아보기 위해 연구에 착수하였다. 갑은 성적이 비슷하고 부모와의 친밀도 역시 서로 비슷하게 낮은 남자 고등학생들을 두 집단으로 나누어 3개월간 한 집단에는 학생과 부모와의 대화시간을 기존보다 늘리는 조치를 취하고 다른 한 집단에는 조치를 취하지 않았더니 3개월 후 조치를 취한 집단의 성적이 다른 한 집단보다 월등하게 올랐다는 선행 연구 자료를 바탕으로 ㉠'고등학생과 학부모와의 친밀도가 높으면 고등학생의 성적이 높을 것이다'라는 가설을 세웠다. 갑은 5단계 리커트 척도를 사용한 ㉡설문지를 작성한 후 전국 각지에서 임의로 추출한 고등학생 1, 2학년 700명을 대상으로 설문지를 배부하였다. 갑은 설문지를 ㉢부모와의 친밀도의 고하를 바탕으로 두 부류로 나누었고 이를 분석한 결과를 통계적 검증 과정을 거친 뒤 가설이 타당하다고 결론지었다.

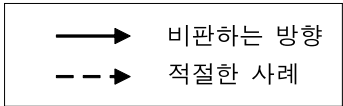
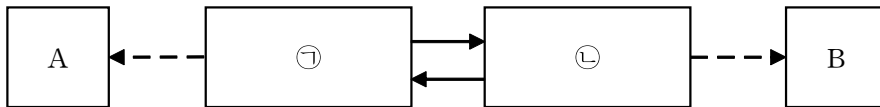
— < 보 기 > —

- ㄱ. 1차 자료와 2차 자료가 모두 활용되었다.
- ㄴ. 선행 연구에서 진행된 연구 결과는 ㉠을 지지하는 근거로 활용될 수 있다.
- ㄷ. ㉡에서 ㉢의 조작적 정의가 이루어졌을 것이다.
- ㄹ. 갑은 연구 결과의 일반화를 바탕으로 고등학생과 학부모와의 친밀도를 높이는 프로그램을 만들어 사회 문제를 해결할 수 있다.

- ① ㄱ, ㄴ                      ② ㄱ, ㄷ                      ③ ㄴ, ㄷ
- ④ ㄴ, ㄷ, ㄹ                ⑤ ㄱ, ㄷ, ㄹ

그림은 다음에서 주장하는 연구 방법 ㉠, ㉡을 도식화한 것이다. 이에 대한 설명으로 옳지 않은 것은?

사회 과학은 사회 현상에 대한 논리적 이해와 설명을 추구하므로 ㉠어떤 사회 과학자들은 하나의 원리를 밝혀내어 다른 사회 문제의 해결에도 기여할 수 있는 법칙을 연역하려 한다. 하지만 이는 피상적이다. 이러한 추상적인 방법은 개성적 사회 현상에 대한 설명력이 떨어진다. 인간은 외부의 자극에 단순하게 반응하지 않고 목적 의식적인 행동을 보여준다. 따라서 ㉡이러한 특성에 맞는 연구 방법을 사용해 인간 행위의 동기를 밝혀냄을 모색하는 것이 사회 현상을 더 구체적으로 이해하는 데에 도움을 줄 수 있다.



- ① 다수를 대상으로 표준화된 설문 도구를 사용하는 연구는 ㉡보다 ㉠에 적절하다.
- ② 도시와 농촌 지역의 경제 행위 비교를 위한 민속지적 연구는 B에 적절하다.
- ③ 수도권 거주민들의 객관적 계층 의식의 분포와 주관적 계층 의식의 분포를 비교하기 위한 연구는 B에 적절하다.
- ④ 청소년의 팬클럽 회원들의 팬덤 문화 형성 과정을 알아보기 위한 연구는 B에 적절하다.
- ⑤ 임의의 가상의 행위자가 동일한 형식으로 만들어진 가상의 타자들과 상호 작용함을 가정하여 일상적 삶의 세계 모형을 구성하는 연구 방법은 ㉠보다 ㉡에 적절하다.

다음 연구에 대한 옳은 설명만을 <보기>에서 있는 대로 고른 것은?

㉠아동 청소년기의 아이들의 ㉡자기 절제력과 학교 성적간의 상관 관계를 알아보기 위해 무작위로 추출한 ㉢아동 청소년기의 여성 아이들 1000명을 두 집단으로 나누었다. 이들의 자기 절제 능력 지수의 점수를 검사한 뒤 한 집단에는 지속적으로 절제 능력을 기를 수 있는 교육 프로그램을 실시하였고 다른 한 집단에는 아무런 조치를 취하지 않았다. 10년 후 이들의 중학교 학업 성취도 평가 점수를 기반으로 두 집단을 비교해본 결과 초기에는 서로 자기 절제 능력이 비슷한 수준이었음에도 불구하고 자기 절제 능력 향상 프로그램을 조치한 집단의 성적이 월등하게 높은 것을 알아내었다. 이를 바탕으로 자기 절제 능력이 높을수록 ㉣학교 성적은 이에 비례할 가능성이 높다는 결론을 내렸다.

— < 보 기 > —

- ㄱ. ㉢은 ㉠의 특징을 알아보기 위해 추출한 표본이다.
- ㄴ. ㉡의 조작적 정의가 이루어졌다.
- ㄷ. ㉡은 종속 변수, ㉢은 독립 변수이다.
- ㄹ. 분석 결과는 가설을 지지하는 근거로 활용될 수 있다.

- ① ㄱ, ㄴ                      ② ㄱ, ㄷ                      ③ ㄴ, ㄷ
- ④ ㄴ, ㄷ, ㄹ                ⑤ ㄱ, ㄴ, ㄹ

다음 연구에 대한 설명으로 옳은 것은? (단, (가)~(마)는 연구 과정을 순서 없이 나열한 것이다.) [3점]

(가) 연구 대상자는 ㉠A시 B구 빈곤지역 거주 청소년 중 무작위로 선정한 7명으로 선정하였다. 심층면접과 관련하여 피면접자들은 이 연구의 자발적 성격을 이해하고 자신들의 면접참여를 중단할 권리가 있음을 사전에 주지시켰으며, 피면접자들의 이름은 연구에서 사용하지 않았다. 또한 피면접자들의 이름 및 직업, 지위도 면접에서 언급하지 않았으며 사례에 연관되는 잠재적으로 노출 가능한 정보는 연구보고서에서 삭제하였다.

(나) 빈곤층 청소년의 빈곤 문제를 해결하기 위해서는 우선 빈곤층 청소년 가족들의 소득보장이 우선 이루어져야 한다고 추론하였고 이를 위해서는 공공부조가 제대로 작동되어야 한다고 ㉡결론지었다.

(다) 20 〇년 12월부터 20〇〇년 5월까지 6개월 동안 에 대한 심층면접조사를 실시하였다.

(라) 자료 분석은 내용분석을 기초로 피면접자들의 면접 반응에서의 공통된 주제를 발견하는 것에 목적을 두었다. 빈곤층 청소년들은 전반적으로 가정환경이 좋지 않았고 지역사회에서의 복지적 소외 양상은 주로 다음과 같이 나타났다. 빈곤지역 거주 청소년은 자주 유해 환경(폭력, 알코올 중독, 비행청소년과의 교류 등)을 경험하게 되어 사회에 대한 부정적인 시각을 갖게 되거나, 성인들의 좋지 않은 모습을 학습하게 되었고, 결과적으로 청소년 비행과 범죄 발생의 유력한 원인이 되기도 하였다. 추가로, 빈곤층 청소년에 관한 선행 연구 자료에서 지금까지는 빈곤집단을 빈곤의 경제적 지표에 의한 동일성의 집단범주로서 경제적, 재정적 자원의 부족이라는 공통특징을 가진 성원으로 보고 이들의 행동을 일반적으로 공유하는 사회적 가치와 이에 도달할 수 있는 수단의 결여에 따른 체념, 소외감, 비행 등과 연관시켰다. 그러나 자료 분석 결과 빈곤층 청소년들은 그가 처해있는 객관적인 상황을 주관적으로, 의식적으로 해석하고 판단하여 결정지며 동일계층 내에서도 행동 및 태도가 다르게 나타났다.

(마) 빈곤층 청소년에 관한 선행 연구 자료를 검토하였다. 이를 바탕으로 ㉢빈곤층 청소년의 복지적 소외 양상을 파악하기로 하였다.

- ① ㉢은 모집단, ㉠은 표본 집단이다.
- ② 빈곤층 청소년에 관한 선행 연구 자료는 일탈 행동은 타인과의 친밀한 상호 작용을 통해 습득된 태도에 의해 발생한다는 믿음을 전제한다.
- ③ 자료 분석 결과에 따르면 문화적으로 정의된 열망과 사회적으로 구조화된 수단 사이의 격차로 일탈이 발생한다.
- ④ ㉡에 따르면 수혜자 부담을 원칙으로 하는 사회 보장 제도가 빈곤층 청소년의 빈곤 문제를 해결하는 데에 효과적일 것이다.
- ⑤ 이 연구 과정은 (마)-(가)-(다)-(라)-(나) 순서로 진행되는 것이 적절하다.

다음 연구에 대한 옳은 설명만을 <보기>에서 있는 대로 고른 것은? [3점]

갑은 ㉠고등학생의 학업 성취도에 부모와의 친밀도 및 이성 친구와의 교제가 미치는 영향에 대하여 연구하고자 하였다. 갑은 '부모와의 친밀도가 높을수록 학업 성취도가 높을 것이다.', 이성 친구와의 교제 시간이 많을수록 학업 성취도가 낮을 것이다'라는 ㉡잠정적 결론을 도출한 후 ㉢A시의 고등학교 3곳을 선정하여 1, 2, 3학년 학생 중 200명을 무작위로 추출하였다. 이어 부모와의 1년 간 평균 대화 시간, 지난 1년 간 이성 친구와의 교제 경험 유무를 설문 조사하였고, 그리고 추출된 학생들이 4개월 전, 1개월 전에 치른 6월, 9월 모의평가 성적표를 입수하였다. 수집된 자료 분석 결과는 아래와 같으며, 이 결과는 통계적 검증 과정을 거쳤다.

㉣부모와의 대화 시간	㉤이성 친구와의 교제 경험 유무	㉥모의평가 성적(평균 백분위)		계
		6월	9월	
많음	있음	92.3	97.5	189.8
	없음	98.6	91.2	189.8
적음	있음	82.1	89.4	171.5
	없음	99.3	90.7	190.0

\* 평균 백분위가 높을수록 학업 성취도가 높은 것임.

< 보 기 >

- ㄱ. ㉣은 ㉠의 표본 집단이다.
- ㄴ. 1차 자료와 2차 자료가 모두 활용되었다.
- ㄷ. 분석 결과는 ㉠을 지지하는 근거로 활용될 수 있다.
- ㄹ. ㉣이 적고 ㉤이 있을 때보다 ㉣이 많고 ㉤이 있을 때 ㉣이 더 낮은 증가율을 보인다.

- ① ㄱ, ㄴ      ② ㄱ, ㄹ      ③ ㄴ, ㄷ      ④ ㄴ, ㄹ      ⑤ ㄱ, ㄷ, ㄹ





표는 자료 수집 방법 A~D를 질문에 따라 구분한 것이다. 이에 대한 옳은 설명만을 <보기>에서 있는 대로 고른 것은? (단, A~D는 각각 질문지법, 면접법, 참여관찰법, 실험법 중 하나이다.) [3점]

질문 \ 자료 수집 방법	A	B	C	D
(가)	예	예	아니오	아니오
(나)	예	아니오	예	아니오
(다)	예	아니오	아니오	아니오

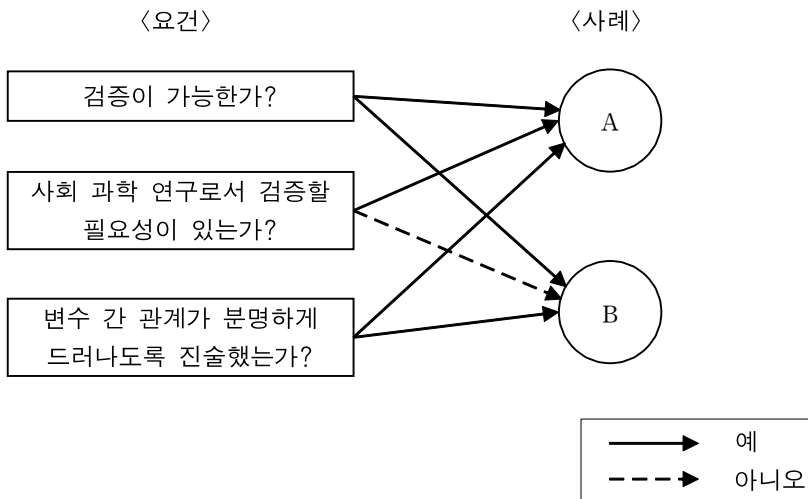
< 보 기 >

- ㄱ. A 면접법, B가 참여관찰법이고, (나)가 '자료 수집에서 연구 대상의 응답이 필수 요건인가?' 라면 C, D는 A, B와 달리 새로운 사실의 발견에 유리하다.
- ㄴ. (다)가 '문맹자에게 사용하기 곤란한가?'이고, 인위적으로 상황을 통제함으로써 변수의 효과를 관찰하기에 용이한 정도가 C>B일 때, '연구 대상지의 동기나 의도를 객관화할 수 있다고 보는가?'는 (나)에 적절하다.
- ㄷ. 자료 수집 상황에 대한 통제 수준이 B>A>D>C라면, (가)에는 '여러 문제를 해결하기 위한 법칙을 연역하기 위해 하나의 원리를 증명하려 할 때 용이한가?'가 적절하다.
- ㄹ. (가)가 '언어를 매개로 상호 작용하는 것이 필수적인가?'이고, (나)가 '주로 귀납적 과정을 통해 결론을 도출하는가?' 라면, (다)는 '심층적 의도를 파악하기에 용이한가?'가 적절하다.

- ① ㄱ, ㄴ      ② ㄱ, ㄷ      ③ ㄴ, ㄷ      ④ ㄴ, ㄹ      ⑤ ㄴ, ㄷ, ㄹ

그림의 A, B에 들어갈 사례로 적절하지 않은 것을 <보기>에서 있는 대로 고른 것은?

사회 조사에서의 가설이 충족해야 할 보편적인 조건은 <요건>과 같은 것들이 있다.



< 보 기 >

ㄱ. '자신의 직업에 대한 자부심이 클수록 사고 욕구가 높을 것이다.'는 A에 적절하다.

ㄴ. '가치 있는 학창 시절을 보내기 위해서는 좋은 친구들이 있어야 할 것이다.'는 A에 적절하다.

ㄷ. '수도권 지역은 비수도권 지역보다 소득 대비 교육에 지출하는 비중이 높을 것이다.'는 B에 적절하다.

ㄹ. '부모와의 친밀도가 자녀의 청소년기 비행에 유의미한 영향을 끼칠 것이다'는 B에 적절하다.

- ① ㄱ, ㄴ      ② ㄱ, ㄹ      ③ ㄴ, ㄷ      ④ ㄱ, ㄷ, ㄹ      ⑤ ㄴ, ㄷ, ㄹ

다음 과제를 적절하게 수행하지 않은 학생을 고른 것은? (단, 도시화율은 전체 인구에서 도시 인구가 차지하는 비율이다.) [3점]

〈과제〉		
교육 제도 및 입시 제도에 관련하여 잠정적으로 도출한 가설을 검증하기에 적절한 자료를 제시해보자.		
학생	가설	자료
갑	대입 수시 모집 비율의 증가로 전체 대입수험생 중 정시 지원보다 수시 지원한 학생의 비중이 늘어났을 것이다.	대입수험생이면서 수시 지원한 학생의 수 및 대입 수시 모집 비율의 증가율
을	대입수험생을 둔 가족 중 소득 대비 교육비 지출 비중이 높을수록 확대 가족의 비율이 높을 것이다.	대입수험생을 둔 가족의 소득 대비 교육비 지출 및 1세대 가구 수와 2세대 가구 수 및 3세대 이상 가구의 수
병	교육에 대한 높아진 관심이 도시로의 인구 유입을 유발하여 도시화율이 증가했을 것이다.	교육관심도의 변화 및 도시와 비도시 지역의 전출입을 통한 비도시 지역 인구 비율 변화
정	고등학교 수험생의 성별에 따라 주당 학습 시간이 차지하는 비중이 다를 것이다.	고등학생 여부에 따른 수험생의 주당 여가 시간 대비 학습 시간의 상대적 비

- ① 갑, 을      ② 을, 병      ③ 갑, 병, 정      ④ 을, 병, 정      ⑤ 갑, 을, 병, 정

다음에서 나타난 연구 윤리를 토대로 '갑'의 연구에 대한 옳지 않은 설명만을 <보기>에서 있는 대로 고른 것은?

갑은 혼인으로 한국에 이주하게 된 외국인들의 생애를 연구하고자 한국에 거주하는 기혼 외국인들을 대상으로 심층 면접을 실시하였다. 면접 대상자 중 일부는 질문 내용에 불편함을 느껴 면접 중단을 요구하였고 갑은 면접을 속행하였다. 갑은 연구 대상자의 답변 자료 중 중 자신의 가치관에 반하는 답변 중 일부만 누락한 채 논문을 완성하였다.

- (가) 절차적 투명성과 내용적 객관성이란 두 개념을 포괄하는 연구 윤리의 핵심어는 '충실성'이다. 충실성은 바람직한 연구가 무엇인지를 압축적으로 표현할 수 있는 개념이다.
- (나) 연구자는 연구 목적과 연구에 참여함으로써 발생할 피해의 가능성을 잠재적 연구 대상자에게 의무적으로 고지해야만 한다. 잠재적 연구 대상자가 연구에 참여할지 말지의 결정은 그 다음 문제이다. 또한 연구 진행 도중 연구 대상자의 중도포기의 의사 역시 존중해야만 한다.

— < 보 기 > —

- ㄱ. (나)는 일반화라는 과학적 필요와 상충될 가능성이 있다.
- ㄴ. (가)에 따르면 연구자의 가치 개입은 연구 주제 선정에서 허용될 수 없다.
- ㄷ. 갑은 연구 의뢰자의 이익을 위해 자료를 조작하여 분석하였다.
- ㄹ. 갑은 (가)에 나타난 연구 윤리는 준수하였지만 (나)의 연구 윤리를 위반하였다.

- ① ㄱ, ㄴ    ② ㄱ, ㄷ    ③ ㄴ, ㄷ    ④ ㄱ, ㄴ, ㄹ    ⑤ ㄴ, ㄷ, ㄹ

다음 사례를 갑, 을이 강조하는 연구 윤리 측면에서 적절하게 평가한 것만을 <보기>에서 있는 대로 고른 것은? [3점]

- 부채담보부증권에 투자한 A는 해당 증권의 수익률 예측을 연구하였다. 해당 증권에 대한 모든 자료를 수집한 후 해당 증권에 대해 긍정적 전망을 표방한 자료만 분석하여 그중 최대치로 고수익률을 예측한 분석 내용을 근거로 해당 증권의 수익률이 높을 것이므로 이에 투자할 것을 고무하는 주장을 담은 연구결과를 발표하였다.
- 외국에 자회사의 상품을 수출하는 B는 자국의 국가 브랜드 이미지를 연구하였다. 자국에 호의적인 각국의 외국인을 대상으로 국가 브랜드 지수를 조사하였고 지수의 고하에 상관없이 수집한 자료를 모두 분석한 후 외국인의 82%가 자국에 대해 호감을 가지므로 자국의 국가 브랜드 이미지는 긍정적이라 발표하였다. 이를 근거로 B는 정부에 자국 상품 수출 기업에 전폭적인 지원을 해줄 것을 촉구하였다.

연구자는 연구 과정과 관련하여 정직한 방법으로 자료를 수집해야 해. 그리고 수집한 자료를 연구 외 목적으로 유출해서는 안되지.

연구자는 의도한 결론을 이끌어 내기 위해 자료를 왜곡하여 분석해서는 안돼. 그리고 결과 발표 시에도 분석 결과의 일부를 은폐하여 발표하면 안돼.



갑



을

\* 국가 브랜드 지수: 한 국가에 대한 호감도와 신뢰도를 수량화한 지표로 지수가 높을수록 상품이나 용역의 가치 및 경쟁력을 크게 향상시킬 수 있다.

< 보 기 >

- ㄱ. 자료 수집 단계에서 B의 연구는 A의 연구와 달리 갑에게 비판받을 수 있다.
- ㄴ. 자료 분석 단계에서 A의 연구는 B의 연구와 달리 을에게 비판받을 수 없다.
- ㄷ. 결과 발표 단계에서 A의 연구는 B의 연구와 달리 을에게 비판받을 수 있다.
- ㄹ. 수집 자료 활용에 있어 A의 연구는 B의 연구와 달리 을에게 비판받을 수 없다.

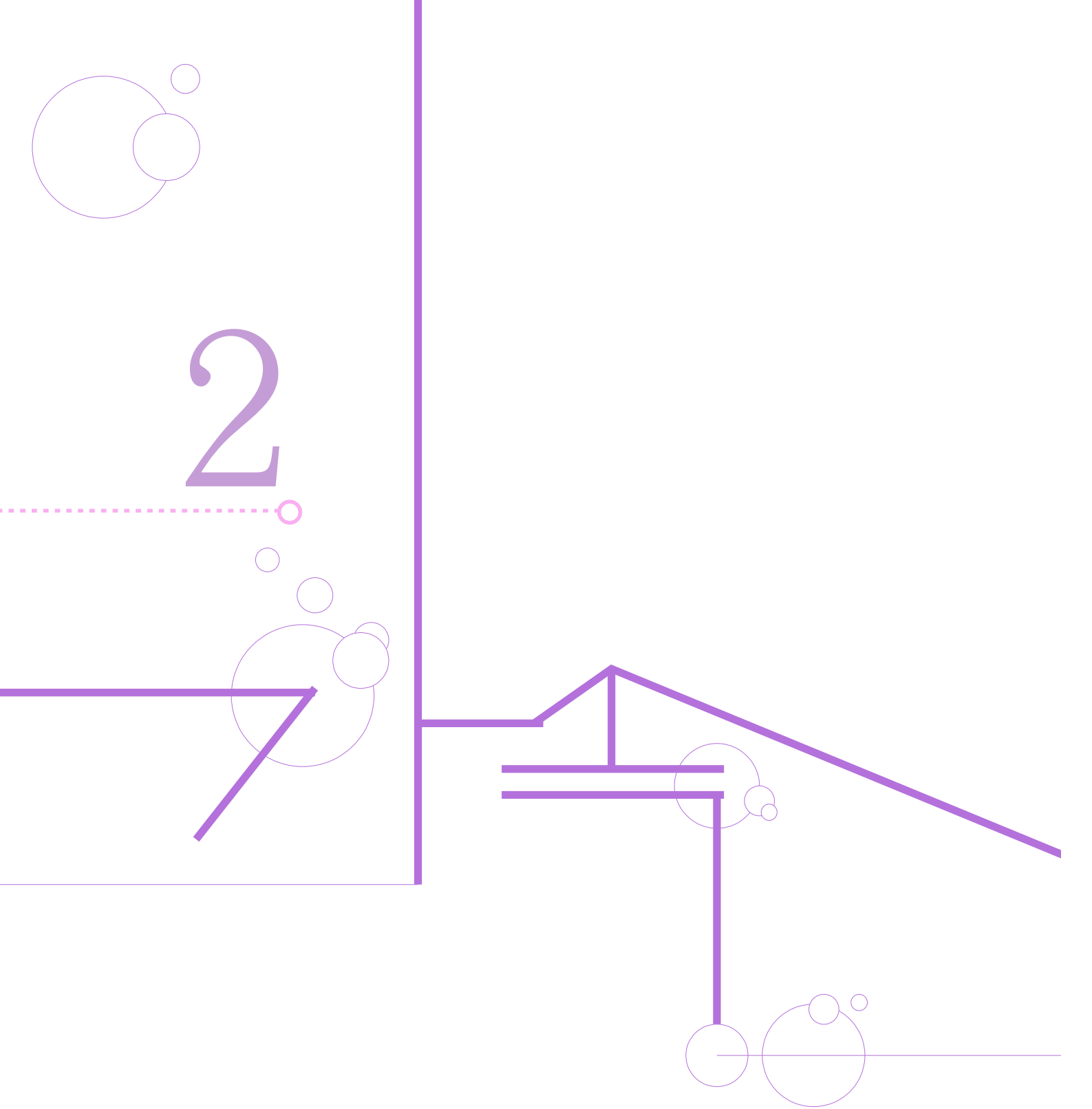
- ① ㄱ, ㄴ    ② ㄱ, ㄷ    ③ ㄴ, ㄷ    ④ ㄴ, ㄷ, ㄹ    ⑤ ㄱ, ㄷ, ㄹ

○ MEMO ○



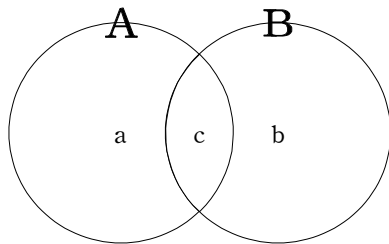






다음 밑줄 친 ㉠~㉣에 대한 옳은 설명만을 <보기>에서 있는 대로 고른 것은?

아이돌 그룹 멤버 갑이 언론의 주목을 받고 있다. 갑은 어린 시절부터 꿈꾸어 왔던 ㉠솔로 가수가 되기 위해 ㉡보컬 학원에서 트레이닝을 받은 후 ㉢유명 기획사의 오디션에 합격하였다. 이후 ㉣아이돌 그룹으로 데뷔하였고 본인의 재능을 살려 직접 작곡한 곳을 수록한 정규 앨범이 크게 ㉤대중의 인기를 끌어 유명세를 얻었다. 데뷔한지 5년이 지난 지금도 갑은 ㉥그룹 내 연장자 멤버로서 그룹을 이끌어가며 어느 연예인 못잖은 인기를 구가하고 있다. 갑은 최근 인터뷰에서 이웃 국가에서 발매한 그룹의 앨범이 ㉦차트 1위에 오르길 기대한다며 그룹에 대한 애정과 자신감을 드러내기도 하였다.



\* a는 A이면서 B가 아닌 범주, b는 B이면서 A가 아닌 범주, c는 A이면서 B이기도한 범주이다.

< 보 기 >

- ㄱ. A가 공식적 사회화 기관이고 B가 2차적 사회화 기관이면 ㉡, ㉣은 c에 적절하다.
- ㄴ. A가 내집단이고 B가 준거 집단이면 ㉣은 c에 적절하다.
- ㄷ. A가 성취 지위이고 B가 귀속 지위이면 ㉥은 b에 적절하다.
- ㄹ. ㉤, ㉦은 ㉠으로서의 갑의 역할에 대한 보상이다.

- ① ㄱ, ㄴ    ② ㄱ, ㄷ    ③ ㄴ, ㄷ    ④ ㄱ, ㄴ, ㄹ    ⑤ ㄴ, ㄷ, ㄹ

다음 (가), (나)에 대한 옳은 설명만을 <보기>에서 있는 대로 고른 것은?

- (가) 의사인 부모의 영향을 받아 자신도 의사가 되어야겠다고 줄곧 생각해온 갑은 어느 날 범죄에 관한 다큐멘터리를 보고 검사가 되겠다고 결정했다. 이러한 진로 문제로 부모와 말다툼을 벌였지만 결국 갑은 대학 졸업 후 법학전문대학원에 진학하여 우수한 성적을 거둔 끝에 검사로 임용되었다. 이후 수많은 실적을 낸 갑은 검찰 내에서 승진을 거듭하는 등 검사로서 승승장구하고 있다.
- (나) 회사 내 ㉠최연소 신입 사원인 을은 어린 시절 바라던 교사의 꿈을 버리지 못하고 틈틈이 입시 준비를 하여 교육대학 합격증을 거머쥐었다. 퇴사 후 늦깎이 대학생으로서 의욕적으로 공부에 매진하여 대학을 수석으로 졸업한 후 현재 고향의 한 초등학교에서 교원으로 근무하고 있다. 하지만 생각보다 고된 교원 생활에 을은 회의감을 느끼고 있다.

— < 보 기 > —

- ㄱ. (가)에서 갑이 의사를 미래 직업으로 생각한 것은 사회화 결과이다.  
 ㄴ. (가)에서의 갑과 (나)서의 을은 모두 역할 갈등을 경험하였다.  
 ㄷ. ㉠은 을이 개인의 능력과 노력에 의해 획득한 지위이다.  
 ㄹ. 갑이 경험한 공식적 사회화 기관의 수는 을이 경험한 수와 같다.

- ① ㄱ, ㄴ      ② ㄱ, ㄷ      ③ ㄴ, ㄷ      ④ ㄱ, ㄷ, ㄹ      ⑤ ㄴ, ㄷ, ㄹ

다음은 수집한 연구 자료를 요약한 것이다. 이에 대한 옳은 분석을 <보기>에서 있는 대로 고른 것은?

< ○기업 전무이사 갑을 심층 면접한 자료 요약 >

주제: 회사원들의 생애 연구

면접 내용: 갑은 평범한 중산층 집안의 ㉠막내딸로 태어나 ××대학 경제학과를 졸업하였다. 이후 해외의 한 사립대학에서 경제학 박사 학위를 취득한 갑은 ○○기업 경제연구소 공채에 합격하여 입사 전 ㉡연수원을 수료한 후 성실하게 근무하였다. 연구소 내에서 만난 을과 결혼하여 두 아이를 출산 후 ㉢엄마가 된 갑은 육아 휴직 기간에도 ㉣탁월한 연구 실적을 보여주어 여러 차례 부서 이동과 승진 끝에 비교적 젊은 나이에 전무이사가 되었다. 현재 갑은 자신의 경제학 지식과 비즈니스 경험을 바탕으로 ㉤출판사에서 작가 교육을 받는 등 집필활동을 준비하고 있다.

< 보 기 >

- ㄱ. ㉠과 ㉢은 갑의 귀속 지위이다.
- ㄴ. ㉡과 ㉣은 예기 사회화이다.
- ㄷ. ㉢은 갑의 역할 행동이다.
- ㄹ. 갑은 세대 내 수직 이동을 경험하였다.

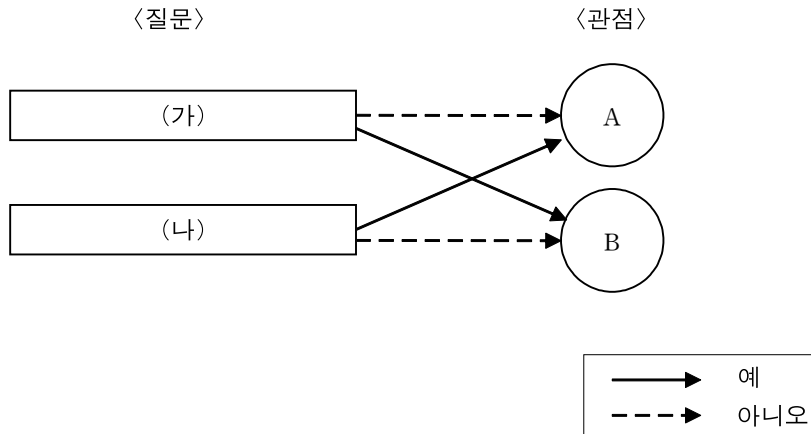
- ① ㄱ, ㄴ    ② ㄴ, ㄷ    ③ ㄴ, ㄹ    ④ ㄱ, ㄴ, ㄹ    ⑤ ㄴ, ㄷ, ㄹ

다음 탐구활동을 적절하게 수행한 학생을 고른 것은? [3점]

〈탐구 활동〉 교육 개인과 사회의 관계를 바라보는 관점에 부합하는 사례를 제시하시오.		
학생	관점	사례
갑	집단이 불안정한 상태로 접어들거나 집단 내 구조적 이동이 발생할 때 인간의 자유의지 발현에 대한 집단 규범의 허용 범위의 변화가 일어난다. 이는 오직 집단 규범이 허용한 범위 안에서만 각 개인의 자유의지가 발현될 수 있기 때문이다.	○기업의 실적은 기업 내 조직력에 의해 결정되는 것이지만 사원들 개개인의 역량에 의해 결정된다고 보기엔 무리가 있다.
을	대입수험생을 둔 가족 중 소득 대비 교육비 지출 비중이 높을수록 확대 가족의 비율이 높을 것이다.	갑은 총선거에서 후보자 개개인의 공약이나 가치관보다는 후보자가 소속되어있는 정당의 가치관을 토대로 판단하여 투표하였다.
병	우주는 원자로 구성되어있다. 이와 같이 사회 역시 개인들로 이루어져 있으므로 사회의 복잡한 현상도 개별 요소로 설명하는 것이 바람직하다.	을은 가부장적인 집안에서 자란 사람이지만 병은 을이 자유로운 사고방식의 소유자임을 알고 을과 결혼하기로 결정하였다.
정		정은 치안이 좋기로 유명한 지역에 거주하지만 뉴스에서 보도된 범죄율 통계가 지난해 보다 범죄율 수치가 올랐음을 보여주는 것을 인지하고 귀가 시간을 예전보다 이르게 맞추어 생활하였다.

- ① 갑, 을      ② 갑, 정      ③ 을, 정      ④ 갑, 을, 병      ⑤ 을, 병, 정

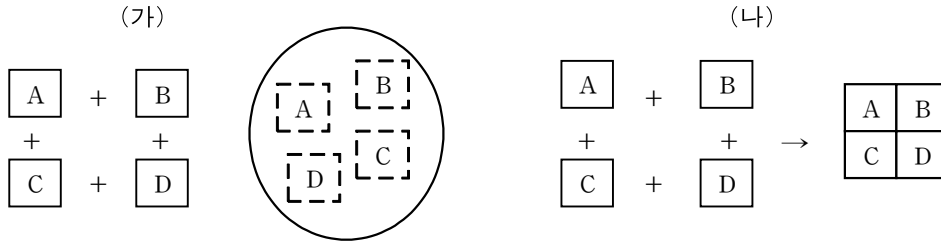
그림은 개인과 사회를 바라보는 관점 A, B를 분류한 것이다. 이에 대한 옳은 설명만을 <보기>에서 있는 대로 고른 것은?



- < 보 기 > —
- ㄱ. (가)가 '사회를 하나의 유기체에 비유하는가?'이면 A는 사회가 개인의 총합보다 크다고 본다.
  - ㄴ. (나)가 '사회는 그 자체를 구성하고 있는 부분 요소로 환원될 수 없다고 보는가?'이면 B는 사회 규범의 구속성보다 개인의 능동성을 중시한다.
  - ㄷ. A가 극단적 개인주의에 빠질 가능성이 있다면 (가)는 '사회 구조에 대한 개인의 불가항력성을 인정하는가?'가 적절하다.
  - ㄹ. B는 A와 달리 사회화는 일방적인 과정이 아닌 개개인의 의미를 부여하는 동적인 과정이라고 본다면 (나)는 '조직이나 집단의 특성으로부터 개인의 자유를 부정하는가?'가 적절하다.

- ① ㄱ, ㄴ      ② ㄱ, ㄷ      ③ ㄴ, ㄷ      ④ ㄱ, ㄷ, ㄹ      ⑤ ㄴ, ㄷ, ㄹ

그림은 개인과 사회의 관계에 대한 관점을 도식화한 것이다. 각 입장에 해당하는 진술을 <보기>에서 알맞게 짝지은 것은?



< 보 기 >

- ㄱ. 갑국 국민들의 생식 능력이나 출산에 대한 소망이 변하지 않았지만 지난 10년 전보다 출산율이 급감하였다.
- ㄴ. 개인의 정신 상태가 아닌 사회 자체의 논리만이 사회학의 연구 대상이 될 수 있다.
- ㄷ. 도시의 교통 혼잡 문제를 해결하기 위해서는 개인의 의식 개선보다 통행료를 인상하고 차량 2부제를 실시하는 것이 더 효과적일 것이다.
- ㄹ. 사회 전체를 위한 개인의 희생은 정당화될 수 없다.

- |   |         |      |   |      |         |
|---|---------|------|---|------|---------|
|   | (가)     | (나)  |   | (가)  | (나)     |
| ① | ㄱ, ㄴ    | ㄷ, ㄹ | ② | ㄱ, ㄷ | ㄴ, ㄹ    |
| ③ | ㄴ, ㄷ    | ㄱ, ㄹ | ④ | ㄴ    | ㄱ, ㄷ, ㄹ |
| ⑤ | ㄱ, ㄴ, ㄷ | ㄹ    |   |      |         |

다음은 일탈 행동을 바라보는 이론에 대한 글이다. A에 들어갈 진술로 적절하지 않은 것을 <보기>에서 있는 대로 고른 것은? [3점]

일탈 행동이 하위 계층의 부적응에서 기인한다는 주장에 문제가 있다고 분석하는 입장들이 있다. 이러한 관점은 일탈 행동이 일탈에 동조하는 가치, 태도, 행위에 노출된 결과, 일탈을 위한 동기 부여와 기술 습득이 이루어졌음을 전제하거나 개인의 사회적 위치에 따른 차별적 반응이 일탈자로서의 정체성을 형성하는 변인이 되며 이렇게 형성된 정체성은 일탈 경력 강화의 변인이 됨을 전제한다. 그런데 이는 계층의 고하에 따라 문화적 목표와 합법적 수단 간의 불일치로 인한 긴장의 정도가 다르게 나타난다는 사실을 간과한 것이다. 이 점에서 “A”라는 주장에는 동의할 수 없다.

— < 보 기 > —

- ㄱ. 일탈 행동은 비행 집단과의 교류로 인한 잘못된 사회화에서 비롯된다.
- ㄴ. 일탈 행동은 사회의 지배적인 규범이 약화되거나 해체될 때 증가한다.
- ㄷ. 일탈 행동은 타인과의 상호 작용의 산물로 간주할 수 있다.
- ㄹ. 일탈 행동의 근본 원인은 불평등한 사회 구조와 계급 간의 갈등이다.

- ① ㄱ, ㄴ    ② ㄱ, ㄷ    ③ ㄴ, ㄹ    ④ ㄱ, ㄴ, ㄷ    ⑤ ㄴ, ㄷ, ㄹ



다음 자료에 대한 설명으로 옳은 것을 <보기>에서 있는 대로 고른 것은? (단, A~C는 각각 낙인 이론, 차별적 교제 이론, 아노미 이론 중 하나이다.) [3점]

표는 갑국의 만 20세 이상 국민 2000만 명을 대상으로 일탈 행동을 바라보는 관점에 대한 응답을 설문 조사한 결과와 각 관점의 특징을 제시한 것이다. 단, 두 개 이상의 관점에 응답한 사람과 무응답한 사람은 없다.

(단위: %)

관점	특징	X시	Y시	전체
A	일탈 행동을 초래한 사회 구조의 영향력을 간과한다.	40.0	25.0	31.0
B		25.0	40.0	34.0
C	일탈 행동의 원인이 차별적인 제재를 간과한다.	35.0	35.0	35.0

\* 갑국은 X시와 Y시로만 구분할 수 있음.

\*\* 체 비율 =  $\frac{\text{해당 관점에 응답한 수}}{\text{전체 응답자 수}} \times 100$

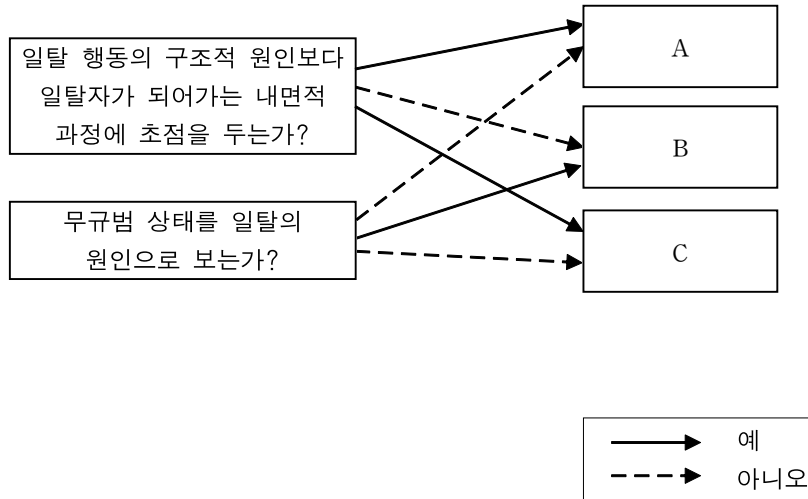
\*\*\* X시(Y시) 비율 =  $\frac{\text{해당 관점에 응답한 X시(Y시) 거주 응답자 수}}{\text{X시(Y시) 거주 응답자 수}} \times 100$

< 보 기 >

- ㄱ. 일탈 행동의 원인을 개인적 차원에서 파악하는 관점에 응답한 X시 인구가 기능론적 시각을 가진 관점에 응답한 전체 인구보다 많다.
- ㄴ. A가 일탈 행동의 객관적 기준이 없다고 본다면 일탈 행동의 원인이 비행 집단과의 교류로 인한 잘못된 사회화라고 보는 관점에 응답한 X시 인구는 A에 응답한 Y시 인구보다 적다.
- ㄷ. B가 일탈자외의 접촉 차단을 일탈에 대한 대책으로 행동의 본다면 정상적인 집단과의 교류 확대를 일탈의 해결책이라고 보는 관점에 응답한 Y시 인구는 B에 응답한 X시 인구의 2배 이상이다.
- ㄹ. C에 응답한 Y시 인구는 전체 국민 중 21%를 차지한다.

- ① ㄱ, ㄴ                      ② ㄱ, ㄷ                      ③ ㄴ, ㄷ
- ④ ㄴ, ㄹ                      ⑤ ㄴ, ㄷ, ㄹ

그림은 일탈 이론 A, ~C를 분류한 것이다. 이에 대한 설명으로 옳지 않은 것은? [3점]



- ① B는 A, C와 달리 일탈 행동 증가의 원인을 사회의 지배적인 규범의 해체나 약화라고 본다.
- ② B는 일탈에 대한 대책으로 사회 규범의 통제력 회복을 강조한다.
- ③ A가 일탈 행동에 대한 부정적 반응을 일탈의 원인으로 본다면 C는 문화적 목표에 도달할 기회 제공을 일탈에 대한 대책으로 본다.
- ④ C가 일탈 해행동의 발생에 있어 타인과의 상호 작용을 통한 학습 과정을 강조한다면 A는 타인들과의 상호 작용이 일탈 발생 과정에 미치는 영향을 중시한다.
- ⑤ A가 일탈 집단 대신 정상적인 집단과의 교류 확대를 일탈의 해결책으로 본다면 C는 일탈자로서의 정체성 형성이 일탈 경력 강화의 원인이라고 본다.

다음 자료에 대한 옳은 내용을 <보기>에서 있는 대로 고른 것은? (단, A~C는 각각 낙인 이론, 차별적 교제 이론, 아노미 이론 중 하나이다.) [3점]

〈일탈 이론 카드 게임〉

- 게임 규칙: 룰 1~3 중 한 개의 룰만을 골라 게임을 진행한다. 각 카드에 쓰인 알파벳은 일탈 이론 중 하나에 해당한다.
- 이론 설명: '타인들과의 상호 작용이 일탈 발생 과정에 미치는 영향을 중시하는가?'라는 질문으로 A, C를 구분할 수 없다. '경기 침체의 장기화와 높은 실업률 속 실업자들의 생계형 범죄가 증가하였다.'는 사례는 B로 적절하게 설명할 수 있다.
- 룰 1: 카드 패 중 사회 구조적 요인을 일탈자의 내면 관찰보다 일탈 행동의 원인으로써 중시한다는 카드의 수가 그렇지 않은 카드의 수보다 많은 사람이 이기고 상대방이 진다.
- 룰 2: 카드 패 중 일탈 행동의 기준이 절대적이지 않다고 보는 카드의 수가 그렇지 않은 카드의 수보다 적은 사람이 이기고 상대방이 진다.
- 룰 3: 카드 패 중 일탈자들과의 빈번한 교류 및 범을 경시하는 태도의 학습이 일탈 가능성을 높이는 원인이라고 보는 카드가 사회적 목표와 제도화된 수단의 괴리가 일탈 행동의 원인이라고 보는 카드보다 적은 사람이 이기고 상대방이 진다.

〈갑의 카드 패〉

C	B	C	A	B
---	---	---	---	---

〈을의 카드 패〉

A	C	B	A	A
---	---	---	---	---

\* 카드 패의 구성은 변하지 않으며 이기거나 지는 사람은 각각 한 명씩만 정해짐.

— < 보 기 > —

- ㄱ. 룰 1에 따르면 이긴 사람은 없다.
- ㄴ. 룰 2에 따르면 A가 정상적인 집단과의 교류 확대를 일탈의 해결책으로 볼 경우 갑이 이긴다.
- ㄷ. 룰 3에 따르면 C가 일탈자라고 규정짓는 것이 사회적 지위 부여와 동등하다고 볼 경우 을이 진다.
- ㄹ. A가 최초 일탈보다 일탈 행동의 반복에 초점을 맞춘다면 룰 3보다 룰 2가 갑에게 유리하다.

- ① ㄱ, ㄴ      ② ㄱ, ㄷ      ③ ㄴ, ㄷ      ④ ㄱ, ㄷ, ㄹ      ⑤ ㄴ, ㄷ, ㄹ

갑~병의 대화에 나타난 일탈 이론에 대한 설명으로 옳은 것은?

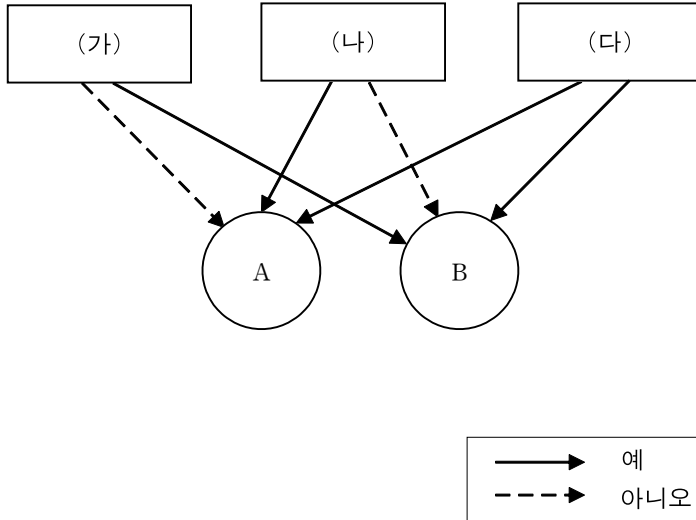
갑: 여러 일탈 행동 중 범죄를 저지른 경력이 있는 사람들 중 일부는 왜 다시 범죄를 저지를까요? 이유는 간단합니다. 사회적으로 일탈자라고 규정되면 정상적인 사회생활로부터 소외됩니다. 지속적인 상담을 통해 자아상이 새롭게 바뀐 상습 범죄자가 범죄를 중단한 사례가 제 주장을 뒷받침할 수 있습니다.

을: 아닙니다. 계층에 따라서는 사회적 성공에 도달하기 위해 불법적인 수단을 선택할 수밖에 없었던 사람들도 있습니다. 따라서 특정 계층에 있어 제도화된 수단의 공백이 범죄를 다시 저지르는 원인이 될 수 있습니다.

병: 저는 두 분과 생각이 조금 다릅니다. 사회 구조는 사람들이 상호 작용하는 조건을 형성해 줄 수 있지만 그 자체로 범죄 재발의 원인이 되지는 못합니다. 범죄는 학습의 산물입니다. 타인과의 친밀한 상호 작용을 통한 동기, 기술, 법에 대한 태도 등의 학습이 범죄 재발의 원인입니다.

- ① 병은 갑, 을과 달리 일탈 행동을 초래하는 사회 구조적인 요인을 간과한다.
- ② 갑은 을, 병과 달리 최초의 일탈을 방지하면 또 다른 일탈로 이어진다고 본다.
- ③ 을은 갑, 병과 달리 불평등한 사회 구조의 근본적 변화가 일탈 행동의 해결 방안이라고 본다.
- ④ 갑은 병과 달리 일탈을 규정하는 기준이 절대적이라고 본다.
- ⑤ 갑은 을, 병과 달리 규칙의 차별적 적용이 일탈자를 만들어낸다고 본다.

그림은 관료제 조직과 탈관료제 조직의 특징을 구분한 것이다. 이에 대한 설명으로 옳은 것을 <보기>에서 있는 대로 고른 것은? [3점]



- < 보 기 > —
- ㄱ. '효율적인 과업 수행을 지향하는가?'는 (다)에 적절하다.
  - ㄴ. (가)가 '규약에 따른 과업 수행보다 창의적 과업 수행을 중시하는가?'라면 A는 B에 비해 부서 간 경계가 엄격하다.
  - ㄷ. A가 B에 비해 환경 변화에 대한 대처가 용이하다면 '1차적 관계가 지배적인가?'는 (나)에 적절하다.
  - ㄹ. (나)가 '상향적 의사 결정 방식을 중시하는가?'라면 A는 B와 달리 위계 서열이 존재하지 않는다.

- ① ㄱ, ㄴ      ② ㄱ, ㄷ      ③ ㄴ, ㄷ      ④ ㄱ, ㄴ, ㄹ      ⑤ ㄴ, ㄷ, ㄹ

사회 조직 유형 A~C에 대한 설명으로 옳은 것은?

A, B는 각각 과업 달성을 위한 조직 중 하나이다. A는 B에 비해 조직 내 지위가 경력에 따른 서열화가 강하게 나타난다. 기업 내 노동조합은 C의 사례로 적절하다.

— < 보 기 > —

- ㄱ. 의사 결정의 분권화 정도는 A>B이다.
- ㄴ. 외부 환경 변화에 대한 대처가 유연한 정도는 A<B이다.
- ㄷ. C는 A, B와 달리 가입과 탈퇴가 자유롭다.
- ㄹ. C의 구성원은 모두 B의 구성원이지만 B의 구성원이라고 해서 모두 C의 구성원인 것은 아니다.

- ① ㄱ, ㄴ                      ② ㄱ, ㄷ                      ③ ㄴ, ㄷ
- ④ ㄴ, ㄷ, ㄹ                ⑤ ㄱ, ㄷ, ㄹ

다음은 사회 집단과 사회 조직의 유형 A~C에 대한 설명이다. 옳지 않은 설명이 단 하나만 존재할 때 옳지 않은 설명을 고른 것은? [3점]

㉠B 없이는 A가 성립할 수 없으며 ㉡B는 A와 달리 하향식 의사 결정 방식이 지배적이고 ㉢공식적 규범에 대한 의존도가 높은 정도는 B>A이다. ㉣결합 의지에 따라 사회 집단을 분류하면 A, B는 C로 분류할 수 있지만 ㉤A, B, C 모두 기본적으로 구성원의 특정 목적을 위해 인위적으로 형성된다는 공통점이 있다.

① ㉠

② ㉡

③ ㉢

④ ㉣

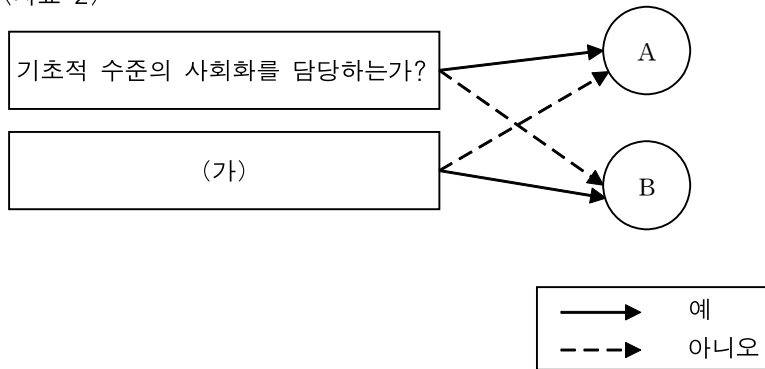
⑤ ㉤

<자료 1>의 밑줄 친 과 <자료 2>에 대해 옳은 설명만을 <보기>에서 있는 대로 고른 것은?  
[3점]

<자료 1>

갑이 태어난 ㉠가정의 부모는 갑이 아직 학생이던 시절에 이혼하였고, 갑과 나머지 형제들은 모두 아버지에게 맡겨졌다. 성인이 된 갑은 원래 에너지 사업에 관심이 있었으나, ㉡실리콘밸리에서 발전 중인 인터넷 사업의 가능성을 보고 곧바로 인터넷 사업에 뛰어 들기로 결정한다. 1995년 ㉢○대학교에서의 수업이 시작된 지 이틀 만에 학교를 그만두고, 당시 ×× 대학에서 역시 경영학을 전공하던 그의 동생을 실리콘밸리로 불러들여 그는 23살에 첫 회사인 ㉣집투 코퍼레이션(Zip2 Corporation)을 설립했다.

<자료 2>




— < 보 기 > —

- ㄱ. <자료 1>에 따르면 갑은 지금까지 2차적 사회화 기관이면서 설립 목적이 사회화가 아닌 기관을 2번 경험하였다.
- ㄴ. ㉡은 ㉢과 달리 B에 분류될 수 있다.
- ㄷ. (가)가 '공식적 사회화를 담당하는가?'라면 ㉢은 ㉠, ㉡과 달리 B에 분류될 수 있다.
- ㄹ. (가)가 '공식적 규범보다 관습에 따라 운영되는 경향이 강한가?'라면 ㉡, ㉢은 ㉠과 달리 A에 분류될 수 있다.

- ① ㄱ, ㄴ      ② ㄱ, ㄷ      ③ ㄴ, ㄷ      ④ ㄱ, ㄷ, ㄹ      ⑤ ㄴ, ㄷ, ㄹ




○ MEMO ○


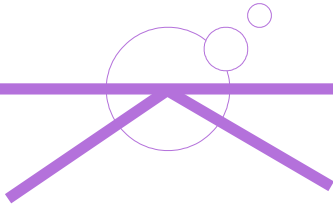









3



밑줄 친 ㉠~㉣에 대한 옳은 설명만을 <보기>에서 있는 대로 고른 것은?

인스타그램(Instagram)은 사진과 짧은 동영상을 통해 자신의 삶을 공유하는 SNS의 일종으로, 오늘날 많은 사람들이 이용한다. ㉠개인과 개인이 만나면 서로 인스타그램 계정이 무엇인지 물어보기도 하고 서로의 글에 '좋아요'를 남기기도 한다. 또한 ㉡과거 컴퓨터 통신을 이용해서만 할 수 있던 전자상거래를 이제는 인스타그램을 매개로 하여 할 수 있게도 되었다. 이처럼 ㉢인스타그램은 현대인들에게 필수품이나 마찬가지로 되었지만 ㉣이를 이용해 사생활이 침해되거나 범죄자들의 표적이 되기도 하는 등 사회 문제와 연관되기도 한다.

— < 보 기 > —

- ㄱ. ㉠은 문화가 사회 구성원 간 원활한 상호 작용의 토대가 됨을 보여준다.  
 ㄴ. ㉡은 문화가 시간의 흐름에 따라 소멸하거나 변화하지 않음을 보여준다.  
 ㄷ. ㉢은 문화가 계승되고 발전하는 현상임을 보여준다.  
 ㄹ. ㉣은 문화 지체 현상의 사례를 보여준다.

- ① ㄱ, ㄴ                      ② ㄱ, ㄹ                      ③ ㄴ, ㄷ  
 ④ ㄴ, ㄷ, ㄹ                ⑤ ㄱ, ㄷ, ㄹ

다음 밑줄 친 ㉠~㉣에 대한 옳지 않은 설명만을 <보기>에서 있는 대로 고른 것은? [3점]

나미비아 북서부, 쿠네네 강을 사이에 두고 앙골라와 접경한 카오콜란드 지방은 문명으로부터 절연된 사회다. 이곳이 바로 세상에서 마지막으로 남아있는 원시 부족중 하나인 힌바족의 고향이다. 카오콜란드에 살고 있는 6천명을 포함, 쿠네네 강 양쪽에 모두 1만 2천명 정도가 살고 있는 ㉠힌바족은 유목생활에 종사하고 있으므로 생활의 모든 요소가 가축에 의해 결정된다. 가축으로는 염소와 무소를 주로 기르고 있는데 염소는 고기뿐만 아니라 가죽까지 여성의 치마, 머릿수건, 목걸이를 만드는 데 이용되며 그밖에 각종 생활 용품의 원료로도 사용되고 있다. ㉡무소는 신성하게 여겨서 위엄과 사회적 신분을 나타내는 징표로 소유된다. 규율을 어긴 사람에 대한 제재로 부족에서 발생한 분쟁 해결 시에는 무소 염소 등 가축으로 벌금이 부과 되고, 또 ㉢혼인 지참금으로 몇 마리의 무소를 가져와야 하는가에 대한 열띤 논쟁이 벌어지기도 하나, 아직 사유 재산이라는 개념이 분화돼 있지 않아 재산은 씨족사회 공통의 것으로 여기고 있다. 또한 ㉣힌바족 문화의 독특성은 이중적인 사회구조에 있는바 부계 및 모계 양쪽의 혈연으로 얽혀 있다. 출생에 의해서 모계 일곱지파의 한쪽에 속하게 되는데, 이는 신분상 아주 중요한 것이다. ㉠모계는 생산수단, 즉 가축떼의 소유권 행사와 직결돼 있으며, 부계는 일상 생활의 터부, 즉 ㉡옳고 그름을 판단하는 정신적인 영역의 생활기준을 결정하는 역할을 한다.

— < 보 기 > —

- ㉠. ㉠과 ㉡은 문화를 구성하고 있는 부분들이 유기적으로 연관됨을 보여준다.  
 ㉡. ㉡은 문화가 상대방의 행동을 예측하고, 대응할 수 없게 해줌을 보여준다.  
 ㉢. ㉢과 ㉣은 구성원의 욕구 충족을 위한 기술이나 도구에 해당하는 문화 요소이다.  
 ㉣. ㉣에서의 문화는 '문화 시설'에서의 '문화'와 같이 좁은 의미로 사용된 것이다.

- ① ㉠, ㉡                      ② ㉠, ㉢                      ③ ㉡, ㉢  
 ④ ㉡, ㉢, ㉣                ⑤ ㉠, ㉢, ㉣

다음 글에서 부각되는 문화의 속성에 대한 옳은 진술만을 <보기>에서 있는 대로 고른 것은?

- 갑국에서 온 외국인인 A는 을국의 사람들에게 을국에서 대표적으로 즐겨먹는 음식이 무엇인지 물었다. 그러자 을국 사람 중 한명인 B는 A에게 '빨강'을 보여주었다. A는 자국에서 즐겨 먹던 '주황'과 달라 호기심을 느끼고 '빨강'에 대해 알아보기 시작했다.
- 병국의 정부 부처에서 근무하는 공무원 C는 자국의 문화 실태에 대해 조사하라는 상사의 명령을 받고 조사에 착수하였다. 조사 결과, 불과 몇 년 전만 해도 자국 사람들은 '초록'을 가장 좋아하는 음식으로 여겼지만 정국에서 들여온 '파랑'과 결합한 음식인 '초랑'이 새롭게 인기를 끌고 있음을 알게 되었다. '초랑'에 대한 인기는 수많은 사람들이 '초랑'의 사진을 SNS에서 즐겨 공유하는 사례에서도 드러났다.

< 보 기 >

- ㄱ. 문화는 상대방의 행동 양식을 예측하고 대응할 수 있음을 보여준다.
- ㄴ. 문화는 고정된 것이 아니라 지속적으로 변화함을 보여준다.
- ㄷ. 문화는 인류 문명의 발달의 토대가 될 수 있음을 보여준다.
- ㄹ. 문화는 요소들 간 연쇄적인 변동이 일어날 수 있음을 보여준다.

- ① ㄱ, ㄴ                      ② ㄱ, ㄷ                      ③ ㄴ, ㄷ  
 ④ ㄴ, ㄷ, ㄹ                ⑤ ㄱ, ㄴ, ㄹ



(가)~(라)에 대한 옳은 설명만을 <보기>에서 있는 대로 고른 것은?

<p>교사: 지난 시간에는 문화의 속성 중 축적성에 대해 알아보았습니다. 이번 시간에는 그 밖의 속성 (가)~(라)에 대해 알아보기로 합니다.</p>	
속성	사례
(가)	한국에서 서로의 연락처를 물어볼 때와 일본에서 서로의 연락처를 물어볼 때는 서로 묻는 것이 다르다. 일례로 한국에서는 전화번호나 SNS주소를 물어보지만 일본에서는 휴대폰 메일 주소를 물어본다.
전체성	(나)
(다)	흔히 '국민성'이라고 하여 각 국가마다 사는 사람들의 전반적인 성격이나 가치관들이 천성적으로 다르다고 간주하지만 이는 태어나 자라면서 주변 사람들과 사회에 영향을 받은 것이다.
변동성	(라)

— < 보 기 > —

- ㄱ. (다)에 따르면 문화는 생득적이기 보다는 후천적인 것이다.
- ㄴ. (가)에 따르면 문화는 서로 다른 체계를 구분하는 기준이 될 수 없다.
- ㄷ. 'SNS의 확산으로 인해 나타난 현대인들의 일상생활 변화'는 (나)에 적절하다.
- ㄹ. '임산부들을 위해 새로 도입된 임산부 카드'는 '(라)에 적절하다.

- ① ㄱ, ㄴ                      ② ㄱ, ㄹ                      ③ ㄴ, ㄷ
- ④ ㄴ, ㄷ, ㄹ                ⑤ ㄱ, ㄷ, ㄹ

다음 글에 나타난 갑~병의 문화 이해의 관점에 대한 설명으로 옳은 것을 <보기>에서 있는 대로 고른 것은? [3점]

갑: 우리 문화에 대한 무한한 자부심은 바람직하지 않아. 우리보다 우월한 선진국가의 문화를 적극적으로 수용해야만해. 그래야 상대적으로 낙후된 우리 문화의 수준을 향상시킬 수 있어.

을: 글썄, 내 생각은 좀 달라. 특정 문화를 기준으로 문화의 우열을 가리는 것은 바람직하지 않아. 항상 국가마다 사회적 맥락이 문화에 반영되어 고유의 가치를 나타내므로 각 문화는 존중받아야만해.

병: 을의 입장에 동의해. 하지만 그러한 관점에도 딜레마가 있어. 세상의 모든 문화와 행위를 동등하게 올바르다고 판단할 가능성이 있기 때문이야. 따라서 인간 윤리의 보편성을 기준으로 판단하는 것이 바람직하다고 할 수 있어.

— < 보 기 > —

- ㄱ. 갑의 관점은 문화의 다양성 보존에 불리하다.
- ㄴ. 을의 관점은 다문화 사회에서 문화 갈등을 초래할 수 있다.
- ㄷ. 동등한 가치를 지닌다고 간주하는 문화의 범위는 병보다 을이 더 넓다.
- ㄹ. 을에 따르면 아프리카의 아동에 대한 강제 노동을 당연시하는 문화를 인권의 측면에서 비판하는 것은 정당하다.

- ① ㄱ, ㄴ      ② ㄱ, ㄷ      ③ ㄴ, ㄷ      ④ ㄴ, ㄹ      ⑤ ㄷ, ㄹ

표는 문화 이해의 관점 A~C를 분류한 것이다. 이에 대한 설명으로 옳은 것을 <보기>에서 있는 대로 고른 것은? [3점]

관점	특징	사례
A	(가)	자국의 음식 문화를 타국의 그것보다 우월하다고 본다.
B	문화에는 각각 고유한 가치가 있음에 더불어 인간이라는 단일종의 구성원에게 적절한 인간 행동의 보편 기준에 따라 문화를 바라본다.	(나)
C	자문화의 정체성이 훼손될 우려가 있다.	(다)

— < 보 기 > —

- ㄱ. '타 문화의 수용이 용이하다는 (가)에 적절하다.  
 ㄴ. '타국의 마약 거래에 아동들을 이용해 착취하는 것을 당연시함을 인류의 인권 차원에서 비판한다는 (나)에 적절하다.  
 ㄷ. '타국의 입장에서 서유럽 사회를 세계 문화와 역사의 중심지로 본다'는 (다)에 적절하다.  
 ㄹ. B, C는 A와 달리 특정 사회의 문화를 기준으로 타 문화를 평가할 수 없다고 본다.

- ① ㄱ, ㄴ      ② ㄱ, ㄷ      ③ ㄴ, ㄹ      ④ ㄱ, ㄴ, ㄹ      ⑤ ㄴ, ㄷ, ㄹ

다음 글에 나타난 갑과 을의 문화 이해의 관점 및 연구 자료에 대한 설명으로 옳은 것을 <보기>에서 있는 대로 고른 것은? [3점]

갑: A국의 부동산의 문화적 의미를 비롯해 이 외의 요소가 어떤 영향을 미치는지 조사하였습니다.

〈갑의 연구 자료〉

문화 요소	자연 조건	교통수단 접근성	지역사회 성향	사회적 평판
상관관계 지수	0.42	0.63	0.35	0.51

\* 상관관계 지수는 1에 가까울수록 상관관계가 높고 0에 가까울수록 상관관계가 낮다.

을: 각국의 부동산들의 특성이 어떻게 달라지는지 조사하였습니다.

〈을의 연구 자료〉

국가	비교	공통점	차이점
A국		부동산은 하나의 투자 수단이며 사회적 지위를 드러낼 수 있는 상징의 하나임.	B국과 달리 정부에서의 부동산 통제가 강함.
B국			A국과 달리 은행에서의 부동산에 대한 영향력이 강함

— < 보 기 > —

- ㄱ. 갑의 관점은 모든 문화는 고유한 가치를 지닌다고 본다.
- ㄴ. 을의 관점은 자문화를 객관적으로 파악해야 한다고 본다.
- ㄷ. 갑의 연구 자료에 따르면 부동산과의 상관관계가 가장 높은 요소는 '교통수단 접근성'이다.
- ㄹ. 갑, 을은 모두 특정 기준을 바탕으로 타 사회의 문화를 파악해야 한다고 본다.

- ① ㄱ, ㄴ    ② ㄱ, ㄷ    ③ ㄴ, ㄷ    ④ ㄱ, ㄴ, ㄷ    ⑤ ㄴ, ㄷ, ㄹ

A~C의 일반적인 특징에 대한 옳은 설명만을 <보기>에서 있는 대로 고른 것은? (단, A~C는 각각 전체 문화, 반문화, 반문화의 성격이 없는 하위문화이다.)

구분	A	B	C
기존 문화에 저항하는 특징을 보이는가?	아니오	아니오	예
특정 집단만이 누리는 문화인가?	아니오	예	예

— < 보 기 > —

- ㄱ. C는 사회 변동에 따라 A가 되기도 한다.  
 ㄴ. B에 속하는 것을 구분하는 기준은 C와 달리 상대적이다.  
 ㄷ. B, C는 A의 요소를 가지고 있다.  
 ㄹ. B, C는 A와 달리 사회에 따라 상대적으로 규정된다.

- ① ㄱ, ㄴ                      ② ㄱ, ㄷ                      ③ ㄴ, ㄷ  
 ④ ㄴ, ㄷ, ㄹ                ⑤ ㄱ, ㄷ, ㄹ

교사의 질문에 대해 옳게 판단한 것은? (단, A~C는 각각 전체 문화, 반문화, 반문화의 성격이 없는 하위문화이다.) [3점]

교사: 지난 시간에 문화의 특징을 구분하는 글을 써오라는 과제를 잘 수행해 오셨군요. 다만 이 글에서는 진위 판별이 불가능한 문장이 한 개 있습니다. 글을 고치기 전 먼저 해당하는 문장을 골라봅시다.

문화는 향유하는 구성원의 범위의 크기에 따라 크게 A, C와 B로 나눌 수 있다. ㉠A, C보다는 B가 더 많은 구성원들이 향유하는 문화이다. ㉡B는 A, C와 달리 해당 문화를 향유하는 구성원들의 공통의 정체성을 형성하는 데 기여하지 못한다. 다만 ㉢A, B, C 모두 규정되는 기준은 사회에 따라 상대적이다. 또한 ㉣A는 기존 문화에 저항하는 특징을 보이지만 ㉤A, C 모두 전체 사회에 문화의 다양성을 제공한다.

- ① ㉠                      ② ㉡                      ③ ㉢                      ④ ㉣                      ⑤ ㉤

(가), (나)에서 공통적으로 부각되는 문화의 속성에 대한 옳은 설명만을 <보기>에서 있는 대로 고른 것은? [3점]

(가) 갑국 사람들은 노동에 대한 근면한 태도로 유명하다. 노동에 대해 근면한 만큼 섬세하게 일처리를 해내는 경향이 있어 갑국에서 생산되는 물건의 품질은 탁월하기로 소문이 나 타국 사람들에게도 인기가 많다. 하지만 최근 세계화의 바람으로 인해 기존의 세대와 달리 노동에 집중하기보다는 삶의 질을 더 중시하는 경향이 짙어졌다. 이는 중요한 가치로 여겨졌던 가업을 잇는 전통이 퇴색되고 자신만의 창업을 새롭게 주도하는 등의 변화에서 더 잘 나타난다.

(나) 문화 부흥에 그다지 관심이 없었던 을국에 병국의 가요와 영화, 드라마 등이 수입되면서 다수의 사람들이 문화의 질적 측면에 관심이 높아졌다. 이는 을국 정부의 방침에서도 잘 드러나는데, 그동안 문화 발전의 저해 요소였던 을국의 악습이나 관행을 정책적으로 청산하고 각 분야의 예술인들과 가수, 배우, 방송국에 정책적 지원을 하는 등이 그 예이다. 이로 인해 을국의 일자리가 늘어나 경제 성장률까지 높아지는 긍정적 효과가 생겼다.

— < 보 기 > —

- ㄱ. 새로운 요소가 추가되거나 기존 요소가 소멸되기도 한다.
- ㄴ. 세대 간 전승을 통해 문화가 복잡하고 다양해진다.
- ㄷ. 상대방의 행동을 예측하고 대응할 수 있게 한다.
- ㄹ. 한 부분의 변동이 다른 부분에 영향을 주어 변동을 일으킨다.

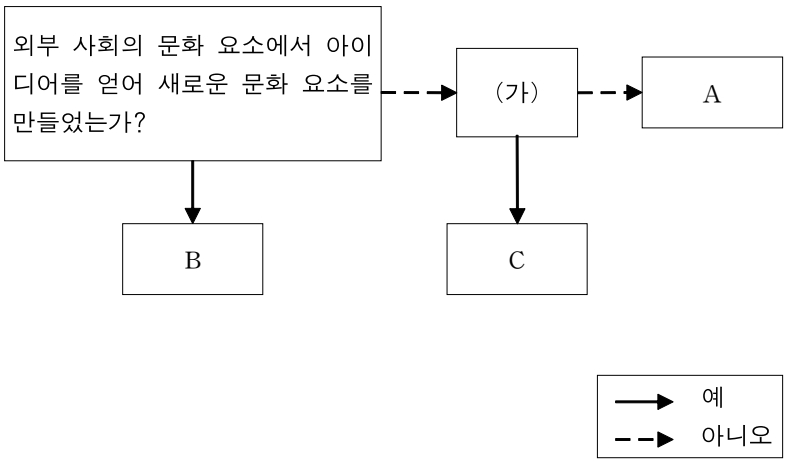
- ① ㄱ, ㄴ                      ② ㄱ, ㄷ                      ③ ㄴ, ㄷ
- ④ ㄴ, ㄷ, ㄹ                ⑤ ㄱ, ㄷ, ㄹ

다음 자료에 대한 분석으로 옳지 않은 것은? (단, <자료 2>의 A~C는 간접 전파, 자극 전파, 직접 전파 중 하나이다.) [3점]

<자료 1> 문화 변동 가상 사례

갑국은 을국을 정복하여 문화 이식 정책을 시행한 후 을국에서 철수하였다. 이후 을국에서는 갑국언어도 널리 쓰이게 되었다. 을국에서는 갑국의 드라마와 영화의 영향을 받아 갑국의 패션이나 생활양식이 유행하기도 하였다. 이는 을국에서 전통 방식과 갑국 방식이 섞여 새롭게 나타난 혼례 양식에서도 드러난다.

<자료 2> 문화 변동의 요인



- ① 을국에서는 강제적 문화 접변과 자발적 문화 접변이 모두 나타났다.
- ② (가)가 '문화 요소의 전달이 매개체에 의해 이루어졌는가?'이면 을국에는 A로 인한 문화 공존이 나타났다.
- ③ A의 사례로 교역을 통해 들여온 이웃 국가의 음식을 들 수 있다면 을국의 생활양식이 바뀐 것은 A에 의한 것이다.
- ④ C의 사례로 이웃 국가에서 방송을 통한 케이팝(K-pop)의 인기를 들 수 있다면 을국의 새롭게 나타난 혼례 양식은 C에 의한 문화 융합의 사례가 될 수 있다.
- ⑤ 을국의 새롭게 나타난 혼례 양식은 갑국과 을국의 문화 요소의 성격을 모두 지닌다.



다음 자료에 대한 분석으로 옳은 것은? (단, <자료 2>의 A~E는 각각 발견, 발명, 간접 전파, 자극 전파, 직접 전파 중 하나이다.) [3점]

<자료 1> 문화 변동 가상 사례

갑국의 소프트웨어 전문 주식회사 을은 병국의 소프트웨어 전문 주식회사 정에서 새롭게 출시된 프로그램 무를 참고하여 새로운 프로그램인 기를 개발하였다. 주식회사 정은 이를 표절로 간주하여 중립국인 경국의 재판소에 주식회사 을을 고소하였다. 주식회사 정은 자회사의 연구소에서 새로 찾아낸 자연물질을 사용하여 무를 만들었고, 이 자연물질의 존재를 알지 못했던 을에서 기를 개발한 것은 명백한 표절이라는 주장을 하였다. 반면 을은 본사에서 해당 자연물질의 존재를 몰랐음은 사실이지만 이후 정이 산하회사 중 한 곳에게 정식으로 대가를 지불하여 자연물질을 수입하였고, 이후 무에서 아이디어만 착안한 후 을에서 공개하지 않았던 신기술에 수입한 자연물질을 더해 기를 개발하였다고 주장하였다. 경국의 재판소는 이를 받아들여 판결을 내렸고 을이 승소하였다.

<자료 2> 문화 변동의 요인

B, D는 A, C, E와 달리 문화 변동의 내재적 요인이다. 문화 요소의 전달이 매개체에 의해 이루어진다면 이는 C이다.

< 보 기 >

- ㄱ. 정이 주장에 따르면 무는 B와 D로 인해 탄생하였다.  
 ㄴ. D의 사례로 종교가 적절하지 않고 을의 주장이 사실일 경우 기는 A, E에 의한 B의 사례가 될 수 있다.  
 ㄷ. 을이 자연물질을 획득한 것은 C의 사례가 될 수 있다.  
 ㄹ. 경국의 재판소는 기가 을의 B와 D에 의해 탄생하였다고 판단했을 것이다.

- ① ㄱ, ㄴ                      ② ㄱ, ㄷ                      ③ ㄴ, ㄷ  
 ④ ㄴ, ㄷ, ㄹ                ⑤ ㄱ, ㄴ, ㄹ

다음 자료에 대한 옳은 분석만을 <보기>에서 있는 대로 고른 것은? [3점]

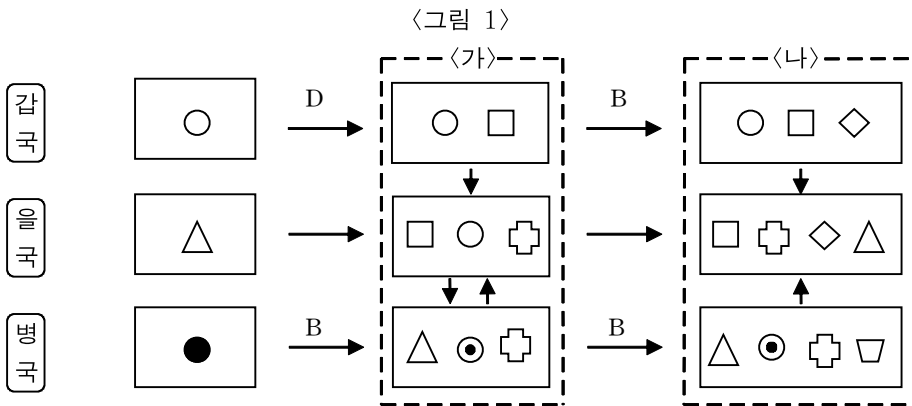
<표 1>은 문화 변동 요인 A~D에서 특성 ㉠~㉣의 유무를, <표 2>는 ㉠~㉣을 순서 없이 나타낸 것이다. A~D는 각각 발명, 발견, 자극 전파, 직접 전파 중 하나이다. <그림 1>은 갑국과 을국의 문화 변동 사례를 분석한 자료이며 갑국과 을국은 상호 교류 이외에 다른 제3의 국가와는 교류를 하지 않았다.

요인 \ 특성	㉠	㉡	㉢	㉣
A	×		×	×
B	○	×	×	○
C	○	○	○	×
D	×	×	×	○

<표 1>

특성(㉠~㉣)
• 타 문화로부터 아이디어를 얻어 새로운 문화 요소가 만들어졌다.
• 문화 변동의 외재적 요인이다.
• 존재하지 않던 문화 요소를 새롭게 만들어낸다.
• 문화 변동의 내재적 요인이다.

<표 2>



\* ○, □, △, ●, ◇, ⊕, ▭, ⊙은 서로 다른 문화 요소를 의미하며 ⊙은 ○와 ●가 결합하여 나타난 제3의 문화 요소임.

< 보 기 >

- ㄱ. (가)에서의 각국 문화요소 중 A에 의해 발생한 것과 C에 의해 발생한 것의 상대적 비는 3:1이다.
- ㄴ. (나)에서의 각국 문화요소 중 A에 의해 발생한 것은 3개이다.
- ㄷ. 갑국에서 D로 인해 나타난 문화 요소의 성격은 A와 C로 인해 병국으로 전달되었다.
- ㄹ. 각국의 변동 상황에는 문화 요소의 추가 및 소멸 과정이 모두 포함되어 있다.

① ㄱ, ㄴ

④ ㄴ, ㄷ, ㄹ

② ㄱ, ㄷ

⑤ ㄱ, ㄷ, ㄹ

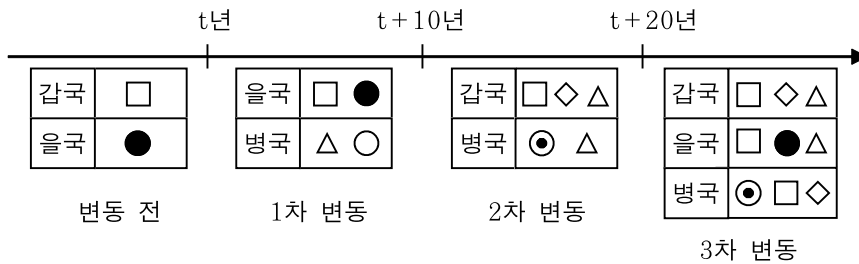
③ ㄴ, ㄷ



다음 자료에 대한 옳은 분석만을 <보기>에서 있는 대로 고른 것은? (단, A~C는 각각 발명, 자극 전파, 직접 전파 중 하나이다.) [3점]

‘문화 변동의 외재적 요인인가?’라는 질문으로 A, C를 구분할 수 없다. ‘타 문화로부터 아이디어를 얻어 새로운 문화 요소가 만들어졌는가?’라는 질문으로 B, C와 A를 구분할 수 있다. <표 1>은 갑국, 을국, 병국의 문화 변동 사례를 분석한 자료이며 갑국, 을국, 병국은 상호 교류 이외에 다른 제3의 국가와는 교류를 하지 않았다. ‘변동 전’은 t년이 되기 전의 각국의 문화 요소를 나타낸 것이며 ‘1차 변동’, ‘2차 변동’, ‘3차 변동’은 각각 t년 이후 t+10년 전까지, t+10년 이후 t+20년 전까지, t+20년 이후의 문화 변동 상황을 나타낸 것이다.

<표 1>



\* ○, □, ●, △, ◇, ◎은 서로 다른 문화 요소를 의미하며 ◎는 ○와 ●가 결합하여 나타난 제3의 문화 요소임.  
 \*\* 각 문화 요소는 모두 A~C중 하나에 의해 발생함.

< 보 기 >

- ㄱ. 을국에서는 t+10년 전에 C로 인한 문화 변동이 나타났다.
- ㄴ. 병국에서는 t+20년 전에 A로 인한 문화 융합이 나타났다.
- ㄷ. 갑국에서는 t+20년 전에 B로 인한 문화 변동이 나타나지 않았다.
- ㄹ. 변동 상황에는 문화 요소의 추가 및 소멸 과정이 포함되어 있다.

- ① ㄱ, ㄴ                      ② ㄱ, ㄷ                      ③ ㄴ, ㄷ
- ④ ㄴ, ㄷ, ㄹ                ⑤ ㄱ, ㄴ, ㄹ




○ MEMO ○


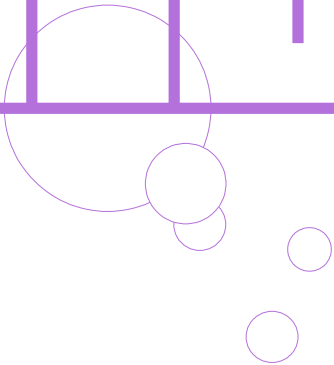
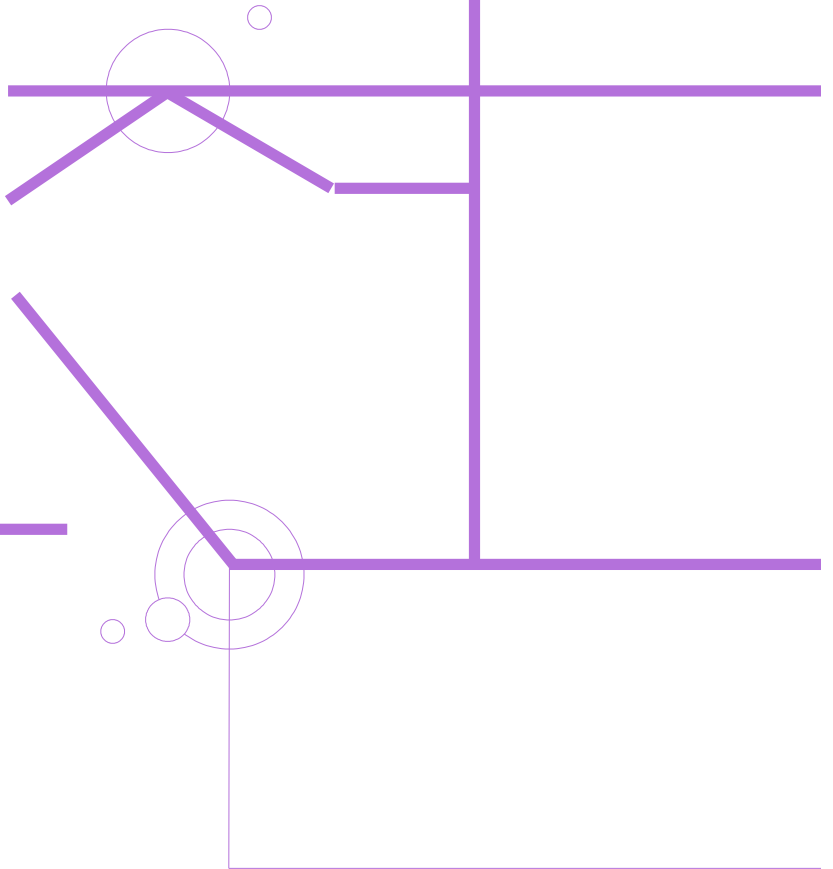
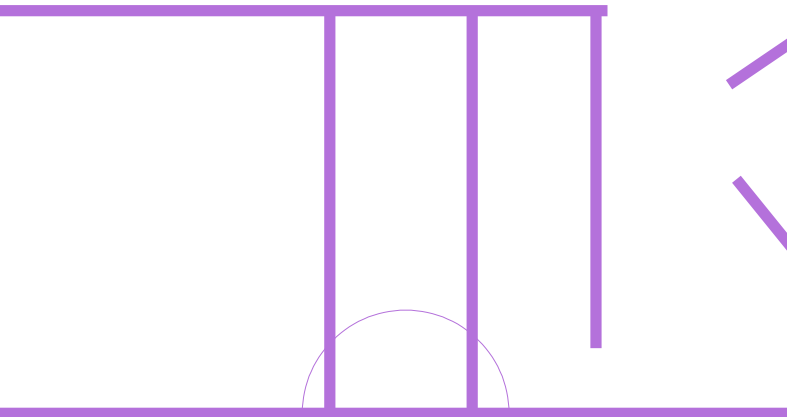








4



사회 계층화 현상을 설명하는 개념 (가), (나)에 대한 진술로 적절한 것은?

(가): 경제, 정치, 사회 요인들을 비롯해 기술, 신용, 자격, 종교적 신념, 정치적 이념, 심지어는 주거지, 복장, 말투, 소비 양식, 생활 방식조차도 사회 불평등의 중요한 요인이 될 수 있다.

(나): 역사상의 주요 시대는 기본적으로 각 시대를 지배하는 경제 조직의 체계 혹은 생산 양식에 의해 구분될 수 있다. 이러한 지배적인 양식에 의해 계급이 결정되며 각 계급은 생산 조직에서 같은 기능을 수행하는 사람들의 집합체이다.

- ① (가), (나) 모두 계층화 현상이 필수 불가결하다고 전제한다.
- ② (가)는 사회 불평등 현상을 사회·정치적 요인으로만 설명한다.
- ③ (가)는 복합적 요인을 고려하여 사회 계층을 상층, 중층, 하층으로 구분한다.
- ④ (나)는 (가)와 달리 서로 다른 계층에 속한 구성원 간에 적대감이 약하다고 본다.
- ⑤ (나)는 (가)와 달리 이분화된 불평등 구조는 똑같은 원칙에 의해 결정되는 것은 아니라고 본다.

다음에서 사회 불평등 현상을 설명하는 두 개념을 옳게 이해한 학생을 고른 것은? [3점]

A, B 모두 공장이나 토지의 '소유'와 '소유의 결여'의 차이가 계급의 위치를 결정하는 요인을 인정하나 전자는 오직 그것만이 계급을, 후자는 여러 개의 차원 중 하나의 차원의 계급만을 결정하는 요인이라 전제한다.

〈사회 불평등 현상을 설명하는 두 개념에 대한 응답〉

개념에 따른 진술	학생	갑	을	병	정	무
A는 수직 이동이 극히 제한적으로 나타난다고 본다.			○	○	○	○
B는 불평등 구조 내에서 서열을 구분하는 기준이 다양하다고 본다.		○	○	○	×	○
B는 이분법적인 개념으로 다차원적인 서열을 강조한다.		○	×	×	○	×
B는 불평등 요인의 복합성으로 인한 지위 불일치 현상을 설명한다.		○	○	○	×	○
A는 분배가 똑같은 원칙에 의해 결정되는 것은 아니라고 본다.		○	○	○	×	×
A는 B와 달리 생산에 필요한 물질을 소유한 집단이 그들의 이익을 정당화하는 관념을 보편적 가치인 것처럼 주입한다고 본다.		×	○	○	×	○
A는 B와 달리 사회 불평등 현상에 경제적 요인이 작용한다고 본다.		×	×	×	○	×

(○: 동의한다, ×: 동의하지 않는다)

- ① 갑                      ② 정                      ③ 병                      ④ 정                      ⑤ 무

표는 사회 불평등 현상을 설명하는 두 개념의 일반적인 특징을 알아보기 위한 것이다. 이에 대한 옳은 설명만을 <보기>에서 있는 대로 고른 것은?

구분	A	B
중간 계급의 존재를 부정하는가?	아니오	예
(가)	a	b
(나)	c	d

— < 보 기 > —

- ㉠. (가)가 '사회 불평등에서 위계를 결정하는 기준이 다원적인가?'이면 b는 '예', a는 '아니오'이다.
- ㉡. (가)가 '사회 불평등 현상을 연속선 상에 서열화된 것으로 보는가?'이면 a는 '예', b는 '아니오'이다.
- ㉢. (가)가 '사회 불평등은 경제적 불평등에 종속되는 것이라고 보는가?'이고 (나)는 '지위 불일치 현상을 설명하기에 부적절한가?'이면 a, c는 '예', b, d는 '아니오'이다.
- ㉣. (가)가 '사회 불평등을 보편적인 현상이라고 보는가?'이고 (나)는 '내부 구성원 간에 나타나는 강한 귀속 의식을 강조하는가?'이면 a, d는 '예', b, c는 '아니오'이다.

- ① ㉠, ㉡                      ② ㉠, ㉢                      ③ ㉡, ㉢
- ④ ㉡, ㉢, ㉣                ⑤ ㉠, ㉢, ㉣

사회 불평등 현상을 설명하기 위한 이론 A, B의 설명을 각각 표로 정리하였다. ㉠~㉤를 적절하게 나타낸 것은? [3점]

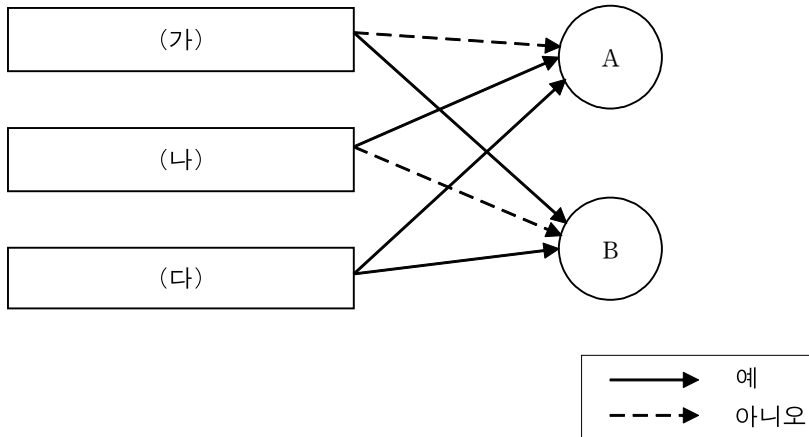
A, B의 분류에 의하면 B의 분류에서의 상층에 속한 모든 대상자가 A의 분류에서의 상층에 속하는 것은 아니다. A의 분류에 따르면 재산의 차이는 '계급'을, 권력의 차이는 '파당'을, 위신의 차이는 '지위 집단'을 만들어내는데 이러한 분류의 상층에는 각각 을, 정, 무가 각 상층의 집합이 서로 같지 않게 들어갈 수 있다. 을은 지위 집단에 따른 분류에서는 중층에 속하는 대신 이를 제외한 A의 모든 분류에서 상층에 속하는 자본가이다. 갑은 을이 상층인 모든 집단에서 중층이며 노동자이다. 무는 을이 상층인 모든 집단에서 하층이며 노동자이다. 정은 오직 파당에 따른 분류에서만 상층이며 A의 모든 분류에서는 병보다 계층이 한 단계 높은 노동자이다. 지위 집단의 분류에서는 오직 무만 상층이며 해당 분류에서 갑은 을보다 계층이 낮은 노동자이다.

\* B는 상층, 중층, 하층으로만, A는 자본가와 노동자로만 계급을 구분함.

A				B	
구분	계급	파당	지위집단	구분	생산 수단 소유 여부
				자본가	무
상층	㉠	㉡	㉢	노동자	갑, 을, 병, 정
중층	㉣	㉤	㉥		
하층	㉦	㉧	㉨		

- ㉠ / ㉡ / ㉢ / ㉣ / ㉤ / ㉥ / ㉦ / ㉧ / ㉨
- ① 을/ 을, 정/ 무/ 갑, 정/ 갑, 병/ 을, 정/ 무, 병/ 무/ 갑, 병  
 ② 을/ 을, 무/ 정/ 갑, 정/ 갑, 병/ 을, 정/ 무, 병/ 무/ 갑, 병  
 ③ 을/ 을, 정/ 무/ 갑, 정/ 갑, 병/ 을, 갑/ 무, 병/ 무/ 정, 병  
 ④ 을/ 을, 정/ 무/ 갑, 정/ 갑, 을/ 병, 정/ 무, 병/ 무/ 갑, 병  
 ⑤ 을/ 을, 정/ 갑/ 무, 정/ 갑, 병/ 을, 정/ 무, 병/ 무/ 갑, 병

A, B는 사회 계층화 현상을 보는 두 관점이다. 이에 대한 옳은 설명을 <보기>에서 있는 대로 고른 것은?



- < 보 기 > —
- ㄱ. (가)가 '사회 계층화 현상은 불가피한가?'이면 (나)는 '계층화는 개인과 사회의 기능이 최대한으로 발휘되는 것을 저해하는가?'가 적절하다.
  - ㄴ. (나)가 '계층화는 사회 구성원 모두가공유하는 가치를 반영하는가?'이면 (가)는 '사회에 대한 기여도에 따라 직업을 서열화하는 것은 불합리한가?'가 적절하다.
  - ㄷ. (가)가 '균등 분배는 인재의 적재적소 배치에 어려움을 야기하는가?'이면 (나)는 '사회 불평등의 원인이 사회 구조보다는 개인에게 있는가?'가 적절하다.
  - ㄹ. '사회 불평등 현상은 보편적이지 않은가?'는 (다)에 적절하다.

- ① ㄱ, ㄴ      ② ㄱ, ㄹ      ③ ㄴ, ㄷ      ④ ㄱ, ㄷ, ㄹ      ⑤ ㄴ, ㄷ, ㄹ

표는 사회 계층화 현상을 보는 두 관점을 도식화한 것이다. (가), (나)에 들어갈 적절한 내용을 <보기>에서 고른 것은?

구분	관점	
	A	B
직업 간에 발생하는 보수의 차이는 해당 직업이 사회에 기여하는 정도에 비례한다.	아니오	예
(가)	예	아니오
(나)	아니오	예

< 보 기 >

- ㄱ. 차등 분배는 사회적 희소가치 배분에 대한 정당성을 부여하는 장치이다.
- ㄴ. 균등 분배는 사회 구성원의 성취동기를 저해한다.
- ㄷ. 사회 불평등은 사회 분화에 따른 합리적 결과이다.
- ㄹ. 사회 불평등 현상의 시발점은 지배와 피지배의 관계이다.

- |           |      |        |         |
|-----------|------|--------|---------|
| (가)       | (나)  | (가)    | (나)     |
| ① ㄱ, ㄴ    | ㄷ, ㄹ | ② ㄱ, ㄷ | ㄴ, ㄹ    |
| ③ ㄴ, ㄷ    | ㄱ, ㄹ | ④ ㄴ    | ㄱ, ㄷ, ㄹ |
| ⑤ ㄱ, ㄴ, ㄷ | ㄹ    |        |         |

다음 자료에 나타난 갑국의 세대 간 계층 이동에 대한 옳은 분석을 <보기>에서 고른 것은?  
[3점]

〈세대별 계층 간 상대적 비율〉

구분	부모 세대	자녀 세대
상층+중층 계 계층	$\frac{1}{2}$	A
중층 상층+하층	$\frac{6}{19}$	1

〈부모 세대 계층 대비 부모와 자녀의 계층 불일치의 상대적 비율〉

상층	중층	하층
$\frac{9}{13}$	0	B

- \* 모든 부모의 자녀는 1명이고, 갑국의 계층은 상층, 중층, 하층으로만 구분함.
- \*\* 부모 세대 상층에서 자녀 세대 하층으로의 이동은 없음.
- \*\*\* 자녀 세대 상층 인구나 상층 부모를 둔 상층 자녀 인구의 비는 2:1임.

— < 보 기 > —

- ㄱ. 세대 간 상승 이동한 자녀가 세대 간 하강 이동한 자녀보다 많다.
- ㄴ. 자녀 세대 계층 대비 부모와 자녀의 계층 일치 비율은 중층이 상층보다 작다.
- ㄷ. 부모 세대 하층에서 자녀 세대 상층으로 이동한 인구나 자녀 세대 중층으로 이동한 인구는 같다.
- ㄹ. 세대 간 계층 유지 비율과 자녀 세대 하층 비율의 상대적 비는 A와 B의 상대적 비와 같다.

- ① ㄱ, ㄴ                      ② ㄱ, ㄷ                      ③ ㄴ, ㄷ
- ④ ㄴ, ㄹ                      ⑤ ㄴ, ㄷ, ㄹ

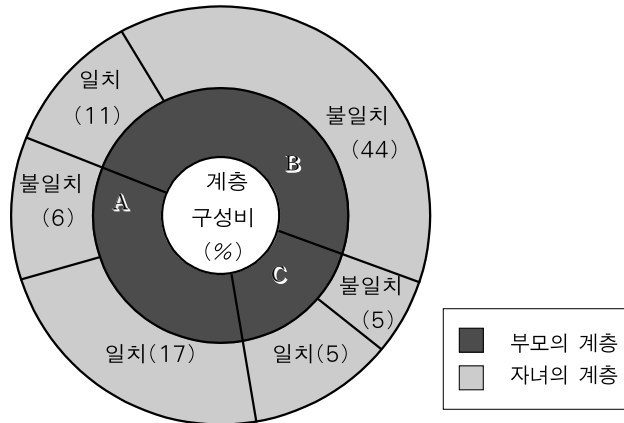


다음 자료에 대한 옳은 분석을 <보기>에서 고른 것은? (단, 모든 부모의 자녀는 1명이고 계층은 상층, 중층, 하층으로만 구분하며, A~C는 각각 상층, 중층, 하층 중 하나이다.) [3점]

<자료 1> 갑국의 계층 구성 현황

부모 세대의 계층 구조는 다이아몬드형이며, 부모 세대 상층 인구와 자녀 세대 중층 인구의 상대적 비는 1:1이다.

<자료 2> 갑국의 부모 계층별 세대 간 계층 이동 현황



- \* 단, '일치'는 부모와 계층이 일치하는 자녀의 비율이고 '불일치'는 부모와 계층이 일치하지 않는 자녀의 비율이다.
- \*\* 부모 세대 계층 대비 계층 대물림 비율은 상층이 하층보다 높다.
- \*\*\* 중층 부모를 둔 상층 자녀 인구와 하층 부모를 두고 세대 간 이동을 경험한 자녀 인구의 비는 1:2임.

< 보 기 >

- ㄱ. 세대 간 상승 이동한 자녀가 세대 간 하강 이동한 자녀보다 많다.
- ㄴ. 부모 세대 계층 대비 계층 대물림 비율은 중층이 가장 낮다.
- ㄷ. 자녀 세대 계층 대비 계층 불일치 중층이 가장 높다.
- ㄹ. 부모 세대 상층에서 자녀 세대 하층으로의 세대 간 이동과 부모 세대 하층에서 자녀 세대 상층으로의 세대 간 이동은 발생하지 않았다.

- ① ㄱ, ㄷ                      ② ㄱ, ㄹ                      ③ ㄴ, ㄷ
- ④ ㄴ, ㄹ                      ⑤ ㄴ, ㄷ, ㄹ

다음 자료에 대한 분석으로 옳은 것은? (단, 모든 부모의 자녀는 1명이다.) [3점]

〈자료 1〉 갑국의 부모 세대 계층 구성 현황

부모 세대의 계층 구조는 피라미드형이며, A와 B를 합한 것과 C의 비는 1:1이다. 자녀 세대의 계층 구조는 다이아몬드형이다.

\* 갑국의 계층은 상층, 중층, 하층으로만 구분하며, A~C는 각각 상층, 중층, 하층 중 하나임.

〈자료 2〉 갑국의 세대 간 계층 이동 현황

구분	계층		
	A	B	C
자녀 세대 계층 대비 부모 세대와 자녀 세대의 계층 불일치 비율	$\frac{1}{2}$	$\frac{1}{5}$	$\frac{1}{5}$
부모 세대 계층 대비 부모 세대와 자녀 세대의 계층 일치 비율	$\frac{5}{6}$	1	$\frac{2}{5}$

- ① 중층 대비 상층의 비율은 자녀 세대가 부모 세대보다 높다.
- ② 세대 간 계층 이동 비율이 세대 간 계층 일치 비율보다 크다.
- ③ 세대 간 상승 이동한 자녀가 세대 간 하강 이동한 자녀의 5배이다.
- ④ 세대 간 계층 이동을 한 사람의 수는 부모 세대 상층 인구의 2배이다.
- ⑤ 자녀 세대 중층에서 세대 간 이동을 경험한 사람의 수와 세대 간 이동을 경험하지 않은 사람의 수는 같다.

62

---

문제는 다음 페이지에 있습니다.

다음 자료에 대한 분석으로 옳은 것은? (단, 모든 부모의 자녀는 2명이며, 부모 세대 하층에서 첫째 자녀 세대 상층으로의 세대 간 이동과 부모 세대 상층에서 둘째 자녀 세대 하층으로의 세대 간 이동은 없다.) [3점]

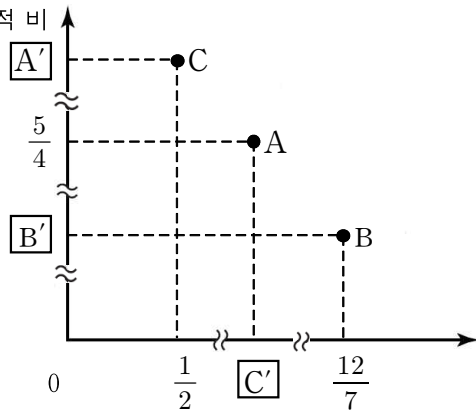
〈자료 1〉 갑국의 계층 구성 현황

첫째 자녀 세대의 계층 구성비에서 B는 A와 C를 합한 것의 1.5배이며, A 비율은 B 비율보다는 40%p작다. 부모 세대의 계층 구성비에서 A 비율과 C 비율을 합한 것과 B 비율의 상대적 비는 1:1이다. 첫째 자녀 세대와 부모 세대의 계층 구조는 모두 다이아몬드형이며, C는 A보다 낮은 계층이다.

- \* 갑국의 계층은 상층, 중층, 하층으로만 구분하며, A~C는 각각 상층, 중층, 하층 중 하나임.
- \*\* %p: 백분율 간의 차이를 나타내는 단위임. 예를 들어, 20%는 10%보다 10%p 크다고 표현함.

〈자료 2〉 갑국의 계층별 구성 현황

부모 세대 해당 계층  
대비 둘째 자녀 세대  
해당 계층의 상대적 비



둘째 자녀 세대 해당 계층  
대비 첫째 자녀 세대 해당  
계층의 상대적 비

〈자료 3〉 갑국의 계층 이동 현황

구분	계층		
	A	B	C
첫째 자녀 세대 계층 대비 부모와 첫째 자녀의 계층 불일치 비율	0.25	0.5	0.75
둘째 자녀 세대에서 부모와 계층이 불일치하는 사람 대비 일치하는 사람의 비	1.5	2.5	1

- ① A'와 C'의 상대적 비는 B'와 C'의 상대적 비와 같다.
- ② 둘째 자녀 중 세대 간 수직 이동 비율은 30% 이하이다.
- ③ 중층으로의 세대 간 이동에서 상승 이동은 하강 이동의 5배이다.
- ④ 부모의 계층이 자녀에게 대물림된 비율은 둘째 자녀보다 첫째 자녀에서 더 높다.
- ⑤ 상층 부모의 첫째 자녀와 하층 부모의 둘째 자녀 중에서 세대 간 이동을 한 사람의 수는 같다.

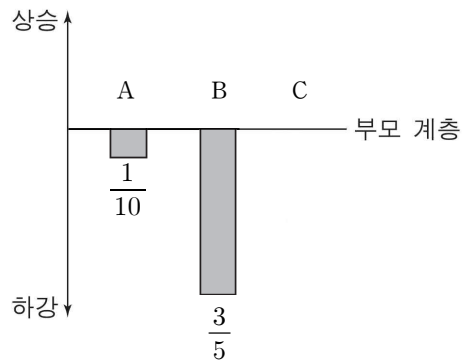


다음 자료에 나타난 갑국의 세대 간 계층 이동에 대한 옳은 분석을 <보기>에서 고른 것은?  
(단, 모든 부모의 자녀는 1명이고 계층은 상층, 중층, 하층으로만 구분하며, A~C는 각각 상층, 중층, 하층 중 하나이다.) [3점]

〈세대 간 계층 이동 현황〉

자녀 세대 계층 대비 부모와 자녀의 계층 일치 비율은 A가 75%이고, 대물림 인구 대비 자녀 세대 계층의 비율은 C가 120%이다. 세대 간 계층 이동 비율 대비 일치 비율의 상대적 비는 4이다.

〈부모 계층 대비 자녀 계층의 세대 간 이동 비율〉




\* 다른 계층에서 하층으로 세대 간 이동한 경우는 모두 갑국의 산업 구조 변화로 인한 이동이며, 그 외의 이동은 모두 개인적 요인에 의한 것임.

— < 보 기 > —

- ㄱ. 개인적 이동이 구조적 이동보다 많다.  
 ㄴ. 부모 세대 계층 대비 계층 대물림 비율은 중층이 하층보다 높다.  
 ㄷ. 자녀 세대 계층 대비 계층 대물림 비율은 하층이 중층보다 높고 상층이 가장 낮다.  
 ㄹ. 세대 간 계층 이동을 한 사람의 수는 상층 부모를 둔 자녀가 중층 부모를 둔 자녀의 3배이다.

- ① ㄱ, ㄷ                      ② ㄱ, ㄹ                      ③ ㄴ, ㄷ  
 ④ ㄱ, ㄷ, ㄹ                ⑤ ㄴ, ㄷ, ㄹ

○ MEMO ○







고생 많으셨습니다^^ chapter 2에서 봐요~